

高雄市嘉興國民中學 110 學年度第一學期二年級地理科第三次定期評量試題卷

範圍：第三冊 L5-L6

班級：_____ 座號：_____ 姓名：_____

※1. 年級代號〔二〕 科目、組別代號不用畫；未填妥個人資料，扣 5 分 2. 請將答案清楚畫記在答案卡上。

一、單選題(每題4分)

1. () 世界上僅存的兩種卵生哺乳類特有動物：針鼹與鴨嘴獸，只生存於澳洲。請問：澳洲擁有許多特有生物的原因為何？

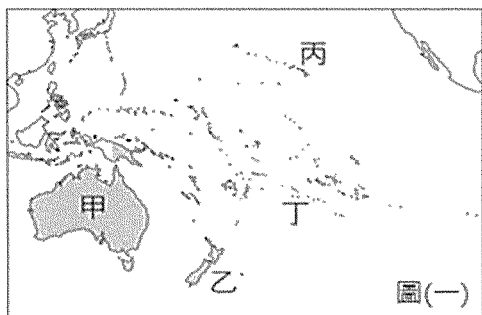
- (A) 緯度分布範圍廣
- (B) 氣候分布很複雜
- (C) 地形高低起伏大
- (D) 距其他大陸遙遠。

2. () 由於全球人口快速增加，加上追求經濟高度發展、人類對自然資源消耗加劇，導致全球暖化、區域氣候異常等氣候變遷現象。請問：以下有哪些是全球暖化所造成的問題？

- (甲) 澳洲大堡礁附近海水溫度上升，珊瑚出現白化現象
- (乙) 熱帶沿海地區地層下陷，影響居民生活
- (丙) 颱風頻率增加並逐漸大型化
- (丁) 板塊運動更加強烈，地震傷亡人數快速攀升
- (戊) 海平面上升，大洋洲的諸島國恐有淹沒危機
- (己) 北極海的海冰逐漸縮小且變薄，影響北極熊的生存。

- (A) 甲乙丙丁
- (B) 甲乙丁戊
- (C) 甲丙戊己
- (D) 丙丁戊己。

3. () 圖中為大洋洲部分國家的位置圖。地理課時同學們針對圖中甲乙丙丁四國的特色展開討論，請問哪位同學的說法最正確？



- (A) 賈美麗：四個國家皆為南島語族的居住地
- (B) 郝認真：與台灣時差差距最小但季節相反的是甲國
- (C) 曾聰明：牛隻需要大量的草類供養，故牧牛區通常在山地地形的迎風坡雨量較多處，所以甲、乙兩國的牧牛區皆在東岸
- (D) 艾學習：珊瑚主要棲息在陽光充足及水質清澈的熱帶淺海區域，所以只有丙、丁兩國可見到珊瑚的繽紛美景。

4. () 南極大陸是全球最後一塊未被破壞的大陸。有關此一地區的敘述，下列何者不正確？

- (A) 以高原為地形主體
- (B) 是七大洲中最寒冷的地區，冰雪長期覆蓋在地表
- (C) 本區主權不屬於任何國家，也沒有居民長期

居住

(D) 每年的 6、7 月為其夏季，吸引許多科學家前往進行學術研究。

5. () 澳洲基於殖民背景，原本與歐洲國家往來較密切，近年來卻走向「脫歐入亞」，加強與亞洲各國的經貿往來。上述情形最主要的原因為何？(甲) 產業轉型 (乙) 運輸成本考量 (丙) 亞洲經濟勢力崛起 (丁) 移民政策改變

- (A) 甲乙
- (B) 乙丁
- (C) 乙丙
- (D) 丙丁。


6. () 澳洲礦產出口獲利豐厚，政府對其課徵超額稅收，並將之用於醫療、養老金、基礎建設等支出，使全體人民都能從採礦業的繁榮發展中獲得回報。請問：澳洲礦產資源豐富，與下列哪一項自然條件最有關係？

- (A) 地質古老
- (B) 高原地形
- (C) 位置孤立
- (D) 水源豐富。

7. () 紐西蘭是世界重要的羊毛出口國，另外像是不易腐壞的乳酪、奶粉、奶油等，也是主要輸出產品。請問：這是受下列哪一項因素影響所致？

- (A) 氣候全年溫和溼潤
- (B) 距離歐、亞主要市場較遠
- (C) 海岸線綿長，四面環海
- (D) 國內市場狹小。

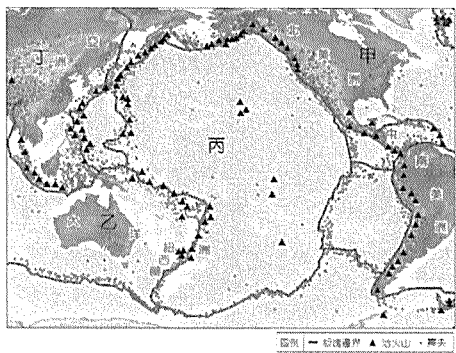
8. () 附圖是某個國家在耶誕節時所販售的吊飾，穿著清涼的耶誕老人手上拿著冰淇淋，前方還有一隻該國的特有生物「鸚鵡」。請問：此國(或地區)最可能為下列何者？



- (A) 紐西蘭
- (B) 夏威夷
- (C) 澳洲
- (D) 帛琉。

~請翻背面繼續作答~

9. () 臺灣與紐西蘭皆屬地震好發的地區，西元1999年臺灣的921大地震以及2011年紐西蘭基督城的地震，都造成許多人員傷亡與房屋坍塌。上述兩地的地震頻繁，皆與圖中哪一個板塊與其他板塊的相互擠壓有關？



震，都造成許多人員傷亡與房屋坍塌。上述兩地的地震頻繁，皆與圖中哪一個板塊與其他板塊的相互擠壓有關？

(A)甲 (B)乙 (C)丙 (D)丁。

10. () 告別 2021 年，世界許多大城為了防疫取消了新年倒數的群聚活動，下圖為今年仍維持大規模燃放跨年煙火的城市分布圖，請問下列哪一個是世界上最先用燦爛煙火秀迎接新年到來的國家-城市？



(A)法國-巴黎 (B)澳洲-雪梨
(C)台灣-台北 (D)紐西蘭-奧克蘭。

11. () 大洋洲的海陸位置特殊，使其成為各洲航運及空運往來的中途站，也是戰時重要的軍事基地。請問：大洋洲島群主要位於哪兩大洲的中繼位置？

(A)亞洲、歐洲 (B)亞洲、非洲
(C)歐洲、非洲 (D)美洲、亞洲。


12. () 關於北極地區與其航線，何者敘述有誤？

(A)歐、亞、北美的交通捷徑
(B)戰略地位重要
(C)蘊藏豐富的金屬礦產資源
(D)全球暖化已經影響此區生態環境。

13. () 繞著地球跑的臺商，足跡橫跨各大洲，其中大洋洲的西薩摩亞由於免稅的因素，吸收到許多轉投資的境外公司。請問：若是要在大洋洲投資發展，哪一項產業是當地最不可能開發的產業類型？

(A)石化工廠 (B)觀光度假村
(C)海鮮餐飲店 (D)捕撈漁業。

14. () 阿諺在某環境保護網站中發現附圖中的口號，依據內容判斷，該網站的訴求主要是反映下列哪一種行動的落實？



(A)減少依賴進口能源
(B)維護本土生物多樣性
(C)減碳減緩全球暖化
(D)追求區域糧食的自給自足。

15. () 每到夏天登革熱疫情常成為全民關心的焦點，登革熱原本只發生於熱帶地區，現今病媒斑蚊的分布範圍已擴大到溫帶地區。請問：造成上述現象的原因最可能是下列何者？

(A)病毒抗藥性增強 (B)全球氣候變遷
(C)熱帶人口減少 (D)溫帶環境衛生變差。

16. () 蔣老師告訴大家：「當你從太平洋西側的密克羅尼西亞出發，前往東側的玻里尼西亞時，會經過一條國際換日線，因此必須將手錶上的日期減一天。」請問：蔣老師所說的國際換日線大致與下列哪一條經緯線相符？


(A)經度 0 度 (B)緯度 0 度
(C)經度 180 度 (D)北緯 90 度。

17. () 太平洋復活節島上的原住民拉帕努伊人，使用的語言和哪一個民族最相近，屬於相同語系？


(A)西亞的猶太人 (B)亞洲的蒙古人
(C)臺灣的原住民族 (D)美洲的原住民族。

二、題組題(每題4分)

※澳大利亞與紐西蘭都屬於大洋洲的國家，兩國自然環境上差異很大，但卻有類似的歷史或經濟發展特色。以下為兩國相關問題，請依題意回答 18-20 題：



↑ 澳大利亞



↑ 紐西蘭

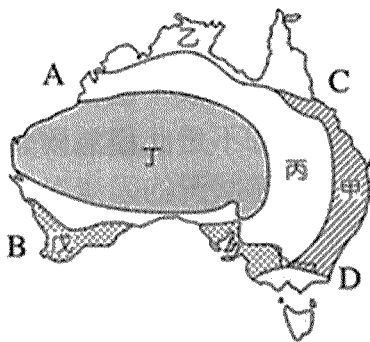
18. () 觀察兩國國旗可發現，都是藍底搭配左上角米字旗的設計，僅旗面上星星的顏色和角度不同；紐西蘭總理曾控訴澳洲抄襲他們的國旗設計，應該更換。由旗面資訊判斷，澳、紐兩國的國旗如此相似的原因為何？

(A)皆地處西風帶
(B)皆位於東半球
(C)皆曾被英國殖民
(D)皆加入亞太經濟合作會議。

~請接下一頁~

19. () 「澳洲是褐色的大陸，紐西蘭是綠色的島嶼。」這句話中不同的顏色，顯示出兩國在地理景觀上的差異，請問造成此差異主要的原因為何？
 (A) 野生動物的數量
 (B) 地形起伏的高低
 (C) 原住民文化的差別
 (D) 降水量的多寡。
20. () 紐、澳兩國人口密度都很低，因此產業發展方向也很類似。下列有關兩國經濟發展特色，哪一個選項是正確的？
 (A) 兩國都以粗放型態發展畜牧業
 (B) 兩國都利用礦產資源發展重工業
 (C) 兩國都是世界主要小麥生產國
 (D) 兩國都以生產奇異果聞名全世界。

※下圖為澳洲氣候和周圍海域示意圖，請依據敘述回答下列 21-23 題。



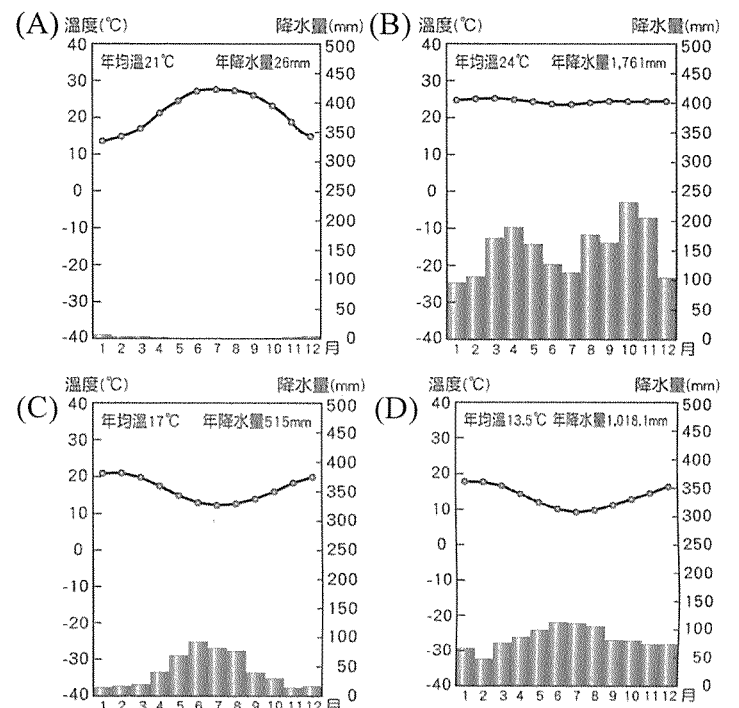
21. () 大堡礁是世界最大、最長的珊瑚礁群，這裡大大小小 2900 個珊瑚礁島，自然景觀非常特殊。漢密爾頓島(Hamilton Island)是這片海域 74 個島嶼群中的一個大島，被譽為「大堡礁之心♥」。2009 年開始，澳洲昆士蘭旅遊局發布一份「世界上最好的工作」——招募大堡礁護島員！這項工作一周工作 12 小時，工作內容就是餵魚、游泳、潛水、划船等，每周寫部落格、上傳影片、接受媒體採訪，向全球宣傳大堡礁等；工資為半年 15 萬澳元（約 400 萬台幣），福利是享有 3 個臥室和獨立游泳池的住宅，工作者可以攜帶自己的家人或朋友到島上一同生活。一推出立刻引起了一場很大的轟動，當年短短幾個月，全球近200個國家3萬多人報名。請問上述工作的島嶼位於圖中何處？
 (A) A (B) B (C) C (D) D。
22. () 澳洲最著名的世界遺產「烏魯汝」(Uluru)為位於澳洲近乎位置中央處的大型單體岩石。由於形成烏魯汝的砂岩含有較多鐵粉，氧化之後的鐵粉呈現紅色，使得烏魯汝呈現紅色外觀。自 2019 年 10 月起，當地政府全面封閉其攀登步道。這項決議是尊重烏魯汝的傳統持有者：中澳的原住民阿南古人(Anangu) 的長期意見。對他們而言，烏魯汝是創世神話的起點，也是祖靈記憶的歷史核心，先祖造世之後的遺

留能量成為現實世界與夢境世界（連結生與死之間的中間地帶）的匯集所在。因此大批湧入的觀光攀登，被族人視為極不尊重的文化褻瀆。請問有關上述地點位於圖中何處？
 (A) 甲 (B) 丙 (C) 丁 (D) 戊。

23. () 承上題，「烏魯汝」所在地區屬於下列何種氣候類型？
 (A) 草原氣候 (B) 熱帶沙漠氣候
 (C) 熱帶莽原氣候 (D) 夏雨型暖溫帶氣候。

※花媽一家人準備前往紐西蘭旅遊，請問24~25題：

24. () 柚子在蒐集紐西蘭的相關資料時，會看到下列哪一張氣候圖？



25. () 一家人各自許願此次旅行必玩的行程，下列何人無法實踐夢想呢？
 (A) 花爸：我要泡溫泉！
 (B) 花媽：我要看毛利人歌舞秀！
 (C) 橘子：我要抱無尾熊！
 (D) 柚子：我要參加冰河健行！

~作答結束~

高雄市嘉興國民中學 110 學年度第一學期二年級地理科第三次定期評量試題卷

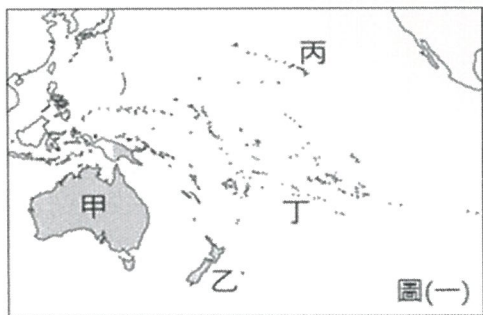
範圍：第三冊 L5-L6

班級：_____ 座號：_____ 姓名：_____

※1. 年級代號〔二〕 科目、組別代號不用畫；未填妥個人資料，扣 5 分 2. 請將答案清楚畫記在答案卡上。


一、單選題(每題4分)

1. (D) 世界上僅存的兩種卵生哺乳類特有動物：針鼹與鴨嘴獸，只生存於澳洲。請問：澳洲擁有許多特有生物的原因為何？
(A) 緯度分布範圍廣
(B) 氣候分布很複雜
(C) 地形高低起伏大
(D) 距其他大陸遙遠。
2. (C) 由於全球人口快速增加，加上追求經濟高度發展、人類對自然資源消耗加劇，導致全球暖化、區域氣候異常等氣候變遷現象。請問：以下有哪些是全球暖化所造成的問題？
(甲) 澳洲大堡礁附近海水溫度上升，珊瑚出現白化現象 (乙) 熱帶沿海地區地層下陷，影響居民生活 (丙) 颱風頻率增加並逐漸大型化 (丁) 板塊運動更加強烈，地震傷亡人數快速攀升 (戊) 海平面上升，大洋洲的諸島國恐有淹沒危機 (己) 北極海的海冰逐漸縮小且變薄，影響北極熊的生存。
(A) 甲乙丙丁 (B) 甲乙丁戊
(C) 甲丙戊己 (D) 丙丁戊己。
3. (B) 圖中為大洋洲部分國家的位置圖。地理課時同學們針對圖中甲乙丙丁四國的特色展開討論，請問哪位同學的說法最正確？



- (A) 賈美麗：四個國家皆為南島語族的居住地
(B) 郝認真：與台灣時差差距最小但季節相反的是甲國
(C) 曾聰明：牛隻需要大量的草類供養，故牧牛區通常在山地地形的迎風坡雨量較多處，所以甲、乙兩國的牧牛區皆在東岸
(D) 艾學習：珊瑚主要棲息在陽光充足及水質清澈的熱帶淺海區域，所以只有丙、丁兩國可見到珊瑚的繽紛美景。
4. (D) 南極大陸是全球最後一塊未被破壞的大陸。有關此一地區的敘述，下列何者不正確？
(A) 以高原為地形主體
(B) 是七大洲中最寒冷的地區，冰雪長期覆蓋在地表
(C) 本區主權不屬於任何國家，也沒有居民長期

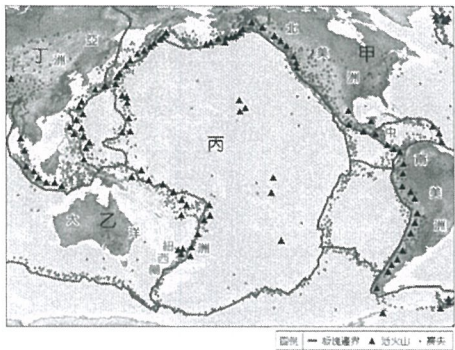
- 居住
(D) 每年的 6、7 月為其夏季，吸引許多科學家前往進行學術研究。
5. (C) 澳洲基於殖民背景，原本與歐洲國家往來較密切，近年來卻走向「脫歐入亞」，加強與亞洲各國的經貿往來。上述情形最主要的原因為何？(甲) 產業轉型 (乙) 運輸成本考量 (丙) 亞洲經濟勢力崛起 (丁) 移民政策改變
(A) 甲乙 (B) 乙丁 (C) 乙丙 (D) 丙丁。
6. (A) 澳洲礦產出口獲利豐厚，政府對其課徵超額稅收，並將之用於醫療、養老金、基礎建設等支出，使全體人民都能從採礦業的繁榮發展中獲得回報。請問：澳洲礦產資源豐富，與下列哪一項自然條件最有關係？
(A) 地質古老 (B) 高原地形
(C) 位置孤立 (D) 水源豐富。
7. (B) 紐西蘭是世界重要的羊毛出口國，另外像是不易腐壞的乳酪、奶粉、奶油等，也是主要輸出品。請問：這是受下列哪一項因素影響所致？
(A) 氣候全年溫和溼潤
(B) 距離歐、亞主要市場較遠
(C) 海岸線綿長，四面環海
(D) 國內市場狹小。
8. (C) 附圖是某個國家在耶誕節時所販售的吊飾，穿著清涼的耶誕老人手上拿著冰淇淋，前方還有一隻該國的特有生物鸚鵡「鸚鵡一幺」。請問：此國(或地區)最可能為下列何者？



- (A) 紐西蘭 (B) 夏威夷 (C) 澳洲 (D) 帛琉。

~請翻背面繼續作答~

9. (C) 臺灣與紐西蘭皆屬地震好發的地區，西元1999年臺灣的921大地震以及2011年紐西蘭基督城的地震，都造成許多人員傷亡與房屋坍塌。上述兩地的地震頻繁，皆與圖中哪一個板塊與其他板塊的相互擠壓有關？



(A)甲 (B)乙 (C)丙 (D)丁。

10. (D) 告別2021年，世界許多大城為了防疫取消了新年倒數的群聚活動，下圖為今年仍維持大規模燃放跨年煙火的城市分布圖，請問下列哪一個是世界上最先用燦爛煙火秀迎接新年到來的國家-城市？



(A)法國-巴黎 (B)澳洲-雪梨
(C)台灣-台北 (D)紐西蘭-奧克蘭。

11. (D) 大洋洲的海陸位置特殊，使其成為各洲航運及空運往來的中途站，也是戰時重要的軍事基地。請問：大洋洲島群主要位於哪兩大洲的中繼位置？

(A)亞洲、歐洲 (B)亞洲、非洲
(C)歐洲、非洲 (D)美洲、亞洲。

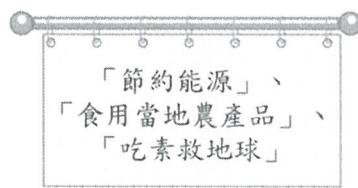
12. (C) 關於北極地區與其航線，何者敘述有誤？

(A)歐、亞、北美的交通捷徑
(B)戰略地位重要
(C)蘊藏豐富的金屬礦產資源
(D)全球暖化已經影響此區生態環境。

13. (A) 繞著地球跑的臺商，足跡橫跨各大洲，其中大洋洲的西薩摩亞由於免稅的因素，吸收到許多轉投資的境外公司。請問：若是要在大洋洲投資發展，哪一項產業是當地最不可能開發的產業類型？

(A)石化工廠 (B)觀光度假村
(C)海鮮餐飲店 (D)捕撈漁業。

14. (C) 阿諺在某環境保護網站中發現附圖中的口號，依據內容判斷，該網站的訴求主要是反映下列哪一種行動的落實？



(A)減少依賴進口能源
(B)維護本土生物多樣性
(C)減碳減緩全球暖化
(D)追求區域糧食的自給自足。

15. (B) 每到夏天登革熱疫情常成為全民關心的焦點，登革熱原本只發生於熱帶地區，現今病媒斑蚊的分布範圍已擴大到溫帶地區。請問：造成上述現象的原因最可能是下列何者？

(A)病毒抗藥性增強 (B)全球氣候變遷
(C)熱帶人口減少 (D)溫帶環境衛生變差。

16. (C) 蔣老師告訴大家：「當你從太平洋西側的密克羅尼西亞出發，前往東側的玻里尼西亞時，會經過一條國際換日線，因此必須將手錶上的日期減一天。」請問：蔣老師所說的國際換日線大致與下列哪一條經緯線相符？


(A)經度0度 (B)緯度0度
(C)經度180度 (D)北緯90度。

17. (C) 太平洋復活節島上的原住民拉帕努伊人，使用的語言和哪一個民族最相近，屬於相同語系？


(A)西亞的猶太人 (B)亞洲的蒙古人
(C)臺灣的原住民族 (D)美洲的原住民族。

二、題組題(每題4分)

※澳大利亞與紐西蘭都屬於大洋洲的國家，兩國自然環境上差異很大，但卻有類似的歷史或經濟發展特色。以下為兩國相關問題，請依題意回答18-20題：



↑ 澳大利亞



↑ 紐西蘭

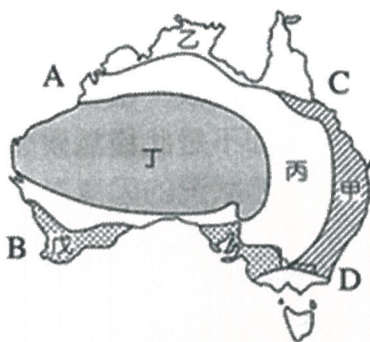
18. (C) 觀察兩國國旗可發現，都是藍底搭配左上角米字旗的設計，僅旗面上星星的顏色和角度不同；紐西蘭總理曾控訴澳洲抄襲他們的國旗設計，應該更換。由旗面資訊判斷，澳、紐兩國的國旗如此相似的原因為何？

(A)皆地處西風帶
(B)皆位於東半球
(C)皆曾被英國殖民
(D)皆加入亞太經濟合作會議。

~請接下一頁~

19. (D) 「澳洲是褐色的大陸，紐西蘭是綠色的島嶼。」這句話中不同的顏色，顯示出兩國在地理景觀上的差異，請問造成此差異主要的原因為何？
 (A) 野生動物的數量
 (B) 地形起伏的高低
 (C) 原住民文化的差別
 (D) 降水量的多寡。
20. (A) 紐、澳兩國人口密度都很低，因此產業發展方向也很類似。下列有關兩國經濟發展特色，哪一個選項是正確的？
 (A) 兩國都以粗放型態發展畜牧業
 (B) 兩國都利用礦產資源發展重工業
 (C) 兩國都是世界主要小麥生產國
 (D) 兩國都以生產奇異果聞名全世界。

※下圖為澳洲氣候和周圍海域示意圖，請依據敘述回答下列 21-23 題。



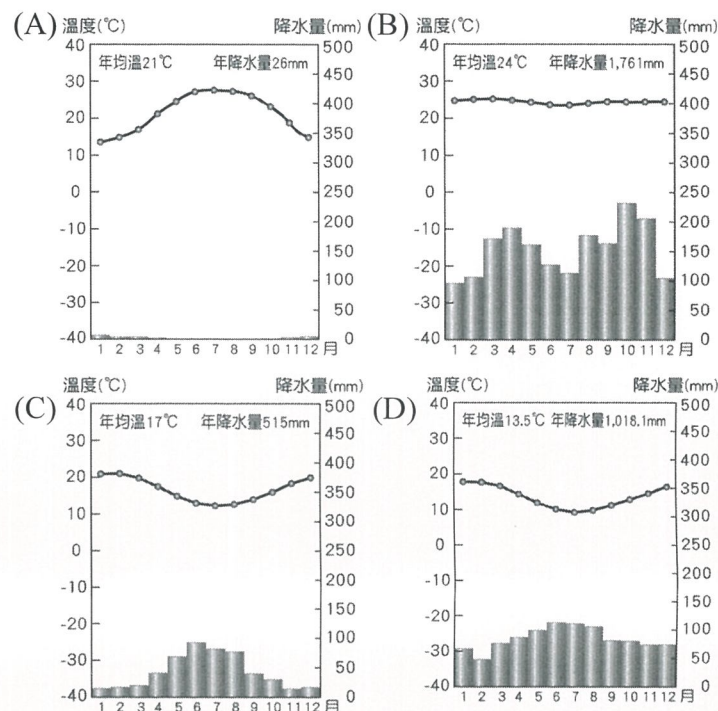
21. (C) 大堡礁是世界最大、最長的珊瑚礁群，這裡大大小小 2900 個珊瑚礁島，自然景觀非常特殊。漢密爾頓島(Hamilton Island)是這片海域 74 個島嶼群中的一個大島，被譽為「大堡礁之心♥」。2009 年開始，澳洲昆士蘭旅遊局發布一份「世界上最好的工作」——招募大堡礁護島員！這項工作一周工作 12 小時，工作內容就是餵魚、游泳、潛水、划船等，每周寫部落格、上傳影片、接受媒體採訪，向全球宣傳大堡礁等；工資為半年 15 萬澳元（約 400 萬台幣），福利是享有 3 個臥室和獨立游泳池的住宅，工作者可以攜帶自己的家人或朋友到島上一同生活。一推出立刻引起了一場很大的轟動，當年短短幾個月，全球近200個國家3萬多人報名。請問上述工作的島嶼位於圖中何處？
 (A) A (B) B (C) C (D) D。
22. (C) 澳洲最著名的世界遺產「烏魯汝」(Uluru) 為位於澳洲近乎位置中央處的大型單體岩石。由於形成烏魯汝的砂岩含有較多鐵粉，氧化之後的鐵粉呈現紅色，使得烏魯汝呈現紅色外觀。自 2019 年 10 月起，當地政府全面封閉其攀登步道。這項決議是尊重烏魯汝的傳統持有者：中澳的原住民阿南古人 (Anangu) 的長期意見。對他們而言，烏魯汝是創世神話的起點，也是祖靈記憶的歷史核心，先祖造世之後的遺

留能量成為現實世界與夢境世界（連結生與死之間的中間地帶）的匯集所在。因此大批湧入的觀光攀登，被族人視為極不尊重的文化褻瀆。請問有關上述地點位於圖中何處？
 (A) 甲 (B) 丙 (C) 丁 (D) 戊。

23. (B) 承上題，「烏魯汝」所在地區屬於下列何種氣候類型？
 (A) 草原氣候 (B) 熱帶沙漠氣候
 (C) 熱帶莽原氣候 (D) 夏雨型暖溫帶氣候。

※花媽一家人準備前往紐西蘭旅遊，請問24~25題：

24. (D) 柚子在蒐集紐西蘭的相關資料時，會看到下列哪一張氣候圖？



25. (C) 一家人各自許願此次旅行必玩的行程，下列何人無法實踐夢想呢？
 (A) 花爸：我要泡溫泉！
 (B) 花媽：我要看毛利人歌舞秀！
 (C) 橘子：我要抱無尾熊！
 (D) 柚子：我要參加冰河健行！

~作答結束~