

# 高雄市立嘉興國民中學110學年度第一學期一年級地理科第二次定期評量試題卷

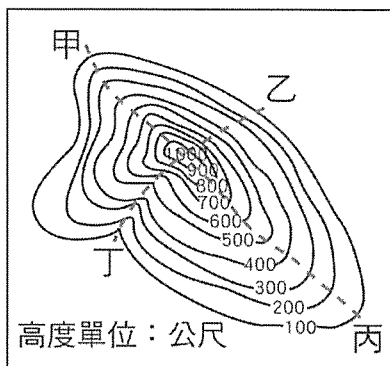
範圍：第一冊第三課~第四課

一年\_\_班 座號：\_\_\_\_\_ 姓名：\_\_\_\_\_

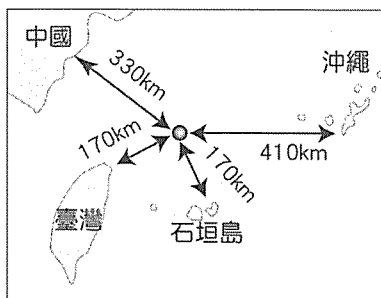
一、選擇：(每題4分，共100分)

※讀卡資料未填妥者扣五分。

1. ( ) 圖一為棒棒山的等高線地形圖。康康公司選擇在這座山舉辦登山健行活動，並希望員工們全家人不分老少都能參與，則主辦單位應選擇圖中哪一條登山路線最適合？ (A)甲 (B)乙 (C)丙 (D)丁。

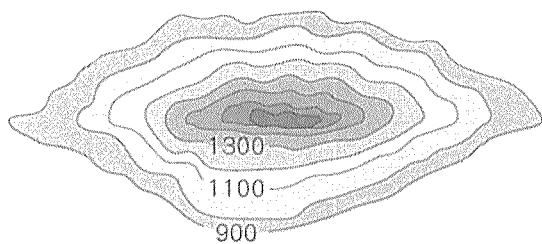


←圖一






←圖二

2. ( ) 圖二為臺灣某個離島與各國之間的距離示意圖，因位置關係，此離島有國際主權爭議及常發生經濟海域重疊的問題，請問主要是下列哪一個離島的爭議？  
(A)金門列嶼 (B)太平島 (C)釣魚臺列嶼 (D)澎湖群島。
3. ( ) 臺灣早在一九六〇年代便開始進行地熱資源的探勘，發展地熱發電，其中以大屯山地熱蘊藏最豐，但考量該潛能區位於國家公園內，且地熱水具強酸腐蝕等問題，故轉而在宜蘭清水建立了清水地熱發電廠，讓臺灣成為全球第14個地熱發電的國家。請問：臺灣地熱能的開發與哪一項環境特色關係最為密切？  
(A)位於寒暖流交會帶 (B)地處板塊接觸帶 (C)位居低緯熱帶區 (D)西部海岸風勢強。
4. ( ) 小華在國三畢業前作了一次環島之旅，他從臺北出發沿著海岸公路順時針繞行臺灣，沿途看到了各種不同的海岸類型，包括：(甲)灣澳相間的岩岸 (乙)豐富的珊瑚礁岩岸 (丙)筆直的斷層海岸 (丁)平直的沙岸。請問：小華先後看到的海岸次序為何？ (A)甲乙丙丁 (B)甲丙乙丁 (C)甲丙丁乙 (D)甲丁乙丙。
5. ( ) 上完地理課後，同學們對於臺灣的地形都有了初步的認識，幾位同學聚集在一起討論，誰的發言有誤？  
(A)立宏：我從小跟爸媽來臺居住，這裡因為地形種類單純，東西部交通便利  
(B)葦琪：我外婆住在臺灣西部，這裡有平原也有一些台地  
(C)健州：臺灣主要有五大地形  
(D)慧媚：我老家在臺灣東部，那裡山峰連綿，山地面積廣大。
6. ( ) 臺灣鄰近的哪一座島群因擁有世界級的珊瑚生態，因而被政府提報申請為「世界文化遺產」，並在當地設立臺灣第七座國家公園？ (A)龜山島 (B)馬祖列嶼 (C)綠島 (D)東沙島。
7. ( ) 圖三為某地形的等高線圖。若轉繪成地形剖面圖來表示，則下列哪一張圖正確？

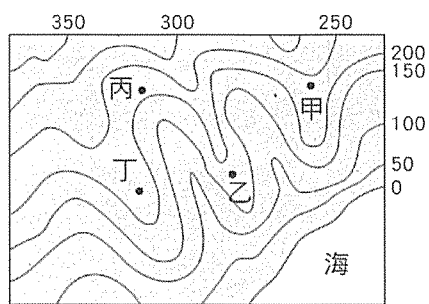


←圖三



背面尚有試題

8. ( ) 下列對於經濟海域的描述，何者錯誤？  
 (A)由領海基線向外延伸 200 公里的海域  
 (B)其漁業、礦業資源可供開發利用  
 (C)兩國經濟海域有重疊時，常透過戰爭等方式劃分海域  
 (D)臺灣與菲律賓、日本經濟海域高度重疊，常有漁事糾紛。
9. ( ) 圖四為某地區的等高線地形圖。萌萌全家利用假日到該地的河畔烤肉、戲水。依據此圖判斷，下列何者最可能是他們烤肉的地點？ (A)甲 (B)乙 (C)丙 (D)丁。



←圖四

(甲)	海岸類型	岩岸
(乙)	海水深度	較深
(丙)	海岸特色	曲折
(丁)	適合產業	水產養殖

←表一

10. ( ) 「這裡是一個典型漁村，在市場可以品嚐到新鮮的漁貨，海鮮愛好者一定要來試試看，在豐漁橋邊則可欣賞船隻進出及港區作業情景。過豐漁橋右轉再經神社遺址、水試所、鎮海公園到大鵬灣青洲遊憩區後，又會見到另一幅潟湖的自然生態。」表一關於該地點的環境描述，請問何者正確？  
 (A)甲 (B)乙 (C)丙 (D)丁。

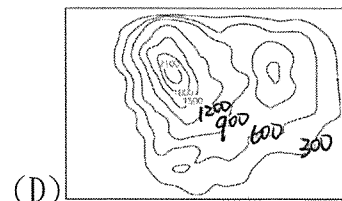
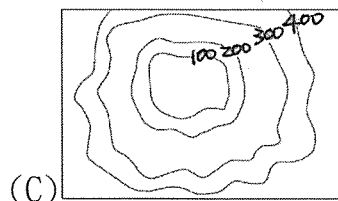
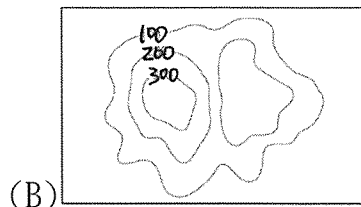
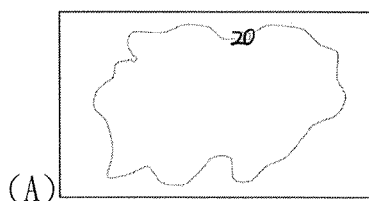
11. ( ) 臺灣某離島於西元 2018 年舉辦了一個自行車比賽，名為「○○之壁——自行車挑戰」，該離島地勢崎嶇起伏大，道路充滿陡坡起伏，因此主辦單位打出挑戰「臺灣自行車登山王」的標語，希望能吸引許多好手前往參加。除此之外，當地的戰地風情、傳統漁村聚落等特色，也吸引著許多好手，到當地利用騎乘自行車的方式漫遊。請問：上文中○○，應填入哪一個臺灣離島？ (A)澎湖 (B)馬祖 (C)蘭嶼 (D)琉球。

12. ( ) 考試將近，同學們熱烈討論有關地形的上課重點。請問：誰的發言不正確，可能須要再調整觀念？



13. ( ) 某類型島嶼的形成原因是因為海平面上升或陸地下沉，使原鄰近沿海的丘陵部分沒入海中，而較高的山嶺凸出海面形成島嶼。請問：該類型的島嶼是屬於下列何者？  
 (A)大陸島 (B)火山島 (C)珊瑚礁島 (D)海蝕島。

14. ( ) 下列分別為四種不同地形的等高線圖。請問：臺灣茶樹種植主要分布於下列哪一種地形區？

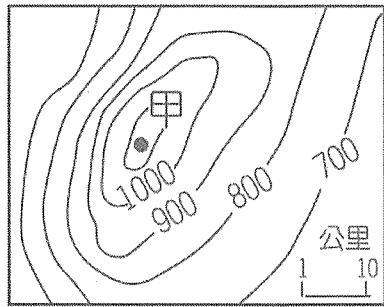


15. ( ) 下列何處沿海景點位在「岬灣海岸」的範圍內？  
 (A)野柳燭臺石 (B)七股鹽田 (C)花蓮清水斷崖 (D)雲林外傘頂洲。

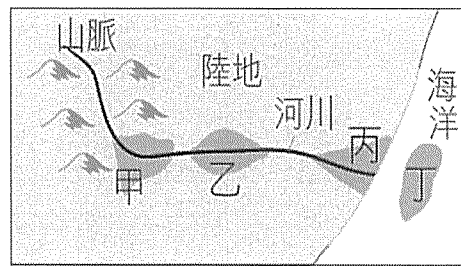
16. ( ) 曾經擁有「天下第一泉」稱號的南投廬山溫泉，已經從地圖上消失了！西元 2008 年，辛樂克颱風重創廬山溫泉區，飯店大樓倒在滾滾溪流中，一共有 48 家溫泉飯店慘遭波及，後續也因地質安全等問題無法重建，最後消失於地圖上。請問：災害發生時，運用下列何種圖資可以在第一時間掌握受災區域的狀態？  
 (A)航空照片與衛星影像 (B)地形剖面圖 (C)等高線地圖 (D)分層設色圖。

17. ( ) 某艘馬來西亞籍貨船於巴士海峽遇到颱風來襲，準備緊急向臺灣恆春半島航行避難。請問：當時船員必須特別注意下列何種意外的發生？ (A)岬角阻擋 (B)船隻擱淺 (C)落石擊中 (D)撞上礁石。

18. ( ) 龜山島位在宜蘭縣頭城鎮海岸以東約 10 公里處，是宜蘭縣縣屬島嶼之中最大、唯一有人居住的島嶼，也是臺灣地區目前尚存的活火山。龜山島岩層主要是由安山岩質之熔岩流和火山碎屑岩互層所構成。由上文敘述可知，請問龜山島的成因是下列何者？  
 (A)內營力——火山活動 (B)內營力——熱漲冷縮 (C)外營力——海浪侵蝕 (D)外營力——河流堆積。
19. ( ) 圖五是某地的等高線地形圖。圖中「甲」地的高度最有可能是多少公尺？  
 (A)1,036 (B)1,142 (C)1,357 (D)1,520。



←圖五



←圖六

20. ( ) 圖六為某河川流域示意圖。請問：圖中哪一個地區最容易受到土石流的侵襲，造成大量土石衝入屋中？  
 (A)甲 (B)乙 (C)丙 (D)丁。
21. ( ) 臺灣除本島外，周圍還有許多離島，下列哪一組島嶼，其形成的原因與其他三組不同？  
 (A)蘭嶼、綠島 (B)釣魚臺列嶼、龜山島 (C)澎湖群島、綠島 (D)東沙島、琉球嶼。
22. ( ) 近年來，自然景觀休閒遊憩「遊客總量管制」的觀念漸受重視，亦即在不破壞自然環境的前提下，評估該景觀可以承受的限度來安排遊客人數，如福山植物園便是採行事先申請、限額入園的做法。請問：上述內容最能顯示下列何種意涵？  
 (A)土地過度使用超過負荷 (B)珍惜資源以求永續經營  
 (C)國土使用規畫日漸完備 (D)週休二日休閒模式改變。
23. ( ) 阿瓜在過年時和媽媽回南部，有一天他們去了一個叫做「南鯤鯓」的地方拜拜，據說「鯤鯓」是一種沙岸地形，因形狀像條大魚游在海岸邊而得名。請問：「鯤鯓」所指最可能是何種地形？  
 (A)瀉湖 (B)沙丘 (C)沙洲 (D)珊瑚礁岩。
24. ( ) 下列哪一個離島不是位於太平洋上？ (A)綠島 (B)龜山島 (C)琉球嶼 (D)釣魚臺列嶼。
25. ( ) 最能夠顯示地表高低起伏的地圖為地形剖面圖。以下為小芳整理的地形剖面圖繪製步驟，請問哪一個步驟需要修正？(甲)在等高線圖上畫一剖面線 (乙)在剖面線下方繪製一個垂直軸為距離，水平軸為高度的高度表 (丙)記錄剖面線通過等高線上各交會點的高度值，並將數值標示在下方高度表 (丁)將這些標點連成一條平滑曲線 (A)甲 (B)乙 (C)丙 (D)丁。

試題結束

高雄市立嘉興國民中學110學年度第一學期第二次段  
考一年級地理科考查試卷答案

範圍：第一冊第三課~第四課

一、選擇：(每題答案4分，共100分)

1-5            C C B B A

6-10          D A C C D

11-15        B B A B A

16-20        A D A B A

21-25        D B C C B