

高雄市立嘉興國民中學110學年度第一學期二年級地理科第一次定期評量試題卷

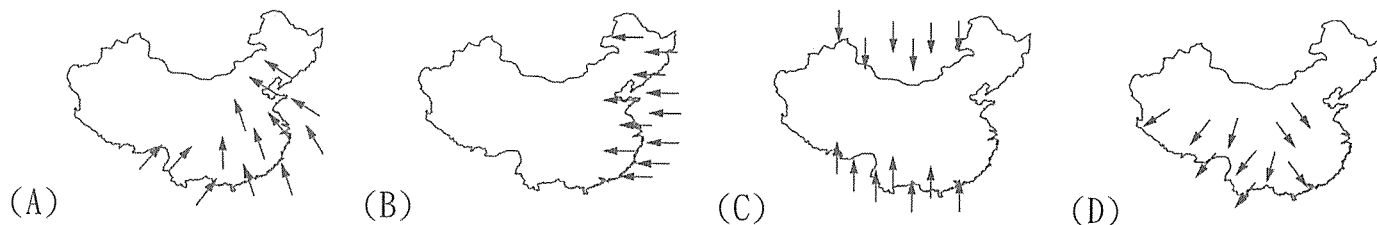
範圍：第三冊第一課~第二課

二年__班 座號：_____ 姓名：_____

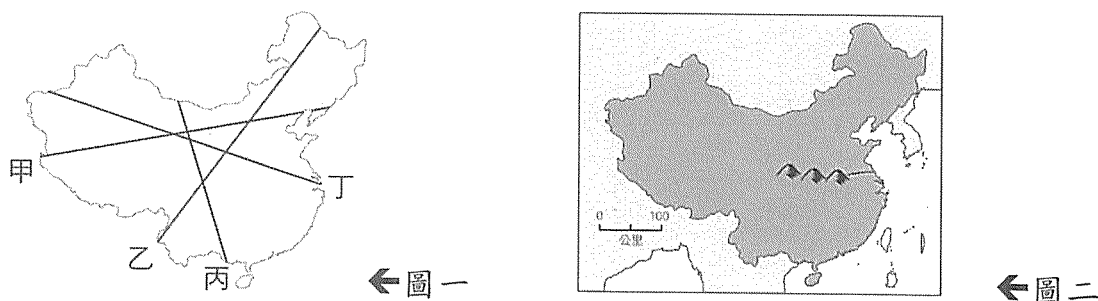
一、選擇：(每題4分，共100分)

※讀卡資料未填妥者扣五分。

1. () 中國最高階梯的東面和北面為次高階梯，平均高度約1,500公尺。請問：下列哪一個地形區位在次高階梯？ (A)東北平原 (B)青藏高原 (C)東南丘陵 (D)塔里木盆地。
2. () 中國的降水受到夏季季風影響，從海洋吹向陸地帶來豐沛水氣，請問：下列何者是中國正確的夏季季風風向？



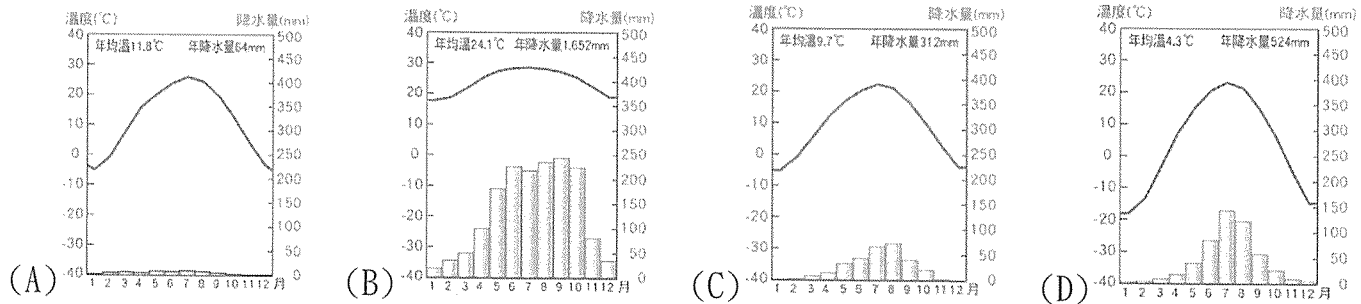
3. () 圖一為中國簡圖，其中哪一條線為中國人口分布密集區與稀疏區的主要分界線？ (A)甲 (B)乙 (C)丙 (D)丁。



4. () 圖二為中國重要的地理分界帶，請問下列哪一種地理現象不是此一分界線的地理意義？ (A)以北：最冷月月均溫在 0°C 以下，以南：最冷月月均溫在 0°C 以上 (B)以北：河川流量較小，季節變化大，以南：河川流量豐富，季節變化小 (C)以北：種植小麥為主，以南：種植稻米為主 (D)以北：熱帶氣候為主，以南：溫帶氣候為主。
5. () 中國疆域遼闊，過去為了達到對外聯繫的目的而發展出各具特色、因地制宜的交通方式。請問：為了適應青藏高原「地形高峻，地表崎嶇，氣候乾寒，空氣稀薄，多風暴」的環境特色，該地居民大多選擇何種交通工具來克服自然環境限制？ (A)馬 (B)驢 (C)犛牛 (D)駱駝。
6. () 下列中國的氣候特徵中，哪些深受季風影響？ (甲)降水集中夏季 (乙)冬季南北溫差大 (丙)青藏高原終年低溫 (丁)降水量由東南向西北遞減 (A)甲乙 (B)甲丁 (C)乙丙 (D)乙丁。
7. () 由於中國面積廣大，人口分布極不平均，產生許多問題。下列哪一種事實最足以反映這種人口現象？ (A)實施一胎化政策 (B)少數民族族群眾多 (C)主要都市集中在東半部 (D)幼年人口占總人口比例逐年下降。
8. () 中國幅員遼闊，為了便利統轄管理而設置行政區劃。請問：下列何者不屬於省級行政區？ (A)南京市 (B)上海市 (C)福建省 (D)內蒙古自治區。
9. () 中國人口分布與當地自然環境、生產技術的發展有關，如西半部地區的人口，多半集中於可以農業耕作的河谷平原或綠洲。有利於該地區發展的主要因素為下列何者？ (A)地勢平坦 (B)水源豐富 (C)鐵路密集 (D)移民政策。
10. () 中國南部區域的居民常在丘陵坡地開闢梯田，或在河湖沿岸圍湖造田。迫使當地居民這樣做的主要原因為何？ (A)防止土壤流失 (B)土質較為肥沃 (C)政府環保政策 (D)人口壓力沉重。
11. () 中國以溫帶氣候所占的面積比例最大，此現象與下列何者關係最密切？ (A)氣候炎熱 (B)位居中緯度 (C)地表起伏大 (D)跨越經度大。


背面尚有試題

12. () 旅遊達人正在講解中國某地的行程特色，推薦當地必買的椰子糖、椰子脆片、椰子餅乾、辣椒醬、胡椒粉、咖啡等，這些都是生長在熱帶地區的作物所做成的食品，接著他又根據氣候圖說明應該攜帶的穿著衣物。請問：下列哪一張氣候圖所代表的自然環境是這位旅遊達人所說明的地區？




13. () 圖三在形容中國的某一種人口問題，老師以這張圖為作業，請同學研究該圖所要表達的現象。這四位同學繳回的報告中，下列何者看法較為正確？

- (A)小美：人口比例失衡，政府要注意老人福利制度
 (B)小黃：性別比小於 100，可能與重男輕女觀念有關
 (C)小花：性別比失衡，中國政府調整一胎化政策
 (D)小東：人口素質偏低，使優秀女生很多人追求。



←圖三

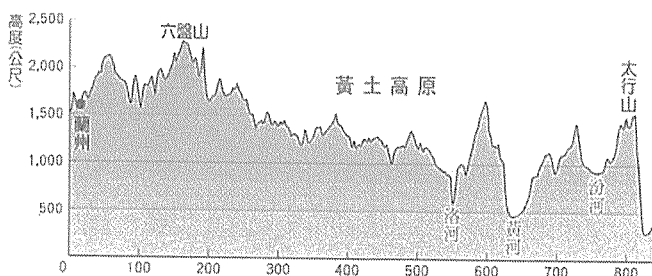


←圖四

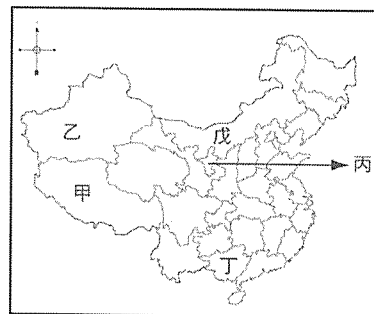
14. () 英國很多殖民地與前殖民地國家和地區，會將英國的米字旗放在國旗的左上角。中國某個地區在主權移交之前，其代表旗幟如圖四，以示其與英國的特殊關係。請問：該旗幟最可能為中國哪個地區早期所有？
 (A)上海 (B)廣州 (C)澳門 (D)香港。

15. () 「各地傳統服飾的特色，大多是居民長期適應氣候環境的表現。如西部高原上的藏族為適應○○大的氣候特色，以方便穿脫的袍子為傳統服飾。」根據西部高原的自然環境及藏族的傳統服飾特色判斷，文中的○○最可能是指哪項氣候特色？ (A)年降水量 (B)年溫差 (C)日溫差 (D)風速。

16. () 圖五為黃土高原的地形剖面圖，受流水侵蝕影響，形成千溝萬壑、崎嶇不平的地貌。請問：其原因受黃土高原本身何種特性影響？
 (A)風力堆積，質地鬆軟 (B)河川沖積，性質疏鬆 (C)人口密集，過度開發 (D)年溫差大，土壤脆弱。



←圖五



←圖六

17. () 小康在部落格上寫著：「我來自中國最高的高原上，當地氣候寒冷。我們民族相信輪迴轉世之說，喇嘛教是我們最高的信仰中心。」請問：小康應住在圖六中何地？ (A)甲 (B)乙 (C)丙 (D)丁。

18. () 河套平原與塔里木盆地是內蒙古及新疆地區少數能發展農業的區域，關於兩地的灌溉水源，下列說明何者正確？

- (A)河套平原的水源為河水，塔里木盆地的水源為高山融雪
 (B)河套平原的水源為高山融雪，塔里木盆地的水源為河水
 (C)兩地的水源皆為河水
 (D)兩地的水源皆為高山融雪。

19. () 「明末，海上盜賊興起，出沒在東海及南海，搶奪打掠。這些海盜的故鄉由於山地、丘陵多，導致糧食生產不足所需，再加上政治腐敗，缺糧日趨嚴重，迫使他們利用沿岸眾多灣澳、港口出航。」依據上文內容，這些被迫往海上發展的海盜，其故鄉最可能是在下列哪一個地區？
 (A)四川盆地 (B)雲貴高原 (C)華北平原 (D)東南丘陵。
20. () (甲)東北平原 (乙)華北平原 (丙)長江中下游平原 (丁)珠江三角洲，以上四個為中國東半部的四大平原，若林阿豪搭飛機由南往北飛行，他依序看到的正確順序為何？ (A)甲乙丙丁 (B)甲丙丁乙 (C)丙乙丁甲 (D)丁丙乙甲。
21. () 中國東北由於耕地面積廣大，地勢又較平坦，適合使用機械耕種，農民不必依賴人力或役獸，就可進行各項田事工作。這種機器的發明與廣泛利用，最可能造成下列何種影響？
 (A)增加勞力密集，提高生產效率 (B)增加勞力密集，降低生產效率
 (C)減少勞力密集，提高生產效率 (D)減少勞力密集，降低生產效率。
22. () 表一是中國四個城市的年溫差資料，請問四座城市皆位於季風氣候區，影響年溫差不同的主要因素為何？
 (A)地勢高低 (B)季風風向 (C)緯度高低 (D)距海遠近。

城市	年溫差
哈爾濱	42°C
天津	31°C
寧波	23°C
珠海	16°C

←表一

地點	最冷月月均溫 (°C)	年降水量 (mm)
甲	-5.5	355
乙	-15.2	185
丙	-3.7	622
丁	5.6	1,230

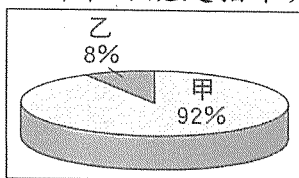
←表二

23. () 從表二的甲乙丙丁四地氣候資料判斷，何處為溫帶草原氣候？ (A)甲 (B)乙 (C)丙 (D)丁。
24. () 請由圖七對話中，找出唐三藏一行人目前所在位置？
 (A)黑龍江省 (B)內蒙古自治區 (C)新疆維吾爾自治區 (D)西藏自治區。



←圖七

25. () 圖八為中國民族比例圖。其中「甲」族群主要集中於東半部的季風氣候區，自古多從事農業活動。「甲」族群最可能是指下列何者？ (A)壯族 (B)藏族 (C)漢族 (D)蒙古族。



←圖八

試題結束

高雄市立嘉興國民中學110學年度第一學期第一次段
考二年級地理科考查試卷答案

範圍：第三冊第一課~第二課

一、選擇：(每題答案4分，共100分)

1-5 D A B D C

6-10 B C A B D

11-15 B B C D C

16-20 A A A D D

21-25 C C A C C