

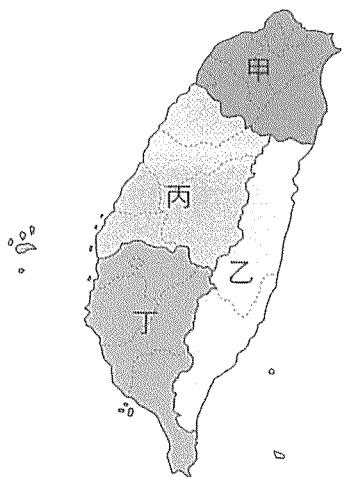
高雄市立嘉興國民中學110學年度第一學期一年級歷史科 第一次段考試題卷

請用 2B 鉛筆畫卡作答，班級座號等資訊畫記錯誤者，扣總分 5 分，請同學細心檢查。

試題共 25 題，每題 4 分，共 100 分。

一、選擇：(每個答案 4 分，共 52 分)

- () 人類的發展，可以分成史前時代和歷史時代，前者最大的特徵是什麼？
(A)沒有文字
(B)已發展出國家觀念
(C)不使用石器
(D)無用火的經驗。
- () 「圓山文化」是臺灣很重要的史前文化代表，關於這個文化的特色，下列敘述何者正確？
(A)出土地點在臺灣中部一帶
(B)曾出土煉鐵的作坊遺跡
(C)屬於新石器時代的文化
(D)已知用火，但尚未有農業出現。
- () 「這個地區發現了臺灣目前最早的史前文化遺址，讓我們可以藉由這個遺址的出土，進一步得知當時人類的的生活方式。除此之外，還有一個新石器晚期的遺址，出土了石板棺，以及玉器作為陪葬品。」根據上文的敘述，此地區應位於附圖中的哪一區？
(A)甲區
(B)乙區
(C)丙區
(D)丁區。



- () 奕寰是新北市八里地區考古隊的工作人員，日前有民眾在八里某地區發現史前遺物，奕寰被指派前往挖掘文化。請問：下列何者最可能是芝穎挖掘後，所繪之八里地區的文化層形態？

(A)	卑南文化 長濱文化	(B)	十三行文化 大坵坑文化
(C)	大坵坑文化 十三行文化	(D)	大坵坑文化 圓山文化

- () 「西元 1996 年的奧林匹克運動會中，阿美族長老郭英男的嘹亮嗓音，讓□□語族的音樂受到全球注目。」請問□□當中應該填上什麼？
(A)漢藏
(B)南島
(C)印歐
(D)南亞。

- () 平埔族早年曾廣泛的分布在臺灣各地，下列哪些地區是其主要的分布地？
(A)東部的花東縱谷平原
(B)西部及東北部的平原、丘陵
(C)中央山脈地區
(D)蘭嶼、綠島等離島地區。
- () 在十七世紀的大航海時代中，臺灣扮演了何種角色？
(A)漢人移民南洋的轉運站
(B)英國在亞洲殖民、貿易的總部
(C)中國對外通商的出口港
(D)東亞國際貿易的轉運站。
- () 千翔選擇「顏思齊」作為歷史報告的主題。請問：這份報告中最可能提及他的哪項事蹟？
(A)以海商的身分帶領漢人來臺拓墾
(B)以將領的身分逼退在澎湖的荷人
(C)以漢人身分帶領群眾反荷人統治
(D)以中國官員的身分來臺展開防務。
- () 西元 1602 年，此一機構成立，它不僅擁有巨大資本和各種特權，還獨占海上貿易，並且可用國家名義設置軍隊，對外宣戰，此外尚可任命官吏統治其殖民地，其亞洲總部設於今日印尼的雅加達。擁有如此權力的機關，為下列何國所設立？
(A)英國
(B)荷蘭
(C)西班牙
(D)葡萄牙。
- () 悅安和家人參加臺灣離島旅遊活動，在當地的天后宮看到一塊石碑，上面有「沈有容諭退紅毛番韋麻郎等」幾個字。有關此事的敘述，下列何者正確？
(A)紅毛番指的是西班牙人
(B)離島指的是金門
(C)此離島地最終為荷蘭人占領
(D)沈有容為明朝將領。
- () 十六世紀之後，許多日本海盜與漁民來到臺灣沿海，當時他們稱呼臺灣的名稱為何？
(A)琉球
(B)大員
(C)高砂國
(D)福爾摩沙。
- () 自荷蘭在臺時期到鄭氏在臺時期，下列何者一直都是相當重要的出口商品？
(A)香料
(B)鹿皮
(C)軍需品
(D)稻米。
- () 鄭氏治臺歷經三代，其政權繼承順序為何？
(A)鄭芝龍→鄭成功→鄭經
(B)鄭成功→鄭芝龍→鄭克塽
(C)鄭經→鄭芝龍→鄭克塽
(D)鄭成功→鄭經→鄭克塽。

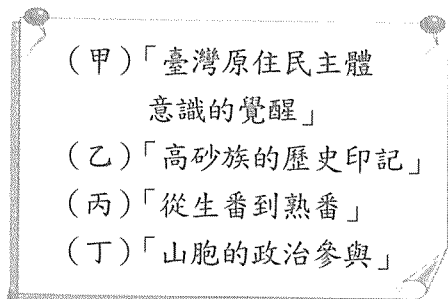
尚有試題，請繼續作答

二、題組：(每個答案 4 分，共 48 分)

(一) 某間史前文化博物館對其遺址有如下的介紹：「民國 44 年秋天，一位空軍飛行員由空中飛越淡水上空時，驚見飛機的羅盤出現了磁力異常的反應，他以為發現了鐵礦，才會影響羅盤！於是少校決定協同地質學家前來探勘，才發現到處可見的鐵塊與鐵渣，其實是史前人類煉鐵的遺留物，之後此地陸續出土陶器、鐵器、墓葬等各類豐富的遺物，從一些證據判斷，這一型的文化人很有可能是平埔族的祖先。」請根據資料，回答下列問題：

14. () 上文所述，應為下列哪一文化遺址？
(A)大盆坑文化
(B)圓山文化
(C)長濱文化
(D)十三行文化。
15. () 根據原住民的分布，這一型的文化人很可能是平埔族中哪一族群的祖先？
(A)凱達格蘭族
(B)撒奇萊雅族
(C)西拉雅族
(D)泰雅族。
16. () 這個遺址發現多樣的文物，如外來的陶器、青銅器、漢人錢幣、琉璃珠等，這說明了什麼？
(A)此一文化人和臺灣四周的民族應有相當密切的往來
(B)此一文化人工藝技術高超純熟
(C)此一文化人來自中國大陸
(D)此一文化人來自南洋一帶。

(二) 正翰在週末的時候去博物館看「臺灣原住民族一百年影像暨史料特展」，看到四個展區的標示牌，請依據標示牌的內容，回答下列問題：



17. () 正翰在展覽看到某一時期的政府將原住民分為「生番」和「熟番」，此種分類方式是以下列哪個選項作為依據？
(A)原住民是否成年
(B)原住民的經濟活動差別
(C)原住民是否納稅、服勞役
(D)原住民的分布地區。
18. () 正翰最不可能在特展中看到哪一個時期原住民的歷史資料？
(A)新石器時代
(B)清帝國時期
(C)日治時期
(D)中華民國時期。
19. () 承上題，正翰若想要按照時間先後順序參觀，應該如何安排？
(A)乙甲丙丁
(B)丙乙丁甲
(C)丙乙甲丁
(D)乙丙丁甲。

(三) 澎湖群島位於臺灣與中國之間，由於具有先天地理與港灣的優越特殊條件，自古即為軍事要衝及重要的移民中繼站，是臺灣開發最早的地區。請回答以下問題：

20. () 十六世紀後期，由於明朝政府加強澎湖的防務，對臺灣造成何種影響？
(A)國際貿易活動受挫
(B)臺灣成為海商聚集地
(C)鄭成功進駐臺灣
(D)明朝納臺灣為版圖。
21. () 下列哪個國家曾經於十七世紀初期占據澎湖並建築城堡，後遭到明朝將領驅離而轉至臺灣？
(A)葡萄牙
(B)日本
(C)西班牙
(D)荷蘭。

(四) 下列是某時期的人民在田間工作時的對話：

建安：「白天種田，傍晚還要回部隊操練，好累啊！」
信佑：「是啊，可是不這樣做也沒辦法。」
建安：「再加油吧，等一下大將軍要來巡視了。」
信佑：「希望老天爺保佑大將軍的計畫能早日實現，我們也能早日回到家鄉。」請問：

22. () 上文中提到的大將軍應該是誰？
(A)沈有容
(B)施琅
(C)鄭成功
(D)陳永華。
23. () 承上題，下列何者可能是這位大將軍的計畫？
(A)建立帝國
(B)反清復明
(C)建設臺灣
(D)驅逐荷蘭人。

(五) 鄭氏在臺時期，○○○向鄭經提議興建「聖廟」與學校，鄭經一開始不同意，他的理由是「這裡土地如此狹小，而且人民稀少，以後再說吧！」○○○回答：「當年商湯以百里之地稱王，周文王以七十里興起，他們鼓吹教育豈會因為地方狹小，這是因為他們愛好賢人的緣故。這裡只要十年教育人才，十年生聚教訓，必能與中原一較天下。今天既然糧食齊備，當然要推動教育。」鄭經說：「好！就照你的說法來做吧！」請問：

24. () 這位○○○應該是下列何人？
(A)施琅
(B)鄭成功
(C)郭懷一
(D)陳永華。
25. () 文中所謂的「聖廟」應該是指下列哪一座廟？
(A)孔廟
(B)土地公廟
(C)教堂
(D)天后宮。

試題結束

高雄市立嘉興國民中學110學年度第二學期一年級歷史科 第一次段考試題卷

請用 2B 鉛筆畫卡作答，班級座號等資訊畫記錯誤者，扣總分 5 分，請同學細心檢查。

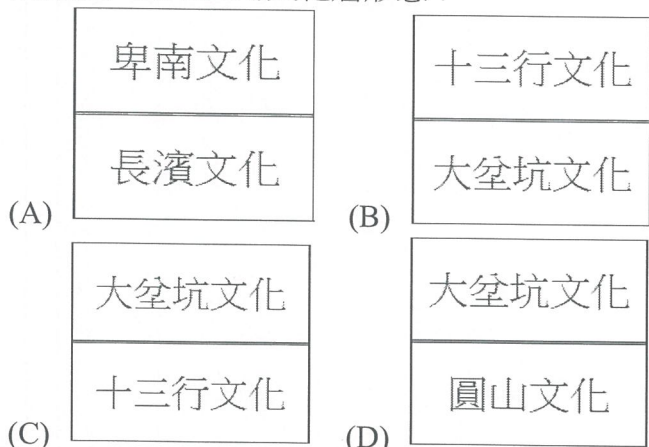
試題共 25 題，每題 4 分，共 100 分。

一、選擇：(每個答案 4 分，共 52 分)

- (A) 人類的發展，可以分成史前時代和歷史時代，前者最大的特徵是什麼？
(A)沒有文字
(B)已發展出國家觀念
(C)不使用石器
(D)無用火的經驗。
- (C) 「圓山文化」是臺灣很重要的史前文化代表，關於這個文化的特色，下列敘述何者正確？
(A)出土地點在臺灣中部一帶
(B)曾出土煉鐵的作坊遺跡
(C)屬於新石器時代的文化
(D)已知用火，但尚未有農業出現。
- (B) 「這個地區發現了臺灣目前最早的史前文化遺址，讓我們可以藉由這個遺址的出土，進一步得知當時人類的的生活方式。除此之外，還有一個新石器晚期的遺址，出土了石板棺，以及玉器作為陪葬品。」根據上文的敘述，此地區應位於附圖中的哪一區？
(A)甲區
(B)乙區
(C)丙區
(D)丁區。



- (B) 奕寰是新北市八里地區考古隊的工作人員，日前有民眾在八里某地區發現史前遺物，奕寰被指派前往挖掘文化。請問：下列何者最可能是芝穎挖掘後，所繪之八里地區的文化層形態？



- (B) 「西元 1996 年的奧林匹克運動會中，阿美族長老郭英男的嘹亮嗓音，讓□□語族的音樂受到全球注目。」請問□□當中應該填上什麼？
(A)漢藏
(B)南島
(C)印歐
(D)南亞。

- (B) 平埔族早年曾廣泛的分布在臺灣各地，下列哪些地區是其主要的分布地？
(A)東部的花東縱谷平原
(B)西部及東北部的平原、丘陵
(C)中央山脈地區
(D)蘭嶼、綠島等離島地區。
- (D) 在十七世紀的大航海時代中，臺灣扮演了何種角色？
(A)漢人移民南洋的轉運站
(B)英國在亞洲殖民、貿易的總部
(C)中國對外通商的出口港
(D)東亞國際貿易的轉運站。
- (A) 千翔選擇「顏思齊」作為歷史報告的主題。請問：這份報告中最可能提及他的哪項事蹟？
(A)以海商的身分帶領漢人來臺拓墾
(B)以將領的身分逼退在澎湖的荷人
(C)以漢人身分帶領群眾反荷人統治
(D)以中國官員的身分來臺展開防務。
- (B) 西元 1602 年，此一機構成立，它不僅擁有巨大資本和各種特權，還獨占海上貿易，並且可用國家名義設置軍隊，對外宣戰，此外尚可任命官吏統治其殖民地，其亞洲總部設於今日印尼的雅加達。擁有如此權力的機關，為下列何國所設立？
(A)英國
(B)荷蘭
(C)西班牙
(D)葡萄牙。
- (D) 悅安和家人參加臺灣離島旅遊活動，在當地的天后宮看到一塊石碑，上面有「沈有容諭退紅毛番韋麻郎等」幾個字。有關此事的敘述，下列何者正確？
(A)紅毛番指的是西班牙人
(B)離島指的是金門
(C)此離島地最終為荷蘭人占領
(D)沈有容為明朝將領。
- (C) 十六世紀之後，許多日本海盜與漁民來到臺灣沿海，當時他們稱呼臺灣的名稱為何？
(A)琉球
(B)大員
(C)高砂國
(D)福爾摩沙。
- (B) 自荷蘭在臺時期到鄭氏在臺時期，下列何者一直都是相當重要的出口商品？
(A)香料
(B)鹿皮
(C)軍需品
(D)稻米。
- (D) 鄭氏治臺歷經三代，其政權繼承順序為何？
(A)鄭芝龍→鄭成功→鄭經
(B)鄭成功→鄭芝龍→鄭克塽
(C)鄭經→鄭芝龍→鄭克塽
(D)鄭成功→鄭經→鄭克塽。

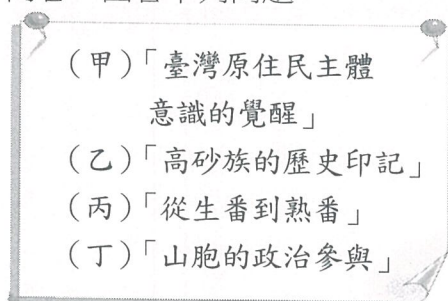
尚有試題，請繼續作答

二、題組：(每個答案 4 分，共 48 分)

(一) 某間史前文化博物館對其遺址有如下的介紹：「民國 44 年秋天，一位空軍飛行員由空中飛越淡水上空時，驚見飛機的羅盤出現了磁力異常的反應，他以為發現了鐵礦，才會影響羅盤！於是少校決定協同地質學家前來探勘，才發現到處可見的鐵塊與鐵渣，其實是史前人類煉鐵的遺留物，之後此地陸續出土陶器、鐵器、墓葬等各類豐富的遺物，從一些證據判斷，這一型的文化人很有可能是平埔族的祖先。」請根據資料，回答下列問題：

14. (D) 上文所述，應為下列哪一文化遺址？
(A)大坌坑文化
(B)圓山文化
(C)長濱文化
(D)十三行文化。
15. (A) 根據原住民的分布，這一型的文化人很可能是平埔族中哪一族群的祖先？
(A)凱達格蘭族
(B)撒奇萊雅族
(C)西拉雅族
(D)泰雅族。
16. (A) 這個遺址發現多樣的文物，如外來的陶器、青銅器、漢人錢幣、琉璃珠等，這說明了什麼？
(A)此一文化人和臺灣四周的民族應有相當密切的往來
(B)此一文化人工藝技術高超純熟
(C)此一文化人來自中國大陸
(D)此一文化人來自南洋一帶。

(二) 正翰在週末的時候去博物館看「臺灣原住民族一百年影像暨史料特展」，看到四個展區的標示牌，請依據標示牌的內容，回答下列問題：



17. (C) 正翰在展覽看到某一時期的政府將原住民分為「生番」和「熟番」，此種分類方式是以下列哪個選項作為依據？
(A)原住民是否成年
(B)原住民的經濟活動差別
(C)原住民是否納稅、服勞役
(D)原住民的分布地區。
18. (A) 正翰最不可能在特展中看到哪一個時期原住民的歷史資料？
(A)新石器時代
(B)清帝國時期
(C)日治時期
(D)中華民國時期。
19. (B) 承上題，正翰若想要按照時間先後順序參觀，應該如何安排？
(A)乙甲丙丁
(B)丙乙丁甲
(C)丙乙甲丁
(D)乙丙丁甲。

(三) 澎湖群島位於臺灣與中國之間，由於具有先天地理與港灣的優越特殊條件，自古即為軍事要衝及重要的移民中繼站，是臺灣開發最早的地區。請回答以下問題：

20. (B) 十六世紀後期，由於明朝政府加強澎湖的防務，對臺灣造成何種影響？
(A)國際貿易活動受挫
(B)臺灣成為海商聚集地
(C)鄭成功進駐臺灣
(D)明朝納臺灣為版圖。
21. (D) 下列哪個國家曾經於十七世紀初期占據澎湖並建築城堡，後遭到明朝將領驅離而轉至臺灣？
(A)葡萄牙
(B)日本
(C)西班牙
(D)荷蘭。

(四) 下列是某時期的人民在田間工作時的對話：

建安：「白天種田，傍晚還要回部隊操練，好累啊！」
信佑：「是啊，可是不這樣做也沒辦法。」
建安：「再加油吧，等一下大將軍要來巡視了。」
信佑：「希望老天爺保佑大將軍的計畫能早日實現，我們也能早日回到家鄉。」請問：

22. (C) 上文中提到的大將軍應該是誰？
(A)沈有容
(B)施琅
(C)鄭成功
(D)陳永華。
23. (B) 承上題，下列何者可能是這位大將軍的計畫？
(A)建立帝國
(B)反清復明
(C)建設臺灣
(D)驅逐荷蘭人。

(五) 鄭氏在臺時期，○○○向鄭經提議興建「聖廟」與學校，鄭經一開始不同意，他的理由是「這裡土地如此狹小，而且人民稀少，以後再說吧！」○○○回答：「當年商湯以百里之地稱王，周文王以七十里興起，他們鼓吹教育豈會因為地方狹小，這是因為他們愛好賢人的緣故。這裡只要十年教育人才，十年生聚教訓，必能與中原一較天下。今天既然糧食齊備，當然要推動教育。」鄭經說：「好！就照你的說法來做吧！」請問：

24. (D) 這位○○○應該是下列何人？
(A)施琅
(B)鄭成功
(C)郭懷一
(D)陳永華。
25. (A) 文中所謂的「聖廟」應該是指下列哪一座廟？
(A)孔廟
(B)土地公廟
(C)教堂
(D)天后宮。

試題結束

高雄市立嘉興國民中學110學年度第一學期一年級歷史科 第一次段考答案

請用 2B 鉛筆畫卡作答，班級座號等資訊畫記錯誤者，扣總分 5 分，請同學細心檢查。
試題共 25 題，每題 4 分，共 100 分。

一、選擇：(每個答案 4 分，共 52 分)：

1.A 2.C 3.B 4.B 5.B

6.B 7.D 8.A 9.B 10.D

11.C 12.B 13.D

二、題組：(每個答案 4 分，共 48 分)：

14.D 15.A 16.A

17.C 18.A 19.B

20.B 21.D

22.C 23.B

24.D 25.A