

高雄市立嘉興國民中學110學年度第一學期一年級地理科第一次定期評量試題卷

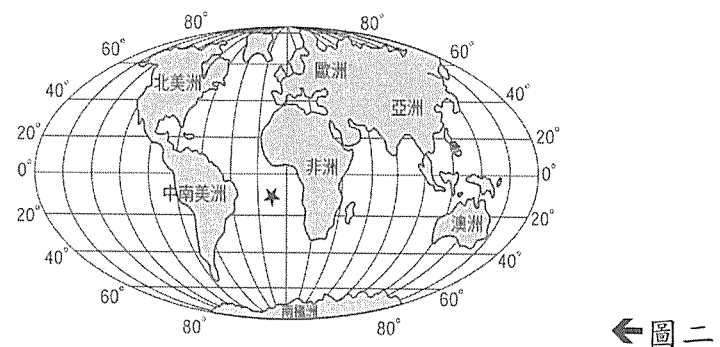
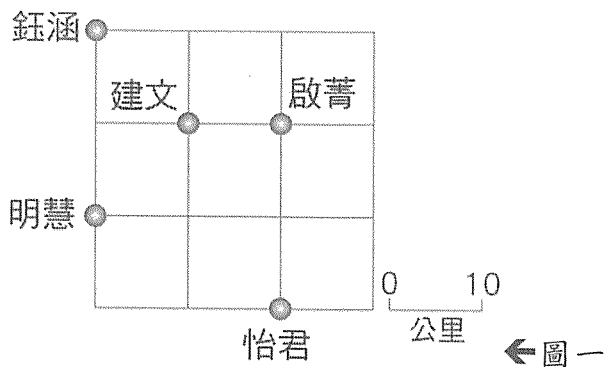
範圍：第一冊第一課~第二課

一年__班 座號：_____ 姓名：_____

一、選擇：(每題4分，共100分)

※讀卡資料未填妥者扣五分。

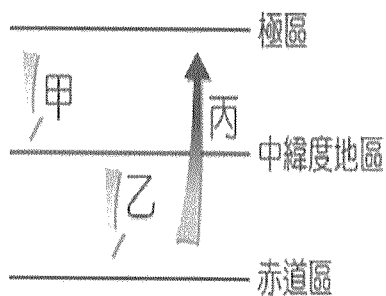
- () 下列有關小比例尺地圖與大比例尺地圖的敘述，何者正確？
(A)同一範圍的地表，以大例尺地圖表示較為清楚
(B)小比例尺地圖的縮小程度較小，內容較詳盡
(C)繪製世界地圖時，應以大比例尺地圖表示較適當
(D)繪製學校周圍地圖時應以小比例尺地圖表示較適當。
- () (甲)臺灣長鬃山羊 (乙)福壽螺 (丙)臺灣獼猴 (丁)櫻花鉤吻鮭 (戊)黑鮪魚 (己)黑面琵鷺。上述哪些動物屬於臺灣特有的物種？ (A)甲乙戊 (B)甲丙丁 (C)乙丙己 (D)乙戊己。
- () 圖一是怡君和朋友的位置圖，假設怡君向北走20公里，再向西走20公里，再向南走10公里。請問：她最後將碰到哪一位朋友？ (A)啟菁 (B)建文 (C)明慧 (D)鈺涵。



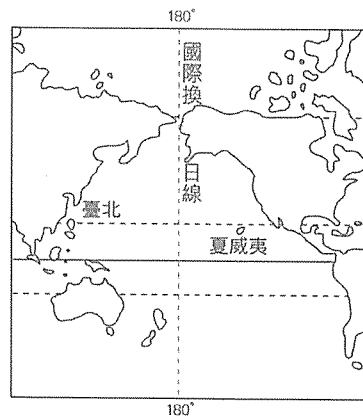
- () 圖二為世界全圖。圖中打上「★」的海域名稱是什麼？
(A)太平洋 (B)印度洋 (C)大西洋 (D)北極海。
- () 均均和朋友出門旅行，他們利用紙本地圖查詢要去參觀的景點。已知從他們住宿的地方到景點的實際距離有3公里遠，在地圖上呈現的是5公分。請問此地圖的比例尺是多少？
(A)1:6,000 (B)1:30,000 (C)1:60,000 (D)1:600,000。
- () 中華民國外交部介紹臺灣時寫到：「全世界海洋生物物種約有22~23萬種，臺灣面積雖小，海洋生物的種類卻達1萬2,000~1萬3,000種之多。海洋資源如此豐富的原因，是因臺灣獨特的地理位置」。請問：這與下列哪一個因素最相關？
(A)臺灣位於亞洲大陸邊緣 (B)位於寒暖流交會的位置
(C)是溫、熱帶的交界位置 (D)位於板塊接觸位置。
- () 2016年的「巴西里約奧運」，熱鬧的閉幕式吸引了許多觀眾欣賞。當時臺灣的電視臺在巴西進行實況轉播，巴西當地的中央時區為西經45°。請問：巴西與臺灣兩地的時間相差幾個小時？
(A)3小時 (B)5小時 (C)7小時 (D)11小時。
- () 經線在地理定位方面是相當重要的判斷指標。請問：下列對於經線的敘述，何者正確？
(A)呈東西向的半圓弧線 (B)所有經線皆平行
(C)將地球分為南、北半球 (D)連接南、北兩極點的半圓線。
- () 花媽一家人正為了「地球」的海陸分布特徵爭論不休。請問：下列誰的說法是正確的？
(A)花媽：「依據計算，全球陸地面積占地球的2/3以上。」
(B)花爸：「陸地面積來說，北半球陸地所占的比例較大。」
(C)花姐：「南、北半球的海洋面積占全球總面積的比例不到50%。」
(D)花弟：「陸地面積占南半球總面積一半以上。」

背面尚有試題

10. () 大明在閱讀課外讀物時看到這段描述：「……地球可以分為南半球和北半球，兩者的季節正好相反，但是氣候上的特徵是相似的。非洲的剛果民主共和國剛好被這條線經過，使得非洲的氣候呈現南北對稱的現象……。」請問：這條經過剛果民主共和國的經緯線可能是哪一條？
 (A)北回歸線 (B)北極圈 (C)本初經線 (D)赤道。
11. () 俗話說：「烏節食烏正當時」、「鹹水烏勝過雞肉籩」，每年冬至前後十天為捕烏魚的最佳時間，此時大批烏魚會乘著中國沿岸流南下產卵，故多渾圓飽滿，有「烏金」之稱。請問：依照中國沿岸流流動的區域判斷，其洋流性質較屬圖三中何者？ (A)甲 (B)乙 (C)丙 (D)以上皆非。



←圖三

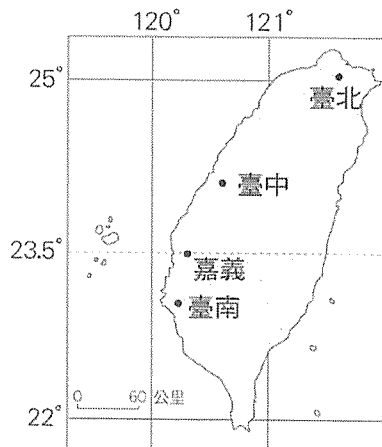


←圖四

12. () 圖四中的國際換日線貫穿太平洋。假設今天臺北是6月6日早上，而此線右側的夏威夷應是下列哪一個日期？ (A)6月4日 (B)6月5日 (C)6月6日 (D)6月7日。
13. () 小平到日本北海道旅遊，發現當地的氣溫比臺灣低很多，造成這種氣溫差異的主要原因為何？
 (A)緯度的高低 (B)地勢的高低 (C)經度的不同 (D)海陸位置的差異。
14. () 柯南為了解開誰是凶手的真相，必須畫出在死者手中找到的紙條「甲乙丙丁」的位置圖，紙條中寫著「甲坐在乙的西北方，丙坐在乙的北方，丁坐在乙的西方」。請問：正確答案應該為何？
- | | |
|---|---|
| 甲 | 乙 |
| 丙 | 丁 |
- (A)
- | | |
|---|---|
| 丙 | 甲 |
| 乙 | 丁 |
- (B)
- | | |
|---|---|
| 甲 | 丙 |
| 丁 | 乙 |
- (C)
- | | |
|---|---|
| 甲 | 丁 |
| 丙 | 乙 |
- (D)
15. () 臺灣是候鳥南來北往的中繼休息站，每年春、秋兩季都可見到新聞報導候鳥過境的消息。請問：根據上文敘述，下列關於候鳥習性的描述哪一項錯誤？
 (A)每年來臺的候鳥，冬季結束後會往北飛 (B)候鳥的遷徙主要是為了避寒及尋找食物
 (C)每年十月，黑面琵鷺便會飛來臺灣避冬 (D)冬季過後，候鳥會繼續往熱帶地區飛行。
16. () 表一為四個地區的經緯度。表中哪兩地之間沒有時差？ (A)甲乙 (B)甲丁 (C)乙丙 (D)丙丁。

地區	甲	乙	丙	丁
經度	123°E	175°E	175°E	123°W
緯度	25°N	25°N	40°S	45°S

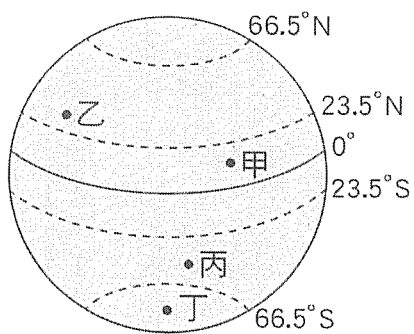
←表一



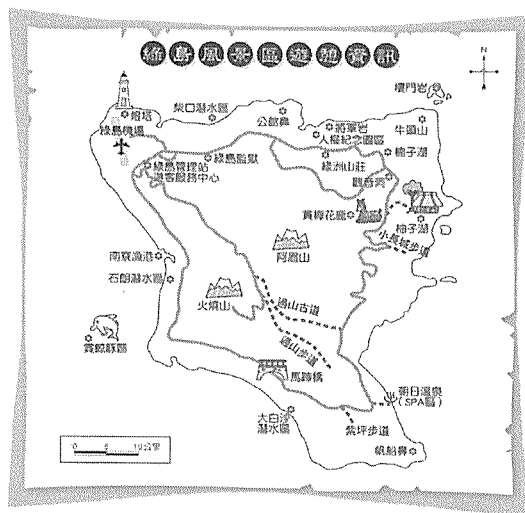
←圖五

17. () 鈺庭利用暑假去澎湖觀光，他計畫坐船直接向西行，以較短的航行時間抵達澎湖本島，從圖五中判斷，他會從哪一個縣市出發？ (A)臺中 (B)嘉義 (C)臺南 (D)臺北。

18. () 臺灣因為地理位置好，距離亞太地區各個重要都市，平均約 2.55 小時的航程就能到達，因此航空市場蓬勃發展。此榮景與下列何者最有關係？
 (A) 臺灣位於東北亞與東南亞的航線樞紐 (B) 臺灣位於溫帶與熱帶交界
 (C) 臺灣位於亞洲北方 (D) 臺灣位於太平洋。
19. () 臺灣目前總共有六個直轄市，請問下列何者不包含在內？
 (A) 臺北市 (B) 新北市 (C) 臺南市 (D) 臺東市。
20. () 關於附圖中甲~丁四地氣候特徵的敘述，下列何者正確？
 (A) 甲地溫度最低 (B) 乙地可以觀賞到熱帶的景觀
 (C) 丁地位處溫帶氣候帶 (D) 乙地與丙地的氣候帶是一樣的。



←圖六



←圖七

21. () 小霍利用寒假到綠島旅遊，他隨身攜帶了圖七這張地圖。請問：該地圖缺乏何項地圖要素？
 (A) 圖名 (B) 圖例 (C) 方向標 (D) 比例尺。
22. () 太陽直射範圍最北可達北緯幾度？ (A) 66.5 度 (B) 60 度 (C) 30 度 (D) 23.5 度。
23. () 近年引發臺灣、中國、日本主權之爭的釣魚臺列嶼，在行政上應隸屬於哪一縣管轄？
 (A) 屏東縣 (B) 花蓮縣 (C) 宜蘭縣 (D) 臺東縣。
24. () 下列敘述中何者是在說明「絕對位置」？
 (A) 颱風目前位置在東經 140°，北緯 8° (B) 阿正的位置在丁丁的右邊
 (C) 人才中學的對面是一間便利商店 (D) 校長站在所有學生前面。
25. () 冰河時期，因海平面下降使臺灣與中國相連，許多生物遷徙到臺灣，且更進一步演化成臺灣的特有種。請問：上文所述是指下列哪一個海域的海平面下降成為生物遷徙臺灣的陸橋？
 (A) 東海 (B) 印度洋 (C) 太平洋 (D) 臺灣海峽。

試題結束

高雄市立嘉興國民中學110學年度第一學期第一次段
考一年級地理科考查試卷答案

範圍：第一冊第一課~第二課

一、選擇：(每題答案4分，共100分)

1-5 A B C C C

6-10 B D D B D

11-15 B B A C D

16-20 C B A D D

21-25 B D C A D