

# 高雄市立嘉興國民中學109學年度第二學期二年級地理科第二次定期評量試題卷

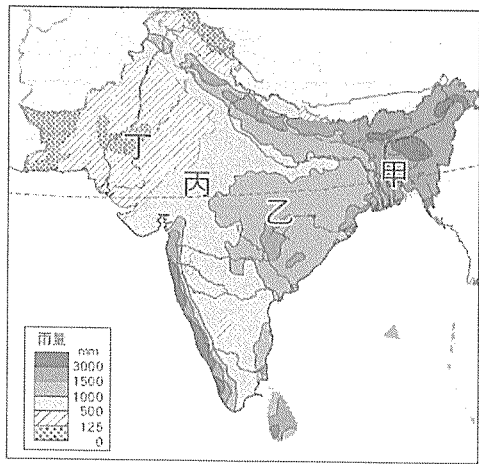
範圍：第四冊第三課~第四課

二年\_\_班 座號：\_\_\_\_\_ 姓名：\_\_\_\_\_

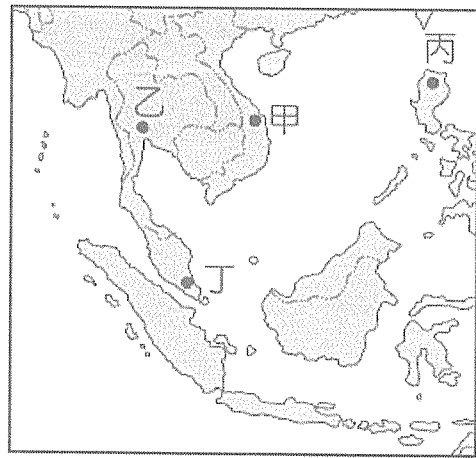
一、選擇：(每題4分，共100分)

※讀卡資料未填妥者扣五分。

- ( ) 下列有關南亞氣候特徵的敘述，何者不正確？  
(A)11月至次年2月盛行東北風，氣候乾燥涼爽 (B)3至5月天氣晴朗無風，全境乾熱  
(C)6至10月為一年之中最舒適的季節 (D)雨季盛行西南季風，洪澇災害頻繁。
- ( ) 印度半島被地理學家稱為「次大陸」，其原因為何？  
(A)形成年代次於大陸 (B)半島上的國家眾多 (C)氣候複雜與大陸相似 (D)地形阻隔自成範圍。
- ( ) 一般而言一地的經濟發展，一開始會以第一級產業為主，而後轉變成第二級產業，最後才會發展第三級產業。然而印度的經濟發展，一開始以第一級產業為主，接著跳過第二級產業直接發展第三級產業，如擔任國外企業之客服中心。請問：下列何者為印度發展第三級產業的重要優勢條件？  
(A)語言 (B)氣候 (C)地形 (D)宗教。
- ( ) 自十六世紀以來，西方殖民國家紛紛前往東南亞進行殖民、拓展經濟版圖；到了二十一世紀，東南亞當年的優勢條件已有所改變。下列選項是東南亞曾被西方國家視為優勢的條件，哪一項優勢對當前的臺灣企業來說，是最有利的條件？  
(A)熱帶經濟作物產地 (B)傳統稻作農業型態 (C)勞力工資相對便宜 (D)位於貿易樞紐位置。
- ( ) 專門經營印度旅遊的旅行社推出了獨特行程。「去沙漠不見得要去非洲，黃褐色的風景襯托出原色印度民族衣裳的鮮艷美麗色彩，還有許多駱駝的蹤影。」請問：該行程最有可能位於圖一中何處？  
(A)甲 (B)乙 (C)丙 (D)丁。



←圖一

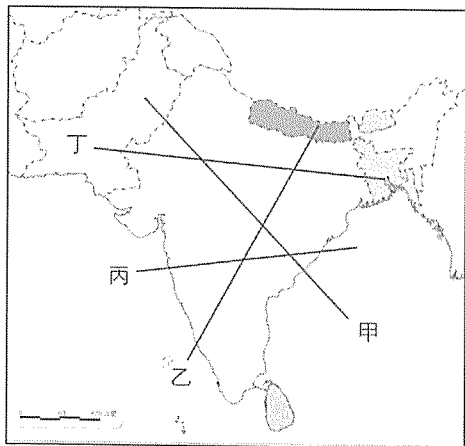


←圖二

- ( ) 「這個東南亞國家自古以來受到中國文化的熏陶及影響，連農曆新年都一同慶祝。除此之外，該國廟宇之中也常可見到用漢字書寫的文字。」文中提到的國家位在圖二中何處？  
(A)甲 (B)乙 (C)丙 (D)丁。
- ( ) 「美國的軟體公司接下訂單時，可在公司下班後，將設計工作交由遠在印度的分公司著手進行；而印度分公司於下班後，再將設計成果傳回美國公司，如此往返進行，便可在較少的工作天，完成產品的研發設計。」請問：美國軟體公司選擇在印度設立分公司的原因，不包括下列何者？  
(A)經度差距 (B)工資低廉 (C)緯度相近 (D)數理優勢。
- ( ) 印度擁有豐富的礦產，但卻因為長年限制外國資金進入，導致國內基礎設施不足，生產效能低落，工業化速度緩慢。請問：此一經濟發展狀況，導致印度社會產生何種現象？  
(A)貧窮人口眾多 (B)勞動人口不足 (C)佛教信仰為主 (D)茶葉生產量小。
- ( ) 進入二十一世紀後，東南亞各國以東南亞國家協會為基礎，進一步推動「東南亞自由貿易區(AFTA)」，其主要目標為何？  
(A)與歐洲聯盟分庭抗禮 (B)實現與美國貿易全面零關稅  
(C)達到區域內使用統一貨幣 (D)全面實現區域內自由貿易。

※背面尚有試題※

10. ( ) 東南亞包括中南半島與南洋群島，下列何者屬於中南半島與南洋群島的共同環境特色？  
 (甲)火山活動頻繁 (乙)終年高溫炎熱 (丙)降水集中夏季 (丁)地形崎嶇多山  
 (A)甲乙 (B)乙丙 (C)甲丙 (D)乙丁。
8. ( ) 印度在現今國際分工體系中的角色，主要是承包跨國企業的服務部門委外經營業務。請問：造成此一國際分工現象，主要是受惠於哪一項交通科技的進步？  
 (A)電動汽車 (B)超級貨輪 (C)網際網路 (D)郵政系統。
12. ( ) 中美貿易戰加上政府推動的新南向政策，臺灣對於東南亞、南亞的投資愈來愈多，然而臺商對印度的投資熱度一直不如東南亞國家。請問：若從「文化層面」來看，設廠在印度最可能會遇到什麼樣的挑戰？  
 (A)傳統階級制度導致員工不和諧 (B)供電不穩定致使作業停擺  
 (C)天氣炎熱難耐生鮮產品易腐敗 (D)中、印關係不佳易引發衝突。
13. ( ) 東南亞各國的區域結盟策略在對內整合的同時，也盡力對外拉攏合作夥伴，希冀透過推廣下列哪一項組織，以發展成全球人口規模最大的經濟體？  
 (A)東南亞國家協會(ASEAN) (B)東南亞自由貿易區(AFTA)  
 (C)世界貿易組織(WTO) (D)區域全面經濟夥伴協定(RECP)。
14. ( ) 下列關於南亞水文的敘述，何者正確？  
 (A)恆河為巴基斯坦重要的灌溉水源 (B)恆河最終流入阿拉伯海  
 (C)印度河位於印度半島西側 (D)印度河被視為印度教的「聖河」。
15. ( ) 圖三為印度半島簡圖。喬巴到印度半島旅遊，依序經過喜馬拉雅山、印度大平原、德干高原。請問：他走的是圖三中的哪一條路線？ (A)甲 (B)乙 (C)丙 (D)丁。



←圖三

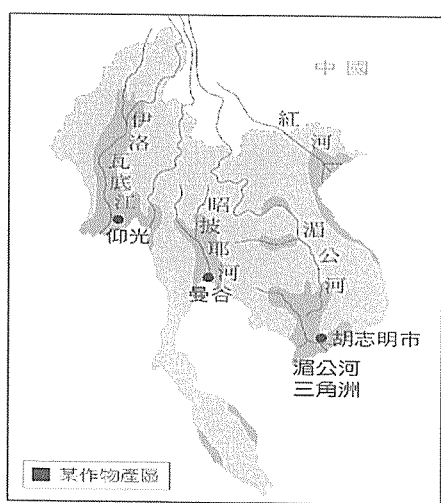


←圖四

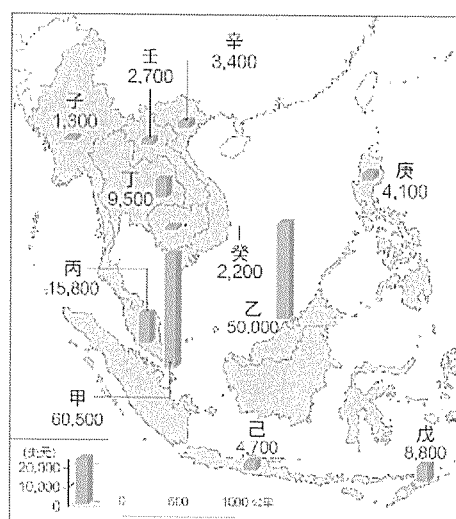
16. ( ) 圖四是網路上介紹某一區域型經濟組織的投影片片頭。請問：下列何者不是該組織的會員國？  
 (A)菲律賓 (B)新加坡 (C)柬埔寨 (D)東帝汶。
17. ( ) 關於東南亞位置的敘述，何者有誤？  
 (A)位於太平洋及印度洋之間 (B)位於非洲板塊、菲律賓海板塊及印澳板塊的交界  
 (C)位於中國及印度兩大古文明之間 (D)位於低緯度的熱帶氣候區。
18. ( ) 印度的電影工業發展十分蓬勃，除了「寶萊塢」之外，還有「康萊塢」、「塔萊塢」等電影拍攝基地，每年的電影生產量甚至超越美國好萊塢。影問：此與印度的何種優勢有關？  
 (A)普遍使用英語 (B)國民所得較低 (C)礦產資源豐富 (D)國內人口眾多。
19. ( ) 阿華在馬來西亞參加沙巴神山健行之旅，聽導遊介紹每年5~7月是多雨季節，神山公園可能會封閉登頂最後一段路，以防意外發生，因為一過正午就雷聲陣陣，雨點劈頭蓋臉的打下來，勢頭之猛讓人站不住腳。請問：當地這種降水型態是受到下列哪一個因素影響？  
 (A)日照強對流旺盛 (B)迎風坡攔截水氣 (C)滯留鋒盤據溼潤 (D)低氣壓生成颱風。

接第三頁試題

20. ( ) 西方列強殖民東南亞時，主要發展下列哪些產業？  
 (A) 漁業、林業 (B) 水稻農業、園藝業 (C) 酪農業、香料業 (D) 熱帶栽培業、採礦業。
21. ( ) 全球經濟的快速發展，使得各個國家紛紛加入區域經濟組織來擴大競爭力，這種作法主要是透過區域經濟組織的團結合作，帶來哪一項發展優勢？  
 (A) 減少運輸成本 (B) 增加原料供給 (C) 提高勞工技術 (D) 擴大市場規模。
22. ( ) 東南亞脫離西方殖民帝國統治後，仍以出口農、礦產品等原物料作為經濟發展的主力，但貿易利潤微薄，經濟發展陷入困境。請問：產生此現象的主要原因為何？(甲) 缺乏資金與技術，產量難以大幅提升 (乙) 礦產開發技術多操控在東南亞國家本身 (丙) 原物料價格受國際市場影響極大 (丁) 勞力薪資提升，成本提高 (A) 甲乙 (B) 甲丙 (C) 甲丁 (D) 丙丁。
23. ( ) 圖四中是亞洲某半島地區重要作物分布圖，小華若要前往該地區旅遊，最可能在當地欣賞到下列哪一種農田風光？  
 (A) 低垂的金黃麥穗 (B) 水田中翠綠稻秧 (C) 丘陵山區的茶園 (D) 漠地中的棉花田。



←圖四



←圖五

24. ( ) 圖五為西元 2011 年東南亞 11 個國家的平均國民所得比較圖，如果前往其中所得最低的國家，最可能觀察到下列哪一種現象？  
 (A) 牛隻漫步在高速公路的車道 (B) 到處可見到金碧輝煌的佛寺  
 (C) 天主教教堂為民眾活動中心 (D) 居民每日會向麥加方向朝拜。
25. ( ) 印度為解決國內貧窮問題，政府在經濟上積極發展什麼策略以求生路？  
 (A) 工廠外移至非洲 (B) 每個家庭都設小工廠 (C) 提升製造業的技術水準 (D) 廣設高科技園區。

試題結束

高雄市立嘉興國民中學109學年度第二學期第二次段  
考二年級地理科考查試卷答案

範圍：第四冊第三課~第四課

一、選擇：(每題答案4分，共100分)

1-5      C D A C D

6-10     A C A D D

11-15    C A D C B

16-20    D B D A D

21-25    D B B B C