

高雄市嘉興國民中學 109 學年度第二學期三年級地理科第一次定期評量試題卷

範圍：第六冊 L1~L2~2

班級：_____ 座號：_____ 姓名：_____

※1. 年級代號〔三〕 科目、組別代號不用畫；未填妥個人資料，扣 5 分 2. 請將答案清楚畫記在答案卡上。

一、單選題(每題4分)

() 1. 2020 年 3 月的一篇國際新聞報導指出：「非洲的象牙海岸與迦納把持全球可可超過六成產量，兩國在去年宣佈將合組『可可版的石油輸出國家組織』-卡特爾集團 Cartel，當地政府官員形容這個組織是『COPEC』，他們今年預定將啟動聯合漲價機制，將在全球巧克力產業掀起驚天動地的劇變。」可可交易商與經紀商表示，COPEC 聯合漲價的舉動堪稱是數十年來全球可可市場最大的變革，從最上游的可可豆農，到買巧克力棒的終端消費者都會受到影響，此一聯合漲價的行動料將推升棒棒糖、冰淇淋和蛋糕的成本。由上面的報導可以知道幾內亞灣附近的這兩個國家具有生產可可原料的優勢，並在今年即將以合作組織翻轉可可的獲利。下列有關該項作物生產方式的敘述，何者「錯誤」？

- (A) 可可的栽種屬於熱帶栽培業，是集約農業的一種
- (B) 與可可相似的該類型的作物大都是屬於市場導向的出口食品原料
- (C) 與可可同屬於熱帶栽培業作物也在中南美洲大量種植，因為過去都是被殖民的色彩濃厚
- (D) 該類型的農作方式都是長期透過焚林、栽種、休耕、遷徙的循環土地利用方式以維持土地地力。

() 2. 電影「在世界的中心呼喊愛情」，劇情最後男女主角來到澳洲的艾爾斯岩，在荒涼的沙漠中，希望能將男主角埋藏在心中多年的感情與遺憾釋放出來。



電影迷美美為追尋主角的足跡，一覽電影中讓人落淚的場景，決定到艾爾斯岩一探究竟。請問：她應到附圖中何處，才能看到電影中的景色？

- (A) 甲 (B) 乙 (C) 丙 (D) 丁。

() 3. 美國地質學會(the Geological Society of America)網站發表了多年的研究，尼羅河流域目前正在受下降的水位、上升的海平面還有海水倒灌所苦，而海岸線也有逐漸後退的趨勢。上述現象重創了尼羅河三角洲的糧食生產和淡水供應。過去尼羅河水量因為興建亞斯文高壩(Aswan High Dam)影響了水流和尼羅河三角洲肥沃的土壤分布。而位處上游的衣索比亞復興大壩(Grand Ethiopian Renaissance Dam)在 2017 年落成啟用，讓位於下游的尼羅河三角洲面臨大縮危機，

使尼羅河下游的水量更為稀少。隨著未來 50 年當地人口有可能翻倍，埃及在 2025 年前將嚴重缺乏淡水和糧食。根據上述內容，有關尼羅河近年來產生的危機，下列敘述何者正確？

- (A) 撒哈拉地區荒漠化加劇，使得河道泥沙淤積嚴重致使淹水
- (B) 上游的熱帶沙漠氣候是尼羅河流量不穩的主因
- (C) 下游日益嚴重的海水倒灌是因為超抽地下水致使地層下陷
- (D) 興建大壩攔水使用影響了尼羅河的定期氾濫，致使肥沃度下降和收成不足。

() 4. 大洋洲中有兩萬多個島嶼，早期許多島群都為列強的殖民地。請問：當時列強在此處建立殖民地的最主要原因為何？

- (A) 戰略位置重要 (B) 農牧產品豐富
- (C) 觀光發達 (D) 市場廣大。

() 5. 非洲地區在國際組織中具有相當的影響力，其主要原因最可能是下列何者？

- (A) 礦產資源多 (B) 農作產量高
- (C) 國家總數最多 (D) 人口成長率高。

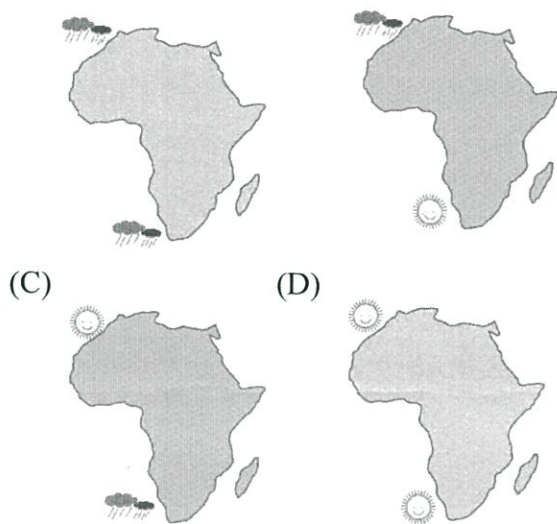
() 6. 2019 年 7 月，根據《半島電視台》報導：「剛果民主共和國伊圖利省爆發種族衝突：農耕的倫杜族勢力與游牧的赫瑪族從 6 月 10 日開始互相殘殺，讓齊塞克迪批評這場動亂非常殘忍，叛軍試圖藉此造成剛國政局不穩。兩族從 1999 年衝突至今爆發兩次內戰，共造成 6 萬人死亡、50 萬人流離失所。」根據上述內容，下列哪個敘述可以說明造成該現象的主因？

- (A) 非洲的飢荒嚴重，造成糧食短缺，進而產生跨國掠奪
- (B) 非洲的水資源不足，造成上游水權紛爭，產生國土糾紛
- (C) 非洲的傳染疾病延燒，彼此為了爭奪醫療資源和設備
- (D) 過去被殖民時代的土地是採取經緯度劃分，造成獨立後的種族、文化糾紛。

~請翻背面繼續作答~

- () 7. 澳大利亞叢林大火 (英語: Bushfires in Australia) 是澳大利亞炎熱乾燥季節頻繁發生的野外火災, 幾乎 每年都會發生。而 2019 年—2020 年澳洲叢林大火在 2019 年 9 月開始延燒, 截至年底已燒毀超過 500 公頃的森林面積, 嚴重影響澳洲生態, 並對當地物種造成毀滅性破壞, 包括無尾熊、袋鼠在內的各種動物大量被燒死。而「2020 年 1 月 6 日, 澳大利亞森林大火煙霧甚至漂洋過海到距離澳洲 1.2 萬多公里遠的智利和阿根廷。」請問這段話是受下列哪個因素影響而造成的現象?
 (A) 受西風吹拂夾帶 (B) 受東澳暖流影響
 (C) 受東南信風的輸送 (D) 副熱帶高氣壓沉降

- () 8. 非洲的氣候呈現南北對稱的特色, 其中溫帶地中海型氣候區由於氣候宜人, 成為主要的度假勝地。請問: 非洲在七月時, 其境內的溫帶地中海型氣候狀況, 下列何者最為正確?
 (A) (B)



- () 9. 查德共和國是非洲中部的一個內陸國家, 居民對於食物要求並不高, 目的僅是為了飽食一餐; 久久才能喝到的羊肉湯, 是重要的常民佳, 但是該國每年大約有上千萬人面臨飢荒威脅。該國出現飢荒的原因, 最可能包括下列哪些因素?
 (甲) 人口老化缺乏勞力 (乙) 乾燥氣候面積廣大
 (丙) 過度放牧環境惡化 (丁) 國家內部衝突不斷
 (A) 甲乙丙 (B) 甲乙丁 (C) 甲丙丁 (D) 乙丙丁。

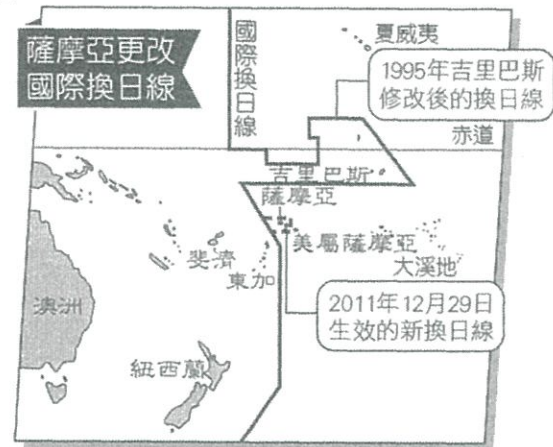
- () 10. 下圖為非洲各國於 2025 年的水資源匱乏預測圖, 其中北部、東部及南部非洲皆有相當重的用水危機。奈及利亞海岸往東南至盧安達以西之間的地區, 較無缺水或水緊的現象, 其原因最可能包括下列何者?



2025年缺水狀況
每人每年用水低於1,000立方公尺
2025年水緊狀況
每人每年用水介於1,000~1,700立方公尺

- (A) 境內多蓄水量較大的斷層湖
 (B) 游牧發達, 用水需求量較低
 (C) 尼羅河流經, 沿岸取水便利
 (D) 降水量豐穩, 可用水資源多。

- () 11. 詠婷由北半球的東京到澳洲雪梨過聖誕節與新年假, 她發現雪梨有許多和北半球不一樣的生活經驗, 例如: (甲) 夏季過聖誕節; (乙) 時間比倫敦快 10 個小時; (丙) 日夜時間和北半球顛倒; (丁) 抬頭望向夜空看不到北極星。上述舉例哪一項錯誤?
 (A) 甲 (B) 乙 (C) 丙 (D) 丁。
- () 12. 下圖為南太平洋島國薩摩亞更改國際換日線的示意圖, 根據圖中所示, 將造成下列哪種影響?



- (A) 季節從此顛倒 (B) 時間撥快一日
 (C) 成為北半球國度 (D) 不再隸屬大洋洲。

- () 13. 位於非洲的東非大裂谷號稱為地球臉上最長的傷疤, 面積相當廣大。請問: 該裂谷主要是因下列哪項地形作用力而形成?
 (A) 風化 (B) 堆積 (C) 冰河 (D) 斷層。
- () 14. 吐瓦魯為我國在大洋洲中的邦交國, 然而近年來面臨亡國危機, 頻頻向鄰近國家發出求救訊息。請問: 該國面臨亡國危機的原因與下列何者關係最大?
 (A) 土石流危害 (B) 海岸線後退
 (C) 地層下陷 (D) 颱風肆虐。

~請接下一頁~

- ()15.附圖為非洲東西向的地形剖面圖。圖中「甲」是非洲的最高峰，其名稱為何？



- (A)落磯山脈 (B)安地斯山脈
(C)阿爾卑斯山 (D)吉力馬札羅山。

二、題組題(每題4分)

※近年來，「working holiday(打工旅遊)」在臺灣是非常熱門的新興工作方式，只要持臺灣度假打工簽證到國外，可以一邊遊覽當地名勝、學習外語，一邊打工賺取生活費用，而澳洲經常是年輕人的首選，請回答下列問16~18題。

- ()16.「小羽」應徵了澳洲某地葡萄園的工作，工作時間為9月到隔年3月，工作內容為葡萄採摘、葡萄藤修剪等，工作期間雨季剛結束，氣候漸漸乾燥變熱，後來幾乎不下雨，讓小歲有些適應不良。」請問：小羽可能在附圖中哪個氣候帶工作？



- (A)乙 (B)丙 (C)丁 (D)戊。

- ()17.小羽一邊打工賺錢，一邊學習當地的官方語言，附圖為澳洲的國旗，根據國旗判斷該國的官方語言應為何者？

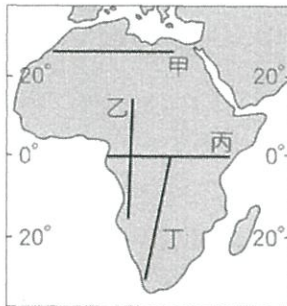


- (A)法語 (B)德語 (C)英語 (D)西班牙語。

- ()18.小羽利用假日前往首都坎培拉參加一年一度的春季花卉節，該活動有南半球最大型花卉節慶的美譽，活動內容包括一系列園藝工作坊、音樂與娛樂節目等。小羽拜訪當天也是臺灣某個重要節日。請問：小羽最有可能在臺灣的哪個節日前往坎培拉？

- (A)春節 (B)清明節 (C)中秋節 (D)聖誕節。

※附圖是非洲簡圖。來自臺灣的農技團前往非洲進行當地人文環境與農業發展的相關調查。請問19~20題：



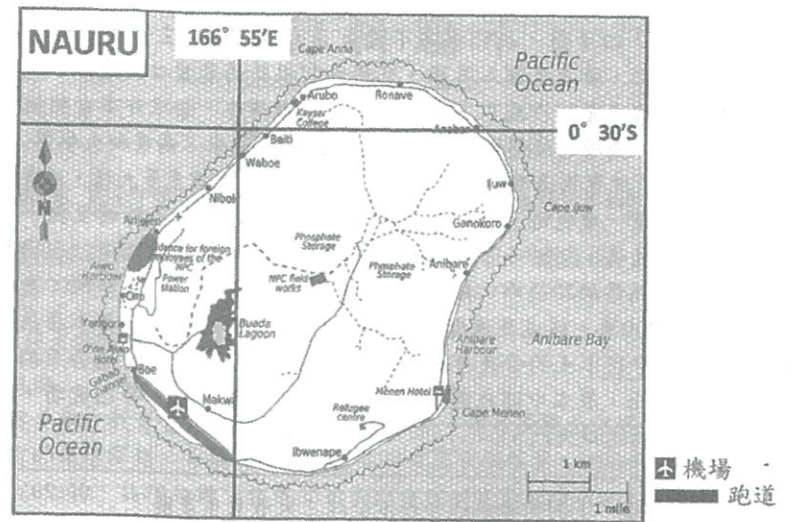
- ()19.若想體驗非洲多樣的氣候類型，應選擇圖中哪條考察路線？

- (A)甲 (B)乙 (C)丙 (D)丁。

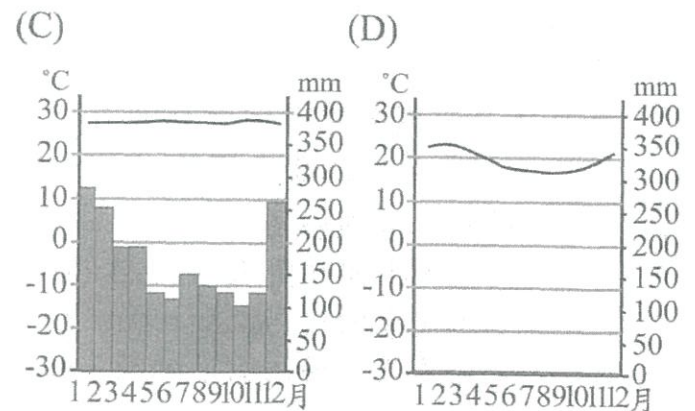
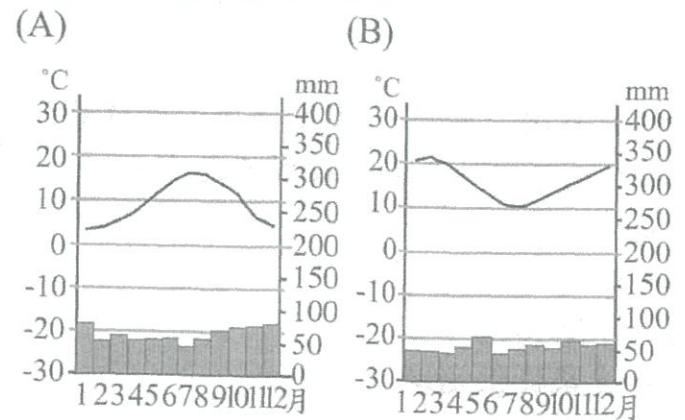
- ()20.非洲族群多元而複雜，沿著圖中哪條路線前進，沿途可見多為信奉伊斯蘭教的阿拉伯人？

- (A)甲 (B)乙 (C)丙 (D)丁。

※下圖為位於南太平洋密克羅尼西亞群島的臺灣邦交國—「諾魯共和國」簡圖，該國是世界最小的島國。請回答第21~22題。



- ()21.諾魯國際機場跑道約多少公里？
(A)1.1公里 (B)2.1公里
(C)3.1公里 (D)4.1公里
- ()22.該地的氣候圖類型最可能為下列何者？



※西元2013年12月，伊波拉病毒在西非引爆大流行，此乃伊波拉出血熱史上最嚴重的一次爆發，臨床致死率高達71%，根據世界衛生組織的統計，截至西元2015年7月30日，全世界已有11,295人死亡，主要集中在幾內亞灣沿岸三國：賴比瑞亞、獅子山及幾內亞(附圖深色處)，這三個國家以銷售礦產、熱帶栽培作物為國家主要收入。請回答23~25題：



~請翻背面繼續作答~

- ()23.幾內亞灣沿岸三國：賴比瑞亞、獅子山及幾內亞，所種植的熱帶栽培業作物最可能為下列何者？
- (A)棉花、花生 (B)咖啡、可可
(C)柑橘、葡萄 (D)大豆、玉米。
- ()24.下列何者並「非」伊波拉病毒在非洲快速傳播的原因？
- (A)居民普遍貧窮
(B)傳統部落巫醫信仰
(C)當地醫療醫源缺乏
(D)過度開發造成生態破壞。
- ()25.伊波拉病毒因其高致死率令人聞之色變，第一次爆發流行是西元 1976 年時發生在非洲剛果，造成 281 起死亡。與西元 1976 年的疫情相較，西元 2014 年爆發的伊波拉疫情傳播速度更快、範圍更廣。請問：該現象與下列哪項原因最相關？
- (A)交通運輸進步，國際交流頻繁
(B)種族隔離政策延緩就醫
(C)非洲醫療資源較從前落後
(D)部落社會拒絕西方醫療。

~作答結束~

高雄市嘉興國民中學 109 學年度第二學期三年級地理科第一次定期評量試題卷

範圍：第六冊 L1~L2~2

班級：_____ 座號：_____ 姓名：_____

※1. 年級代號〔三〕 科目、組別代號不用畫；未填妥個人資料，扣 5 分 2. 請將答案清楚畫記在答案卡上。

一、單選題(每題4分)

(D) 1. 2020 年 3 月的一篇國際新聞報導指出：「非洲的象牙海岸與迦納把持全球可可超過六成產量，兩國在 去年宣佈將合組『可可版的石油輸出國家組織』-卡特爾集團 Cartel，當地政府官員形容這個組織是『COPEC』，他們今年預定將啟動聯合漲價機制，將在全球巧克力產業掀起驚天動地的劇變。」可可交易商與經紀商表示，COPEC 聯合漲價的舉動堪稱是數十年來全球可可市場最大的變革，從最上游的可可豆農，到買巧克力棒的終端消費者都會受到影響，此一聯合漲價的行動料將推升棒棒糖、冰淇淋和蛋糕的成本。由上面的報導可以知道幾內亞灣附近的這兩個國家具有生產可可原料的優勢，並在今年即將以合作組織翻轉可可的獲利。下列有關該項作物生產方式的敘述，何者「錯誤」？

- (A) 可可的栽種屬於熱帶栽培業，是集約農業的一種
- (B) 與可可相似的該類型的作物大都是屬於市場導向的出口食品原料
- (C) 與可可同屬於熱帶栽培業作物也在中南美洲大量種植，因為過去都是被殖民的色彩濃厚
- (D) 該類型的農作方式都是長期透過焚林、栽種、休耕、遷徙的循環土地利用方式以維持土地地力。

(C) 2. 電影「在世界的中心呼喊愛情」，劇情最後男女主角來到澳洲的艾爾斯岩，在荒涼的沙漠中，希望能將男主角埋藏在心中多年的感情與遺憾釋放出來。電影迷美美為追尋主角的足跡，一覽電影中讓人落淚的場景，決定到艾爾斯岩一探究竟。請問：她應到附圖中何處，才能看到電影中的景色？



- (A) 甲 (B) 乙 (C) 丙 (D) 丁。

(D) 3. 美國地質學會(the Geological Society of America)網站發表了多年的研究，尼羅河流域目前正在受下降的水位、上升的海平面還有海水倒灌所苦，而海岸線也有逐漸後退的趨勢。上述現象重創了尼羅河三角洲的糧食生產和淡水供應。過去尼羅河水量因為興建亞斯文高壩(Aswan High Dam)影響了水流和尼羅河三角洲肥沃的土壤分布。而位處上游的衣索比亞復興大壩(Grand Ethiopian Renaissance Dam)在 2017 年落成啟用，讓位於下游的尼羅河三角洲面臨大縮危機，

使尼羅河下游的水量更為稀少。隨著未來 50 年當地人口有可能翻倍，埃及在 2025 年前將嚴重缺乏淡水和糧食。根據上述內容，有關尼羅河近年來產生的危機，下列敘述何者正確？

- (A) 撒哈拉地區荒漠化加劇，使得河道泥沙淤積嚴重致使淹水
- (B) 上游的熱帶沙漠氣候是尼羅河流量不穩的主因
- (C) 下游日益嚴重的海水倒灌是因為超抽地下水致使地層下陷
- (D) 興建大壩攔水使用影響了尼羅河的定期氾濫，致使肥沃度下降和收成不足。

(A) 4. 大洋洲中有兩萬多個島嶼，早期許多島群都為列強的殖民地。請問：當時列強在此處建立殖民地的最主要原因為何？

- (A) 戰略位置重要 (B) 農牧產品豐富
- (C) 觀光發達 (D) 市場廣大。

(C) 5. 非洲地區在國際組織中具有相當的影響力，其主要原因最可能是下列何者？

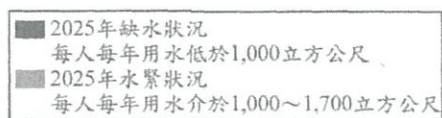
- (A) 礦產資源多 (B) 農作產量高
- (C) 國家總數最多 (D) 人口成長率高。

(D) 6. 2019 年 7 月，根據《半島電視台》報導：「剛果民主共和國伊圖利省爆發種族衝突：農耕的倫杜族勢力與游牧的赫瑪族從 6 月 10 日開始互相殘殺，讓齊塞克迪批評這場動亂非常殘忍，叛軍試圖藉此造成剛國政局不穩。兩族從 1999 年衝突至今爆發兩次內戰，共造成 6 萬人死亡、50 萬人流離失所。」根據上述內容，下列哪個敘述可以說明造成該現象的主因？

- (A) 非洲的飢荒嚴重，造成糧食短缺，進而產生跨國掠奪
- (B) 非洲的水資源不足，造成上游水權紛爭，產生國土糾紛
- (C) 非洲的傳染疾病延燒，彼此為了爭奪醫療資源和設備
- (D) 過去被殖民時代的土地是採取經緯度劃分，造成獨立後的種族、文化糾紛。

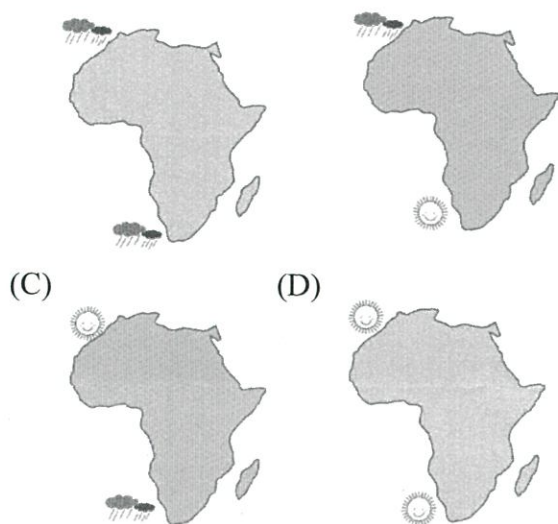
~請翻背面繼續作答~

- (A) 7. 澳大利亞叢林大火 (英語: Bushfires in Australia) 是澳大利亞炎熱乾燥季節頻繁發生的野外火災, 幾乎每年都會發生。而 2019 年—2020 年澳洲叢林大火在 2019 年 9 月開始延燒, 截至年底已燒毀超過 500 公頃的森林面積, 嚴重影響澳洲生態, 並對當地物種造成毀滅性破壞, 包括無尾熊、袋鼠在內的各種動物大量被燒死。而「2020 年 1 月 6 日, 澳大利亞森林大火煙霧甚至漂洋過海到距離澳洲 1.2 萬多公里遠的智利和阿根廷。」請問這段話是受下列哪個因素影響而造成的現象?
- (A) 受西風吹拂夾帶 (B) 受東澳暖流影響
(C) 受東南信風的輸送 (D) 副熱帶高氣壓沉降



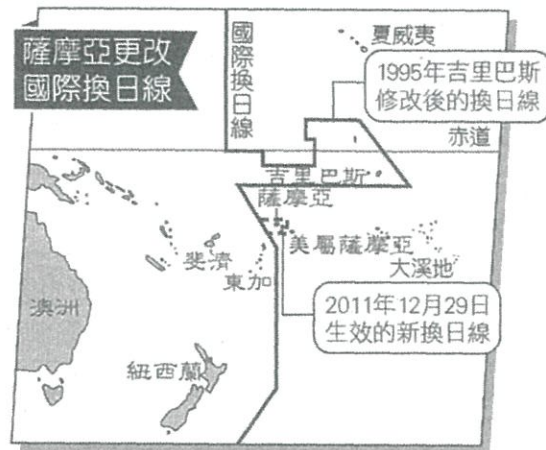
- (A) 境內多蓄水量較大的斷層湖
(B) 游牧發達, 用水需求量較低
(C) 尼羅河流經, 沿岸取水便利
(D) 降水量豐穩, 可用水資源多。

- (C) 8. 非洲的氣候呈現南北對稱的特色, 其中溫帶地中海型氣候區由於氣候宜人, 成為主要的度假勝地。請問: 非洲在七月時, 其境內的溫帶地中海型氣候狀況, 下列何者最為正確?
- (A) (B)



- (C) 11. 詠婷由北半球的東京到澳洲雪梨過聖誕節與新年假, 她發現雪梨有許多和北半球不一樣的生活經驗, 例如: (甲) 夏季過聖誕節; (乙) 時間比倫敦快 10 個小時; (丙) 日夜時間和北半球顛倒; (丁) 抬頭望向夜空看不到北極星。上述舉例哪一項錯誤?
- (A) 甲 (B) 乙 (C) 丙 (D) 丁。

- (B) 12. 下圖為南太平洋島國薩摩亞更改國際換日線的示意圖, 根據圖中所示, 將造成下列哪種影響?



- (A) 季節從此顛倒 (B) 時間撥快一日
(C) 成為北半球國度 (D) 不再隸屬大洋洲。

- (D) 9. 查德共和國是非洲中部的一個內陸國家, 居民對於食物要求並不高, 目的僅是為了飽食一餐; 久久才能喝到的羊肉湯, 是重要的常民佳, 但是該國每年大約有上千萬人面臨飢荒威脅。該國出現飢荒的原因, 最可能包括下列哪些因素?
- (甲) 人口老化缺乏勞力 (乙) 乾燥氣候面積廣大
(丙) 過度放牧環境惡化 (丁) 國家內部衝突不斷
- (A) 甲乙丙 (B) 甲乙丁 (C) 甲丙丁 (D) 乙丙丁。

- (D) 13. 位於非洲的東非大裂谷號稱為地球臉上的最長的傷疤, 面積相當廣大。請問: 該裂谷主要是因下列哪項地形作用力而形成?
- (A) 風化 (B) 堆積 (C) 冰河 (D) 斷層。

- (D) 10. 下圖為非洲各國於 2025 年的水資源匱乏預測圖, 其中北部、東部及南部非洲皆有相當重的用水危機。奈及利亞海岸往東南至盧安達以西之間的地區, 較無缺水或水緊的現象, 其原因最可能包括下列何者?

- (B) 14. 吐瓦魯為我國在大洋洲中的邦交國, 然而近年來面臨亡國危機, 頻頻向鄰近國家發出求救訊息。請問: 該國面臨亡國危機的原因與下列何者關係最大?
- (A) 土石流危害 (B) 海岸線後退
(C) 地層下陷 (D) 颱風肆虐。

~請接下一頁~

(D) 15. 附圖為非洲東西向的地形剖面圖。圖中「甲」是非洲的最高峰，其名稱為何？



- (A) 落磯山脈 (B) 安地斯山脈
(C) 阿爾卑斯山 (D) 吉力馬札羅山。

二、題組題(每題 4 分)

※近年來，「working holiday(打工旅遊)」在臺灣是非常熱門的新興工作方式，只要持臺灣度假打工簽證到國外，可以一邊遊覽當地名勝、學習外語，一邊打工賺取生活費用，而澳洲經常是年輕人的首選，請回答下列問 16~18 題。

(D) 16. 「小羽應徵了澳洲某地葡萄園的工作，工作時間為 9 月到隔年 3 月，工作內容為葡萄採摘、葡萄藤修剪等，工作期間雨季剛結束，氣候漸漸乾燥變熱，後來幾乎不下雨，讓小歲有些適應不良。」請問：小羽可能在附圖中哪個氣候帶工作？



- (A) 乙 (B) 丙 (C) 丁 (D) 戊。

(C) 17. 小羽一邊打工賺錢，一邊學習當地的官方語言，附圖為澳洲的國旗，根據國旗判斷該國的官方語言應為何者？

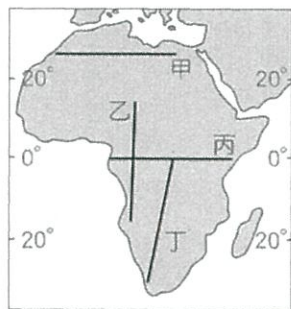


- (A) 法語 (B) 德語 (C) 英語 (D) 西班牙語。

(C) 18. 小羽利用假日前往首都坎培拉參加一年一度的春季花卉節，該活動有南半球最大型花卉節慶的美譽，活動內容包括一系列園藝工作坊、音樂與娛樂節目等。小羽拜訪當天也是臺灣某個重要節日。請問：小羽最有可能在臺灣的哪個節日前往坎培拉？

- (A) 春節 (B) 清明節 (C) 中秋節 (D) 聖誕節。

※附圖是非洲簡圖。來自臺灣的農技團前往非洲進行當地人文環境與農業發展的相關調查。請問 19~20 題：



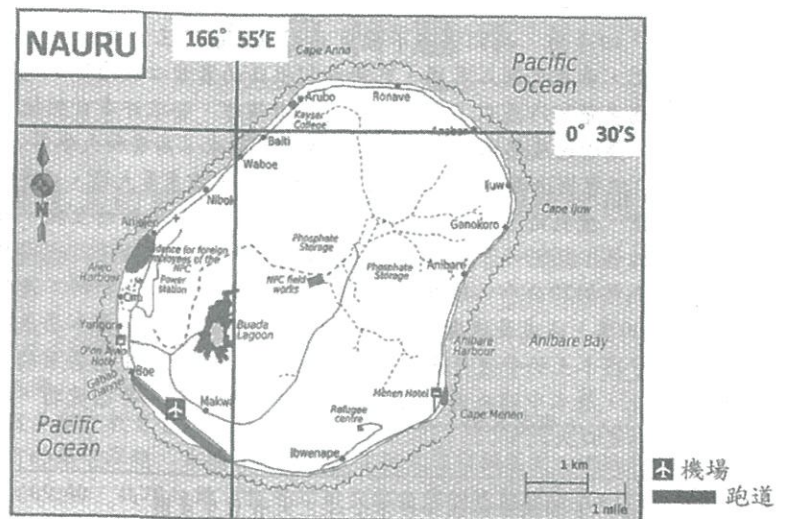
(D) 19. 若想體驗非洲多樣的氣候類型，應選擇圖中哪條考察路線？

- (A) 甲 (B) 乙 (C) 丙 (D) 丁。

(A) 20. 非洲族群多元而複雜，沿著圖中哪條路線前進，沿途可見多為信奉伊斯蘭教的阿拉伯人？

- (A) 甲 (B) 乙 (C) 丙 (D) 丁。

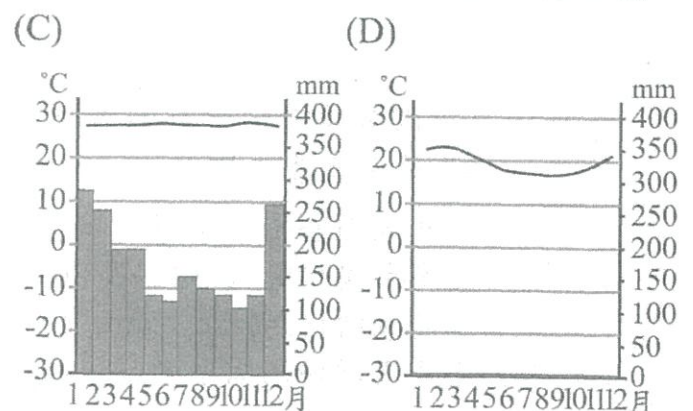
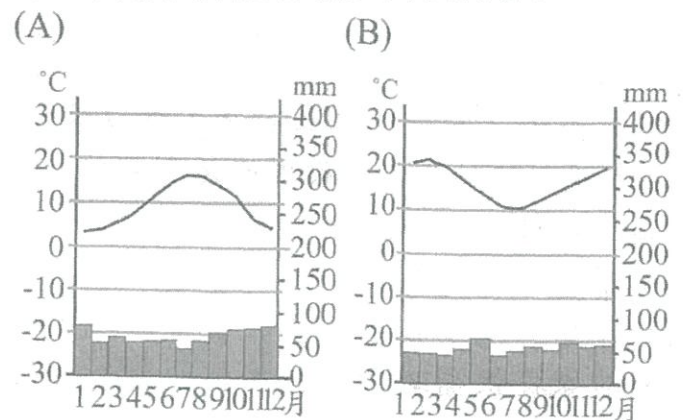
※下圖為位於南太平洋 密克羅尼西亞群島的臺灣邦交國—「諾魯共和國」簡圖，該國是世界最小的島國。請回答第 21~22 題。



(B) 21. 諾魯國際機場跑道約多少公里？

- (A) 1.1 公里 (B) 2.1 公里
(C) 3.1 公里 (D) 4.1 公里

(C) 22. 該地的氣候圖類型最可能為下列何者？



※西元 2013 年 12 月，伊波拉病毒在西非引爆大流行，此乃伊波拉出血熱史上最嚴重的一次爆發，臨床致死率高達 71%，根據世界衛生組織的統計，截至西元 2015 年 7 月 30 日，全世界已有 11,295 人死亡，主要集中在幾內亞灣沿岸三國：賴比瑞亞、獅子山及幾內亞(附圖深色處)，這三個國家以銷售礦產、熱帶栽培作物為國家主要收入。請回答 23~25 題：



~請翻背面繼續作答~

- (B) 23. 幾內亞灣沿岸三國：賴比瑞亞、獅子山及幾內亞，所種植的熱帶栽培業作物最可能為下列何者？
(A)棉花、花生 (B)咖啡、可可
(C)柑橘、葡萄 (D)大豆、玉米。
- (D) 24. 下列何者並「非」伊波拉病毒在非洲快速傳播的原因？
(A)居民普遍貧窮
(B)傳統部落巫醫信仰
(C)當地醫療醫源缺乏
(D)過度開發造成生態破壞。
- (A) 25. 伊波拉病毒因其高致死率令人聞之色變，第一次爆發流行是西元 1976 年時發生在非洲剛果，造成 281 起死亡。與西元 1976 年的疫情相較，西元 2014 年爆發的伊波拉疫情傳播速度更快、範圍更廣。請問：該現象與下列哪項原因最相關？
(A)交通運輸進步，國際交流頻繁
(B)種族隔離政策延緩就醫
(C)非洲醫療資源較從前落後
(D)部落社會拒絕西方醫療。

~作答結束~