

# 高雄市立嘉興國民中學109學年度第二學期一年級地理科第一次定期評量試題卷

範圍：第二冊第一課~第二課

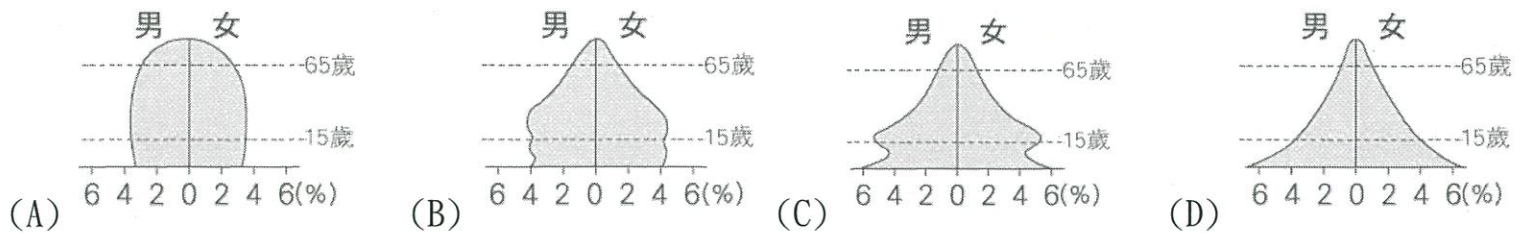
一年\_\_班 座號：\_\_\_\_\_ 姓名：\_\_\_\_\_

一、選擇：(每題4分，共100分)

※讀卡資料未填妥者扣五分。

1. ( ) 下列關於臺灣人口成長的描述，正確的有幾項？(甲)民國100年之後臺灣社會增加率略提升，是因為軍籍併入戶籍 (乙)臺灣的人口增加率與自然增加率幾近同步變化 (丙)目前臺灣的死亡率與出生率非常接近 (丁)現階段臺灣處於人口總數成長快速的時期  
(A)甲乙 (B)乙丙 (C)丙丁 (D)甲丁。

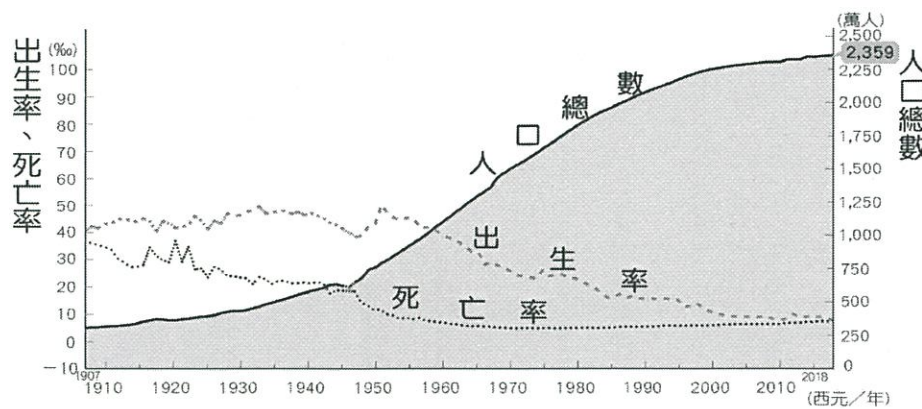
2. ( ) 老人年金的給付是福利國家重要的社會福利之一。由下列四個國家的人口金字塔判斷，何國最具有實施該項政策的能力，且最具迫切性？



3. ( ) 臺北市士林區日前舉辦中文識字班，課程內容以中文教學及臺灣節慶、飲食、文化習俗介紹等生活課程為主，希望協助學員能迅速融入本地社會，進而與鄰里社區產生良好互動。下列何者最有可能是參加此課程的學員？ (A)原住民 (B)學齡前幼兒 (C)銀髮族 (D)新住民。

4. ( ) 多多國是個袖珍的小國，面積只有20平方公里，島上的人口也只有4萬人。若小多要幫多多國繪製一張人口密度圖，以一個人形符號代表100人，則1平方公里的圖上，應該要畫出幾個人？  
(A)10人 (B)15人 (C)20人 (D)25人。

5. ( ) 圖一為臺灣人口成長變化圖，有關西元1990年之後的人口成長特徵與政策，正確敘述共有幾項？(甲)實施「三三二一」政策，出生率降低；(乙)「兩個孩子很幸福，三個孩子更熱鬧」，鼓勵生育；(丙)死亡率開始降低；(丁)人口成長快速恐抵銷經濟成果；(戊)人口成長緩慢，漸趨停滯。  
(A)乙戊 (B)甲丙 (C)丁戊 (D)乙丁。



圖一

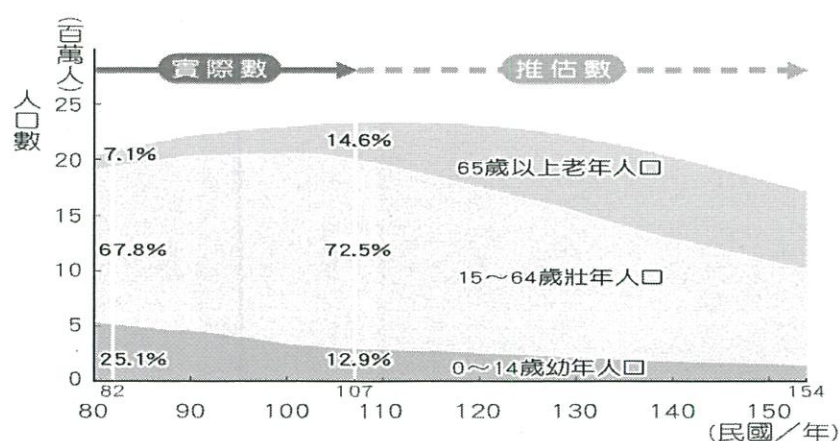
國家	0~14歲	15~64歲	65歲以上
甲國	37%	61%	2%
乙國	32%	62%	6%
丙國	21%	71%	8%
丁國	18%	69%	13%

表一

6. ( ) 表一為四個國家的人口年齡結構表。表中有幾個國家已經進入高齡化社會？  
(A)4個 (B)3個 (C)2個 (D)1個。
7. ( ) 影響人口遷移的因素包含「拉力」和「推力」，請問以下哪些屬於「拉力」？(甲)中國北京霧霾問題嚴重，空氣品質長期不佳 (乙)印度邦加羅爾科技園區擴大徵才，待遇優渥 (丙)美國紐約曼哈頓早期居住品質低，犯罪率高 (丁)西班牙居地中海沿岸，氣候宜人，環境優美  
(A)甲乙 (B)甲丁 (C)乙丙 (D)乙丁。
8. ( ) 由於位置上的鄰近性及語言文化相近，臺灣的外籍配偶中以哪些國家的比例較高？  
(A)日本、南韓 (B)美國、加拿大 (C)新加坡、馬來西亞 (D)中國、越南。

※背面尚有試題

9. ( ) 新加坡國土面積僅約 1/3 個新北市大，人口卻比新北市多了 160 萬人，由此可知下列的推論何者正確？  
 (A) 新加坡的自然增加率大於新北市 (B) 新加坡每人擁有的生活空間較大  
 (C) 新加坡的人口密度較新北市高 (D) 新加坡的社會增加率小於新北市。
10. ( ) 「自一九九〇年代開始，日本的公立學校出現停辦現象，西元 2011 年甚至有高達 474 所學校關閉，此一人口問題至今仍無有效的解決對策。」請問：上述日本的人口問題與下列何者最為相關？  
 (A) 出生率下降 (B) 死亡率下降 (C) 移入率上升 (D) 移出率上升。
11. ( ) 「敘利亞自西元 2011 年爆發內戰至今，在無情炮火摧殘下，不僅歷史遺跡遭受破壞，無辜的平民更是死傷無數。烽火連天的情勢迫使一批又一批的難民紛紛逃離家園，遠渡重洋至鄰近的歐洲。」請問：此波難民潮最可能造成接受難民國家的人口產生下列何種變化？  
 (A) 出生率下降 (B) 死亡率下降 (C) 自然增加率上升 (D) 社會增加率上升。
12. ( ) 臺灣的族群相當多元，文化也各有特色。我們在面對如此多元的文化，應抱持著何種態度？  
 (A) 井水不犯河水，不要求其他族群了解自身族群的文化，自己也不需去了解其他族群的文化  
 (B) 面對如此多元的文化特色，應抱持著尊重與多元並蓄的胸懷，也去理解其他族群文化內容  
 (C) 在不同的族群當中，必有強勢族群與弱勢族群，這是必然的也不需太在意弱勢群族的處境  
 (D) 雖然國際移工對臺灣的貢獻良多，但因他們踏上臺灣的時間未達百年，算不上臺灣的族群。
13. ( ) 某地某年的人口統計資料，顯示其出生率為 13‰，死亡率為 5‰，社會增加率為 -9‰，則該年該地的人口總數變化為何？ (A) 增加 (B) 減少 (C) 不變 (D) 無法判斷。
14. ( ) 長久以來，華人社會普遍有重男輕女的觀念，生男偏好導致性別嚴重失衡，但隨著時空背景的改變，對於生育的觀念已不若以往，尤其在臺灣，生男生女已邁向順其自然，加上男性死亡率較女性高，以及女性外籍配偶人數增加的因素影響，目前女性人口稍多於男性。請問：臺灣現在的性別比可能是多少？ (A) 120 (B) 128 (C) 98.6 (D) 100.2。
15. ( ) 圖二為臺灣人口年齡組成變化圖，根據圖中資訊判斷，下列說明何者錯誤？  
 (A) 出生率愈來愈低 (B) 民國 107 年以前，扶養比愈來愈高  
 (C) 老年人口比例愈來愈高 (D) 人口金字塔往人口縮減型態發展。



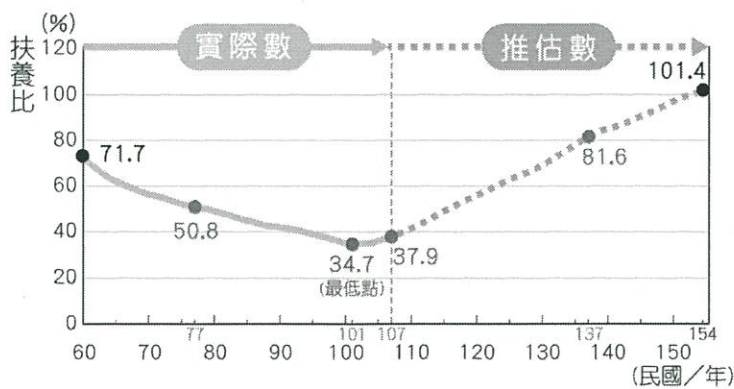
圖二

	人口總數 (萬人)	扶養比 (%)	性別比	識字率 (%)
甲國	5,250	55	112	72
乙國	10,400	69	101	81
丙國	8,250	41	99	98
丁國	35,400	33	120	52

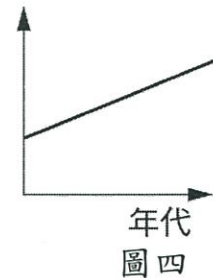
表二

16. ( ) 有一句話出自《英烈傳·第七十一回》：「兵在精而不在多」，書中雖用來形容戰爭的士兵素質，但用以形容人口素質也非常貼切。表二是四個國家的人口資料，請問哪一個國家的人口素質最高？  
 (A) 甲 (B) 乙 (C) 丙 (D) 丁。
17. ( ) 「世界人口綜述」近日公布西元 2019 年版的各國出生率排名報告，臺灣平均每個婦女僅生下 1.218 個孩子，在 200 個國家中墊底。請問：上述現象如再持續下去，未來最可能發生何種結果？  
 (A) 缺乏本地勞工 (B) 教育品質下降 (C) 自然資源匱乏 (D) 社會治安敗壞。

18. ( ) 臺灣手機市場中，有以「大按鍵、大音量、功能簡單」作為訴求的市場區隔。請問：此種市場區隔主要反映現今臺灣的哪項人口特徵？  
 (A)幼年人口比例下降 (B)壯年人口比例下降 (C)老年人口比例增加 (D)國際移工人數增加。
19. ( ) 臺灣近代以來，人口持續進行擴張及遷移，大致為由中國移往臺灣、臺灣南部移往臺灣北部、臺灣西部移往東部。請問：上述臺灣人口移動最有可能受到何種因素的影響？(甲)地理位置 (乙)地形 (丙)氣候 (丁)開發時間  
 (A)甲乙丙 (B)甲乙丁 (C)甲丙丁 (D)乙丙丁。
20. ( ) 有「超人醫生」之稱的徐超斌醫師多年為了籌備「南迴醫院」而努力，希望讓偏鄉地區的居民也能在最短的時間內獲得完善救治。臺東縣太麻里、金峰、大武及達仁等四個鄉鎮中，都只有衛生所等級的醫療資源，若是民眾遇到重大事故，往往需要送到距離比較遠的臺東市或是屏東，甚至高雄。正因如此，這些地方的居民為了尋求醫療資源，往往搬到鄰近大都市居住，相信南迴醫院若順利落成，可有助於人口回流。請問：關於上述資料的敘述，下列何者正確？  
 (A)沒有醫療資源是都市的推力 (B)沒有醫療資源是鄉村的拉力  
 (C)興建南迴醫院可減少都市的推力 (D)興建南迴醫院可減少鄉村的推力。
21. ( ) 若前往義大利的山頂小鎮、日本的沖繩島，或是佛羅里達州的任何一座城鎮度假，你會發現老年人出現在生活當中的比例特別高。原來的婦產科醫院、親子遊樂中心被退休之家或保健診所取代。請問：以上現象可由下列何數據看出？(A)社會增加率 (B)人口密度 (C)扶養比 (D)平均壽命。
22. ( ) 香香：「我是一名來自東南亞的新住民女性，十幾年前嫁到臺灣來，目前跟先生育有一子一女，丈夫和我一起工作擔起家庭的經濟重任。」瑤瑤：「我父親是日本人，但我媽是臺灣人，我也自認是新臺灣之子。而我現在從南投縣移居到臺北市唸大學，未來打算要返鄉貢獻所學！」請問：根據香香跟瑤瑤的說法，有關遷移類型的配對下列何者正確？  
 (A)香香—國內永久遷移；瑤瑤—國內暫時遷移 (B)香香—國內永久遷移；瑤瑤—國際暫時遷移  
 (C)香香—國際永久遷移；瑤瑤—國內暫時遷移 (D)香香—國際永久遷移；瑤瑤—國際暫時遷移。
23. ( ) 「人口紅利，係指由於國家的勞動人口占全國人口的比例持續上升，伴隨著經濟成長的效應。」由以上敘述及圖三內容判斷，下列哪一個年代中的人口紅利為四者中最高峰？  
 (A)民國六十年代 (B)民國九十年代 (C)民國一百三十年代 (D)民國一百五十年代。



圖三



24. ( ) 圖四是某政府統計機構所繪製的某趨勢曲線圖。請問這份統計主題可能為何？  
 (A)臺灣歷年平均壽命 (B)臺灣生育率變化 (C)臺灣人口性別比趨勢 (D)臺灣人口自然增加率。
25. ( ) 民國 107 年，臺灣的出生率約為 7.7%，這個數字所代表的意義為何？  
 (A)每 10 人中有 7.7 個人出生 (B)每 100 人中有 7.7 個人出生  
 (C)每 1000 人中有 7.7 個人出生 (D)每 10000 人中有 7.7 個人出生。

高雄市立嘉興國民中學109學年度第二學期第一次段  
考一年級地理科考查試卷答案

範圍：第二冊第一課~第二課

一、選擇：(每題答案4分，共100分)

1-5      B A D C A

6-10     C D D C A

11-15    D B B C B

16-20    C A C B D

21-25    D C B A C