

高雄市嘉興國民中學 109 學年度第一學期三年級地理科第三次定期評量試題卷

範圍：第五冊 L4-3~L6

班級：_____ 座號：_____ 姓名：_____

※1. 年級代號〔三〕 科目、組別代號不用畫；未填妥個人資料，扣 5 分 2. 請將答案清楚畫記在答案卡上。

一、單選題(每題4分)

() 1. 乘坐西伯利亞鐵路的列車自莫斯科到海參崴，最快也需要7個晝夜才能到。請問：這和下列哪項地理環境因素最相關？

- (A)盛行風影響 (B)地形崎嶇阻擋
(C)所跨緯度範圍大 (D)所跨經度範圍大

() 2. 少沂參加永中校慶闖關活動，抽中「美洲地理的世界之最」，下表為其作答情形，他答對了幾題？

題號	題目內容	答案
1	陸地上最長的山脈	安地斯山
2	高度最高的高原	巴西高原
3	國土長度最長的國家	阿根廷
4	世界最大的熱帶雨林區	亞馬孫盆地
5	石油產量最多的國家	委內瑞拉
6	世界上面積最大的國家	加拿大

(A)2 題 (B)3 題 (C)4 題 (D)5 題

() 3. 翊家喜歡玩猜謎遊戲，下表為拉丁美洲某個國家的提示，若要加入第五項的話請問可以選擇何者？

提示 1. 金磚五國之一
提示 2. 有豐富的鐵礦
提示 3. 嘉年華森巴舞
提示 4. 足球 high 翻天
提示 5. ?

- (A)首都為世界金融中心，動向牽動全球經濟
(B)是北美自由貿易協定成員，有「白銀王國」之稱
(C)為世界最狹長的國家
(D)以葡萄牙語為主要語言。

() 4. 下圖為一面加拿大國旗，中間白底表示緯度高、積雪日長；中間紅色楓樹葉代表加國人民；兩側長方形表示領土兩側的海洋。請問左側區塊應代表哪一海洋？



- (A)太平洋 (B)大西洋
(C)印度洋 (D)北極海。

() 5. 圖中國家為厄瓜多，赤道橫貫了它的國境，所以西班牙文中以赤道 (ecuador) 作為國名，因此該國又擁有「赤道國」的別稱，該國的首都基多位於皮欽查火山的山麓，海拔高達2,850公尺，使該市成為全世界第二高的首都



(僅次於玻利維亞首都拉巴斯3,829公尺) 請問高海拔首都考慮的主因為何？

- (A)礦產 (B)氣溫 (C)交通 (D)水源

() 6. 美國加州的葡萄酒相當有名，柑橘也是當地的特產，宥瑄一家人便選擇夏季時前往豔陽高照的加州度假。請問：宥瑄度假的地區位於附圖中何處？



(A)己 (B)庚 (C)辛 (D)壬。

() 7. 「違建」的貧民區幾乎成了中南美洲都市的特殊景觀，並且隨著都市擴張而不斷增加當中。造成中南美洲這種現象的主要因素為下列何者？

- (A)都市空間有限，缺乏住宅用地
(B)鄉村貧困形成人口推力，大量移入都市
(C)工商業快速發展，住宅用地轉作他用
(D)都市發展歷史悠久，老舊社區形成貧民窟。

() 8. 農業活動的類型依其目的不同可分為自給式農業和商業性農業兩種，附表的相關比較中，何者錯誤？

	分布地區	耕作方式	作物種類	人口分布
自給式農業	季風亞洲	集約耕作	單一作物	地狹人稠
商業性農業	北美平原	粗放耕作	多樣作物	地廣人稀

- (A)分布地區 (B)耕作方式
(C)作物種類 (D)人口分布。

~請翻背面繼續作答~

- () 9. 北美洲加拿大西岸的溫哥華與東岸的多倫多緯度相近，而溫哥華地區的氣候卻較為溫暖。其主要的原因為何？
 (A)距海遠近 (B)盛行風向
 (C)地勢高低 (D)洋流性質。
- () 10. 西伯利亞南部的森林區又名「泰卡」，植物景觀茂密，請問此區的林相應以什麼為主？
 (A)針葉林 (B)闊葉林 (C)苔原 (D)草原。
- () 11. 臺灣的陽明海運計畫發展經由巴拿馬運河航線，藉由規劃最短航線來提高服務品質。下列那個航行路線最可能被納入此計畫？
 (A)古巴雪茄→臺灣
 (B)美國棉花→瑞典
 (C)智利銅礦→西雅圖
 (D)巴西咖啡→紐約。
- () 12. 「根據統計，目前在美國太空總署(NASA)的印度工程師高達30%，而矽谷的新創企業公司中，也有40%為印度人所創立。」請問：以上敘述說明了美國社會哪一現象？
 (A)印度婆羅門教成為美國強勢文化
 (B)美國移民政策形成人力資源投入
 (C)白人和黑人的種族歧視完全消失
 (D)空運運輸進步使市場距離限制。

二、題組題(每題4分)

※《蠟筆小新：我的搬家物語 仙人掌大襲擊》

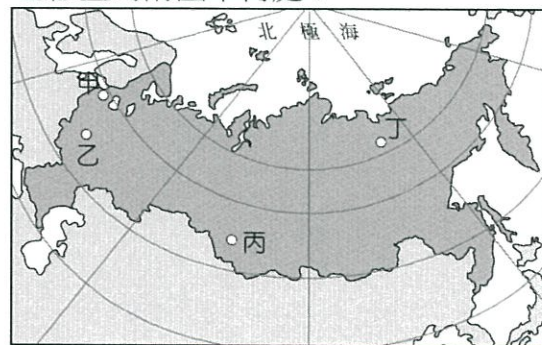
野原一家搬家！小新的爸爸廣志終於調職升官了，而且全家必須移民到「墨西哥」。令人羨慕的海外生活，還是必須面臨生活習慣的改變、語言的不適應、思鄉的情緒等等狀況，還遇到怪咖般的鄰居，最不可思議的是「仙人掌」竟然對野原一家人展開攻擊……。請回答第13~16題



- () 13. 蠟筆小新遇到語言上的不適應，是因為墨西哥當地的通行語言是？
 (A)英語 (B)法語
 (C)西班牙語 (D)葡萄牙語
- () 14. 墨西哥是仙人掌的故鄉，在仙人掌的2000多個品種中，墨西哥有一半以上，因此享有“仙人掌王國”的美譽，其中沙漠植物龍舌蘭亦能作為國酒外銷。墨西哥北部沙漠氣候的形成原因與下列何者相同？
 (A)美國西南部沙漠 (B)中亞沙漠
 (C)智利北部沙漠 (D)巴塔哥尼亞沙漠
- () 15. 承上題，墨國沙漠的成因下列何者正確？
 (A)距海遙遠，深居內陸
 (B)緯度處副熱帶高壓帶，下沉氣流旺盛
 (C)寒流流經影響空氣穩定，不易降雨
 (D)位於盛行西風的背風側。
- () 16. 墨西哥因加入哪個經濟組織，使得經濟型態由農業轉向加工出口的工業？
 (A)OPEC (B)EU
 (C)WTO (D)NAFTA


※俄羅斯這個國家億萬富翁人數高達114位，居世界第五多。全球唯一的富豪展在這裡舉辦，名車、遊艇、名錶、鑽石等幾乎以秒殺的方式銷售。在共產主義的高牆倒塌後，俄羅斯成為金磚國，以不可思議的速度崛起，但是在金碧輝煌的背後，該國卻有九成的人口年收入不到一萬美元，形成強烈的對比。請問17~19題：

- () 17. 上文中呈現俄羅斯驚人的奢華，然而在背後的貧富差距卻成為發展隱憂。俄羅斯經濟的興起和下列何者關係最大？
 (A)重工業發達，有利民生工業發展
 (B)古老地塊組成，擁有豐富石油礦產
 (C)研發技術進步，通訊電子業發達
 (D)資金充足，成為全球金融市場中心。
- () 18. 俄羅斯的首都擁有世界上最多超級富豪，其地理位置為附圖中何處？



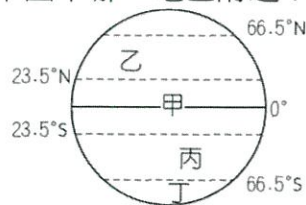
- (A)甲 (B)乙 (C)丙 (D)丁。
- () 19. 隨著經濟的發展，俄羅斯境內區域間的發展差距漸大。目前人口密度最高的地區為下列何者？
 (A)太平洋沿岸 (B)西伯利亞
 (C)高加索山 (D)歐俄平原。

※圖中是亞馬孫河流域土地開發的經過。請問20~22題：




~請接下一頁~



- ()20.亞馬孫熱帶雨林被稱為「地球之肺」，對於地球的自然環境相當重要。請問：這片熱帶雨林多分布於下圖中哪一地區附近？



- (A)甲 (B)乙 (C)丙 (D)丁。
- ()21.圖中亞馬孫雨林的大規模開發，對自然生態造成嚴重破壞。請問：當地居民砍伐雨林的最主要原因為何？
 (A)人口激增 (B)防治蚊蟲
 (C)缺乏水源 (D)溼熱多雨。
- ()22.圖中可以見到林木被砍伐後，當地居民闢建大規模的農園來發展經濟。請問：當地農園的作物應該為何？
 (A)小麥 (B)葡萄 (C)咖啡 (D)棉花。

※美國NBA巨星「小皇帝」詹姆斯本球季計畫到其他城市去進行比賽，以下為他一系列比賽的訊息，請回答23-25題：

- ()23.NBA球隊在命名與隊徽設計上常會與所在城市特色相結合，如： HOUSTON ROCKETS
 為休士頓的球隊，請問，從該球隊的隊徽與隊名來看，該球隊所在的城市可能具有哪個特色？
 (A)汽車及零件製造
 (B)高科技工業區
 (C)航太研發中心
 (D)重要金融中心。

- ()24.  VS  是這系列比賽的重頭戲，這兩支球隊所屬的這個城市，是美國第二大城，電影工業發達的此地，也常有機會在街頭見到電影明星，這是下列哪個城市？
 (A)舊金山 (B)洛杉磯
 (C)溫哥華 (D)紐約。

- ()25. 八月中旬，「小皇帝」詹姆斯隨球隊來到下一個城市，與  這支球隊進行對戰，卻因

MIAMI HEAT

遇上「颶風」賽程必須取消或改期，請問：詹姆斯比賽的地點應該是在何處？

- (A)墨西哥灣 (B)五大湖區
 (C)哈德孫灣 (D)太平洋沿岸。

~作答結束~

高雄市嘉興國民中學 109 學年度第一學期三年級地理科第三次定期評量試題卷

範圍：第五冊 L4-3~L6

班級：_____ 座號：_____ 姓名：_____

※1. 年級代號〔三〕科目、組別代號不用畫；未填妥個人資料，扣 5 分 2. 請將答案清楚畫記在答案卡上。

一、單選題(每題4分)

(D) 1. 乘坐西伯利亞鐵路的列車自莫斯科到海參崴，最快也需要7個晝夜才能到。請問：這和下列哪項地理環境因素最相關？

- (A)盛行風影響 (B)地形崎嶇阻擋
(C)所跨緯度範圍大 (D)所跨經度範圍大

(B) 2. 少祈參加永中校慶闖關活動，抽中「美洲地理的世界之最」，下表為其作答情形，他答對了幾題？

題號	題目內容	答案
1	陸地上最長的山脈	安地斯山
2	高度最高的高原	巴西高原
3	國土長度最長的國家	阿根廷
4	世界最大的熱帶雨林區	亞馬孫盆地
5	石油產量最多的國家	委內瑞拉
6	世界上面積最大的國家	加拿大

(A) 2 題 (B) 3 題 (C) 4 題 (D) 5 題

(D) 3. 翊家喜歡玩猜謎遊戲，下表為拉丁美洲某個國家的提示，若要加入第五項的話請問可以選擇何者？

提示 1. 金磚五國之一
提示 2. 有豐富的鐵礦
提示 3. 嘉年華森巴舞
提示 4. 足球 high 翻天
提示 5. ?

- (A) 首都為世界金融中心，動向牽動全球經濟
(B) 是北美自由貿易協定成員，有「白銀王國」之稱
(C) 為世界最狹長的國家
(D) 以葡萄牙語為主要語言。

(A) 4. 下圖為一面加拿大國旗，中間白底表示緯度高、積雪日長；中間紅色楓樹葉代表加國人民；兩側長方形表示領土兩側的海洋。請問左側區塊應代表哪一海洋？



- (A) 太平洋 (B) 大西洋
(C) 印度洋 (D) 北極海。

(B) 5. 圖中國家為厄瓜多，赤道橫貫了它的國境，所以西班牙文中以赤道 (ecuador) 作為國名，因此該國又擁有「赤道國」的別稱，該國的首都基多位於皮欽查火山的山麓，海拔高達2,850公尺，使該市成為全世界第二高的首都



(僅次於玻利維亞首都拉巴斯3,829公尺) 請問高海拔首都考慮的主因為何？

- (A) 礦產 (B) 氣溫 (C) 交通 (D) 水源

(D) 6. 美國加州的葡萄酒相當有名，柑橘也是當地的特產，宥瑄一家人便選擇夏季時前往豔陽高照的加州度假。請問：宥瑄度假的地區位於附圖中何處？



(A) 己 (B) 庚 (C) 辛 (D) 壬。

(B) 7. 「違建」的貧民區幾乎成了中南美洲都市的特殊景觀，並且隨著都市擴張而不斷增加當中。造成中南美洲這種現象的主要因素為下列何者？

- (A) 都市空間有限，缺乏住宅用地
(B) 鄉村貧困形成人口推力，大量移入都市
(C) 工商業快速發展，住宅用地轉作他用
(D) 都市發展歷史悠久，老舊社區形成貧民窟。

(C) 8. 農業活動的類型依其目的不同可分為自給式農業和商業性農業兩種，附表的相關比較中，何者錯誤？

	分布地區	耕作方式	作物種類	人口分布
自給式農業	季風亞洲	集約耕作	單一作物	地狹人稠
商業性農業	北美平原	粗放耕作	多樣作物	地廣人稀

- (A) 分布地區 (B) 耕作方式
(C) 作物種類 (D) 人口分布。

~請翻背面繼續作答~

- (D) 9. 北美洲加拿大西岸的溫哥華與東岸的多倫多緯度相近，而溫哥華地區的氣候卻較為溫暖。其主要的原因為何？
 (A)距海遠近 (B)盛行風向
 (C)地勢高低 (D)洋流性質。
- (A) 10. 西伯利亞南部的森林區又名「泰卡」，植物景觀茂密，請問此區的林相應該以什麼為主？
 (A)針葉林 (B)闊葉林 (C)苔原 (D)草原。
- (A) 11. 臺灣的陽明海運計畫發展經由巴拿馬運河航線，藉由規劃最短航線來提高服務品質。下列那個航行路線最可能被納入此計畫？
 (A)古巴雪茄→臺灣
 (B)美國棉花→瑞典
 (C)智利銅礦→西雅圖
 (D)巴西咖啡→紐約。
- (B) 12. 「根據統計，目前在美國太空總署(NASA)的印度工程師高達30%，而矽谷的新創企業公司中，也有40%為印度人所創立。」請問：以上敘述說明了美國社會哪一現象？
 (A)印度婆羅門教成為美國強勢文化
 (B)美國移民政策形成人力資源投入
 (C)白人和黑人的種族歧視完全消失
 (D)空運運輸進步使市場距離限制。

二、題組題(每題4分)

※《蠟筆小新：我的搬家物語 仙人掌大襲擊》

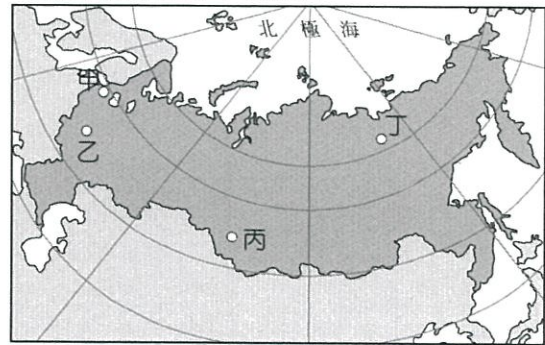
野原一家搬家！小新的爸爸廣志終於調職升官了，而且全家必須移民到「墨西哥」。令人羨慕的海外生活，還是必須面臨生活習慣的改變、語言的不適應、思鄉的情緒等等狀況，還遇到怪咖般的鄰居，最不可思議的是「仙人掌」竟然對野原一家人展開攻擊……。請回答第13~16題



- (C) 13. 蠟筆小新遇到語言上的不適應，是因為墨西哥當地的通行語言是？
 (A)英語 (B)法語
 (C)西班牙語 (D)葡萄牙語
- (C) 14. 墨西哥是仙人掌的故鄉，在仙人掌的2000多個品種中，墨西哥有一半以上，因此享有“仙人掌王國”的美譽，其中沙漠植物龍舌蘭亦能作為國酒外銷。墨西哥北部沙漠氣候的形成原因與下列何者相同？
 (A)美國西南部沙漠 (B)中亞沙漠
 (C)智利北部沙漠 (D)巴塔哥尼亞沙漠
- (B) 15. 承上題，墨國沙漠的成因下列何者正確？
 (A)距海遙遠，深居內陸
 (B)緯度處副熱帶高壓帶，下沉氣流旺盛
 (C)寒流流經影響空氣穩定，不易降雨
 (D)位於盛行西風的背風側。
- (D) 16. 墨西哥因加入哪個經濟組織，使得經濟型態由農業轉向加工出口的工業？
 (A)OPEC (B)EU
 (C)WTO (D)NAFTA


※俄羅斯這個國家億萬富翁人數高達114位，居世界第五多。全球唯一的富豪展在這裡舉辦，名車、遊艇、名錶、鑽石等幾乎以秒殺的方式銷售。在共產主義的高牆倒塌後，俄羅斯成為金磚國，以不可思議的速度崛起，但是在金碧輝煌的背後，該國卻有九成的人口年收入不到一萬美元，形成強烈的對比。請問17~19題：

- (B) 17. 上文中呈現俄羅斯驚人的奢華，然而在背後的貧富差距卻成為發展隱憂。俄羅斯經濟的興起和下列何者關係最大？
 (A)重工業發達，有利民生工業發展
 (B)古老地塊組成，擁有豐富石油礦產
 (C)研發技術進步，通訊電子業發達
 (D)資金充足，成為全球金融市場中心。
- (B) 18. 俄羅斯的首都擁有世界上最多超級富豪，其地理位置為附圖中何處？



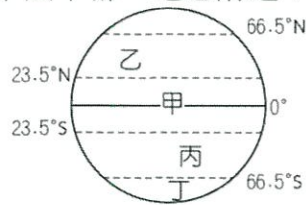
- (A)甲 (B)乙 (C)丙 (D)丁。
- (D) 19. 隨著經濟的發展，俄羅斯境內區域間的發展差距漸大。目前人口密度最高的地區為下列何者？
 (A)太平洋沿岸 (B)西伯利亞
 (C)高加索山 (D)歐俄平原。

※圖中是亞馬孫河流域土地開發的經過。請問20~22題：



~請接下一頁~

- (A) 20. 亞馬孫熱帶雨林被稱為「地球之肺」，對於地球的自然環境相當重要。請問：這片熱帶雨林多分布於下圖中哪一地區附近？



(A)甲 (B)乙 (C)丙 (D)丁。

- (A) 21. 圖中亞馬孫雨林的大規模開發，對自然生態造成嚴重破壞。請問：當地居民砍伐雨林的最主要原因為何？

(A)人口激增 (B)防治蚊蟲
(C)缺乏水源 (D)溼熱多雨。

- (C) 22. 圖中可以見到林木被砍伐後，當地居民闢建大規模的農園來發展經濟。請問：當地農園的作物應該為何？

(A)小麥 (B)葡萄 (C)咖啡 (D)棉花。

※美國NBA巨星「小皇帝」詹姆斯本球季計畫到其他城市去進行比賽，以下為他一系列比賽的訊息，請回答23-25題：

- (C) 23. NBA球隊在命名與隊徽設計上常會與所在城市特色相結合，如：HOUSTON  ROCKETS


為休士頓的球隊，請問，從該球隊的隊徽與隊名來看，該球隊所在的城市可能具有哪個特色？

(A)汽車及零件製造
(B)高科技工業區
(C)航太研發中心
(D)重要金融中心。

- (B) 24.  VS  是這系列比賽的

的重頭戲，這兩支球隊所屬的這個城市，是美國第二大城，電影工業發達的此地，也常有機會在街頭見到電影明星，這是下列哪個城市？

(A)舊金山 (B)洛杉磯
(C)溫哥華 (D)紐約。

- (A) 25. 八月中旬，「小皇帝」詹姆斯隨球隊來到下一個城市，與  這支球隊進行對戰，卻因

MIAMI
HEAT

遇上「颶風」賽程必須取消或改期，請問：詹姆斯比賽的地點應該是在何處？

(A)墨西哥灣 (B)五大湖區
(C)哈德孫灣 (D)太平洋沿岸。

~作答結束~