

# 高雄市立嘉興國民中學109學年度第一學期三年級歷史科 第二次段考試題卷

請用 2B 鉛筆畫卡作答，班級座號等資訊畫記錯誤者，扣總分 5 分，請同學細心檢查。  
試題共 25 題，每題 4 分，共 100 分。

1. ( ) 中西歷史時常交互影響。中國在秦漢時北伐匈奴，匈奴戰敗西逃，迫使日耳曼民族遷徙，結果導致下列哪一帝國的滅亡？  
(A) 拜占庭帝國  
(B) 鄂圖曼土耳其帝國  
(C) 西羅馬帝國  
(D) 阿拉伯帝國。

2. ( ) 「在混亂的時代中，他以今日法國地區為基礎，建立帝國，頒行制皮，獎勵文教，為當時帶來一股新氣象。雖然他是日耳曼人，卻被教宗加冕為『羅馬人的皇帝』。」前述內容應是指下列哪一位統治者？  
(A) 屋大維  
(B) 查理曼  
(C) 君士坦丁  
(D) 查士丁尼。

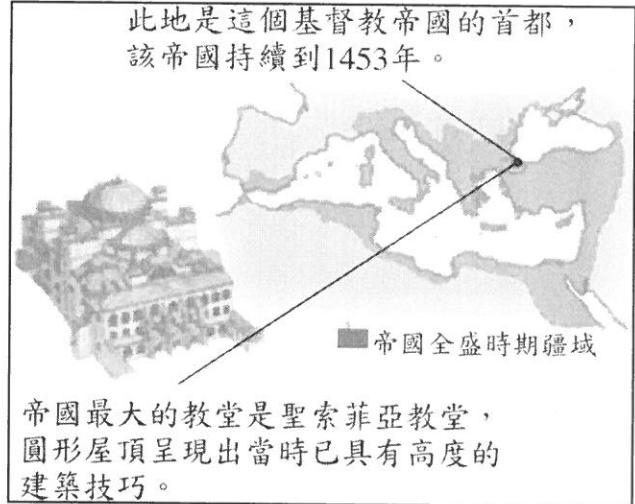
3. ( ) 圖為歐洲史上某時期社會的主要階層及其職責，此圖最可能是呈現下列何者的情況？  
(A) 文藝復興時期的義大利  
(B) 蒙古西征的領域範圍  
(C) 中世紀的西歐社會  
(D) 地理大發現時的美洲



4. ( ) 老師在課堂上介紹某帝國說：「這個帝國對外抵抗亞洲游牧民族的入侵，對內直接或間接地保存了古典文化。其後它所形成的文化至今仍存留於俄羅斯、巴爾幹半島和希臘一帶。」老師介紹的是下列哪一帝國？  
(A) 拜占庭帝國  
(B) 阿拉伯帝國  
(C) 亞歷山大帝國  
(D) 鄂圖曼土耳其帝國。

5. ( ) 伶月到歐洲某國旅遊，導遊說：「在歷史上，這個國家曾被羅馬帝國、西哥德王國及回教政權等統治過，所以它是一個具有多種文化特色的國家。」依此推斷，以上敘述最可能是下列哪一個國家？  
(A) 英國  
(B) 丹麥  
(C) 法國  
(D) 西班牙。

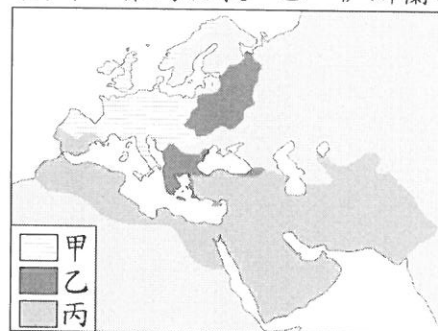
6. ( ) 附圖是某本書的內頁，由其內容推斷，該頁最可能是介紹下列哪一帝國？  
(A) 拜占庭帝國  
(B) 阿拉伯帝國  
(C) 神聖羅馬帝國  
(D) 鄂圖曼土耳其帝國。



7. ( ) 「這個帝國興盛時期，疆域廣大，橫跨三洲。皇帝在政治上享有至高無上的權力，同時在宗教上也是上帝的代表，可以任命帝國首都主教，主導教會行事，而且也常頒布與基督教教義有關的規定。」此一帝國最可能是下列何者？  
(A) 查理曼帝國  
(B) 拜占庭帝國  
(C) 鄂圖曼土耳其帝國  
(D) 神聖羅馬帝國。

8. ( ) 「這是一座八到十世紀間繁榮的城市，有富麗堂皇的宮殿，城內寺院眾多，並無崇奉任何人物和神像；寺院外觀為回教建築風格。商店中有來自各地的商品，琳琅滿目的堆放著。」請問：這段文字所形容的最可能是下列哪一座城市？  
(A) 長安  
(B) 佛羅倫斯  
(C) 威尼斯  
(D) 巴格達。

9. ( ) 附圖是十一世紀後期三個宗教的分布示意圖，圖中甲、乙、丙應分別為下列何者？  
(A) 甲：希臘正教、乙：伊斯蘭教、丙：羅馬公教  
(B) 甲：希臘正教、乙：羅馬公教、丙：伊斯蘭教  
(C) 甲：羅馬公教、乙：希臘正教、丙：伊斯蘭教  
(D) 甲：羅馬公教、乙：伊斯蘭教、丙：希臘正教。



尚有試題，請繼續作答

10. ( ) 十三世紀，義大利某教堂的神父告訴信徒，虔誠向上帝禱告並懺悔，便可躲過帶著火炮(火藥)，來自東方的「黃禍」。下列哪一項是神父所指的「黃禍」？

- (A) 恒羅斯之役
- (B) 十字軍東征
- (C) 蒙古西征
- (D) 地理大發現。

11. ( ) 附表是歐洲某時期人口的估算值，造成表中「甲」期間人口數量變化的主要因素應是下列何者？

- (A) 十字軍東征，群眾響應前往西亞
- (B) 黑死病流行，大量人口感染死亡
- (C) 蒙古西征時，歐洲因戰亂人口大量減少
- (D) 宗教改革後，教派對抗戰爭頻繁。

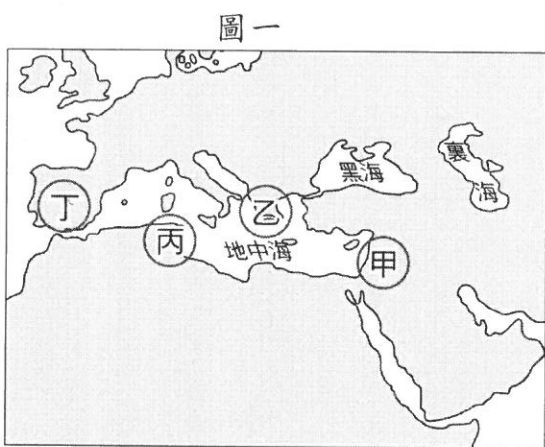
| 時間    | 人口數(人) |
|-------|--------|
| 1200年 | 5,900萬 |
| 1300年 | 7,000萬 |
| 1347年 | 7,500萬 |
| 1352年 | 5,000萬 |

甲 {

12. ( ) 圖(一)是佩芸參訪古蹟所寫的遊記，此古蹟最可能位於圖(二)中甲、乙、丙、丁何處？ (A) 甲 (B) 乙 (C) 丙 (D) 丁。

**當羅馬劇場遇見阿拉伯城堡**

我今天去參觀古蹟，這是一座劇場與城堡結合的建築，導遊說劇場興建於古羅馬時期，可容納一萬二千人，歷經阿拉伯帝國等國的統治，依然保存良好；城堡是後來的統治者與當地阿拉伯人為了抵禦十字軍和蒙古人，而陸續興建加蓋。



圖二

13. ( ) 歐洲有位君主倡言：「國家的利益高於一切，為此，我們可以用盡一切手段來維持政治權力與國家的利益，道德和宗教規範都是不切實際的。」下列哪一位政治思想家的主張最符合上述的言論？

- (A) 米開朗基羅
- (B) 薄伽丘
- (C) 塞凡提斯
- (D) 馬基維利。

14. ( ) 中古晚期，東西貿易日益頻繁，城市與中產階級逐漸興起，促成文藝復興運動。這些現象最早發生在歐洲的哪一個地方？

- (A) 英國
- (B) 希臘
- (C) 西班牙
- (D) 義大利。

15. ( ) 圖是某史事的起源地區與傳播方向示意圖，下列何者最足以呈現該史事的內涵？

- (A) 研究古典文獻，強調人文主義
- (B) 路德教派改革，主張因信得救
- (C) 羅馬教宗發起，奪回基督聖地
- (D) 英法百年戰爭，聖女貞德逆轉。



16. ( ) 西班牙語成為中南美洲大多數國家的官方語言，這是受到哪一項歷史發展的影響？

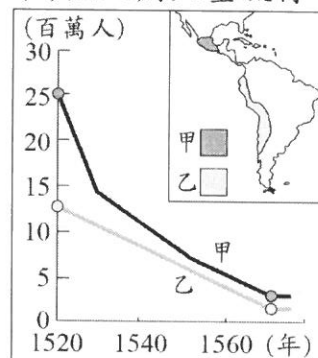
- (A) 地理大發現
- (B) 阿拉伯帝國擴張
- (C) 文藝復興時期方言文學的流行
- (D) 西班牙王權國家的形成。

17. ( ) 一位學者認為：「1519~1522年的這次海上探險，獲得許多重要成果，包括(1)證實向西航行可達東方；(2)證實地球是圓的；(3)證實美洲並非亞洲的一部分，而是獨立存在的大陸。」由上述內容推斷，此一探險行動最可能下列何者？

- (A) 達伽馬抵達印度
- (B) 哥倫布橫渡大西洋
- (C) 鄭和航行至非洲東岸
- (D) 麥哲倫船隊環繞世界。

18. ( ) 附圖呈現某時期甲、乙二地原住民人口數量估計值的變化。造成此變化的原因最可能是下列何者？

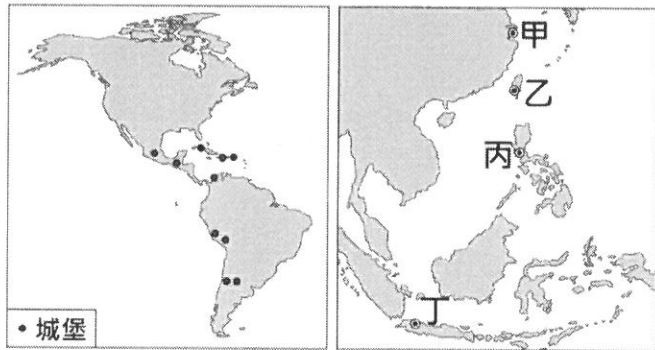
- (A) 馬雅帝國因戰爭逐漸衰微
- (B) 西班牙人入侵，帶來戰爭與傳染病
- (C) 宗教戰爭
- (D) 黑死病大量流行。



尚有試題，請繼續作答

19. ( ) 十六世紀時，這個國家積極向外征服，在其殖民地修築了許多城堡，如左圖所示。當時這個國家也曾在右圖中甲、乙、丙、丁何處建立城堡？

(A)甲 (B)乙 (C)丙 (D)丁。



20. ( ) 附表為 1514 至 1800 年黑奴被販運到主要三大洲的統計數據。乙最可能是下列哪一洲？ (A) 美洲 (B) 亞洲 (C) 非洲 (D) 歐洲

| 洲別          | 甲     | 乙         | 丙     |
|-------------|-------|-----------|-------|
| 1514-1600 年 | 652   | 58,754    | 168   |
| 1601-1700 年 | 4,160 | 645,460   | 847   |
| 1701-1800 年 | 4,515 | 4,569,975 | 2,658 |

單位：人

21. ( ) 玫茜看到一段歷史敘述：「既然只有對神的虔誠信仰是使人得救的唯一途徑，那麼，即使人們購買抵免罪過的贖罪券，也不一定保證能獲拯救。」以上敘述與下列哪一史實關係最密切？

- (A) 亨利八世宣布脫離羅馬教會
- (B) 清教徒受壓迫過程
- (C) 羅耀拉創立耶穌會
- (D) 馬丁路德掀起宗教改革。

22. ( ) 廷璋是位虔誠的信徒，他一生勤儉，相信人能否得救早已由上帝預先選定，自己所能做的只是努力工作，以現世成就來榮耀上帝。依此推論，他最可能是下列哪一教派的信徒？

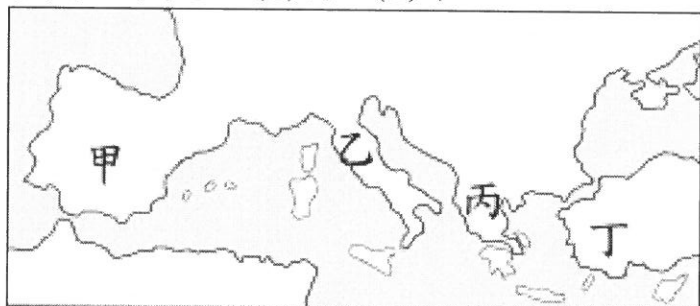
- (A) 路德教派
- (B) 喀爾文教派
- (C) 英國國教派
- (D) 天主教耶穌會。

23. ( ) 十四世紀時，有兩個國家因為王位繼承問題，爆發百年戰爭。戰後，兩國逐漸成為王權國家。這應指下列哪兩個國家？

- (A) 西班牙、葡萄牙
- (B) 英國、法國
- (C) 土耳其、拜占庭
- (D) 埃及、阿拉伯。

24. ( ) 十五世紀時，卡斯提爾與亞拉岡王國聯姻，最後合併成一個王國，並開始向海外擴張。這個王國應該位於附圖中的何處？

(A)甲 (B)乙 (C)丙 (D)丁。



25. ( ) 但丁在作品中描述他迷失於森林中，象徵淫欲、殘暴、貪婪的猛獸豹、獅、狼迎面撲來，古羅馬詩人維吉爾協助他脫離困境，並指引他遊歷地獄和煉獄，他愛慕的女子貝婭特麗絲則在天堂等待。但丁把貪圖名利的主教、教士等安排在煉獄的第四層接受懲罰，教皇朋尼法斯八世更被放在地獄第八層接受火刑，表達他對教會干涉世俗政治的不滿。請問：關於但丁與其作品，下列敘述何者錯誤？

- (A) 但丁為英國著名的作家
- (B) 但丁在作品中對人性多所著墨
- (C) 但丁藉此作品批判教士的腐敗及教會的控制
- (D) 但丁的作品屬於文藝復興時期的方言文學。

試題結束



# 高雄市立嘉興國民中學109學年度第一學期三年級歷史科 第二次段考解答

## 一、選擇

1. ( ) 中西歷史時常交互影響。中國在秦漢時北伐匈奴，匈奴戰敗西逃，迫使日耳曼民族遷徙，結果導致下列哪一帝國的滅亡？  
 (A) 拜占庭帝國  
 (B) 鄂圖曼土耳其帝國  
 (C) 西羅馬帝國  
 (D) 阿拉伯帝國。

《答案》C

2. ( ) 「在混亂的時代中，他以今日法國地區為基礎，建立帝國，頒行制皮，獎勵文教，為當時帶來一股新氣象。雖然他是日耳曼人，卻被教宗加冕為『羅馬人的皇帝』。」前述內容應是指下列哪一位統治者？  
 (A) 屋大維  
 (B) 查理曼  
 (C) 君士坦丁  
 (D) 查士丁尼。

《答案》B

3. ( ) 圖為歐洲史上某時期社會的主要階層及其職責，此圖最可能是呈現下列何者的情況？  
 (A) 文藝復興時期的義大利  
 (B) 蒙古西征的領域範圍  
 (C) 中世紀的西歐社會  
 (D) 地理大發現時的美洲



《答案》C

4. ( ) 老師在課堂上介紹某帝國說：「這個帝國對外抵抗亞洲游牧民族的入侵，對內直接或間接地保存了古典文化。其後它所形成的文化至今仍存留於俄羅斯、巴爾幹半島和希臘一帶。」老師介紹的是下列哪一帝國？  
 (A) 拜占庭帝國  
 (B) 阿拉伯帝國  
 (C) 亞歷山大帝國  
 (D) 鄂圖曼土耳其帝國。

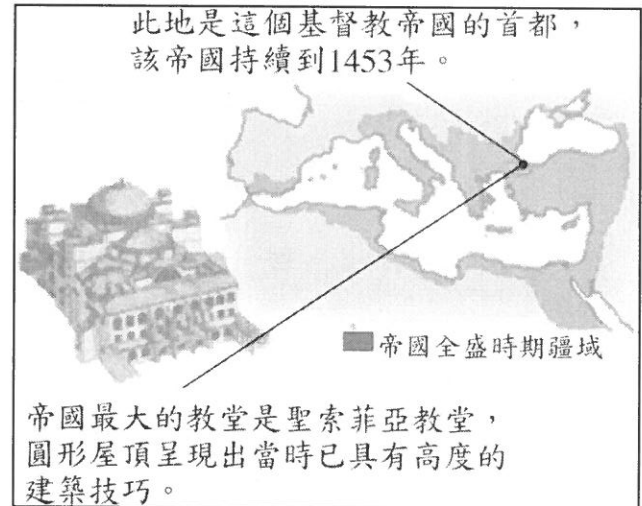
《答案》A

5. ( ) 伶月到歐洲某國旅遊，導遊說：「在歷史上，這個國家曾被羅馬帝國、西哥德王國及回教政權等統治過，所以它是一個具有多種文化特色的國家。」依此推斷，以上敘述最可能是下列哪一個國家？  
 (A) 英國  
 (B) 丹麥  
 (C) 法國  
 (D) 西班牙。

《答案》D

6. ( ) 附圖是某本書的內頁，由其內容推斷，該頁最可能是介紹下列哪一帝國？  
 (A) 拜占庭帝國

- (B) 阿拉伯帝國  
 (C) 神聖羅馬帝國  
 (D) 鄂圖曼土耳其帝國。



《答案》A

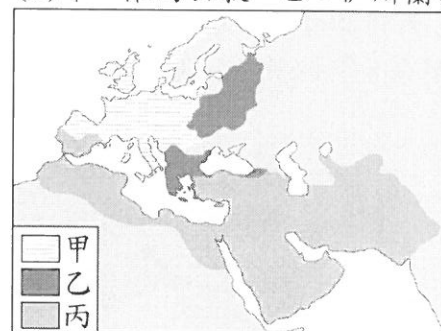
7. ( ) 「這個帝國興盛時期，疆域廣大，橫跨三洲。皇帝在政治上享有至高無上的權力，同時在宗教上也是上帝的代表，可以任命帝國首都主教，主導教會行事，而且也常頒布與基督教教義有關的規定。」此一帝國最可能是下列何者？  
 (A) 查理曼帝國  
 (B) 拜占庭帝國  
 (C) 鄂圖曼土耳其帝國  
 (D) 神聖羅馬帝國。

《答案》B

8. ( ) 「這是一座八到十世紀間繁榮的城市，有富麗堂皇的宮殿，城內寺院眾多，並無崇奉任何人物和神像；寺院外觀為回教建築風格。商店中有來自各地的商品，琳琅滿目的堆放著。」請問：這段文字所形容的最可能是下列哪一座城市？  
 (A) 長安  
 (B) 佛羅倫斯  
 (C) 威尼斯  
 (D) 巴格達。

《答案》D

9. ( ) 附圖是十一世紀後期三個宗教的分布示意圖，圖中甲、乙、丙應分別為下列何者？  
 (A) 甲：希臘正教、乙：伊斯蘭教、丙：羅馬公教  
 (B) 甲：希臘正教、乙：羅馬公教、丙：伊斯蘭教  
 (C) 甲：羅馬公教、乙：希臘正教、丙：伊斯蘭教  
 (D) 甲：羅馬公教、乙：伊斯蘭教、丙：希臘正教。



《答案》C

10. ( ) 十三世紀，義大利某教堂的神父告訴信徒，虔誠向上帝禱告並懺悔，便可躲過帶著火炮(火藥)，來自東方的「黃禍」。下列哪一項是神父所指的「黃禍」？  
 (A) 怛羅斯之役  
 (B) 十字軍東征  
 (C) 蒙古西征  
 (D) 地理大發現。

《答案》C

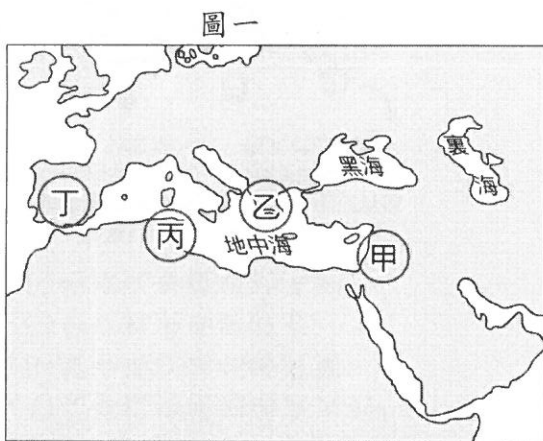
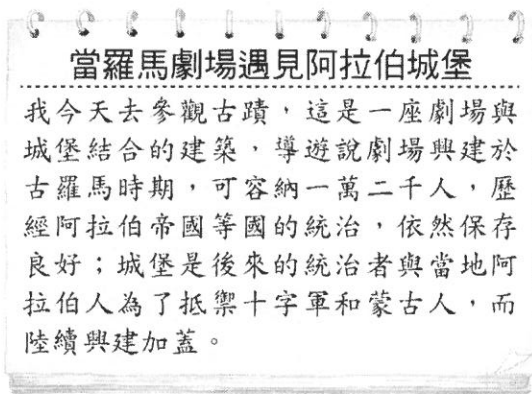
11. ( ) 附表是歐洲某時期人口的估算值，造成表中「甲」期間人口數量變化的主要因素應是下列何者？
- (A) 十字軍東征，群眾響應前往西亞
  - (B) 黑死病流行，大量人口感染死亡
  - (C) 蒙古西征時，歐洲因戰亂人口大量減少
  - (D) 宗教改革後，教派對抗戰爭頻繁。

| 時間    | 人口數(人) |
|-------|--------|
| 1200年 | 5,900萬 |
| 1300年 | 7,000萬 |
| 1347年 | 7,500萬 |
| 1352年 | 5,000萬 |

甲 {

《答案》B

12. ( ) 圖(一)是佩芸參訪古蹟所寫的遊記，此古蹟最可能位於圖(二)中甲、乙、丙、丁何處？ (A)甲 (B)乙 (C)丙 (D)丁。



圖二

《答案》A

13. ( ) 歐洲有位君主倡言：「國家的利益高於一切，為此，我們可以用盡一切手段來維持政治權力與國家的利益，道德和宗教規範都是不切實際的。」下列哪一位政治思想家的主張最符合上述的言論？
- (A) 米開朗基羅
  - (B) 薄伽丘
  - (C) 塞凡提斯
  - (D) 馬基維利。

《答案》D

14. ( ) 中古晚期，東西貿易日益頻繁，城市與中產階級逐漸興起，促成文藝復興運動。這些現象最早發生在歐洲的哪一個地方？
- (A) 英國
  - (B) 希臘
  - (C) 西班牙
  - (D) 義大利。

《答案》D

15. ( ) 圖是某史事的起源地區與傳播方向示意圖，下列何者最足以呈現該史事的內涵？

- (A) 研究古典文獻，強調人文主義
- (B) 路德教派改革，主張因信得救
- (C) 羅馬教宗發起，奪回基督聖地
- (D) 英法百年戰爭，聖女貞德逆轉。



《答案》A

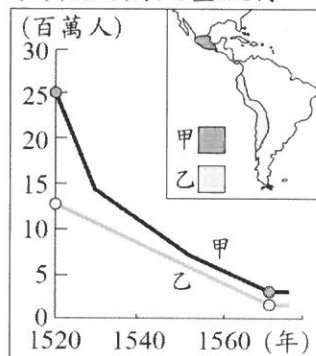
16. ( ) 西班牙語成為中南美洲大多數國家的官方語言，這是受到哪一項歷史發展的影響？
- (A) 地理大發現
  - (B) 阿拉伯帝國擴張
  - (C) 文藝復興時期方言文學的流行
  - (D) 西班牙王權國家的形成。

《答案》A

17. ( ) 一位學者認為：「1519~1522年的這次海上探險，獲得許多重要成果，包括(1)證實向西航行可達東方；(2)證實地球是圓的；(3)證實美洲並非亞洲的一部分，而是獨立存在的大陸。」由上述內容推斷，此一探險行動最可能下列何者？
- (A) 達伽馬抵達印度
  - (B) 哥倫布橫渡大西洋
  - (C) 鄭和航行至非洲東岸
  - (D) 麥哲倫船隊環繞世界。

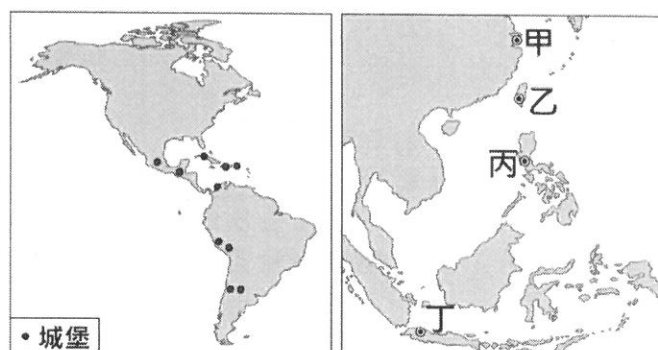
《答案》D

18. ( ) 附圖呈現某時期甲、乙二地原住民人口數量估計值的變化。造成此變化的原因最可能是下列何者？
- (A) 馬雅帝國因戰爭逐漸衰微
  - (B) 西班牙人入侵，帶來戰爭與傳染病
  - (C) 宗教戰爭
  - (D) 黑死病大量流行。



《答案》B

19. ( ) 十六世紀時，這個國家積極向外征服，在其殖民地修築了許多城堡，如左圖所示。當時這個國家也曾在右圖中甲、乙、丙、丁何處建立城堡？
- (A) 甲 (B) 乙 (C) 丙 (D) 丁。



《答案》C

20. ( ) 附表為 1514 至 1800 年黑奴被販運到主要三大洲的統計數據。乙最可能是下列哪一洲？ (A) 美洲 (B) 亞洲 (C) 非洲 (D) 歐洲

| 洲別 \ 時間     | 甲     | 乙         | 丙     |
|-------------|-------|-----------|-------|
| 1514-1600 年 | 652   | 58,754    | 168   |
| 1601-1700 年 | 4,160 | 645,460   | 847   |
| 1701-1800 年 | 4,515 | 4,569,975 | 2,658 |

單位：人

《答案》A

21. ( ) 玫茜看到一段歷史敘述：「既然只有對神的虔誠信仰是使人得救的唯一途徑，那麼，即使人們購買抵免罪過的贖罪券，也不一定保證能獲拯救。」以上敘述與下列哪一史實關係最密切？  
 (A) 亨利八世宣布脫離羅馬教會  
 (B) 清教徒受壓迫過程  
 (C) 羅耀拉創立耶穌會  
 (D) 馬丁路德掀起宗教改革。

《答案》D

22. ( ) 廷璋是位虔誠的信徒，他一生勤儉，相信人能否得救早已由上帝預先選定，自己所能做的只是努力工作，以現世成就來榮耀上帝。依此推論，他最可能是下列哪一教派的信徒？  
 (A) 路德教派  
 (B) 喀爾文教派  
 (C) 英國國教派  
 (D) 天主教耶穌會。

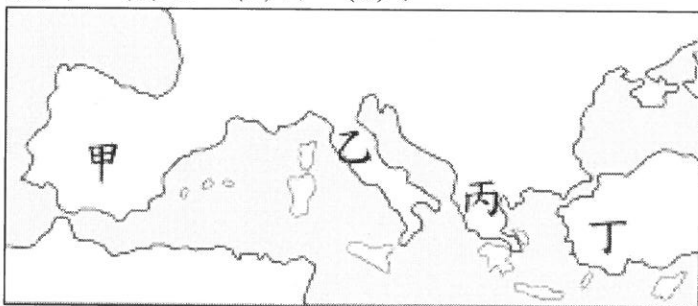
《答案》B

23. ( ) 十四世紀時，有兩個國家因為王位繼承問題，爆發百年戰爭。戰後，兩國逐漸成為王權國家。這應指下列哪兩個國家？  
 (A) 西班牙、葡萄牙  
 (B) 英國、法國  
 (C) 土耳其、拜占庭  
 (D) 埃及、阿拉伯。

《答案》B

24. ( ) 十五世紀時，卡斯提爾與亞拉岡王國聯姻，最後合併成一個王國，並開始向海外擴張。這個王國應該位於附圖中的何處？

(A) 甲 (B) 乙 (C) 丙 (D) 丁。



《答案》A

25. ( ) 但丁在作品中描述他迷失於森林中，象徵淫欲、殘暴、貪婪的猛獸豹、獅、狼迎面撲來，古羅馬詩人維吉爾協助他脫離困境，並指引他遊歷地獄和煉獄，他愛慕的女子貝婭特麗絲則在天堂等待。但丁把貪圖名利的主教、教士等安排在煉獄的第四層接受懲罰，教皇朋尼法斯八世更被放在地獄第八層接受火刑，表達他對教會干涉世俗政治的不滿。請問：關於但丁與其作品，下列敘述何者錯誤？  
 (A) 但丁為英國著名的作家  
 (B) 但丁在作品中對人性多所著墨  
 (C) 但丁藉此作品批判教士的腐敗及教會的控制  
 (D) 但丁的作品屬於文藝復興時期的方言文學。

《答案》A