

高雄市立嘉興國民中學109學年度第一學期三年級公民科第二次定期評量試題卷

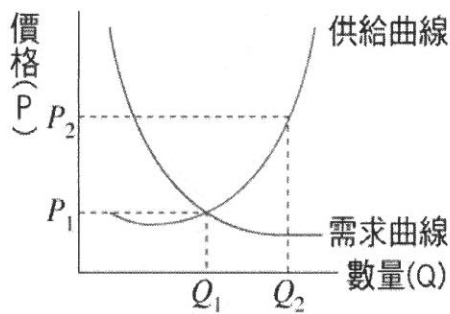
範圍：第五冊第三課~第四課

三年__班 座號：_____ 姓名：_____

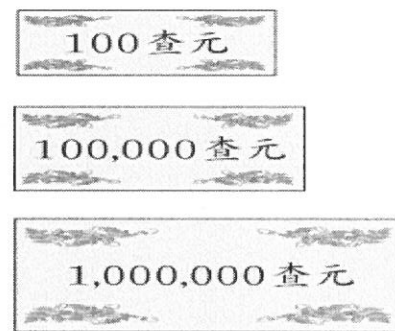
一、選擇：(每題4分，共100分)

※讀卡資料未填妥者扣五分。

- () 蛋糕店老闆雇用師傅與店員，必須支付他們薪資。上述所支付的金錢，也就是下列何者的所得？ (A)生產行為的決策者 (B)商品市場供給者 (C)人力資源需求者 (D)生產要素供給者。
- () 下列何者與外匯無關？
(A)進口鋼鐵價格上揚，建商苦哈哈 (B)近日颱風過境臺灣，蔬果價格飆漲
(C)石油價格下降，全國計程車運將受惠 (D)日本進口車價格上漲，影響喜好日貨的臺灣車手。
- () 梁媽媽已屆臨退休年紀，因此被排除在職場外，但為了實現生涯夢想，只好創業當老闆兼員工，經營自助餐店，由於梁媽媽必須購置生財器具及租借店面，因此成為生產要素市場中的何者？
(A)供給者 (B)需求者 (C)受雇者 (D)失業者。
- () 貨幣數量增多不見得是好事，因此，如何控制貨幣數量是非常重要的課題，甚至攸關人民的福祉。所以貨幣應由下列何者來發行？ (A)商業銀行 (B)法院 (C)錢莊 (D)政府。
- () 就國際分工而言，一國應出口下列何種產品，才符合比較利益原則？
(A)機會成本較他國為高的產品 (B)機會成本較他國為低的產品
(C)機會成本固定不變的產品 (D)與機會成本無關的產品。
- () 阿咪在一個星期內可以繪製2幅畫或捏塑4個人形陶偶，則阿咪畫一幅畫的機會成本為何？
(A)1/4個人形陶偶 (B)1/2個人形陶偶 (C)2個人形陶偶 (D)4個人形陶偶。
- () 九年甲班決定在校慶園遊會上販賣關東煮。若以比較利益原則而言，下列何者所分配的工作較無法發揮所長？
(A)精打細算的阿忠負責記帳 (B)沉默寡言的大孝負責叫賣
(C)手藝精巧的仁仁負責烹煮 (D)擅長繪畫的小愛負責海報設計。
- () 圖一是今年柳丁產季的供需圖——在其他條件不變的情況下，若價格由 P_2 變成 P_1 ，則其需求的數量將有何變動？
(A)增加 (B)減少 (C)不變 (D)不一定。



圖一




圖二

- () 圖二為查那國在半年內先後發行的三種紙幣。從紙幣發行面額的變化，可推知當時的經濟情形為何？
(A)國家經濟好，紙幣的價值升高 (B)通貨膨脹，貨幣購買力變低
(C)國力強盛，貨幣需求量大增 (D)物資缺乏，製幣的成本增加。
- () 母親節來臨前，花卉市場出現康乃馨供不應求的現象。下列相關的敘述，何者正確？
(A)康乃馨價格下跌 (B)消費者增加購買數量
(C)生產者進口更多的康乃馨 (D)生產者推出買五送一的特惠專案。
- () 下列關於通貨膨脹的敘述，何者不正確？
(A)通貨膨脹就是長期物價持續上漲的一種狀況 (B)通貨膨脹是指商品的增加量大於貨幣的增加量
(C)通貨膨脹就是幣值降低，貨幣購買力減少 (D)通貨膨脹會使生活水準降低。
- () 經濟體制是國家為解決經濟問題，所提出的一套解決模式。「市場經濟體制」與「計畫經濟體制」的區分原則為何？
(A)供給與需求的程度 (B)有無買賣交易的處所 (C)經濟發展的方式與程度 (D)政府介入經濟的方式與程度。
- () 颱風過後，家庭主婦到市場買菜常會抱怨說：「錢變薄了。」她們言下之意為何？
(A)青菜需求量增加，錢不夠用 (B)貨幣升值，青菜品質下降
(C)降低伐木數量以節省紙張，所以紙鈔變薄 (D)供給量減少，菜價上漲，相同的錢能買到的青菜數量減少。

背面尚有試題

14. () 麗敏是美國進口貿易商，專門代理進口化妝品。最近新臺幣兌換美元的幣值升值，麗敏的進口生意會面臨下列何種現象？
 (A)進口化妝品變得比較便宜 (B)化妝品的售價提高 (C)因成本增加而導致虧損 (D)不會有任何影響。
15. () 丁丁有一個小豬撲滿，每當爸爸媽媽給他零用錢，他就把錢投入撲滿裡。上述主要在說明貨幣具有下列何種功能？
 (A)交易媒介 (B)價值衡量 (C)價值儲存 (D)債務清償。
16. () 下列有關於經濟活動循環中貨幣流動的敘述，何者正確？
 (A)消費者將所得用於購買商品，形成消費支出 (B)消費支出就是生產者的生產成本
 (C)銷貨收入就是所得 (D)生產者將銷貨收入用於購買生產要素，形成消費支出。
17. () 海枯堂書店裡正在熱賣的一本繪本，是由臺灣出版社邀請中國大陸作家寫文章，搭配義大利畫家畫的插圖，在香港編輯排版，再交由日本印刷廠印刷裝訂。此繪本編製經由跨國的專業分工來提高產品的質與量，尚須透過交易活動互通有無的過程，才能達到互惠的目的。上述透過「交易活動互通有無的過程」為何？
 (A)傾銷生產過剩商品 (B)供需達到平衡 (C)國際外交 (D)國際貿易。
18. () 口號國當季芭樂生產過剩，政府官員因此透過媒體宣傳多吃芭樂有益健康，鼓勵全民響應，多買、多吃。根據上述內容判斷，目前口號國市場上的芭樂價格，最可能呈現何種情況？
 (A)下跌 (B)上漲 (C)不變 (D)無法判斷。
19. () 下列哪種情況即反映出「供不應求」的現象？
 (A)盛產的柳丁價格滑落 (B)服飾店的衣服打五折大出清
 (C)新鮮果汁熱賣，鳳梨、芒果缺貨 (D)家電產品在廠商的倉庫裡堆積如山。
20. () 亞當斯密在《國富論》中提到：市場中有一隻「看不見的手」，可以使供給量、需求量調整得恰到好處；而這隻看不見的手是根據什麼訊息來調整的？ (A)所得多寡 (B)主觀偏好 (C)市場價格 (D)未來預期。
21. () 由政府以法令強制規定其價值的通用貨幣，包括下列何者？(甲)紙鈔 (乙)硬幣 (丙)貝殼 (丁)信用卡
 (A)甲乙 (B)甲丁 (C)甲乙丁 (D)甲乙丙丁。
22. () 圖三是公民老師在課堂上展示的「貨幣的演進」圖卡。他請同學發表相關的看法，其中何者的說法錯誤？
 (A)正大：「甲的交易方式既耗時又費力。」
 (B)光明：「乙的數量相當多，且無限度。」
 (C)高風：「丙是政府以法令強制規定其價值。」
 (D)亮傑：「貨幣的演進是從以物易物發展成商品貨幣，再發展出法定貨幣。」



←圖三

23. () 下列是木川上網搜尋貨幣的資料，其中只有哪項是正確的？(甲)我國負責發行貨幣的機關為臺灣銀行 (乙)政府可透過控制貨幣數量，來維持物價穩定 (丙)信用卡可延後支付款項，所以屬於貨幣 (丁)為發展經濟，政府可隨意增加鈔票發行數量 (A)甲 (B)乙 (C)丙 (D)丁。
24. () 新聞報導：「颱風過後，蔬菜短缺，高麗菜在市場上供不應求，大家轉而購買其他較便宜的食品，使得馬鈴薯被搶購一空而缺貨，而豬肉價格仍居高不下，雞蛋價格則維持平穩。」上述何者已達到「市場均衡」的狀態？ (A)高麗菜 (B)馬鈴薯 (C)豬肉 (D)雞蛋。
25. () 攸關人民權益或民生經濟的事項，其價格多由政府控制。在我國，下列何者的價格即是由政府控制？
 (A)百貨公司的換季折扣 (B)六福村遊樂園的門票 (C)臺灣電力公司的電價 (D)進口汽車的販售價格。

試題結束

高雄市立嘉興國民中學109學年度第一學期第二次段
考三年級公民科考查試卷答案

範圍：第五冊第三課~第四課

一、選擇：(每題答案4分，共100分)

1-5 D B B D B

6-10 C B A B C

11-15 B D D A C

16-20 A D A C C

21-25 A B B D C
