

# 高雄市立嘉興國民中學109學年度第一學期一年級地理科第二次定期評量試題卷

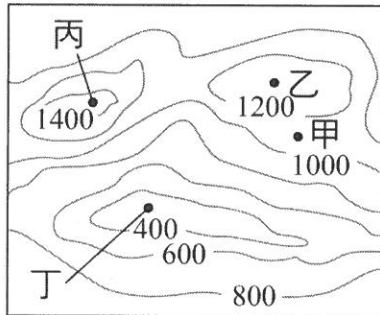
範圍：第一冊第三課~第四課

一年\_\_班 座號：\_\_\_\_\_ 姓名：\_\_\_\_\_

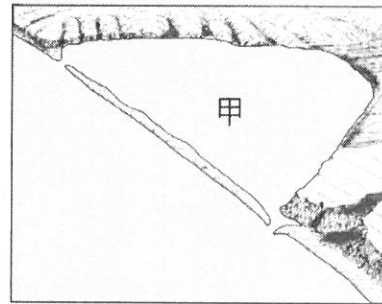
一、選擇：(每題4分，共100分)

※讀卡資料未填妥者扣五分。

- ( ) 某類型島嶼的形成原因是因為海平面上升或陸地下沉，使原鄰近沿海的丘陵部分沒入海中，而較高的山嶺凸出海面形成島嶼。請問：該類型的島嶼是屬於下列何者？(A)大陸島 (B)火山島 (C)珊瑚礁島 (D)海蝕島。
- ( ) 小彥想參觀課本上描述的「由奇岩怪石組成的岬角與海灣相間的地形」，那麼他應該前往下列哪個風景區？(A)屏東墾丁 (B)花蓮石梯坪 (C)新北市野柳 (D)臺南七股。
- ( ) 《烽火戲諸侯》此典故來自於西周，在當時，由於沒有電話或無線電等通訊設備，所以會建設烽火臺作為軍事通報方式，為古代軍事用途上非常重要的設施，為了能確實傳遞訊息，通常會將之設置在視野極佳之處，請問圖一中哪一地點最適合設置烽火臺？(A)甲 (B)乙 (C)丙 (D)丁。



圖一



圖二

- ( ) 圖二中「甲」是臺灣西部海岸常見的景觀。請問：此種景觀的名稱為何？(A)瀉湖 (B)堰塞湖 (C)斷層湖 (D)冰蝕湖。
- ( ) 龜山島位在宜蘭縣頭城鎮海岸以東約10公里處，是宜蘭縣屬島嶼之中最大、唯一有人居住的島嶼，也是臺灣地區目前尚存的活火山。龜山島岩層主要是由安山岩質之熔岩流和火山碎屑岩互層所構成。由上文敘述可知，請問龜山島的成因是下列何者？(A)內營力——火山活動 (B)內營力——熱漲冷縮 (C)外營力——海浪侵蝕 (D)外營力——河流堆積。
- ( ) 下列有關等高線圖的描述，何者正確？(A)由開放的曲線所組成 (B)地形起伏愈平緩，分布愈密集 (C)山脊的等高線，V字型尖端指向高處 (D)可觀察出地形的起伏與高度。
- ( ) 臺灣西南部沿海為典型的沙岸地形，下列何種不是當地常見的景觀？(A)遊客喜愛的海水浴場 (B)養殖魚塭成片分布 (C)方格狀鹽田及白色鹽山 (D)巨大岩塊堆在斷崖下。

- ( ) 考試將近，同學們熱烈討論有關地形的上課重點。請問：誰的發言不正確，可能須要再調整觀念？

平原為地勢低且開闊平坦的地形。

(A)



臺地的高度比丘陵高，起伏也較大。

(B)



山地相對高度高，坡度也較陡峭。

(C)

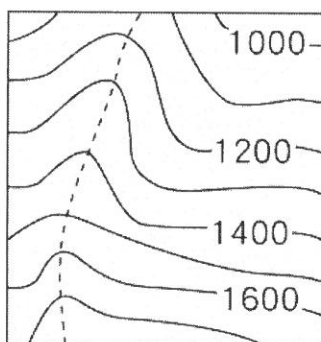


盆地是指四周高中間低的地形。

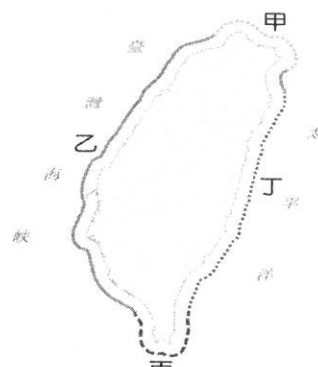
(D)



- ( ) 圖三為某山坡地的等高線地形圖，圖中虛線處最可能表現為下列何種地形？(A)懸崖 (B)窪地 (C)河谷 (D)山脊。



圖三

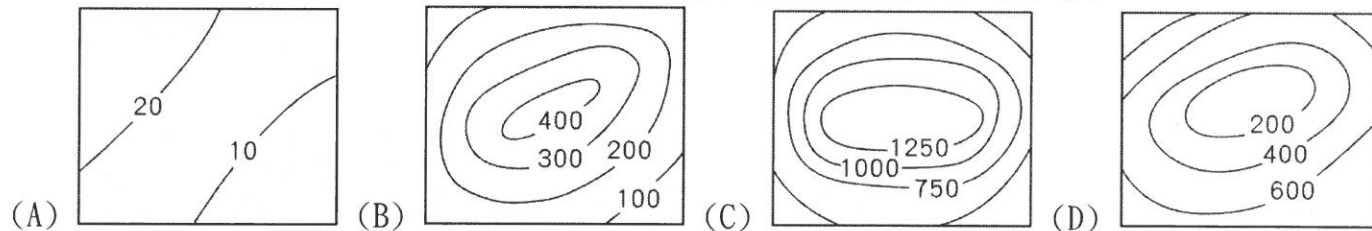


圖四

- ( ) 臺灣某處海岸由於鄰近板塊交界帶，山脈緊逼海洋，形成懸崖峭壁、相對高度落差大的海岸型態。請問：圖四中哪段海岸符合上述？(A)甲 (B)乙 (C)丙 (D)丁。

背面尚有試題

11. ( ) 下列四張等高線地形圖中，何者屬於「海拔高度低、相對高度小」的描述？



12. ( ) 下列有關珊瑚礁的描述，何者錯誤？

- (A)生長在清澈的水域 (B)多位於熱帶海域 (C)屬於岩岸地形 (D)主要分布於臺灣西部。

13. ( ) 某次颱風過境帶來大雨，造成高雄山區嚴重土石流，甚至沖毀住宅橋梁，救災人員選用衛星影像圖來了解救災現場狀況。請問：主要是因為其何種特性？

- (A)拍攝範圍小 (B)可取得即時影像 (C)比例尺固定 (D)圖例較清楚。

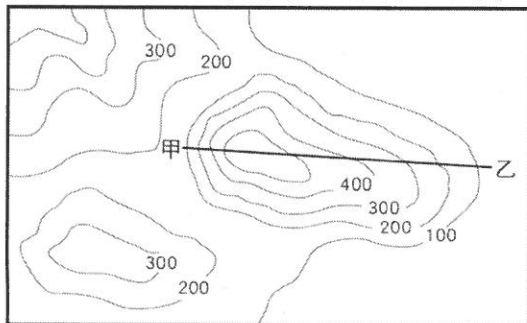
14. ( ) 下列何種土地利用方式，比較符合「永續利用」的精神？

- (A)山坡地應該回歸自然，完全不允許人為開發 (B)將國家公園劃分為遊客開放區與專屬保育區  
(C)核廢料埋在地底，等未來技術成熟後再處理 (D)在河道旁興建大量堤防，防止河水泛濫成災。

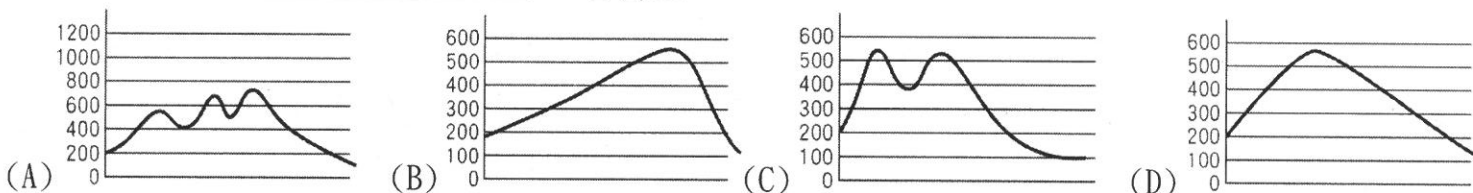
15. ( ) 依聯合國海洋法公約規定，一國經濟海域由領海基線向外延伸，最遠可延伸到多少範圍？

- (A)12 浬 (B)20 浬 (C)200 浬 (D)300 浬。

16. ( ) 圖五為某地的等高線地形圖。下列何者能代表圖五中甲、乙兩點之間的地形剖面圖？



←圖五



17. ( ) 對於臺灣土石流發生頻繁的問題，哪項人類活動有助於降低土石流的威脅？

- (A)種植溫帶水果 (B)減少山區道路的開闢 (C)多栽種檳榔樹 (D)減少山區的高樓興建改以單層別墅為主。

18. ( ) 造山運動使山脈隆起，但經過長期的歲月，高山可能變為平地。請問：下列何者是使高山成為平地的主要作用力？ (A)火山作用 (B)堆積作用 (C)侵蝕作用 (D)斷層作用。

19. ( ) 由臺東開車北上花蓮，可以見到兩旁盡是綿延的山脈。從右方的車窗望出，可以看見下列哪座山脈？

- (A)玉山山脈 (B)雪山山脈 (C)海岸山脈 (D)中央山脈。

20. ( ) 下列有關臺灣地形分布的敘述，何者正確？

- (A)平原多集中於東部 (B)地勢起伏很小 (C)山地多於平原 (D)高原多出現在北部地區。

21. ( ) 我國漁船曾在臺灣東南方巴士海峽海域遭到射擊，造成船長不幸罹難。此事件雖在我國對「該國」強力反應下，已得到妥善回應，但面對層出不窮的漁事糾紛，政府也應思考對策來因應。依據上文敘述，文中的「該國」應為下列何者？ (A)中國 (B)菲律賓 (C)日本 (D)越南。

22. ( ) 小明翻閱爸爸媽媽以前出遊的照片，發現其中有一張照片，爸爸媽媽站在奇特的柱狀石壁前，笑得非常開心，照片背面寫著「玄武岩前合影留念，西元 2001 年夏天。」請問：爸爸媽媽應該是到哪裡出遊？

- (A)琉球嶼 (B)蘭嶼 (C)金門烈嶼 (D)澎湖群島。

23. ( ) 表一為沙岸及岩岸的比較表。依據所學判斷，表中哪項資料錯誤？ (A)甲 (B)乙 (C)丙 (D)丁。

海岸分類	(甲)海岸線	(乙)沿岸地形	(丙)沿海平原	(丁)港灣島嶼
沙岸	平直	海底平淺	狹窄	缺乏港灣島嶼
岩岸	曲折	灣闊水深	寬廣	多港灣島嶼

表一



圖六

24. ( ) 圖六是臺灣某地特有的「雙心石滬」景觀，當地有個美麗的傳說，據說走完雙心串連的石滬，就會遇上一段完美的愛情。請問：以上這個景點最可能出現在下列哪個地區？

(A)臺東縣蘭嶼鄉 (B)澎湖縣七美鄉 (C)高雄市旗津區 (D)新北市淡水區。

25. ( ) 釣魚臺列嶼與其他臺灣的附屬離島相較，距離臺灣本島較遠，周圍陡峭，難以靠岸登陸，但此一島嶼卻發生多國競相爭奪的事件。請問：這些國家競相爭奪釣魚臺列嶼的最大因素有可能是什麼？

(A)農業發展 (B)商業利益 (C)海域礦藏 (D)開發觀光。

試題結束

高雄市立嘉興國民中學109學年度第一學期第二次段  
考一年級地理科考查試卷答案

範圍：第一冊第三課~第四課

一、選擇：(每題答案4分，共100分)

1-5      A C C A A

6-10     D D B D D

11-15    A D B B C

16-20    D B C C C

21-25    B D C B C

---