

高雄市立嘉興國民中學109學年度第一學期三年級歷史科 第一次段考試題卷

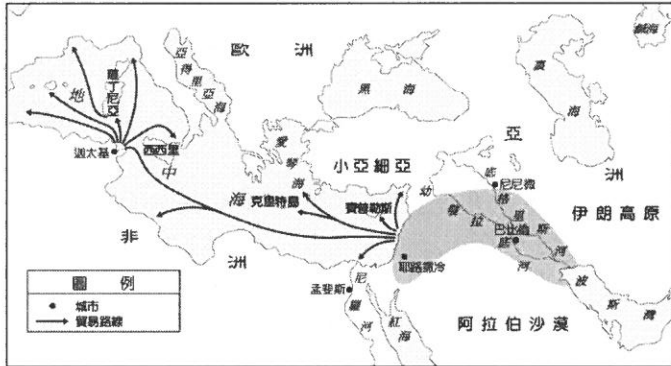
請用 2B 鉛筆畫卡作答，班級座號等資訊畫記錯誤者，扣總分 5 分，請同學細心檢查。

試題共 25 題，每題 4 分，共 100 分。

一、選擇

1. () 附圖是早期西亞某個民族的航海貿易路線。根據圖中的內容判斷，這個民族應是下列何者？


- (A) 亞述人 (B) 蘇美人
(C) 加爾底亞人 (D) 腓尼基人。



2. () 猶太教以耶和華為唯一真神，後來創立的哪些宗教受其影響，亦屬於一神信仰？

- (甲) 佛教 (乙) 伊斯蘭教 (丙) 印度教 (丁) 基督教
(A) 甲乙 (B) 甲丙 (C) 乙丁 (D) 丙丁。

3. () 附圖為古代某地區法律觀念的示意圖，圖中強調「以牙還牙，以眼還眼」的報復原則。請問：上文中的「某地區」應為下列何處？ (A) 西亞 (B) 印度 (C) 中國 (D) 埃及。



4. () 亞述人繼巴比倫人之後控制兩河流域，亦發展出高度的文明，下列關於其文明的敘述何者錯誤？

- (A) 以尚武、好戰聞名
(B) 曾建立強大帝國
(C) 信奉祆教，崇拜聖火
(D) 留下許多與戰爭相關的浮雕。

5. () 佛教是臺灣的重要宗教信仰之一，關於佛教之敘述，下列何者正確？

- (A) 現今印度地區信仰人口最多的宗教
(B) 反對婆羅門教所主張的靈魂輪迴、因果報應等理念
(C) 主張眾生平等，修行、行善後人人皆可成佛
(D) 西元一世紀由釋迦牟尼所創。

6. () 古印度文明的摩亨約達羅和哈拉帕兩座古城約建於西元前兩千多年，城內有水井、下水道、公眾大浴池等設施，建築物及市街井然有序。請問：關於這兩個城市遺址的敘述，下列何者錯誤？

- (A) 屬於印度河流域的古文明
(B) 位於印度的西北方
(C) 西元前 1500 年，波斯人入侵此區域
(D) 可看出城市規畫完善且具遠見。

7. () 阿利安人入侵印度地區後，利用婆羅門教，發展出階級森嚴的種姓制度。請問：其目的應為下列何者？

- (A) 提倡周而復始的觀念
(B) 安撫戰亂中的社會人心
(C) 宣揚眾生平等的觀念
(D) 維持其統治的地位。

8. () 阿拉伯數字始創於□□，後來傳到阿拉伯地區，因此而得名。現在它已成為全球目前使用最廣泛的數字系統。請問：□□應填下列何者最適當？

- (A) 埃及 (B) 印度 (C) 蘇美 (D) 中國。

9. () 歐幾里德在亞歷山大港教書並度過一生，致力於科學的研究，其著作被認為是史上最成功的教科書。請問：關於歐幾里德的生平，下列何者錯誤？

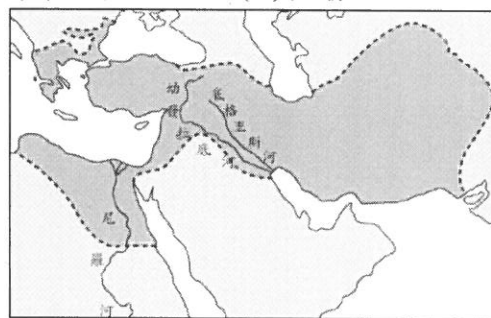
- (A) 他生活在希臘化時期
(B) 他提出槓桿、浮力等原理
(C) 利瑪竇曾與徐光啟將他的名著翻譯成中文
(D) 他著有《幾何原本》，至今仍為幾何學的權威作品。

10. () (甲) 埃及 (乙) 羅馬 (丙) 西亞 (丁) 希臘。希臘化文化是融合以上哪些地區的文化而形成的？

- (A) 甲乙丙 (B) 甲乙丁
(C) 甲丙丁 (D) 乙丙丁。

11. () 附圖是某一個帝國的疆域圖。在圖中可發現帝國的版圖橫跨數洲。請問：建立此一版圖的君王是誰？

- (A) 屋大維 (B) 君士坦丁
(C) 亞歷山大 (D) 凱撒。

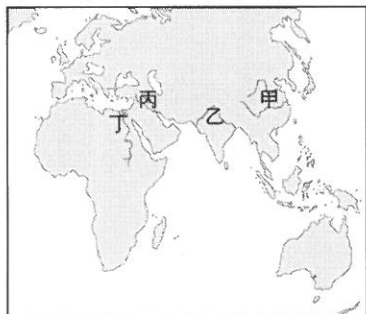


12. () 「定罪須以條文為準，在未確立一個人有罪前，他都是無罪的。」這個我們耳熟能詳的法律觀念，最早可在哪一法典中找到？ (A)《漢摩拉比法典》 (B)《吠陀經》 (C)《十二表法》 (D)《新約聖經》。
13. () 此人在羅馬共和晚期獨攬大權，西元前44年他被保守派貴族刺殺而死。請問：他應為何人？ (A)君士坦丁 (B)屋大維 (C)亞歷山大 (D)凱撒。
14. () 羅馬某一時期由公民大會選出兩名執政官為國家領袖，任期一年，如有緊急狀況時則選擇其中一人擔任獨裁官。執政官與元老院成員均出身於貴族，造成平民百姓的不滿，幾經抗爭後，另外選出護民官來維護平民權利。請問：此一時期為何？ (A)王政時期 (B)共和時期 (C)帝制時期 (D)東西羅馬分裂時期。

二、題組

(一) 四大古文明運用其先天的優勢環境，加上後天人為的努力，奠定了人類最早的文明基礎，並在文化、科技、政治上等各個領域擁有高度的成就。請回答下列問題：

15. () 下列哪一個民族原先定居於伊朗高原，並在西元前六世紀建立橫跨歐、亞、非三洲的大帝國？ (A)波斯人 (B)埃及人 (C)阿利安人 (D)西臺人。
16. () 如果想實地探訪擅長「占星術」和確立「一週七天」的民族，可以前往附圖中的何處？ (A)甲 (B)乙 (C)丙 (D)丁。



17. () 蘇美人與埃及人共同的文明成就為何？ (A)使用陰曆 (B)發明文字 (C)發展航海技術 (D)使用鐵製武器。
18. () 文字的使用為古文明的特色之一。下列對於各古文明文字的敘述，何者有誤？ (A)蘇美人發明楔形文字，在西亞地區廣為流傳 (B)中國的甲骨文文字以卜辭為主，且已脫離原始文字畫的階段 (C)埃及人使用的表音字母僅在非洲一地流傳，並未向外傳播 (D)腓尼基人透過航海與經商，將改良的埃及文字對外傳播，成為西方字母的源頭。

(二) 希臘文化是現今西方世界文化的基石，舉凡政治制度、哲學思想、科學發展等等，莫不受其影響。請回答下列問題：

19. () (甲)被稱為「歷史之父」的希羅多德 (乙)獨攬大權卻遭暗殺的凱撒 (丙)描述特洛伊戰爭的荷馬 (丁)開啟羅馬帝制時期的屋大維 (戊)希臘三哲之一的蘇格拉底。上述何者屬於希臘時代的重要人物？ (A)甲乙丙 (B)甲丙戊 (C)乙丙丁 (D)丙丁戊。
20. () 希臘文化由許多的城邦所組成，下列描述的哪一個城邦並不位於希臘半島上？ (A)其民主制度被視為西方民主政治的先驅 (B)實行軍國主義，重視紀律與服從 (C)為現今奧運的發源地 (D)荷馬史詩描述的戰爭地點。
21. () (甲)撰寫西方最早的歷史作品 (乙)強調均衡、對稱與和諧之美的帕德嫩神廟 (丙)傳說由狼乳所撫養長大的民族 (丁)雅典的守護神——雅典娜女神像 (戊)象徵多神信仰的萬神殿。上述內容哪些屬於希臘文化歷史的範疇？ (A)甲乙丙 (B)甲乙丁 (C)甲乙戊 (D)乙丙丁。

(三) 他三十歲開始傳播福音，並改革猶太教，將其教義傳播至各地。他得到人們支持後，卻遭他人忌恨，竟被某位門徒出賣，被統治者處以釘十字架的死刑。他死後三天復活，最後升天，證明他的確是神的兒子，人的救主。他的門徒四處傳揚他為救主的福音，在各城市建立教會。有一位受到感召的年輕猶太人保羅加入此教，並整理出他所傳的教義，與其他使徒共同完成該教經典。請回答下列問題：

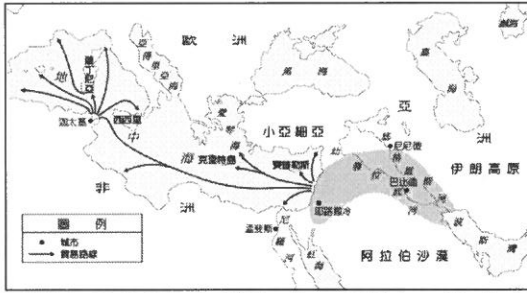


22. () 文中提及的「他」，最早應在附圖中的何處傳播福音？ (A)甲 (B)乙 (C)丙 (D)丁。
23. () 將他處以釘十字架死刑的人，應是下列哪個政權的統治者？ (A)波斯帝國 (B)羅馬帝國 (C)亞述帝國 (D)亞歷山大帝國。
24. () 保羅與其他使徒完成的宗教經典，應是下列何者？ (A)《吠陀經》 (B)《古蘭經》 (C)《舊約聖經》 (D)《新約聖經》。
25. () 文中的主角「他」應是何人？ (A)耶穌 (B)耶和華 (C)阿育王 (D)釋迦牟尼。

高雄市立嘉興國民中學 109 學年度第一學期三年級歷史科 第一次段考答案

一、選擇

1. (D) 附圖是早期西亞某個民族的航海貿易路線。根據圖中的內容判斷，這個民族應是下列何者？ (A) 亞述人 (B) 蘇美人 (C) 加爾底亞人 (D) 腓尼基人。



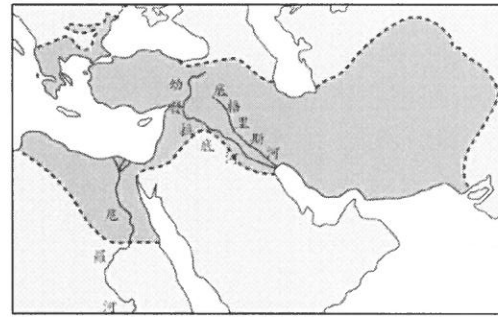
2. (C) 猶太教以耶和華為唯一真神，後來創立的哪些宗教受其影響，亦屬於一神信仰？ (甲) 佛教 (乙) 伊斯蘭教 (丙) 印度教 (丁) 基督教 (A) 甲乙 (B) 甲丙 (C) 乙丁 (D) 丙丁。
3. (A) 附圖為古代某地區法律觀念的示意圖，圖中強調「以牙還牙，以眼還眼」的報復原則。請問：上文中的「某地區」應為下列何處？ (A) 西亞 (B) 印度 (C) 中國 (D) 埃及。



4. (C) 亞述人繼巴比倫人之後控制兩河流域，亦發展出高度的文明，下列關於其文明的敘述何者錯誤？ (A) 以尚武、好戰聞名 (B) 曾建立強大帝國 (C) 信奉祆教，崇拜聖火 (D) 留下許多與戰爭相關的浮雕。
5. (C) 佛教是臺灣的重要宗教信仰之一，關於佛教之敘述，下列何者正確？ (A) 現今印度地區信仰人口最多的宗教 (B) 反對婆羅門教所主張的靈魂輪迴、因果報應等理念 (C) 主張眾生平等，修行、行善後人人皆可成佛 (D) 西元一世紀由釋迦牟尼所創。
6. (C) 古印度文明的摩亨約達羅和哈拉帕兩座古城約建於西元前兩千多年，城內有水井、下水道、公眾大浴池等設施，建築物及市街井然有序。請問：關於這兩個城市遺址的敘述，下列何者錯誤？ (A) 屬於印度河流域的古文明 (B) 位於印度的西北方 (C) 西元前 1500 年，波斯人入侵此區域 (D) 可看出城市規畫完善且具遠見。
7. (D) 阿利安人入侵印度地區後，利用婆羅門教，發展出階級森嚴的種姓制度。請問：其目的應為下列何者？ (A) 提倡周而復始的觀念 (B) 安撫戰亂中的社會人心 (C) 宣揚眾生平等的觀念 (D) 維持其統治的地位。
8. (B) 阿拉伯數字始創於□□，後來傳到阿拉伯地區，因此而得名。現在它已成為全球目前使用最廣泛的數字系統。請問：□□應填下列何者最適當？ (A) 埃及 (B) 印度 (C) 蘇美 (D) 中國。
9. (B) 歐幾里德在亞歷山大港教書並度過一生，致力於科學的研究，其著作被認為是史上最成功的教科書。請問：關於歐幾里德的生平，下列何者錯誤？

(A) 他生活在希臘化時期 (B) 他提出槓桿、浮力等原理 (C) 利瑪竇曾與徐光啟將他的名著翻譯成中文 (D) 他著有《幾何原本》，至今仍為幾何學的權威作品。

10. (C) (甲) 埃及 (乙) 羅馬 (丙) 西亞 (丁) 希臘。希臘化文化是融合以上哪些地區的文化而形成的？ (A) 甲乙丙 (B) 甲乙丁 (C) 甲丙丁 (D) 乙丙丁。
11. (C) 附圖是某一個帝國的疆域圖。在圖中可發現帝國的版圖橫跨數洲。請問：建立此一版圖的君王是誰？ (A) 屋大維 (B) 君士坦丁 (C) 亞歷山大 (D) 凱撒。



12. (C) 「定罪須以條文為準，在未確立一個人有罪前，他都是無罪的。」這個我們耳熟能詳的法律觀念，最早可在哪一法典中找到？ (A) 《漢摩拉比法典》 (B) 《吠陀經》 (C) 《十二表法》 (D) 《新約聖經》。
13. (D) 此人在羅馬共和晚期獨攬大權，西元前 44 年他被保守派貴族刺殺而死。請問：他應為何人？ (A) 君士坦丁 (B) 屋大維 (C) 亞歷山大 (D) 凱撒。
14. (B) 羅馬某一時期由公民大會選出兩名執政官為國家領袖，任期一年，如有緊急狀況時則選擇其中一人擔任獨裁官。執政官與元老院成員均出身於貴族，造成平民百姓的不滿，幾經抗爭後，另外選出護民官來維護平民權利。請問：此一時期為何？ (A) 王政時期 (B) 共和時期 (C) 帝制時期 (D) 東西羅馬分裂時期。

二、題組

(一) 四大古文明運用其先天的優勢環境，加上後天人為的努力，奠定了人類最早的文明基礎，並在文化、科技、政治上等各個領域擁有高度的成就。請回答下列問題：

(A) (15) 下列哪一個民族原先定居於伊朗高原，並在西元前六世紀建立橫跨歐、亞、非三洲的大帝國？ (A) 波斯人 (B) 埃及人 (C) 阿利安人 (D) 西臺人。

(C) (16) 如果想實地探訪擅長「占星術」和確立「一週七天」的民族，可以前往附圖中的何處？ (A) 甲 (B) 乙 (C) 丙 (D) 丁。



(B) (17) 蘇美人與埃及人共同的文明成就為何？ (A) 使用陰曆 (B) 發明文字 (C) 發展航海技術 (D) 使用鐵製武器。

(C) (18) 文字的使用為古文明的特色之一。下列對於各古文明文字的敘述，何者有誤？ (A) 蘇美人發明楔形文字，在西亞地區廣為流傳 (B) 中國的甲骨文以卜辭為主，且已脫離原始文字畫的階段 (C) 埃及人使用的表音字母僅在非洲一地流傳，並未向外傳播 (D) 腓尼基人透過航海與經商，將改良的埃及文字對外傳播，成為西方字母的源頭。

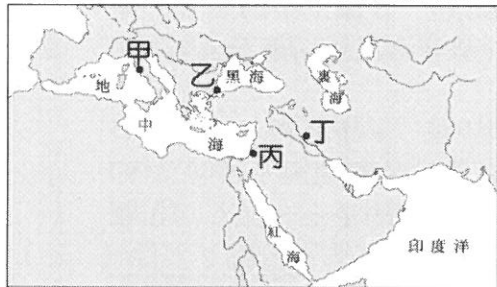
(二)希臘文化是現今西方世界文化的基石，舉凡政治制度、哲學思想、科學發展等等，莫不受其影響。請回答下列問題：

(B)(19)(甲)被稱為「歷史之父」的希羅多德 (乙)獨攬大權卻遭暗殺的凱撒 (丙)描述特洛伊戰爭的荷馬 (丁)開啟羅馬帝制時期的屋大維 (戊)希臘三哲之一的蘇格拉底。上述何者屬於希臘時代的重要人物？ (A)甲乙丙 (B)甲丙戊 (C)乙丙丁 (D)丙丁戊。

(D)(20)希臘文化由許多的城邦所組成，下列描述的哪一個城邦並不位於希臘半島上？ (A)其民主制度被視為西方民主政治的先驅 (B)實行軍國主義，重視紀律與服從 (C)為現今奧運的發源地 (D)荷馬史詩描述的戰爭地點。

(B)(21)(甲)撰寫西方最早的歷史作品 (乙)強調均衡、對稱與和諧之美的帕德嫩神廟 (丙)傳說由狼乳所撫養長大的民族 (丁)雅典的守護神——雅典娜女神像 (戊)象徵多神信仰的萬神殿。上述內容哪些屬於希臘文化歷史的範疇？ (A)甲乙丙 (B)甲乙丁 (C)甲乙戊 (D)乙丙丁。

(三)他三十歲開始傳播福音，並改革猶太教，將其教義傳播至各地。他得到人們支持後，卻遭他人忌恨，竟被某位門徒出賣，被統治者處以釘十字架的死刑。他死後三天復活，最後升天，證明他的確是神的兒子，人的救主。他的門徒四處傳揚他為救主的福音，在各城市建立教會。有一位受到感召的年輕猶太人保羅加入此教，並整理出他所傳的教義，與其他使徒共同完成該教經典。請回答下列問題：



(C)(22)文中提及的「他」，最早應在附圖中的何處傳播福音？ (A)甲 (B)乙 (C)丙 (D)丁。

(B)(23)將他處以釘十字架死刑的人，應是下列哪個政權的統治者？ (A)波斯帝國 (B)羅馬帝國 (C)亞述帝國 (D)亞歷山大帝國。

(D)(24)保羅與其他使徒完成的宗教經典，應是下列何者？ (A)《吠陀經》 (B)《古蘭經》 (C)《舊約聖經》 (D)《新約聖經》。

(A)(25)文中的主角「他」應是何人？ (A)耶穌 (B)耶和華 (C)阿育王 (D)釋迦牟尼。