

# 高雄市立嘉興國民中學109學年度第一學期二年級歷史科第一次定期評量試題卷

※同學畫卡時，請使用2B鉛筆，並細心檢查班級、座號等資訊，是否正確。

若答案卡上方，個人資訊畫卡有誤，影響其他學生權益，將扣段考分數5分。

## 一、選擇：單選，每題4分

1. ( ) 某本歷史書籍，出現一幅插畫如下，請問這本書最可能與下列哪一書籍有相同的朝代背景？ (A)《回到秦朝大冒險》 (B)《封神榜之武王伐紂》 (C)《漢朝到底怎麼回事?》 (D)《盛世長歌：走向顛峰的隋唐》。

我是中國第一位皇帝。



2. ( ) 202班在歷史課進行小組討論，各組須分析下表，討論造成平民出身的官員人數比例改變的原因為何，並派人上台發表。請問下列哪一小組同學發表的是正確的分析？

※春秋戰國時期，官員由平民出身的百分比


時間	西元前 722~633 年	西元前 632~543 年	西元 542~464 年	西元 463~344 年	西元 343~221 年
平民出身人數	29	57	49	41	67
平民出身百分比	22%	26%	30%	53%	56%

- (A)孟澤:封建制度讓平民有機會任官，促進社會階級流動  
 (B)進民:此時期平民受教育機會增加，國君用人唯才，布衣可為卿相  
 (C)小朱:政府提倡科舉考試制度，讓出身寒微者能有出人頭地的機會  
 (D)博元:因九品官人法的施行，官員由貴族出任的比例日漸降低。
3. ( ) 歷史老師出了一份作業，要求學生選擇一則重要的歷史事件，並將之編輯成新聞稿件。下表是煒盛的作業，請問：此內容談論的是哪一朝代的歷史事件？ (A)秦 (B)西晉 (C)北魏 (D)隋。

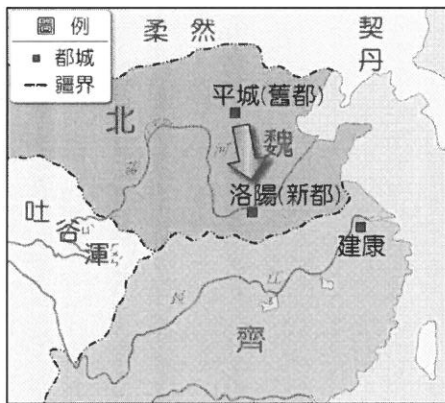
### 首都洛陽淪陷

依據本新聞臺特派記者回報，匈奴人劉淵之子劉聰，日前遣石勒、劉曜等人率軍進攻洛陽，導致我方士兵十萬人慘遭殲滅，王公百姓三萬人死於非命，皇帝更被人強行俘虜。

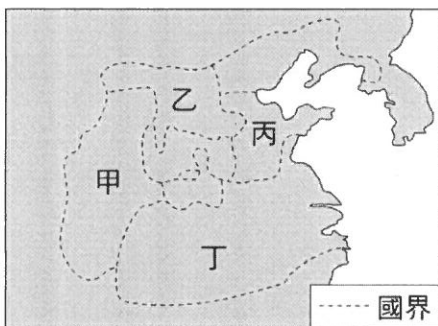
4. ( ) 家祐在歷史劇表演中，扮演的角色是魏晉南北朝-南朝將領王肅。戲劇中，他歸降北魏後，不太適應北魏胡人的飲食，所以他餓了仍吃鯽魚羹，渴了則習慣喝茶水。但時間久了，飲食習慣也慢慢改變，適應當地。請問：家祐在戲劇中做哪一個改變，較符合其歷史背景？ (A)開始吃豬肉、喝小米酒 (B)開始吃駝鳥肉、喝葡萄酒 (C)開始吃羊肉、喝酪乳 (D)開始吃番薯、喝珍珠奶茶。
5. ( ) 《圖說中國史》一書中，放置了一張中國某時期的文字演變圖表，如附圖所示。請問：這張圖表上的甲和乙，分別為下列那些朝代？ (A)甲:隋朝，乙:唐朝 (B)甲:西周，乙:東周 (C)甲:東周，乙:秦朝 (D)甲:秦朝，乙:魏晉南北朝。




6. ( ) 美國漢學家費正清在《中國：傳統與變革》一書中寫道：「作為橫跨中亞陸上商路的東端終點，以及有史以來最大帝國的都城，長安城擠滿了來自亞洲各地的人。」當時城區面積有83平方公里，城內百業興旺，人口近百萬，其中長住的外國人有數萬人之多。他們在長安城中從事商貿、宗教、飲食等各行各業。請問：美國學者書中所述的朝代為何？ (A)秦代 (B)漢代 (C)北魏 (D)唐代。
7. ( ) 好婷在一本魏晉南北朝歷史的書中，看到一幅插圖如下。這幅圖最可能是在說明下列哪一段史實？ (A)北魏孝文帝的漢化政策 (B)永嘉之禍時，皇室逃難路線 (C)南朝向北征討欲收復北方失土 (D)絲路的傳播與文化交流。



8. ( ) 「這是魏晉南北朝時期一種重要的選官制度。主要內容為：在州、郡設置中正官，來品評人物，共分九品。中正再上報中央，作為選拔官吏的根據。中正品評人物，最初重視才德，後來卻更重視家世，造成『上品無寒門，下品無世族』的局面。到了隋代，此制度終於遭到廢除。」這是在描寫中國歷史上的何種制度？ (A)封建制度 (B)禮樂制度 (C)推舉孝子廉吏 (D)九品官人法。
9. ( ) 附圖是戰國時期的形勢圖。請問：最後爭霸並統一天下的是圖中哪個地區的國家？ (A)甲 (B)乙 (C)丙 (D)丁。



10. ( ) 附圖是中國非常著名的建築，東周時期就開始興建，秦代時將各國所興建的部分連結起來。請問：這個建築的主要作用為何？ (A)加強中央對地方的控制 (B)阻擋北方外族的入侵 (C)各國快速連結的交通要道 (D)糧食運輸的主要路線。



11. ( ) 孫吳、東晉、宋、齊、梁、陳皆定都於今天的南京，歷史上合稱為六朝。這些朝代對中國最大的貢獻為何？ (A)有助於日後經濟重心的南移 (B)維護北方的世族地位 (C)強迫北方民族接受漢人文化 (D)奠定東南亞移民的基礎。
12. ( ) 聯合國教科文組織將中國的洛陽龍門石窟與大同雲岡石窟，列為世界文化遺產，這兩處世界文化遺產具有下列何項共同特色？ (A)帝王陵寢的經典建築 (B)佛教藝術的代表古蹟 (C)抵禦強敵的軍事工程 (D)隋唐城市建築的遺址。
13. ( ) 亞洲旅遊台節目想拍「發現大絲路第五季」，請問節目小編在描述宣傳此節目時，下列哪一句話最為正確且適合放入節目影片中？ (A)絲路只能運送絲綢，無法運送其他貨物 (B)周武王曾派遣管仲由此道路出使西域 (C)西漢時以此道路攏絡西域抵抗匈奴 (D)絲路可至歐洲大秦帝國，此為秦始皇後代所建立。

接續下頁

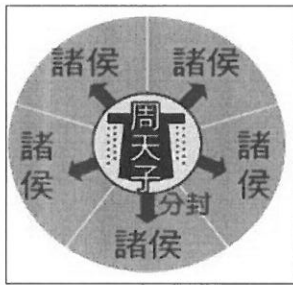
14. ( ) 資料一：美國學者Schafer在其所著的《唐代的外來文明》中說：「在唐朝統治的萬花筒般的三個世紀中，幾乎亞洲的每個國家都有人曾經進入過唐朝這片神奇的土地——前來唐朝的外國人中，主要有使臣、僧侶和商人這三類人。」

資料二：《資治通鑑》記載，貞觀十四年（公元640年）開始，長安國子監增築學舍並增加學員，「於是四方學者雲集京師，乃至高麗、百濟、新羅、高昌、吐蕃諸酋長亦遣子弟請入國學，聖堂講筵者至八千餘人。」

請問：根據資料一、二，這顯示唐代的何種文化特質？ (A)強迫周邊民族接受中國文化 (B)排斥外來異族文化 (C)對外族多元開放的態度 (D)歧視周邊民族的文化。

15. ( ) 日本曾經在七世紀至九世紀多次派出使節團出使中國，成員包含僧人及留學生，他們學習中國的文化與制度，如漢字、儒家經典、科舉制度、律令制度等，頻繁交流的成果對日本國內的政治與文化產生重大的變革與影響。請問上述情形可能發生於中國歷史上哪一朝代？ (A)周朝 (B)秦朝 (C)漢朝 (D)唐朝。

16. ( ) 有關下圖此種政治體制，下列敘述何者正確？ (A)郡縣制，長官可世襲 (B)郡縣制，周天子無實權 (C)封建制度，周天子透過分封鞏固王室 (D)封建制度，諸侯官派不可世襲。

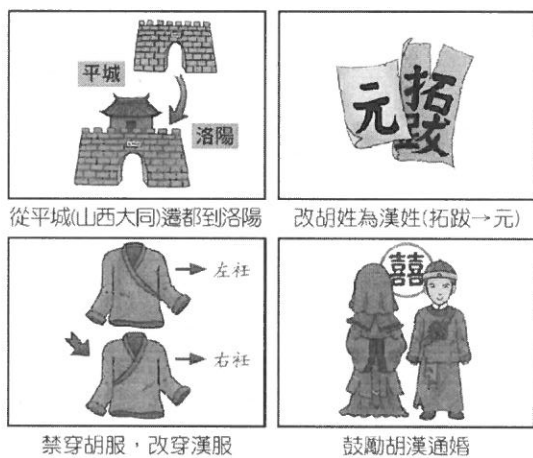


17. ( ) 最近電影上映《花木蘭》，劇情為木蘭的父親接到兵單被徵召從軍，木蘭考量父親年事已高，她雖為女性但仍決定要代父從軍。此電影一上映便引發許多爭議，網路上更有許多人開始討論木蘭的身分，更有許多佐證資料指出木蘭應是胡人，而非漢人。參照資料一、二，下列何者分析最為正確？ (A)「可汗」為草原民族領袖的稱呼 (B)「可汗」為漢人統治者的稱呼 (C)「天可汗」指的是草原民族領袖崇敬的神明 (D)「天可汗」的地位階是低於「可汗」。

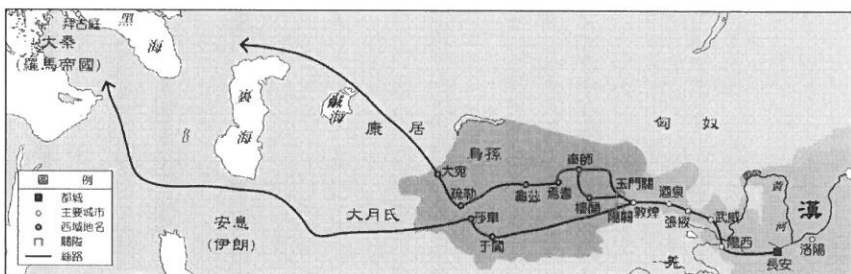
資料一：北朝《木蘭詩》節錄：「昨夜見軍帖，可汗大點兵，軍書十二卷，卷卷有爺名。」

資料二：唐太宗貞觀四年（西元630年）唐軍於陰山大敗東突厥，西北君主紛紛獻上「天可汗」稱號。

18. ( ) 附圖是中國某時期的漢化政策示意圖，由圖中的內容判斷這應該是哪個君主所推動的政策？ (A)周武王 (B)北魏孝文帝 (C)秦始皇 (D)漢武帝。



19. ( ) 思宇參加全民星攻略，回答歷史題，請問下圖與哪一歷史人物最為相關？ (A)管仲 (B)張騫 (C)秦始皇 (D)商鞅。



## 二、題組：每題4分

1. 永信下載的一款遊戲「回到古代去當官」，遊戲目標是回到古代中國，然後變成一名飛黃騰達的官員，成為人生勝利組。開啟遊戲進入畫面後，在第一階段有四個角色可以選擇，角色特性如下：

姓名	人格特質	特殊技能	家世背景
白起	沉默寡言、殘暴狠辣	戰爭奪城 戰鬥力+100	將領之後代
王導	個性寬厚、善於輔佐	聲望提升 地方名聲+200	琅琊王氏(世族)，是名門望族
黃香	孝順出名、熟讀儒家經典	冬天暖被 地方名聲+50	平民
白居易	樂天正直、善寫詩文	文采翩翩 科舉考上機率提高兩倍	父親為地方小官

請問：

- ( ) (20) 如果目標選在漢武帝時，永信選那個角色入手最容易當官？ (A)白起 (B)王導 (C)黃香 (D)白居易。
- ( ) (21) 當永信完成新手遊戲後，遊戲開放自由選朝代的功能。他選擇時代為戰國，並使用角色輕鬆完成指定任務：「迎戰楚國，拿下楚國首府郢都，此戰必勝」。請問上述哪一角色最適合此一關卡？ (A)白起 (B)王導 (C)黃香 (D)白居易。
- ( ) (22) 永信使用隨機挑選朝代，剛好跳到魏晉南北朝。請問：若要在魏晉南北朝一路順遂，官運亨通。哪一人物的特質最為合適？ (A)白起 (B)王導 (C)黃香 (D)白居易。
- ( ) (23) 後來，泓丞也加入遊戲，他按指定朝代隋唐。請問挑選哪一人物，其特質最適合此朝代的選才方式？ (A)白起 (B)王導 (C)黃香 (D)白居易。

2. 商鞅變法後，秦國可能已經全面實行戶籍制度，在《商君書》中提到：『全國境內，不論男女，都有名籍在官府。初生者登錄，死者消除。』為有效掌握人民及相關資源，戶籍制度提供統治者所需要的基本資料，國家對人民的賦稅或徵兵才有所依據。」

請問：

- ( ) (24) 由上文的内容來看，其主要在探討下列何主題？ (A)秦漢時期的戶籍制度 (B)西周封建制度的推展 (C)漢代的選才制度 (D)西晉的選才制度。
- ( ) (25) 此一制度實施後所帶來的影響可能為何？ (A)政府權力更為分散 (B)中央集權得到強化 (C)地方諸侯勢力坐大 (D)政府財源難以掌控。。

試題結束

# 高雄市立嘉興國民中學109學年度第一學期二年級歷史科第一次定期評量試題卷

※同學畫卡時，請使用2B鉛筆，並細心檢查班級、座號等資訊，是否正確。

若答案卡上方，個人資訊畫卡有誤，影響其他學生權益，將扣段考分數5分。

## 一、選擇：單選，每題4分

1. (A) 某本歷史書籍，出現一幅插畫如下，請問這本書最可能與下列哪一書籍有相同的朝代背景？ (A)《回到秦朝大冒險》 (B)《封神榜之武王伐紂》 (C)《漢朝到底怎麼回事?》 (D)《盛世長歌：走向顛峰的隋唐》。

我是中國第一位皇帝。



2. (B) 202班在歷史課進行小組討論，各組須分析下表，討論造成平民出身的官員人數比例改變的原因為何，並派人上台發表。請問下列哪一小組同學發表的是正確的分析？

※春秋戰國時期，官員由平民出身的百分比

時間	西元前 722~633 年	西元前 632~543 年	西元 542~464 年	西元 463~344 年	西元 343~221 年
平民出身人數	29	57	49	41	67
平民出身百分比	22%	26%	30%	53%	56%

- (A)孟澤:封建制度讓平民有機會任官，比例日益增加，促進階級流動  
 (B)進民:春秋戰國，平民受教育機會增加，國君用人唯才，布衣可為卿相  
 (C)小朱:政府提倡科舉考試制度，讓出身寒微者能有出人頭地的機會  
 (D)博元:因九品官人法的施行，官員由貴族出任的比例日漸降低。
3. (B) 歷史老師出了一份作業，要求學生選擇一則重要的歷史事件，並將之編輯成新聞稿件。下表是煒盛的作業，請問：此內容談論的是下列何朝的歷史？ (A)漢 (B)西晉 (C)北魏 (D)隋。

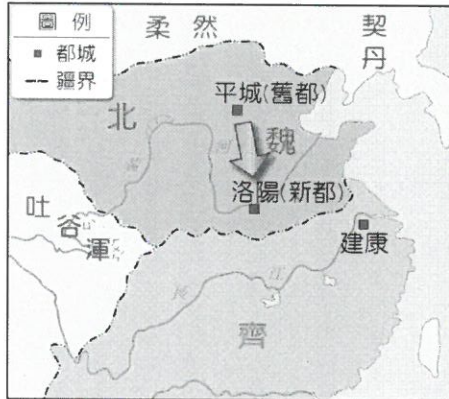
### 首都洛陽淪陷

依據本新聞臺特派記者回報，匈奴人劉淵之子劉聰，日前遣石勒、劉曜等人率軍進攻洛陽，導致我方士兵十萬人慘遭殲滅，王公百姓三萬人死於非命，皇帝更被人強行俘虜。

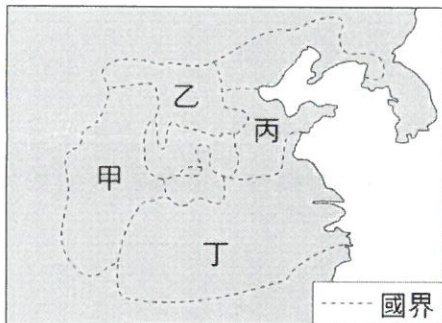
4. (C) 家祐在歷史劇表演中，扮演的角色是魏晉南北朝-南朝將領王肅。戲劇中，他歸降北魏後，不太適應北魏胡人的飲食，所以他餓了仍吃鯽魚羹，渴了則習慣喝茶水。但時間久了，飲食習慣也慢慢改變，適應當地。請問：家祐在戲劇中做哪一個改變，較符合其歷史背景？ (A)開始吃豬肉、喝米酒 (B)開始吃駝鳥肉、喝葡萄酒 (C)開始吃羊肉、喝酪乳 (D)開始吃番薯、喝珍珠奶茶。
5. (U) 《圖說中國史》一書中，放置了一張中國某時期的文字演變圖表，如附圖所示。請問：這張圖表上的甲和乙，分別為下列那些朝代？ (A)甲:隋朝，乙:唐朝 (B)甲:西周，乙:東周 (C)甲:東周，乙:秦朝 (D)甲:秦朝，乙:魏晉南北朝。

	甲							乙
文	齊	楚	燕	韓	趙	魏	秦	統一文字
(馬)	𠄎	𠄎	𠄎	𠄎	𠄎	𠄎	𠄎	(馬) 𠄎
字	(安) 𠄎	(安) 𠄎	(安) 𠄎	(安) 𠄎	(安) 𠄎	(安) 𠄎	(安) 𠄎	(安) 𠄎

6. (D) 美國漢學家費正清在《中國：傳統與變革》一書中寫道：「作為橫跨中亞陸上商路的東端終點，以及有史以來最大帝國的都城，長安城擠滿了來自亞洲各地的人。」當時城區面積有83平方公里，城內百業興旺，人口近百萬，其中長住的外國人有數萬人之多。他們在長安城中從事商貿、宗教、飲食等各行各業。請問：美國學者書中所述的朝代為何？ (A)秦代 (B)漢代 (C)北魏 (D)唐代。
7. (A) 好婷在一本魏晉南北朝歷史的書中，看到一幅插圖如下。這幅圖最可能是在說明下列哪一段史實？ (A)北魏孝文帝的漢化政策 (B)爆發永嘉之禍時的皇室逃難路線 (C)南朝向北征討欲收復北方失土 (D)絲路的傳播與文化交流。



8. (D) 「這是魏晉南北朝時期一種重要的選官制度。主要內容為：在州、郡設置中正官，來品評人物，共分九品。中正再上報中央，作為選拔官吏的根據。中正品評人物，最初重視才德，後來卻更重視家世，造成『上品無寒門，下品無世族』的局面。到了隋代，此制度終於遭到廢除。」這是在描寫中國歷史上的何種制度？ (A)封建制度 (B)禮樂制度 (C)推舉孝子廉吏 (D)九品官人法。
9. (A) 附圖是戰國時期的形勢圖。請問：最後爭霸並統一天下的是圖中哪個地區的國家？ (A)甲 (B)乙 (C)丙 (D)丁。



10. (B) 附圖是中國非常著名的建築，東周時期就開始興建，秦代時將各國所興建的部分連結起來。請問：這個建築的主要作用為何？ (A)加強中央對地方的控制 (B)阻擋北方外族的入侵 (C)各國快速連結的交通要道 (D)糧食運輸的主要路線。



11. (A) 孫吳、東晉、宋、齊、梁、陳皆定都於今天的南京，歷史上合稱為六朝。這些朝代對中國最大的貢獻為何？ (A)有助於日後經濟重心的南移 (B)維護北方的世族地位 (C)強迫北方民族接受漢人文化 (D)奠定東南亞移民的基礎。
12. (B) 聯合國教科文組織將中國的洛陽龍門石窟與大同雲岡石窟，列為世界文化遺產，這兩處世界文化遺產具有下列何項共同特色？ (A)帝王陵寢的經典建築 (B)佛教藝術的代表古蹟 (C)抵禦強敵的軍事工程 (D)隋唐城市建築的遺址。
13. (U) 亞洲旅遊台節目想拍「發現大絲路第五季」，請問節目小編在描述宣傳此節目時，下列哪一句話最為正確且適合放入節目影片中？ (A)中國的佛教、文化和器物由此輸出 (B)周武王派遣張騫由此道路出使西域 (C)西漢時以此道路攏絡西域抵抗匈奴 (D)絲路可至歐洲大秦帝國，此為秦始皇後代所建立。

接續下頁



二、題組：每題4分

1. 永信下載的一款遊戲「回到古代去當官」，遊戲目標是回到古代中國，然後變成一名飛黃騰達的官員，成為人生勝利組。開啟遊戲進入畫面後，在第一階段有四個角色可以選擇，角色特性如下：

姓名	人格特質	特殊技能	家世背景
白起	沉默寡言、殘暴狠辣	戰爭奪城 戰鬥力+100	將領之後代
王導	個性寬厚、善於輔佐	聲望提升 地方名聲+200	琅琊王氏(世族)·是名門望族
黃香	孝順出名、熟讀儒家經典	冬天暖被 地方名聲+50	平民
白居易	樂天正直、善寫詩文	文采翩翩 科舉考上機率提高兩倍	父親為地方小官

請問：

- (C) (20) 如果目標選在漢代，請問永信選那個角色入手最容易達成？ (A)白起 (B)王導 (C)黃香 (D)白居易。
- (A) (21) 當永信完成新手遊戲後，遊戲開放自由選朝代的功能。他選擇時代為戰國，並使用角色輕鬆完成指定任務：「迎戰楚國，拿下楚國首府郢都」。請問上述哪一角色最適合此一關卡？ (A)白起 (B)王導 (C)黃香 (D)白居易。
- (B) (22) 永信使用隨機挑選朝代，剛好跳到魏晉南北朝。請問：若要在魏晉南北朝一路順遂，官運亨通。哪一人物的特質最為合適？ (A)白起 (B)王導 (C)黃香 (D)白居易。
- (D) (23) 後來，泓丞也加入遊戲，他按指定朝代隋唐，請問挑選哪一人物，其特質最適合此朝代的選才方式？ (A)白起 (B)王導 (C)黃香 (D)白居易。

2. 商鞅變法後，秦國可能已經全面實行戶籍制度，在《商君書》中提到：『全國境內，不論男女，都有名籍在官府。初生者登錄，死者消除。』為有效掌握人民及相關資源，戶籍制度提供統治者所需要的基本資料，國家對人民的賦稅或徵兵才有所依據。」

請問：

- (A) (24) 由上文的内容來看，其主要在探討下列何主題？ (A)秦漢時期的戶籍制度 (B)西周封建制度的推展 (C)禮樂制度的沒落 (D)秦國的選才制度。
- (B) (25) 此一制度實施後所帶來的影響可能為何？ (A)政府權力更為分散 (B)中央集權得到強化 (C)地方諸侯勢力坐大 (D)政府財源難以掌控。。

試題結束