

高雄市立嘉興國民中學108學年度第二學期二年級歷史科第三次段考試題卷

請用 2B 鉛筆畫卡作答，班級座號等資訊畫記錯誤者，扣總分 5 分，請同學細心檢查。


試題共 25 題，每題 4 分，共 100 分。

一、單一選擇題

- () 民國 13 年 10 月，孫中山曾發文通告國民黨員，說明：「本總理受之在前，黨人即不應議之在後。」、「來者不拒，所以昭吾黨之量能容物。」、「團體之內無新舊分子之別，在黨言黨，唯有視能否為本黨之主義負責、奮鬥而定其優劣。」以上三段文字是指孫中山對所採取的哪一政策的意見？
(A) 北伐
(B) 護法運動
(C) 聯俄容共
(D) 清黨。
- () 以下是一位旅行者在上海的見聞：「上海的工廠地帶可以看到轟炸的痕跡，有來到了戰場的感覺。但是如果來到租界區，興盛的商業中心立即映入眼中。在此，歐、美國家的主要銀行林立，國民政府的官方銀行—中央銀行，以及中國銀行、交通銀行等仍然繁忙地繼續營業，處理租界區內法幣的發行與交易。」此人最可能是在下列何時參訪上海？
(A) 1830 年代
(B) 1890 年代
(C) 1930 年代
(D) 1990 年代
- () 在某本以近現代中國為背景的小說中寫到：「最近，國家開始實施新政策，由政府指定中央、交通、中國這幾家銀行發行法幣。我想，此政策若真能好好實行，改善過去幣制混亂的情況，買賣交易就比較好做了。」這段話所呈現的最可能是中國處於下列何種局勢下的情況？
(A) 國共內戰期間，政府推動憲政改革
(B) 八年抗戰前期，政府決心對日抗戰
(C) 北伐統一完成，政府致力建設發展
(D) 八年抗戰後期，政府籌措資金抗日。
- () 他始終相信平民的潛在力量，他認為中國和第三世界國家中被蹂躪的苦力，都可受識字教育而成為有用、有生產力的人，進而在地方上積極推動平民教育。請問：上述的「他」是指何人？
(A) 晏陽初
(B) 陳獨秀
(C) 梁啟超
(D) 胡適。
- () 子原到四川九寨溝旅遊，途中看到一個石碑豎立於山坡上，上面記載所謂「二萬五千里長征」的歷史事件。請問：此石碑所記載的事件，其歷史背景為何？
(A) 民國 15~17 年革命軍北伐
(B) 民國 19~24 年國共內戰
(C) 民國 26~34 年對日抗戰
(D) 民國 55~65 年文化大革命。
- () 「學校師生要向日本天皇及當時在位的滿皇帝遙拜，唱國歌，背誦溥儀的詔書，且學生必須學習日語，並被灌輸『日滿一體』的思想。」上述情況最可能發生於下列何時何地？
(A) 1915 年的臺北
(B) 1920 年的香港
(C) 1940 年的瀋陽
(D) 1945 年的重慶。
- () 周恩來曾說：「張學良是『千古功臣』。」；胡適則說：「蔣中正先生始終不能寬恕張學良的原因，是因為張所採取的行動，解除中共的危機，造成中共日後的壯大。」請問：這是因哪一件事，而有如此截然不同的歷史評價？
(A) 九一八事變
(B) 盧溝橋事變
(C) 西安事變
(D) 五三慘案。
- () 老師在課堂上要同學以「八年抗戰」（1937~1945 年）這段時期的歷史為背景，進行角色扮演。下列哪一位同學應是扮演當時國民政府官員的角色？
(A) 文嘉：「為了結束戰爭，我們不得不在當地投下原子彈。」
(B) 冠廷：「我們利用對外戰爭壯大了勢力，最後終於取得中國的政權。」
(C) 順宇：「這次戰爭使我們控制東亞的夢想破滅，傷亡慘重，最後宣布投降。」
(D) 德恩：「這戰爭使我們與各國另訂平等新約，解脫百年來不平等條約的束縛。」
- () 有一本小說，內容描述戰爭時期的學校生活，當時首都由南京遷到重慶，敵人則在原首都另立政權。書中主角隨政府撤退到西南後方，最後響應政府的號召而投筆從戎。這部小說的創作背景應是下列何者？
(A) 民國 15~17 年間國民革命軍北伐
(B) 民國 23~25 年間中共「長征」
(C) 民國 26~34 年間對日抗戰
(D) 民國 39~42 年間韓戰衝突。

尚有試題，請繼續作答

10. ()下列各項事件的敘述，何者正確？
 (A)九一八事變揭開八年抗戰的序幕
 (B)珍珠港事變爆發後，中、美、英同盟並肩作戰
 (C)五三慘案使中國北伐進展更為順暢
 (D)《雅爾達密約》使中國成功取回東北。
11. ()律綺在書中看到一段話：「民國 20 年，日軍自行炸毀瀋陽附近的一段鐵路，然後藉口是中國軍隊所為，立即發兵進占東北。由此可知日本對中國的侵略野心。」以上的內容，敘述的應該是下列哪一事件的發生經過？
 (A)濟南慘案
 (B)盧溝橋事變
 (C)九一八事變
 (D)滿洲國成立。
12. ()1945~1947 年美國總統杜魯門指派○訪華，力促國共停火。《時代》雜誌曾對他的訪華下了這樣的註解：「希望『不能浪費』第二次世界大戰勝利，將美國的影響力和民主擴大到遠東，可是，他的這一次中國之行，最終將證明他的一切想法與努力，不過是浪費。」請問：上文○為下列何人？
 (A)羅斯福
 (B)馬歇爾
 (C)邱吉爾
 (D)麥克阿瑟。
13. ()在宇崧收藏的舊紙幣中，恰好有同一年由國民政府在中國大陸先後發行的三種紙幣（如附圖）。請問：從紙幣發行面額的變化，可推知當時的經濟情形為何？

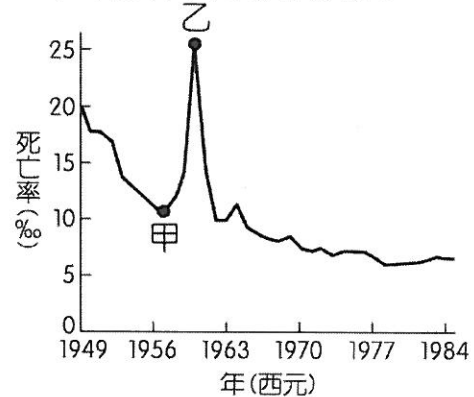


- (A)國家強盛，紙幣的價值升高
 (B)通貨膨脹，貨幣購買力變低
 (C)經濟發達，貨幣需求量大增
 (D)物資缺乏，製幣的成本增加。

14. ()1950 年代，在附圖的文宣上，可以看到兩名前往□□作戰的中國人民解放軍，胸前配有志願軍的胸章。請問：上述□□指的是下列何地？



- (A)朝鮮
 (B)越南
 (C)臺灣
 (D)香港。
15. ()附圖是參考某段期間中國人口死亡率估算值而繪製的曲線圖，圖中甲、乙二點之間死亡率的變化，最可能與下列何者有關？



- (A)人民響應抗美援朝，參與韓戰而造成傷亡慘重
 (B)大躍進運動期間，政策失當所導致的嚴重饑荒
 (C)文化大革命時，紅衛兵鬥爭造成眾多人口死亡
 (D)六四天安門事件爆發，政府鎮壓大量抗議群眾。
16. ()「某個時期，人們對毛澤東的小紅書，像對《聖經》；對毛澤東的話，像對神諭；對毛澤東，從內心噴發出宗教式無條件的崇敬和盲目的激情。」請問：上述內容應在描述中華人民共和國哪一個時期的社會現象？
 (A)八年抗戰
 (B)國共內戰
 (C)大躍進
 (D)文化大革命。

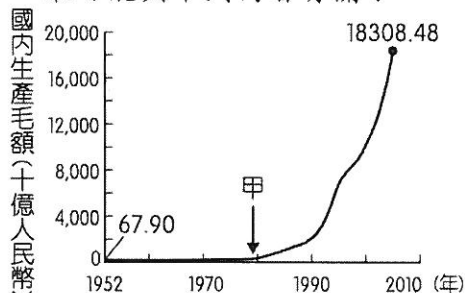
尚有試題，請繼續作答

17. () 附圖是某一時期中共的政治宣傳海報。請問：海報中提出的「四個現代化」是指哪四個方面要現代化？

我們的國家必須在四個方面實施現代化才行。



- (A) 農業、工業、國防、科技
 (B) 民主、科學、自由、平等
 (C) 農業、工業、民主、開放
 (D) 農業、工業、經濟、國防。
18. () 附圖呈現中國 1952 年至 2005 年國內生產毛額的數據資料。圖中曲線從甲處後有明顯變動的情況，最可能與下列何者有關？



- (A) 利用韓戰爆發契機，提高進口關稅
 (B) 大躍進提倡生產，民眾盡全力煉鋼
 (C) 發動文化大革命，進行全面的改造
 (D) 實施改革開放政策，引進外來資金。
19. () 有史學家評論現代中國某位人物時，說道：「他能夠在歷史上占一席位，最重要的一點就是 1979 年勇敢徹底地改變了毛澤東的路線……。在這個時代，『經濟掛帥』取代毛澤東的『政治掛帥』。」請問：上述這個現代中國人物指的是誰？
- (A) 江澤民
 (B) 胡錦濤
 (C) 習近平
 (D) 鄧小平。

二、題組

(一) 附圖是國民政府北伐路線示意圖，請問：



20. () 從廣州出發的這一方，在過程中曾分裂成兩個陣營，分別位於圖中何處？
 (A) 甲乙 (B) 甲丙 (C) 乙丙 (D) 乙丁。
21. () 這場戰爭進行到何處時，遭到日本出兵干預？
 (A) 甲 (B) 乙 (C) 丙 (D) 丁。

(二) 以下為民國時期的一份文告：

「帝國主義者既使軍閥竊取政權，又使軍閥盜賣國家；既使軍閥永演閥牆之爭，令吾民受盡兵刀之苦，更嗾使軍閥壓迫革命運動，欲吾民永無自決之日……。」

以軍閥為刀俎，以吾民為魚肉，如此則無怪乎中國農民不能安於鄉，工人不能安於市，商民不能安於行旅，知識界不能安於校舍……。」

近者北方軍閥混戰經年，北京政府已不存在，我中國中部及北部人民，不但無好政府，而且亦無惡政府；不但無從減少既有之痛苦，亦且無法減輕新痛苦增加之速度……。」

……本黨至此，忍無可忍，乃不能不決於出師之一途矣……。」

22. () 下列哪一個人物，領導了此次的「出師」？
 (A) 蔡鍔
 (B) 孫中山
 (C) 張學良
 (D) 蔣中正。
23. () 在「出師」的過程中，並沒有「發生」下列哪一個事件？
 (A) 上海清黨
 (B) 寧漢分裂
 (C) 濟南慘案
 (D) 西安事變。
24. () 從文中內容可知，其所指涉的「軍閥」對象，並不包含下列何人？
 (A) 張勳
 (B) 張作霖
 (C) 孫傳芳
 (D) 吳佩孚。
25. () 文告中的「出師」一詞，指的是下列哪一項史實？
 (A) 護國軍起義
 (B) 國民革命軍北伐
 (C) 北洋軍閥混戰
 (D) 孫中山護法運動。

試題結束