

高雄市嘉興國民中學 108 學年度第二學期二年級地理科第三次定期評量試題卷


範圍：第四冊 L5~L6

班級：_____ 座號：_____ 姓名：_____

※1. 年級代號〔二〕 科目、組別代號不用畫；未填妥個人資料，扣 5 分 2. 請將答案清楚畫記在答案卡上。

一、單選題(每題4分)

- () 1. 東南亞為國人最為熟悉的度假地區，近年來和日本、中國並列為亞洲三大旅遊市場。請依下列照片選出正確配對者。




(A)泰國



(B)馬來西

亞



(C)印尼



(D)新加坡

- () 2. 北韓的工業發展歷史比南韓早，但人民生活水準遠低於南韓。下列哪項因素是對上述現象的最適當解釋？

- (A)北韓長期開發礦產，礦產多數枯竭
(B)北韓長期進口大量原料，耗盡國家外匯
(C)北韓長期重視國防工業、輕忽民生工業
(D)北韓氣候較南韓寒冷，不利於發展經濟活動

- () 3. 東南亞因鄰近中國，加上環境與中國相似，成為中國人口外移的地區之一。早期帆船時代，若福建人、廣東人想乘船移居東南亞，則選在下列哪天前後最為理想？

- (A)元宵節 (B)端午節 (C)七夕 (D)中秋節

- () 4. 隨著韓劇的流行，南韓的文化、料理、流行時尚等逐漸風靡亞洲。韓劇裡展現的衣食住行、言行舉止，皆能呈現出韓國的民族特色。下列關於南韓的相關敘述何者有誤？

- (A)汶峰：人口集中在東部，因為平原主要位於日本海沿岸。

- (B)翊家：人民愛吃泡菜，主要是因為冬季嚴寒，缺乏新鮮蔬菜，故需先醃製起來儲存。
(C)建銘：許多韓國傳統文化都可看見中國文化的影子，主要原因是地緣位置接近中國。

- (D)紘宇：經濟發展快速，積極發展精密機械、電子、資訊等產業，其發展工業的經濟政策是政府扶植大型財團，故經濟成長多由大企業主導。

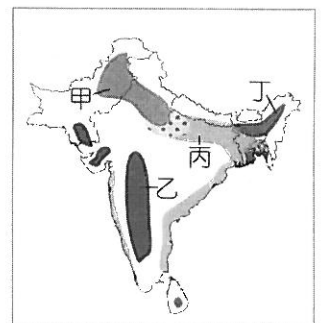
- () 5. 雪巴人是藏族的一支，五百年前從西藏東部，遷移到喜馬拉雅山區過著游牧生活。1930 年代以後，西方人從事登山活動，僱用當地的雪巴人為挑夫，從此以後「雪巴」也成為登山挑夫或嚮導的代名詞。請問：由文中可知雪巴人主要居住在圖中何處？



- (A)甲 (B)乙 (C)丙 (D)丁。

- () 6. 右圖是「南亞的農業分布圖」，圖中各區與主要種植的作物配對，何者正確？

- (A)甲—稻米
(B)乙—小麥
(C)丙—棉花
(D)丁—茶葉



- () 7. 日本人喜歡在櫻花樹底一起賞櫻，櫻花花期由南至北，最早約於 3 月中在九州綻放，最遲於 5 月開至北海道。請問：賞櫻日期由南向北變化，與下列哪一因素最相關？

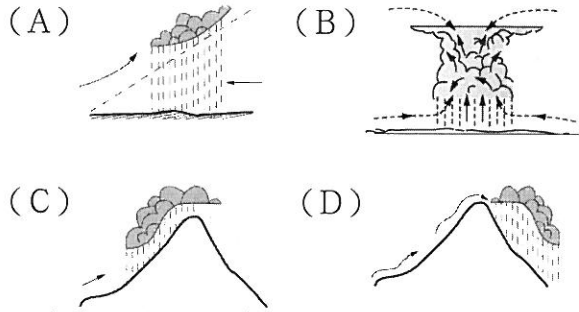
- (A)地勢 (B)緯度 (C)季風 (D)洋流。

- () 8. 保羅看了紀錄片《灣生回家》，「灣生」是指日治時期在臺灣出生的日本人，他們在日本戰敗投降後引揚返日。請問：這些灣生若從花蓮港搭船北返日本，船隻在下列哪一股洋流引領下很快就可抵達目的地？

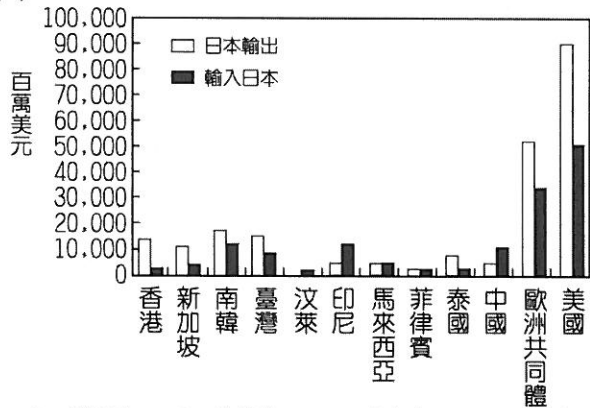
- (A)親潮 (B)黑潮
(C)親潮支流 (D)中國沿岸流。

~請翻面作答~

() 9. 印度東北側的乞拉朋吉因年降水量高居第一，被稱為是「世界雨極」。請問：該地主要降水類型為下列何者？

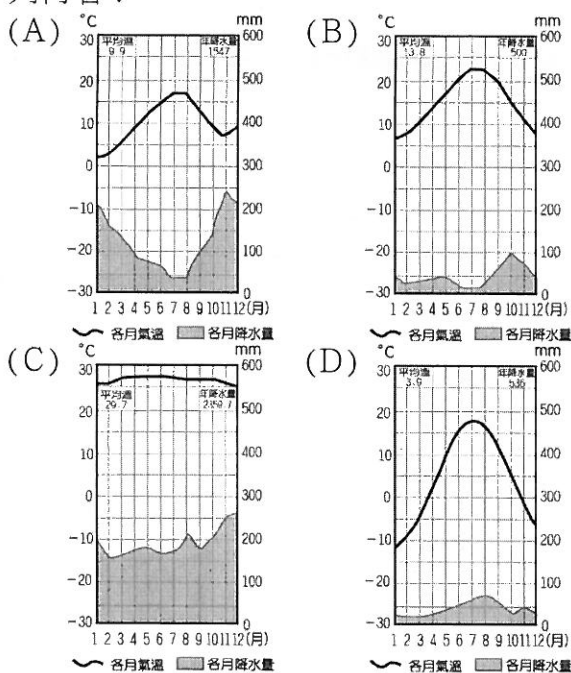


() 10. 日本為亞洲主要的經濟強國，國際貿易為該國的經濟命脈。附圖為某年日本對鄰近國家和世界主要地區的貿易額分布圖，請根據該圖判斷，該年度日本和哪一個國家的總貿易額最高？



(A)美國 (B)印尼 (C)中國 (D)南韓。

() 11. 橡膠、咖啡為東南亞各國重要的出口產品，就其生長條件而言，主要生長的氣候類型應為下列何者？



() 12. 承上題，地理老師請同學們回去研究此類作物所具有的特徵，以下誰的研究結果是正確的？

- (A)小嵐：為東南亞地區自古以來的傳統產業
- (B)小翰：容易受到國際市場價格的影響，風險高
- (C)小原：所種植出來的作物，主要是為了供應國內市場需求
- (D)小毅：為了增加收入，一塊土地上會種植不同的熱帶作物。

() 13. 「東南亞由於地近古文明的中國、印度，西亞的伊斯蘭文化亦傳到此地，19 世紀時曾淪為列強的殖民地，因此在文化、種族上呈現多元化

的現象。」由文中敘述判斷，東南亞在文化、種族方面呈現多元化的主要因素是：甲、歷史發展；乙、地形破碎；丙、經濟活動；丁、地理位置，請問：何者正確？

(A)甲乙 (B)甲丁 (C)乙丙 (D)丙丁。

() 14. 新南向政策的推動和東南亞國協有著密切的關連，隨著東協國家的崛起，該區域的消費能力逐漸受到各國重視。請問下列關於東南亞國協的敘述何者正確？

- (A)所有東南亞 11 個國家都有加入東南亞國協
- (B)東協加一是指東協國家和日本合作的方案
- (C)東協加三是指東協國家和日、台、美合作的方案
- (D)下圖為東南亞國協的旗幟，圖中圓圈及稻穗代表著東協的團結



() 15. 《來自星星的傻瓜》電影中，女主角與同樣喜愛詩歌的男配角原本相談甚歡，女主角進一步表明自己是印度人，但在男主角表示自己是巴基斯坦人時，女主角的笑容瞬間僵化。原來是印度和巴基斯坦兩國關係不佳，導致兩國交惡的原因有下列四項因素：(甲)宗教差異 (乙)礦產爭奪 (丙)領土糾紛 (丁)殖民背景不同。上述正確的是下列何者？

(A)甲乙 (B)甲丙 (C)乙丁 (D)丙丁

() 16. 日本地價昂貴，尤其都市更是如此，若想留宿一晚，往往消費很高。因而發展出一種小艙房剛好夠一個人平躺的「膠囊旅館」，供旅人過夜。造成日本土地地價昂貴的因素，最可能是下列何者？



- (A)位處板塊交界，多火山地震
- (B)山多平原少，地狹人稠
- (C)四周環海，氣候潮濕多雨
- (D)缺乏礦產，國際貿易發達

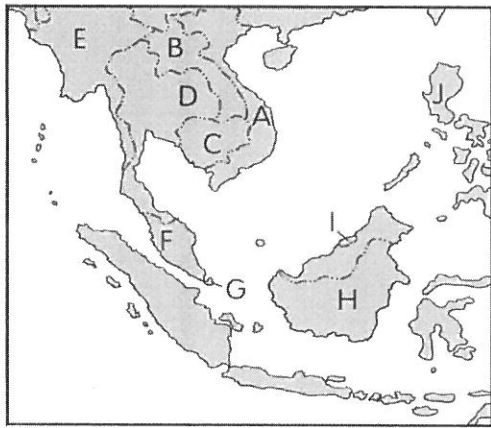
() 17. 都市發展的起源各不相同，若依發展成因來分，東南亞的大都市，如雅加達、曼谷、胡志明市、新加坡等，都屬於哪一類型的都市？

- (A)軍事型 (B)宗教型
- (C)礦產型 (D)港埠型。

~請接下一頁~

二、題組題(每題4分)

※附圖為東南亞簡圖，A~J代表國家。請根據附圖回答18~22題：



() 18. 附圖中，哪一個國家的歲時習俗、典章制度受中國影響最深，下龍灣的石灰岩海岸吸引大量觀光客？

(A) A (B) C (C) D (D) E

() 19. 附圖中，哪三個國家以伊斯蘭教為主要宗教信仰，近年這三個國家又以石油、天然氣賺取大量外匯？

(A) F、H、I (B) F、G、I
(C) G、H、I (D) H、I、J

() 20. 著名的吳哥窟以宏偉建築與細緻浮雕聞名於世，每年吸引大量觀光客，吳哥窟位於附圖中哪一個國家？



(A) B (B) C (C) D (D) E

() 21. 東南亞國家人民對於宗教信仰大多相當虔誠，其中被稱為「微笑國度」的某國更是虔誠的佛教國家，甚至當地速食店的麥當勞叔叔都出現右圖中的姿勢。上述可能為附圖中哪一個國家？

(A) A (B) B
(C) C (D) D。



() 22. 小維的奶奶日前聘用一位外籍幫傭，她會說英語，信奉天主教，來自一個常受颱風侵襲的國家。小維家的這位外籍幫傭，最可能來自下列哪一個國家？

(A) A (B) F (C) H (D) J

※請依下文回答23~25題

新聞報導一：

「印度的『窮人』，即指每月所得在455盧比(約新臺幣300元)以下的都市居民，以及每月所得在328盧比以下的鄉村居民。目前，印度的『窮人』已超過總人口的25%。」

新聞報導二：

「在印度孟買的市區，每戶動輒430萬盧比(約新臺幣306萬元)的豪宅區附近，就是貧民窟，許多居民來自鄉村，而有一半以上的貧民窟居民，住在連廁所都沒有的簡陋小屋中。」

- () 23. 由上述新聞報導的資料可得知，印度正面臨下列何種社會問題？
(A)都市數量有限 (B)貧富差距大
(C)種姓制度仍存在 (D)生產技術落後。
- () 24. 芯鏐今年寒假到印度旅遊，請問在她的遊記中何項敘述最正確？
(A)唉，碰上當地雨季，我可是天天雨傘不離身哪～
(B)哇，居然這麼多人在印度河裡洗澡，我一咬牙也撲通跳進去，希望經由這聖河的洗禮，能洗脫我一切的罪過！
(C)餐餐吃咖哩已經膩了，今天欣喜若狂地衝進麥當勞，卻發現沒賣我最愛的牛肉雙層堡！嗚…
(D)我一口渴就買紅茶來喝，印度這個國家當地盛產的錫蘭紅茶真是茶香味甘呀！
- () 25. (甲)港口眾多，海運便利 (乙)英語為官方語言，溝通較無障礙 (丙)高科技勞工的薪資較低廉 (丁)有信仰階級分明的宗教。臺灣某電子公司近來到印度進行新品的發表，另有傳聞此電子公司想在邦加羅爾設立分公司。請問該公司考慮在此地投資軟體工業是看上當地的哪些利條件？
(A)甲乙 (B)甲丙 (C)乙丙 (D)丙丁。

~作答結束~

高雄市嘉興國民中學 108 學年度第二學期二年級地理科第三次定期評量試題卷

範圍：第四冊 L5~L6

班級：_____ 座號：_____ 姓名：_____

※1. 年級代號〔二〕 科目、組別代號不用畫；未填妥個人資料，扣 5 分 2. 請將答案清楚畫記在答案卡上。

一、單選題(每題4分)

- (D) 1. 東南亞為國人最為熟悉的度假地區，近年來和日本、中國並列為亞洲三大旅遊市場。請依下列照片選出正確配對者。



(A) 泰國




(B) 馬來西

亞



(C) 印尼



(D) 新加坡

- (C) 2. 北韓的工業發展歷史比南韓早，但人民生活水準遠低於南韓。下列哪項因素是對上述現象的最適當解釋？

- (A) 北韓長期開發礦產，礦產多數枯竭
(B) 北韓長期進口大量原料，耗盡國家外匯
(C) 北韓長期重視國防工業、輕忽民生工業
(D) 北韓氣候較南韓寒冷，不利於發展經濟活動

- (A) 3. 東南亞因鄰近中國，加上環境與中國相似，成為中國人口外移的地區之一。早期帆船時代，若福建人、廣東人想乘船移居東南亞，則選在下列哪天前後最為理想？

- (A) 元宵節 (B) 端午節 (C) 七夕 (D) 中秋節

- (A) 4. 隨著韓劇的流行，南韓的文化、料理、流行時尚等逐漸風靡亞洲。韓劇裡展現的衣食住行、言行舉止，皆能呈現出韓國的民族特色。下列關於南韓的相關敘述何者有誤？

- (A) 汶峰：人口集中在東部，因為平原主要位於日本海沿岸。

- (B) 翊家：人民愛吃泡菜，主要是因為冬季嚴寒，缺乏新鮮蔬菜，故需先醃製起來儲存。
(C) 建銘：許多韓國傳統文化都可看見中國文化的影子，主要原因是地緣位置接近中國。
(D) 紘宇：經濟發展快速，積極發展精密機械、電子、資訊等產業，其發展工業的經濟政策是政府扶植大型財團，故經濟成長多由大企業主導。

- (B) 5. 雪巴人是藏族的一支，五百年前從西藏東部，遷移到喜馬拉雅山區過著游牧生活。1930 年代以後，西方人從事登山活動，僱用當地的雪巴人為挑夫，從此以後「雪巴」也成為登山挑夫或嚮導的代名詞。請問：由文中可知雪巴人主要居住在圖中何處？



- (A) 甲 (B) 乙 (C) 丙 (D) 丁。

- (D) 6. 右圖是「南亞的農業分布圖」，圖中各區與主要種植的作物配對，何者正確？

- (A) 甲—稻米
(B) 乙—小麥
(C) 丙—棉花
(D) 丁—茶葉



- (B) 7. 日本人喜歡在櫻花樹底一起賞櫻，櫻花花期由南至北，最早約於 3 月中在九州綻放，最遲於 5 月開至北海道。請問：賞櫻日期由南向北變化，與下列哪一因素最相關？

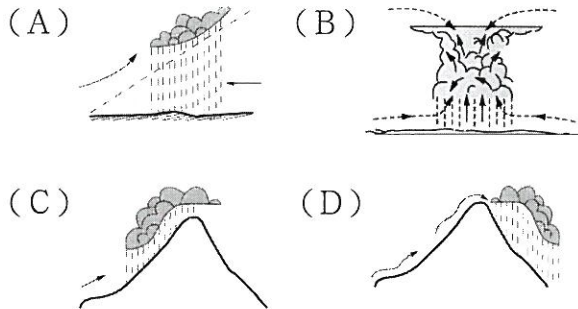
- (A) 地勢 (B) 緯度 (C) 季風 (D) 洋流。

- (B) 8. 保羅看了紀錄片《灣生回家》，「灣生」是指日治時期在臺灣出生的日本人，他們在日本戰敗投降後引揚返日。請問：這些灣生若從花蓮港搭船北返日本，船隻在下列哪一股洋流引領下很快就可抵達目的地？

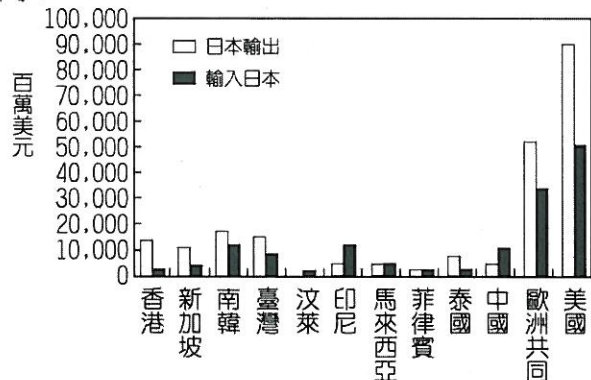
- (A) 親潮 (B) 黑潮
(C) 親潮支流 (D) 中國沿岸流。

~請翻面作答~

(C) 9. 印度東北側的乞拉朋吉因年降水量高居第一，被稱為是「世界雨極」。請問：該地主要降水類型為下列何者？

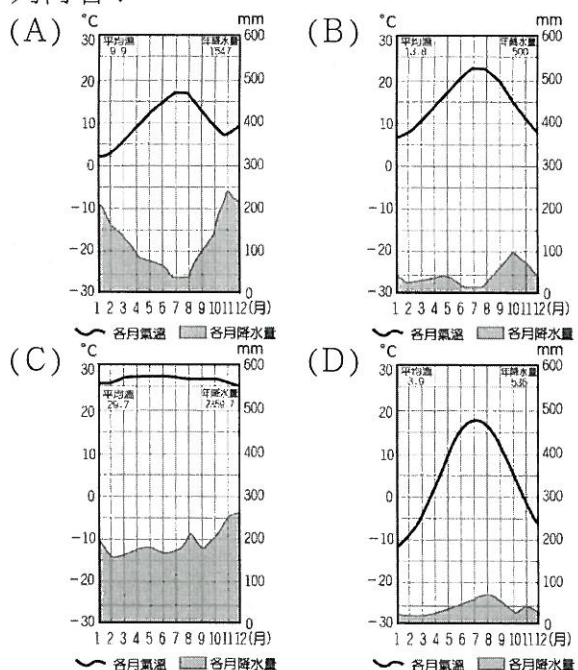


(A) 10. 日本為亞洲主要的經濟強國，國際貿易為該國的經濟命脈。附圖為某年日本對鄰近國家和世界主要地區的貿易額分布圖，請根據該圖判斷，該年度日本和哪一個國家的總貿易額最高？



(A)美國 (B)印尼 (C)中國 (D)南韓。

(C) 11. 橡膠、咖啡為東南亞各國重要的出口產品，就其生長條件而言，主要生長的氣候類型應為下列何者？



(B) 12. 承上題，地理老師請同學們回去研究此類作物所具有的特徵，以下誰的研究結果是正確的？
 (A)小嵐：為東南亞地區自古以來的傳統產業
 (B)小翰：容易受到國際市場價格的影響，風險高
 (C)小原：所種植出來的作物，主要是為了供應國內市場需求
 (D)小毅：為了增加收入，一塊土地上會種植不同的熱帶作物。


(B) 13. 「東南亞由於地近古文明的中國、印度，西亞的伊斯蘭文化亦傳到此地，19世紀時曾淪為列強的殖民地，因此在文化、種族上呈現多元化

的現象。」由文中敘述判斷，東南亞在文化、種族方面呈現多元化的主要因素是：甲、歷史發展；乙、地形破碎；丙、經濟活動；丁、地理位置，請問：何者正確？

(A)甲乙 (B)甲丁 (C)乙丙 (D)丙丁。

(D) 14. 新南向政策的推動和東南亞國協有著密切的關連，隨著東協國家的崛起，該區域的消費能力逐漸受到各國重視。請問下列關於東南亞國協的敘述何者正確？


(A)所有東南亞 11 個國家都有加入東南亞國協
 (B)東協加一是指東協國家和日本合作的方案
 (C)東協加三是指東協國家和日、台、美合作的方案
 (D)下圖為東南亞國協的旗幟，圖中圓圈及稻穗代表著東協的團結



(B) 15. 《來自星星的傻瓜》電影中，女主角與同樣喜愛詩歌的男配角原本相談甚歡，女主角進一步表明自己是印度人，但在男主角表示自己是巴基斯坦人時，女主角的笑容瞬間僵化。原來是印度和巴基斯坦兩國關係不佳，導致兩國交惡的原因有下列四項因素：(甲)宗教差異 (乙)礦產爭奪 (丙)領土糾紛 (丁)殖民背景不同。上述正確的是下列何者？

(A)甲乙 (B)甲丙 (C)乙丁 (D)丙丁

(B) 16. 日本地價昂貴，尤其都市更是如此，若想留宿一晚，往往消費很高。因而發展出一種小艙房剛好夠一個人平躺的「膠囊旅館」，供旅人過夜。造成日本土地地價昂貴的因素，最可能是下列何者？



(A)位處板塊交界，多火山地震
 (B)山多平原少，地狹人稠
 (C)四周環海，氣候潮濕多雨
 (D)缺乏礦產，國際貿易發達

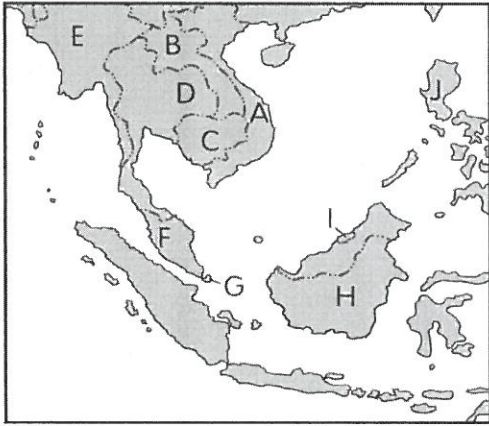
(D) 17. 都市發展的起源各不相同，若依發展成因來分，東南亞的大都市，如雅加達、曼谷、胡志明市、新加坡等，都屬於哪一類型的都市？

(A)軍事型 (B)宗教型
 (C)礦產型 (D)港埠型。

~請接下一頁~

二、題組題(每題4分)

※附圖為東南亞簡圖，A~J代表國家。請根據附圖回答18~22題：



(A) 18. 附圖中，哪一個國家的歲時習俗、典章制度受中國影響最深，下龍灣的石灰岩海岸吸引大量觀光客？

(A) A (B) C (C) D (D) E

(A) 19. 附圖中，哪三個國家以伊斯蘭教為主要宗教信仰，近年這三個國家又以石油、天然氣賺取大量外匯？

(A) F、H、I (B) F、G、I
(C) G、H、I (D) H、I、J

(B) 20. 著名的吳哥窟以宏偉建築與細緻浮雕聞名於世，每年吸引大量觀光客，吳哥窟位於附圖中哪一個國家？



(A) B (B) C (C) D (D) E

(D) 21. 東南亞國家人民對於宗教信仰大多相當虔誠，其中被稱為「微笑國度」的某國更是虔誠的佛教國家，甚至當地速食店的麥當勞叔叔都出現右圖中的姿勢。上述可能為附圖中哪一個國家？



(A) A (B) B
(C) C (D) D

(D) 22. 小維的奶奶日前聘用一位外籍幫傭，她會說英語，信奉天主教，來自一個常受颱風侵襲的國家。小維家的這位外籍幫傭，最可能來自下列哪一個國家？

(A) A (B) F (C) H (D) J

※請依下文回答23~25題

新聞報導一：

「印度的『窮人』，即指每月所得在455盧比(約新臺幣300元)以下的都市居民，以及每月所得在328盧比以下的鄉村居民。目前，印度的『窮人』已超過總人口的25%。」

新聞報導二：

「在印度孟買的市區，每戶動輒430萬盧比(約新臺幣306萬元)的豪宅區附近，就是貧民窟，許多居民來自鄉村，而有一半以上的貧民窟居民，住在連廁所都沒有的簡陋小屋中。」

(B) 23. 由上述新聞報導的資料可得知，印度正面臨下列何種社會問題？

(A) 都市數量有限 (B) 貧富差距大
(C) 種姓制度仍存在 (D) 生產技術落後。

(C) 24. 苾鎂今年寒假到印度旅遊，請問在她的遊記中何項敘述最正確？

(A) 唉，碰上當地雨季，我可是天天雨傘不離身哪～
(B) 哇，居然這麼多人在印度河裡洗澡，我一咬牙也撲通跳進去，希望經由這聖河的洗禮，能洗脫我一切的罪過！
(C) 餐餐吃咖哩已經膩了，今天欣喜若狂地衝進麥當勞，卻發現沒賣我最愛的牛肉雙層堡！嗚…
(D) 我一口渴就買紅茶來喝，印度這個國家當地盛產的錫蘭紅茶真是茶香味甘呀！

(C) 25. (甲) 港口眾多，海運便利 (乙) 英語為官方語言，溝通較無障礙 (丙) 高科技勞工的薪資較低廉 (丁) 有信仰階級分明的宗教。

臺灣某電子公司近來到印度進行新品的發表，另有傳聞此電子公司想在邦加羅爾設立分公司。請問該公司考慮在此地投資軟體工業是看上當地的哪些利條件？

(A) 甲乙 (B) 甲丙 (C) 乙丙 (D) 丙丁。

~作答結束~