

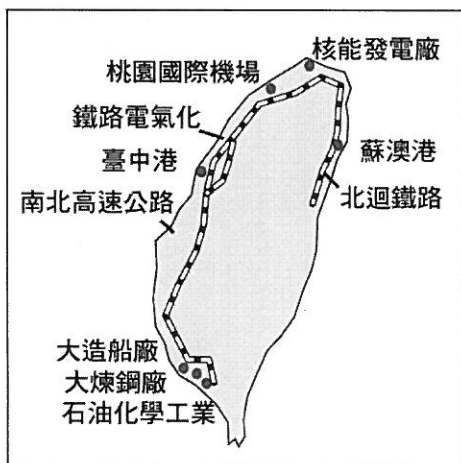
高雄市立嘉興國民中學108學年度第二學期一年級歷史科第三次定期評量試題卷

※同學畫卡時，請使用2B鉛筆，並細心檢查班級、座號等資訊，是否正確。

若答案卡上方，個人資訊畫卡有誤，影響其他學生權益，將扣段考分數5分。

一、選擇：單選，每題4分

1. () 明宗看到課本附圖如下，他看過後馬上分析建設的屬性，發現圖中哪方面的建設所占比例最高？ (A)軍事建設 (B)交通建設 (C)能源建設 (D)文化建設。



2. () 資料一 中央通訊社

「1978年12月27日晚上，寒風冷冽，台北市民權東路與中山北路卻擠滿抗議人潮，民眾不滿情緒在美國副國務卿克里斯多福20多人車隊抵達時達到沸騰，丟雞蛋、油漆攻擊，場面幾乎失控。」

資料二 中央日報

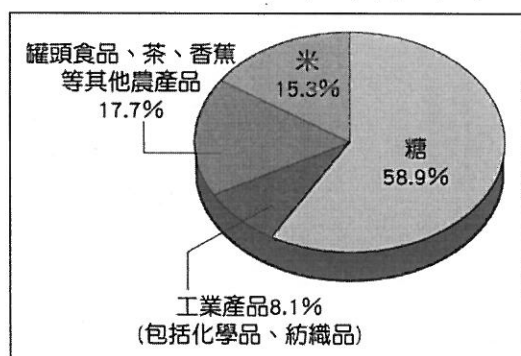
1978年12月28日報紙頭條標題亦以嚴正標題，巨大篇幅寫道「抗議卡特政府背信棄義毀約 中華兒女排山倒海發出怒吼」。

請問：上述資料，應是臺灣那一重大事件發生時的新聞報導？ (A)美國與中國建交 (B)大三通政策施行 (C)臺灣退出聯合國 (D)國共內戰失利。

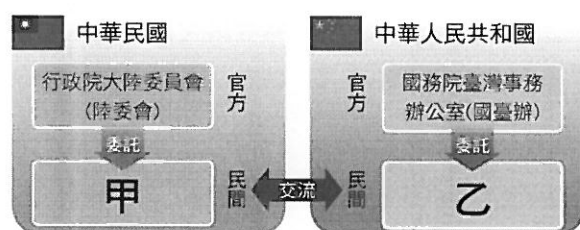
3. () 《玩具總動員》巴斯光年，在第一集的劇情中，他掀開自己手上的蓋子發現自己是「Made in Taiwan」，代表他是臺灣製造的產品。事實上，臺灣曾經是玩具出口大國，1960年代臺灣製造代工許多產品，像是自行車、雨傘、音響、電扇、燈泡等產品，請問：這與政府哪些政策推動產業發展有密切關聯？ (甲)出口導向策略 (乙)高雄加工出口區 (丙)兩岸小三通 (丁)發行新臺幣。 (A)甲乙 (B)乙丙 (C)丙丁 (D)甲丁。

4. () 知名歌手費玉清的舊作突然在歐美爆紅，一曲《一剪梅》成功攻上歐美的熱門歌曲排行，歌詞「雪花飄飄 北風蕭蕭」創造另類流行文化。費玉清出道時，以《中華民國頌》、《國恩家慶》等愛國歌曲成名，甚至軍中都會放他的音樂，激勵國軍。請問：下列何者非50~60年代愛國歌曲在臺灣流行的原因？ (A)鼓舞國軍反共士氣 (B)宣揚中華文化與精神 (C)國際巨大的外交衝擊與挫折 (D)推動臺灣國際化與自由化。

5. () 附圖是臺灣戰後某一時期的各項出口產品所占的比例，這應該是哪個時期的比例圖？ (A)進口替代 (B)出口導向 (C)十大建設時期 (D)產業升級。



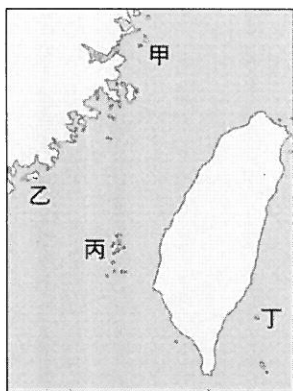
6. () 附圖是80年代後，兩岸事務的溝通單位示意圖。圖中的甲應該填入下列何者？ (A)海協會 (B)國台辦 (C)海基會 (D)辜汪會。



7. () 聯合國大會第2758號決議：「決定恢復中華人民共和國的一切權利，承認它的政府代表為中國在聯合國組織的唯一合法代表，並立即將蔣介石的代表從它在聯合國組織及其所屬一切機構中所非法占據的席位驅逐出去。」請問：這應該是何年的決議文？ (A)西元1945年 (B)西元1949年 (C)西元1971年 (D)西元1979年。
8. () 「小明的爺爺離開故鄉上海已經40年左右，一直惦念著親人是否安好。聽聞政策改變，終於可回去探望家鄉的親人。」請問：上述與下列哪一事件有關？ (A)政府推動新南向政策 (B)政府實施「大三通」 (C)政府解除《戒嚴令》 (D)政府宣布終止《動員戡亂時期臨時條款》。
9. () 根據美國情報部門推估，臺灣將於西元1950年淪陷於中國共產黨，因此美國決定袖手旁觀臺灣海峽兩岸情勢。雖然我國政府在臺灣海峽局部衝突中得到勝利，大環境仍未好轉。直到某件事情爆發後，美國態度轉變，臺灣才真正安全挺過1950年淪陷危機。請問：該事件為下列何者？ (A)古寧頭戰役勝利 (B)八二三炮戰勝利 (C)簽訂《中美共同防禦條約》 (D)韓戰爆發。
10. () 附表是關於臺灣自耕地與佃耕地的比例變化。導致此變化的主要原因為何？ (A)日本統治結束，土地歸還人民 (B)國民政府遷臺後的土地改革 (C)70年代產業升級時的土地政策 (D)全球化發展下土地可自由買賣。

西元	1948年	1953年	1956年
自耕地	56%	83%	85%
佃耕地	44%	17%	15%

11. () 中共在民國38年、47年曾兩度企圖以武力進犯臺灣，但最後都因國軍奮力抵抗而未能達到目的。這兩次的戰役都發生在同一地區，此地因而以戰役史蹟聞名。請問：上述以戰役史蹟聞名的地點位於附圖中的何處？ (A)甲 (B)乙 (C)丙 (D)丁。



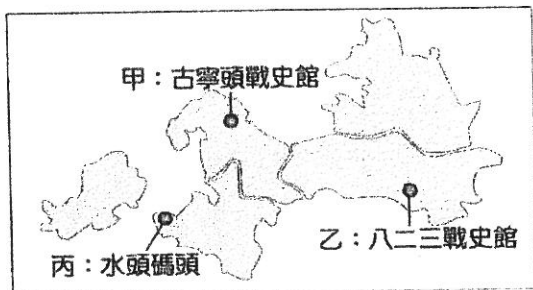
12. () 子歲是民國五十年代的一名高中生，他喜歡穿西方流行的牛仔褲，愛吃漢堡和甜甜圈，偶爾會哼幾句偶像貓王的歌曲。請問：這樣的流行文化與哪項史事有關？ (A)反共文化的興盛 (B)鄉土文化的流行 (C)美麗島事件發生 (D)中美建立協防關係。
13. () 高雄市婦女新知協會與婦女新知基金會曾於2016年，公布國人從母姓現況相關數據及調查報告。雖然社會法律已修改開放從母姓的法規，但傳統的社會觀念仍根深蒂固，該年度新生兒從母姓的比例僅有1.3%。姓氏是一種家族的傳承與自我認同，應採取尊重多元態度。請問：上述與下列哪一發展有關？ (A)族群運動維護文化 (B)政府結束動員戡亂 (C)社會運動兩性平權 (D)大眾多元文化流行。
14. () 「即便政府在民主自由上釋放了嚴格的管制，中華民國只要有這個法令存在，就意味著兩岸在法理上的敵對狀態。」問：關於題目中所敘述的「法令」所指為何？ (A)《戒嚴令》 (B)《動員戡亂時期臨時條款》 (C)《臺灣關係法》 (D)《中美共同防禦條約》。
15. () 潑水節是東南亞地區最盛大的傳統新年習俗，而全國新住民人口最多的城市新北市，自1998年起辦理潑水節迄今已22年。今年為了不讓市民因新冠肺炎疫情，錯過東南亞最重要的傳統節慶，而特別規劃在4月13日到4月26日期間，以線上遊戲、AR互動及祈福卡方式，讓民眾線上潑水。加上五月異國美食送購物金的活動，受到熱烈回響。請問：此活動凸顯出臺灣文化發展中的哪一特點？ (A)日韓文化流行 (B)美國文化風靡 (C)關注鄉土發展 (D)大眾多元文化。
16. () 六月畢業季節到來，今年臺大畢業生代表由布吉納法索的留學生擔任致詞。該生來自西非的布吉納法索，此國家在兩年前與我國斷交，因此失去外交部獎學金的他，在臺灣努力申請獎學金及工讀，完成課業。他很感謝臺灣的幫助，努力走出自己的一片天空。請問：臺灣面臨的外交困境與因應態度，下列說明何者錯誤？ (A)中華人民共和國打壓我國外交活動 (B)面對外交封鎖，我國仍積極參與國際 (C)新南向政策是開創外交新局的一個方法 (D)為避免斷交影響，臺灣應避免外籍生就讀臺灣學校。

17. () 孟澤 40 年代曾是一個大地主，他回憶往事「那年，政府徵收了我的土地。徵收的土地，後來再轉讓佃農取得土地所有權，佃農有了土地很開心，但我可是很難過！雖然政府給了債券、股票作為補償，當時的我真不知道這到底值不值錢。」請問：孟澤所述應是政府推行的哪一項改革？ (A)三七五減租 (B)公地放領 (C)農地重劃 (D)耕者有其田。
18. () 西元1953年開始，臺灣政府開始實施為期四年的經濟建設計畫。利用外銷農產品賺得的外匯購買工業原料，為推進臺灣工業化做準備。此時政府可能喊出何種經濟發展的口號？ (A)新南向政策 (B)工業臺灣，農業南洋 (C)工業日本，農業臺灣 (D)以農業培養工業。
19. () 1970年代，知名作家黃春明，他寫作的題材深獲讀者喜愛，以具特色的鄉土語言，刻劃出人物面對生活的苦難。他的小說多次搬上電影，如〈兒子的大玩偶〉、〈小琪的那頂帽子〉。請問：這些小說偏向哪些方向？ (A)關懷農工等小人物生活 (B)關注新移民及移工問題 (C)關懷兩性平權 (D)以環保議題作為主軸。
20. () 下圖為美國與臺灣於某段時期互動的簡圖，此互動期間的相關描述，下列何者正確？ (A)此時中華人民共和國提出「一國兩制」，和平統一 (B)該互動統稱「美援」，協助臺灣軍事和經濟站穩腳步 (C)此時期中華民國提出三不政策，與美國聯手對抗中共 (D)美國為拉攏蘇聯，積極援助臺灣。



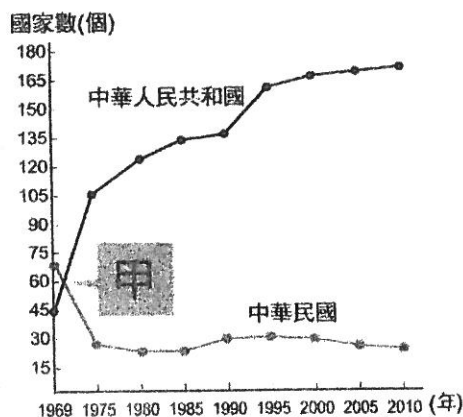
二、題組：每題4分

1. 因正值防疫期間無法出國旅行，派大星決定在暑假規劃一個離島旅遊。他希望在三天兩夜的旅程中，參觀島上的戰地遺址，並依序前往甲乙丙三個景點。請問：



請問：

- () (21) 派大星這個旅遊安排，最可能在下列何地？ (A)宜蘭縣 (B)臺東縣 (C)屏東縣 (D)金門縣。
- () (22) 上述三個景點中，哪一景點與金門特產-砲彈菜刀有直接相關？ (A)甲 (B)乙 (C)丙。
- () (23) 圖中的丙，今為對渡中國東南沿海的港口。請問：丙的規畫和建設應與下列何項政策有關？ (A)新南向政策 (B)三不政策 (C)小三通 (D)陸客來臺。
2. 附表是中華民國與中華人民共和國邦交國變化曲線表，請回答下列問題：



- () (24) 我國邦交國從哪一時期開始明顯減少？ (A)民國30年代 (B)民國40年代 (C)民國50年代 (D)民國60年代。
- () (25) 造成這種結果的關鍵因素「甲」為何？ (A)韓戰爆發 (B)我國退出聯合國 (C)中國與美國建交 (D)宣布戒嚴。

試題結束