

高雄市立嘉興國民中學108學年度第二學期一年級地理科第二次定期評量試題卷

範圍：第二冊第三課~第四課

一年__班 座號：____ 姓名：_____

一、選擇：(每題4分，共100分)

※讀卡資料未填妥者扣五分。

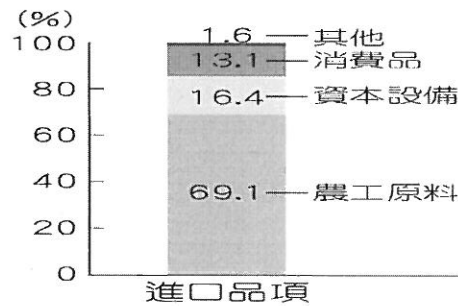
1. () 表一為民國106年臺灣對四個貿易對象(美、日、中、韓)的貿易統計表。依據表中資料判斷，哪個同學對於臺灣貿易情況的說明是正確的？

- (A)甲：臺灣對日本的貿易是出超 (B)乙：臺灣對美國的貿易是入超
(C)丙：臺灣與中國的貿易總額最高 (D)丁：南韓是臺灣的第一大貿易國。

國家	出口	進口
美國	369.4	302.4
日本	207.8	419.4
中國	889.8	500.4
南韓	147.3	168.9

(單位：億美元)

表一



圖一

2. () 圖一是民國106年臺灣的進口品項比例，其中農工原料占比最高，主要與臺灣的哪項地理環境因素有關？

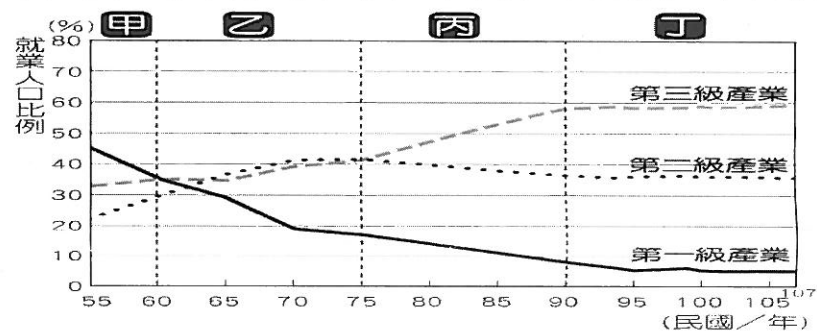
- (A)國內市場規模小 (B)面積小，缺乏資源 (C)四面環海，海岸線綿長 (D)第一級產業勞力老化嚴重。

3. () (甲)汽車維修工人 (乙)蔬菜種植者 (丙)麵包烘焙業者 (丁)便利商店店員 (戊)花卉栽培者。上述產業從業人員中，哪些屬於第一級產業？ (A)甲丙 (B)乙戊 (C)丙丁 (D)丁戊。

4. () 圖二是三個影響臺灣人生活的知名品牌，也是臺灣的原創品牌。這些品牌出現和其所生產的產品，最可能是臺灣哪個年代的工業發展重點？(A)民國四十年代 (B)民國五十年代 (C)民國六十年代 (D)民國七十年代迄今。



圖二



圖三

5. () 「孤女的願望」是臺灣某時期的名曲，反映當時的社會現實，節錄歌詞如下：「來去都市做著女工渡日子，請借問門頭的辦公阿伯啊，人塊講這間工廠有要採用人，阮雖然也少年攏不知半項，同情我地頭生疏以外無希望，若是少錢也要忍耐三冬五冬，為將來為著幸福甘願受苦來活動。」若依歌詞猜測，這首歌可能出現在圖三哪一個年代？ (A)甲 (B)乙 (C)丙 (D)丁。

6. () 下列哪項農業發展的特色，是臺灣在農業發展上較無法與國外農產品競爭的最主要原因？

- (A)農家耕地面積狹小 (B)農產品商品化 (C)農村勞力老化 (D)灌溉水源缺乏。

7. () 一九六〇年代，政府於高雄市首先設立加工出口區，一九七〇年代又選定在此發展重化工業，皆與其擁有下列哪項優越條件有關？(A)交通便利 (B)動力充沛 (C)資金充足 (D)市場廣大。

8. () 小明在上課時抄寫有關「高科技產業」的筆記，但是不夠專心而抄錯內容。以下是他的筆記內容，請問筆記中的哪一個項目是錯誤的？

- (A)屬於技術密集的工業類型 (B)需運用先進科技且投入大量資金
(C)生物科技工業是代表性產業 (D)高雄加工出口區主要製造的產品。

9. () 每年11月11日中國淘寶網推出光棍節瘋狂購物活動，近年連臺灣的購物平臺也跟進。市場專家分析雙11銷售之所以火熱，一方面歸功於電商的宣傳操作，另一方面還有智慧型手機的普及，使得「宅經濟」發展迅速，下列關於「宅經濟」的敘述，何者錯誤？

- (A)店家通常無實體店面 (B)因為透過手機或網路，產品價格比店面高
(C)購物者可不受時間、距離限制 (D)網路購物、電視購物皆屬此類。

10. () 臺灣早期牧業發展因土地有限，故以小規模的「欄牧」為主，並多屬於農家的副業，產品多為自用或少量販售，但近期則改採何種經營模式？(甲)科學化 (乙)勞力化 (丙)專業化 (丁)本土化

- (A)甲乙 (B)甲丙 (C)乙丁 (D)丙丁。

11. () 臺灣水稻的栽種面積逐漸變小，造成此現象的主要原因為何？

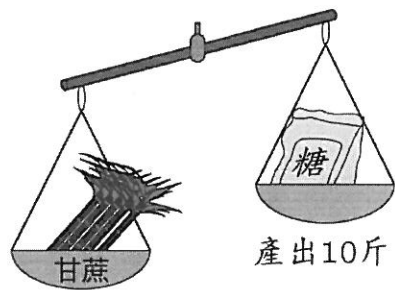
- (A)灌溉水源不足 (B)全球氣候變遷 (C)飲食習慣改變 (D)土壤沃度降低。

12. () 目前臺灣在國際化的產業分工體系中，提供高科技產業的代工，扮演著舉足輕重的角色。請問：上述的代工產業為臺灣帶來何種影響？

- (A)勞力密集產業的興起 (B)轉移電子技術給國外 (C)增加出口貿易的比重 (D)進口總值持續入超。

背面尚有試題

13. () 圖四為某種產業的加工製造流程示意圖，此種工業的主要設置地點要素應為何者？
 (A)交通 (B)原料 (C)市場 (D)動力。



投入100斤


圖四

民國	遠洋 漁業	近海 漁業	沿岸 漁業	養殖 漁業
107	62.1	16.2	2.6	28.3
105	58.5	13.8	2.5	25.7
103	89.9	14.0	3.9	34.1
101	72.6	14.8	3.3	34.8
99	68.8	12.8	3.5	31.5

單位：萬公噸

表二

14. () 表二為臺灣近年各種漁業類型的漁獲量統計表，請從表中資訊判斷，下列敘述何者正確？
 (A)在 200 哩以外地區捕撈的漁獲量為最大宗 (B)於 12~200 哩範圍內的漁撈作業漁獲量一直位居第一
 (C)養殖漁業帶來的產值比例占四者中最低 (D)於 12 哩內的捕撈漁業漁獲量僅高於 12~200 哩的漁獲量。
15. () 一國的產業活動會隨經濟發展而不斷的轉變。請問：臺灣在一九七〇年代時，配合十大建設，全力發展下列哪一項產業活動？ (A)紡織、電子零件 (B)鋼鐵、石化 (C)消費性電子、半導體 (D)光電、生物科技。
16. () 小蔡想投資設立一間紡織工廠，下列何者是該產業最需優先考慮的設廠地點要素？
 (A)盛產原料的地點 (B)低廉工資的地點 (C)距海較近的地點 (D)氣候暖溼的地點。
17. () 小丁非常喜歡喝茶，也會辨識茶葉的好壞與真假，今日他拿到四罐茶葉，看了罐子上的標籤後，認為有一罐商品的標示錯誤，最可能是下列何者？



(A) (B) (C) (D)

18. () 下列關於重工業的描述，何者錯誤？
 (A)通常需要較多的資金 (B)產品重量較重 (C)工廠規模較大 (D)大多需要密集的勞力。
19. () 臺灣加入 WTO 後，由於國內的農業生產成本高於進口國，導致許多農產品面臨衝擊，但政府仍以各種方式維持國內農產品產量，或限制國外農產品的進口比例，近年來更大力將臺灣的農產品外銷出去，以維持臺灣農業的競爭力。請問：下列何者無法達到上述目的？
 (A)推廣高優質的農產品 (B)建立產銷履歷制度 (C)開放農地自由買賣 (D)推動農業品牌化。
20. () 表三為阿亮和家人的商業活動紀錄，有關阿亮一家人商業行為的敘述，何者錯誤？
 (A)爸爸從事的商業活動為零售，所販賣商品的價格較高
 (B)媽媽購物的量販店，同時具有批發和零售的性質
 (C)姊姊在網路上購物，不受時間、距離限制
 (D)阿亮購物的便利商店為零售商，特色是分布密集，便於民眾就近消費。

爸爸	大量購買養雞場的雞蛋，再銷售至便利商店，以賺取價差。
媽媽	到 Costco 買一箱蘋果、一箱飲料和大包裝的鮮奶。
姐姐	在 Pchome 網站購買筆記型電腦，24 小時到貨。
阿亮	在 7-11 買麵包和茶葉蛋當早餐。

表三

甲：遠東紡織公司
乙：中國鋼鐵公司
丙：臺灣積體電路公司
丁：訊聯齊帶血公司

圖五

21. () 圖五為臺灣不同時期的知名企業，這些企業足以代表當時臺灣產業發展的主軸。請問：這四家公司成立的先後順序應為何？(A)丙甲丁乙 (B)乙丙甲丁 (C)乙甲丁丙 (D)甲乙丙丁。
22. () 臺灣傳統農業社會中，經常會出現和農業活動有關的諺語。下列哪一句諺語和農業活動的「集約」最相關？
 (A)做牛著愛(需要)拖，做人著愛磨 (B)交春(立春)落雨透(到)清明
 (C)農無閒年，地無閒田 (D)二月初二彈雷(打雷)，稻尾(稻穗)較重秤錘。
23. () 廣受消費者喜愛的「家樂福」、「愛買」、「大潤發」等大型購物中心，其貨品的銷售較一般零售商便宜，主要的原因為何？ (A)以價制量 (B)採自助式，可節省人事費 (C)無實體店面 (D)以量制價。
24. () 近年來，臺灣的經濟蓬勃發展，第三級產業漸漸變成主要的經濟型態。下列產業中，哪一項是屬於第三級產業？
 (A)量販業 (B)營建業 (C)製造醫療器材 (D)水產養殖業。
25. () 網路購物屬於「無店鋪」的商業活動，是近年來較興盛的消費型態，消費潛力龐大，但此種經營方式有何缺點？
 (A)購買物品費時 (B)無法看到實際物品 (C)物品價格較昂貴 (D)購物手續繁複。

高雄市立嘉興國民中學108學年度第二學期第二次段
考一年級地理科考查試卷答案

範圍：第二冊第三課~第四課

一、選擇：(每題答案4分，共100分)

1-5 C B B D B

6-10 A A D B B

11-15 C C B A B

16-20 B C D C A

21-25 D C D A B