

高雄市立嘉興國民中學108學年度第一學期三年級歷史科 第一次段考試題卷

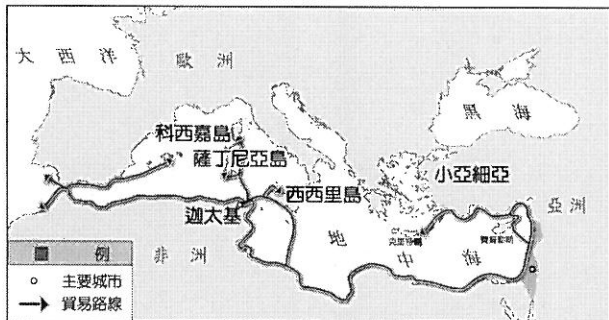
請用 2B 鉛筆畫卡作答，班級座號等資訊畫記錯誤者，扣總分 5 分，請同學細心檢查。
試題共 25 題，每題 4 分，共 100 分。

一、單一選擇題

1. () 他們把太陽、月亮、星星當作神來祈禱，認為某些行星帶來幸運，某些帶來不幸。例如：火星代表戰爭、金星代表愛情。人們為每位行星（金木水火土）之神奉獻一個日子，再加上太陽、月亮剛好七個，就產生了星期制度。請問：他們是下列哪一民族？

- (A) 蘇美人
(B) 加爾底亞人
(C) 巴比倫人
(D) 亞述人。

2. () 附圖是早期西亞某個民族的航海貿易路線。根據圖中的內容判斷，這個民族對世界最大的貢獻是下列何者？

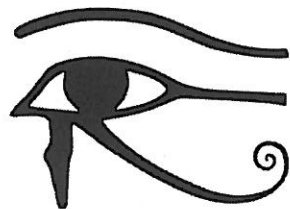


- (A) 擅長觀察天象與占星術，確立一週七天的制度
(B) 將埃及文字改良後，傳到西方世界
(C) 發明的楔形文字為日後西亞大部分民族所使用
(D) 創立一神信仰的宗教影響後世。

3. () 育慈在筆記本上寫到：「當時的學生用切斷的蘆葦桿，在柔軟的泥版上刻字，並用六十進位法進行計算，等泥版曬乾後，作業就完成了。」她應是描述上古時代哪一地區學生的上課情形？

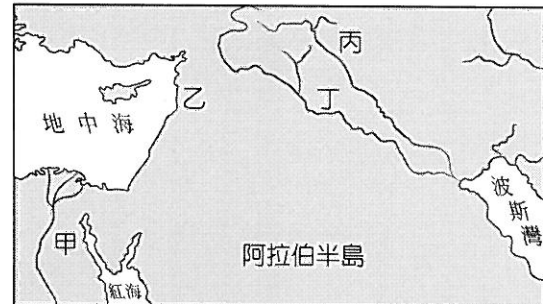
- (A) 尼羅河流域
(B) 兩河流域
(C) 印度河流域
(D) 黃河流域。

4. () 荷魯斯之眼是某個古代民族的符號（如附圖），據說是鷹頭神荷魯斯的眼睛，右眼象徵著完整無缺的太陽，左眼象徵有缺損的月亮。最後因為太陽光無所不在的緣故，他也變成法老的守護神。請問：「荷魯斯之眼」可能是哪一古代民族的符號？



- (A) 亞述 (B) 埃及
(C) 腓尼基 (D) 印度。

5. () 古希臘史家希羅多德在其名著中記載：「……此民族在全人類當中第一個想出用太陽來計時的辦法，並把一年的形成時期分為十二部分。」這應該是指位於附圖中何地的民族所創造出來的文化成就？



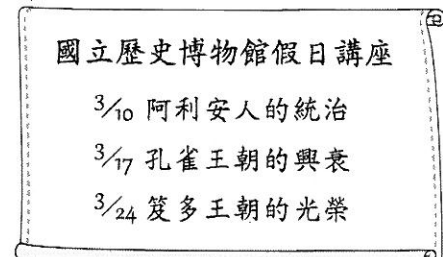
- (A) 甲 (B) 乙 (C) 丙 (D) 丁。

6. () 薪燕做了一張有關佛教與猶太教的比較表格如下，正確的有哪些？

項目	佛教	猶太教
(甲) 創立地點	印度	巴勒斯坦
(乙) 創始者	釋迦牟尼	耶和華
(丙) 內涵	眾生平等	猶太人是上帝的選民
(丁) 神祇特色	一神信仰	多神信仰


- (A) 甲丙 (B) 乙丙 (C) 丙丁 (D) 乙丁。

7. () 依亭參加歷史博物館的三月分的假日講座，而講座的題目如附圖。請問：依亭參加的講座主題應為下列何者？



- (A) 印度宗教的轉變
(B) 西亞古文明的發展
(C) 埃及王朝的遞嬗
(D) 波斯祭壇的主宰。

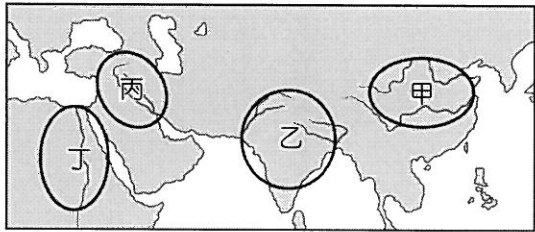
8. () 圖(一)及圖(二)乃印度人奉君主之命，在國內各地興建寺廟，弘揚佛法，並豎立石柱以宣揚其治國原則。請問：這應是下列哪一位君主在位時的盛況？



圖(一) 圖(二)

- (A) 亞歷山大 (B) 漢摩拉比
(C) 阿育王 (D) 釋迦牟尼。

9. () 附圖中某一地區的古文明有嚴格的社會階級區別，影響至今；此地區在古代的數學成就上，發展出「零」的概念及其對應的符號，現今世界通用的數字符號也源於此區。此地區最可能位於圖中甲、乙、丙、丁何處？



- (A) 甲 (B) 乙 (C) 丙 (D) 丁。
10. () 現在世界上的許多國家，人民都可以藉由投票的方式直接選出國家的領袖。請問：這種制度最早出現於哪一古文明？
(A) 中國 (B) 埃及 (C) 希臘 (D) 羅馬。
11. () 翊崑和崧凱就讀不同的國中，使用不同版本的教材，但無論哪一版本教科書，介紹西方歷史時都一定會提到古希臘城邦中的雅典，這是因為雅典在西方歷史中具有下列何種重要性？
(A) 吸收古西亞文明並創立一神信仰
(B) 樹立了日後民主政治的基本精神
(C) 建立世界上第一個跨三洲的帝國
(D) 創立了沿用至今的西方法律制度。
12. () 歷史老師上課推薦了一本以波希戰爭為題材的書，並說明這本書有兩個值得閱讀的理由如下。請問：此書的作者應該是何人？
- (一) 這位古希臘作家把旅行中的所見所聞，經過查訪與考據寫成書。
(二) 他撰寫了西方最早的歷史作品，並致力於淡化由神主宰人生的觀念，著眼於人的現世事蹟。
- (A) 蘇格拉底
(B) 荷馬
(C) 亞里斯多德
(D) 希羅多德。
13. () 志遠到埃及旅遊，除了參觀著名的金字塔及獅身人面像之外，也看到具有古希臘風格的神殿遺跡，這種風格的神殿建築會出現在埃及，與下列何者的關係最為密切？
(A) 十字軍東征
(B) 亞歷山大東征
(C) 義大利文藝復興
(D) 查理曼帝國擴張。
14. () 在西方歷史中，有一段時期被史家稱為「羅馬和平」，這段時期是以下列何者作為開端？
(A) 凱撒遠征邊族，消除危害羅馬政權的勢力
(B) 屋大維即位，掌握大權重建政治社會秩序
(C) 君士坦丁將基督教合法化，解除宗教衝突
(D) 漢摩拉比頒布新法典，革除民間傳統陋習。

15. () 芝瑜正在構思一部科幻歷史小說，其中某一個段落安排秦始皇與屋大維一同坐在宴席上共飲美酒，並且兩人還表現出惺惺相惜的態度。請問：這兩個人有什麼共同之處？
(A) 秦始皇創年號紀年；屋大維創立西元紀年
(B) 都是帝國第一個皇帝
(C) 兩者生活於同時期，建立東西方兩霸權
(D) 兩者皆統一帝國內部文字。
16. () 迷糊的小丸子做任何事總是漫不經心，例如她歸納羅馬帝國的重點整理時，其中只有一個重點是正確的，是下列何者？
(A) 羅馬人自豪地認為波羅的海是「我們的海」
(B) 奠定二百年間「羅馬和平」基礎的人是凱撒
(C) 東羅馬帝國早於西羅馬帝國滅亡
(D) 狄奧多西將羅馬帝國分為東、西二部。
17. () 以下是某時期歐洲的情況：「由於常受到政府的迫害，基督徒不敢公開集會，所以他們就偷偷地聚會，討論耶穌的教誨、分發聖餐，並相互鼓勵。這情形持續幾個世紀後，基督教終於得到官方承認，獲得合法的地位，後來甚至成為國教。」該時期最可能是下列何者？
(A) 古典希臘
(B) 羅馬帝國
(C) 中世紀西歐
(D) 文藝復興。
18. () 農業是孕育人類文明的主要經濟活動，古文明的發展通常與其密切相關。若從世界四大古文明來看，可發現皆位於下列哪一位置？
(A) 大河流域的氾濫平原
(B) 乾燥酷熱的沙漠中央
(C) 地勢高聳的高原頂部
(D) 廣闊大洋上的火山島。
19. () 有一份由羅馬皇帝頒布的命令寫道：「我們願賜給基督徒及其他所有人奉行自己宗教的權利；……我們議決：任何人不得被剝奪其尊奉基督教，或任何一種自認最合適的宗教的機會。」請問：這份文獻應是由何人所頒布的？
(A) 君士坦丁
(B) 狄奧多西
(C) 凱撒
(D) 屋大維。

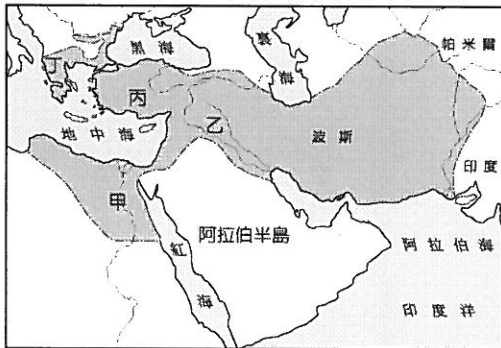
尚有試題，請繼續作答

二、題組

(一) 埃及在長期的外族統治之下，傳統的語言、文字、宗教信仰等早已失傳，為了解讀古埃及文明遺跡，而形成一門專門研究古埃及的「埃及學」，我們目前對埃及古文明的了解多來自埃及學的貢獻。請問：

20. () 下列何者可以象徵埃及已經步入歷史時代？
(A)發明文字
(B)發明曆法
(C)農耕生活
(D)發明宗教信仰。
21. () 在古埃及文明中，擁有極高的文化成就，但不包括下列哪一方面？
(A)幾何學
(B)一週七天制
(C)太陽曆
(D)測量學。
22. () 埃及古文明的失落主要是由於長期遭受外族的統治，古埃及是被哪一外族所滅亡？
(A)羅馬人
(B)蘇美人
(C)亞述人
(D)波斯人。

(二) 附圖是上古某一帝國的疆域示意圖。請問：



23. () 由圖中的領土範圍判斷，此應該是下列哪一帝國的疆域？
(A)埃及帝國
(B)巴比倫帝國
(C)亞歷山大帝國
(D)波斯帝國。
24. () 承第(23)題，這個橫跨歐、亞、非三洲的大帝國，是以圖中哪一地區為根據地而向外發展？
(A)甲 (B)乙 (C)丙 (D)丁。
25. () 承第(24)題，此帝國所採取的統治手段，不包括下列哪一項？
(A)實施種姓制度
(B)尊重各地的文化並加以融合
(C)鼓勵部屬與其他族群通婚
(D)建立希臘式城市。

試題結束