

高雄市嘉興國民中學 108 學年度第一學期二年級地理科第三次定期評量試題卷

範圍：第三冊 L5-6

班級：_____ 座號：_____ 姓名：_____

※1. 年級代號〔二〕 科目、組別代號不用畫；未填妥個人資料，扣 5 分 2. 請將答案清楚畫記在答案卡上。

一、單選題(每題4分)

1. () 新聞報導，截至 107 年 12 月 14 日，中國共有 22 個省份，主要位於東半部地區，發生 87 起家豬感染、2 起野豬感染非洲豬瘟疫情(如附圖，顏色深淺代表案例發生時間)。請問：傳統家豬養豬戶應為哪一種畜牧方式？



- (A)放牧 (B)游牧 (C)欄牧 (D)山牧季移
2. () 新聞報導：「中國冰河加速融化自上世紀五、六十年代來，中國有 82.2%冰川處於退縮狀態，總面積縮小約近18%。」請問：中國高山冰河與積雪加速融化的原因為何？



- (A)地層下陷 (B)全球暖化
(C)水土流失 (D)開闢梯田
3. () 中國的人口眾多，因此多依賴農牧業活動的發展。附圖為中國農、牧業的分布圖，圖中甲分界線代表的地理條件應該為何？




- (A)年降水量 500mm
(B)年均溫 10 度
(C)地表高度 2,000m
(D)最冷月均溫 0 °C等溫線。
4. () 「穹頂之下」是 2015 年 2 月中國媒體人—柴靜女士，指出關於中國嚴重空氣污染的調查片。請問：中國北部地區的空气污染，可能和當地發展下

列何種產業有關？

- (A)食品加工業 (B)鋼鐵工業
(C)紡織工業 (D)高科技產業。

5. () 附圖為西元 1978 年與西元 2013 年中國作物栽種面積比例變化圖，由圖中資料得知，中國糧食作物的面積大幅減少，這種現象與下列何者最有關係？



- (A)工業快速發展，農地改為工業用地
(B)氣候變遷，全球暖化影響
(C)市場需求，改種高利潤作物
(D)水旱災頻仍，農田大量流失或廢棄。

6. () 地理課時，老師請同學以「中國經濟崛起」為題發表自己的看法，下列哪一位的說法有誤？

- (A)昶瑾：「中國製造業持續成長，使得國際上鋼鐵、石油等原物料價格上漲。」
(B)侑筠：「中國因為製造成本較低，成為世界工廠。」
(C)保羅：「中國在發展經濟的同時也製造大量廢棄物，如過多的二氧化碳會加速全球暖化。」
(D)翊家：「中國窮人太多，缺乏消費市場，商機不佳。」

7. () 中國每年用水量超過 6,000 億立方公尺，每人平均水資源量只有 2,062 立方公尺，僅為世界每人平均值的 35%，更有高達 2 / 3 的城市面臨缺水問題。請問：下列四位學者針對該問題的成因進行發言，則何者論點較「不」正確？



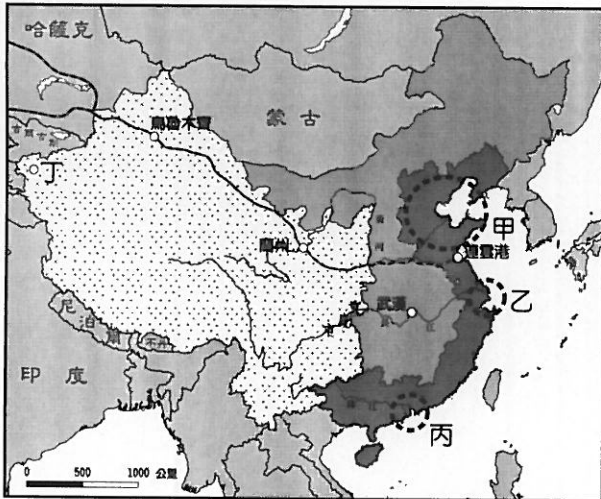
- (A)大衛 (B)麥可
(C)瑪莉 (D)湯尼。

~背面尚有試題~

8.() 內蒙古草原在中國「向地要糧」、「以頭數取勝」等政策下，導致出現沙漠化現象的嚴重後果，下列何者最能說明此種現象？

- (A) 溫室效應引起大規模沙漠化
- (B) 開發耕地須做好水土保持工作
- (C) 作物及牲畜需尋找能適合乾燥氣候的品種
- (D) 土地利用深受環境負載力的限制。

9.() 1980 年代，臺灣因勞力短缺、工資上漲等因素，造成產業大出走，其中部分轉往中國投資設廠。請問：上述出走的臺灣產業主要前往附圖中的哪一個地區投資？



- (A) 甲 (B) 乙 (C) 丙 (D) 丁。

10.() 地理老師在課堂上出示如右圖的『某種地理現象』的過程圖，詢問針對此圖的解釋，下列有幾位同學的回答是正確的？



冠廷：「圖中的『甲』指的是對耕地過度灌溉。」

柏翰：「圖中的『某種地理現象』指的是沙漠化。」

子原：「圖中的『某種地理現象』是土地退化的一種。」

宇崧：「圖中的『某種地理現象』主要發生在乾燥地區。」

少祈：「濫墾濫伐以及過度發展畜牧業都會造成這種情形。」

- (A) 1 位 (B) 2 位 (C) 3 位 (D) 4 位。

11.() 建銘的爸爸有鑒於中國近年來經濟發展快速，並看好西部經濟帶的發展潛力，想要前往當地投資設廠。若以原料充足與否為考量，請問：下列何種產業活動最「不」適合投資？

- (A) 家具工業 (B) 茶葉加工業
- (C) 石油化學工業 (D) 棉紡織工業

12.() 中國土地遼闊，地理環境多樣，影響傳統農業空間的分布。關於農業分布與地理條件的敘述，下列何者正確？

(A) 通常用來當作果腹的作物稱之為「經濟作物」，以空間分布的特徵來說中國素有「南小麥、北稻米」之說。


(B) 中國西半部主要發展畜牧業，但新疆地區利用高山融雪發展綠洲農業，像是灌溉出瓜果與棉花等作物。

(C) 秦嶺、淮河以北多旱田景觀，主要作物包含小麥、雜糧、甜菜和溫帶水果，年收穫次數可 2~3 穫。

(D) 中國水田景觀的主要作物包含水稻、甘蔗、茶樹和熱帶水果，隨著緯度越低生長季也逐漸縮短。

13.() 下圖是中國西半部某一畜牧方式，當地牧民為了適應高山環境，故多垂直移動。請問：此一畜牧方式最有可能出現在下列哪一牲畜活動的地區？

- (A) 甲 (B) 乙 (C) 丙 (D) 丁。



二、題組題(每題 4 分)

※『三北防護林又稱修建綠色萬里長城活動。1979 年，中國決定開始動工建設由超過 1000 億棵樹構成的 4500 公里長帶、片、網相結合的綠色防線，可堪稱為「世界生態工程之最」。儘管最初專家對成效意見分歧，但最新研究發現，30 多年下來，這道綠色長城確實有效阻止生態環境的惡化，也阻擋了每年□□□□時沙塵暴問題的惡化。』請依據上段敘述，回答 14~17 題。

14.() 三北防護林阻止了生態環境的惡化，請問這些生態問題的產生與下列何者『無關』？

- (A) 氣候乾燥 (B) 過度放牧
- (C) 圍湖造田 (D) 濫伐森林。

15.() 據推測，中國種植最多防護林的地區可能集中在下列何處？

- (A) 雲貴高原周邊 (B) 上海附近地區
- (C) 海南島地區 (D) 蒙古、新疆一帶。

16.() 文中□□□□，最有可能介於下列哪個時間點？

- (A) 春末夏初 (B) 夏末秋初
- (C) 秋末冬初 (D) 冬末春初。

17.() 受到當地哪一個風向的吹送下，沙塵暴的影響範圍可以籠罩華北的地區甚至到海外？

- (A) 東南季風 (B) 東北季風
- (C) 西北季風 (D) 西南季風。

~請接下一頁~

※根據文章回答 18~21 題：

**造經濟走廊 習訪巴基斯坦砸 1.4 兆
蓋鐵路連通要港 運輸省 6 千公里**

蘋果日報 2015/04/19

2014 年 2 月 18 日，巴國政府已將瓜達爾港的建設和營運權交予中國海外港口控股有限公司。據稱，中國擁有瓜達爾港 40 年的港口營運權。

中國巴基斯坦經濟走廊（簡稱中巴經濟走廊），是北起新疆維吾爾自治區喀什市，南至巴基斯坦瓜達爾港的貿易走廊，也是中國「一帶一路」戰略的一部分。計劃在走廊沿線，建設公路、鐵路、油氣管道等，藉此帶動兩國在貨物貿易、基礎建設等領域的合作，廣設工業區與自由貿易區。



18. () 中巴經濟走廊可以帶動中國哪一經濟帶的發展？
(A) 東部經濟帶 (B) 中部經濟帶
(C) 西部經濟帶 (D) 南部經濟帶
19. () 「喀什」在中國扮演的經濟角色，與哪個都市相同？
(A) 天津 (B) 深圳 (C) 香港 (D) 上海
20. () 中國實施一帶一路政策，同時擴張陸上與海上經濟版圖。關於「一帶一路」政策，下列敘述何者正確？
(A) 與邊界國家長期都有良好外交關係，從不發生紛爭
(B) 加強與周圍國家的邊境貿易發展，帶動經濟快速發展
(C) 陸上絲綢之路經濟帶主要以空運作為運送貨品的主力
(D) 以統一全亞洲為目標，實現「大亞洲國」的政治夢想
21. () 中國一帶一路的政策發展「不會」延伸到哪一個地區？
(A) 中亞 (B) 非洲 (C) 歐洲 (D) 美洲

※根據文章回答 22~25 題：

一碗泡麵看中國 為何泡麵銷量大減？

2018-01-02 地球圖輯隊 徽徽

1980、1990 年代，泡麵在中國崛起，幾乎每一家小店和超市都有賣泡麵。然而，和當時泡麵風靡全中國相比，現在泡麵的銷量今非昔比，從這點也可以一窺中國經濟和社會的發展。究竟，為什麼泡麵銷量會由盛轉衰呢？

原因一：不只想要填飽肚子

消費者對生活品質越來越感興趣，而不只是想要填飽肚子。

原因二：泡麵大戶移工返鄉

越來越少來自農村的低薪移工進城賺錢，不少移工在城市賺了錢和學會了一技之長後，決定返鄉就業。身為泡麵消費大戶的他們人數減少後，自然帶動泡麵銷量跟著下滑。

原因三：不用帶著泡麵上車

過去，在中國靠著鐵路移動耗時，在火車上靠泡麵解決一天三餐很常見。但隨著高鐵興起，搭車時間縮短自然不用再吃那麼多泡麵。此外，中產階級也有越來越多人棄火車改搭飛機。

原因四：手機點餐太方便

不少人手機中都裝有點餐 app，只要動動手指就可以叫外賣，雖然外賣的價錢比泡麵來得貴，但還在可接受的範圍內，餐點也比泡麵來的美味。

雖然在中國泡麵的銷量下滑，但和其他國家相比，中國泡麵的市場仍大。2016 年中國泡麵的銷量，佔據全球第一，共有 385.2 億包，這代表著全球泡麵製造商不可能放棄中國這個市場。

22. () 過去經濟發展較為遲緩，直到 1980 經濟改革開放後開始經濟起飛，吸引大量勞工前往都市工作，因此泡麵成為最方便的良伴。請問：過去經濟發展較為遲緩的主要原因為何？
(A) 偏重國防工業 (B) 人民糧食不足
(C) 缺乏天然資源 (D) 環境破壞嚴重
23. () 文中提及「越來越少來自農村的低薪移工進城賺錢，不少移工在城市賺了錢和學會了一技之長後，決定返鄉就業。」，顯示中國經濟發展不再侷限都市，請問低薪移工返鄉就業的原因有可能是下列哪一項？
(A) 家鄉因薪資低廉吸引外資投入設廠
(B) 都市的經濟發展每況愈下越來越差
(C) 中部經濟帶設立經濟特區加速發展
(D) 西電東送可解決鄉村電力供應問題

~背面尚有試題~

24. () 文中提及「雖然在中國泡麵的銷量下滑，但和其他國家相比，中國泡麵的市場仍大。」請問中國市場仍大的原因為何？
(A)人口集中在東半部 (B)中國人口將近 14 億
(C)人口教育程度偏低 (D)中國勞工工資上漲
25. () 汶峰看準了中國泡麵市場，打算在中國設廠製造泡麵，若想在主要原料附近生產，應該在哪一地區設廠？
(A)北部地區 (B)南部地區
(C)新疆地區 (D)青藏地區

~作答結束~

高雄市嘉興國民中學 108 學年度第一學期二年級地理科第三次定期評量試題卷

範圍：第三冊 L5-6

班級：_____ 座號：_____ 姓名：_____

※1. 年級代號〔二〕 科目、組別代號不用畫；未填妥個人資料，扣 5 分 2. 請將答案清楚畫記在答案卡上。

一、單選題(每題4分)

1. (C) 新聞報導，截至 107 年 12 月 14 日，中國共有 22 個省份，主要位於東半部地區，發生 87 起家豬感染、2 起野豬感染非洲豬瘟疫情(如附圖，顏色深淺代表案例發生時間)。請問：傳統家豬養豬戶應為哪一種畜牧方式？



- (A)放牧 (B)游牧 (C)欄牧 (D)山牧季移
2. (B) 新聞報導：「中國冰河加速融化自上世紀五、六十年代來，中國有 82.2% 冰川處於退縮狀態，總面積縮小約近18%。」請問：中國高山冰河與積雪加速融化的原因為何？




- (A)地層下陷 (B)全球暖化
(C)水土流失 (D)開闢梯田
3. (A) 中國的人口眾多，因此多依賴農牧業活動的發展。附圖為中國農、牧業的分布圖，圖中甲分界線代表的地理條件應該為何？



- (A)年降水量 500mm
(B)年均溫 10 度
(C)地表高度 2,000m
(D)最冷月均溫 0 °C 等溫線。
4. (B) 「穹頂之下」是 2015 年 2 月中國媒體人—柴靜女士，指出關於中國嚴重空氣污染的調查片。請問：中國北部地區的空气污染，可能和當地發展下列何種產業有關？

- (A)食品加工業 (B)鋼鐵工業
(C)紡織工業 (D)高科技產業。
5. (C) 附圖為西元 1978 年與西元 2013 年中國作物栽種面積比例變化圖，由圖中資料得知，中國糧食作物的面積大幅減少，這種現象與下列何者最有關係？



- (A)工業快速發展，農地改為工業用地
(B)氣候變遷，全球暖化影響
(C)市場需求，改種高利潤作物
(D)水旱災頻仍，農田大量流失或廢棄。
6. (D) 地理課時，老師請同學以「中國經濟崛起」為題發表自己的看法，下列哪一位的說法有誤？
- (A)昶瑾：「中國製造業持續成長，使得國際上鋼鐵、石油等原物料價格上漲。」
(B)侑筠：「中國因為製造成本較低，成為世界工廠。」
(C)保羅：「中國在發展經濟的同時也製造大量廢棄物，如過多的二氧化碳會加速全球暖化。」
(D)翊家：「中國窮人太多，缺乏消費市場，商機不佳。」

7. (B) 中國每年用水量超過 6,000 億立方公尺，每人平均水資源量只有 2,062 立方公尺，僅為世界每人平均值的 35%，更有高達 2 / 3 的城市面臨缺水問題。請問：下列四位學者針對該問題的成因進行發言，則何者論點較「不」正確？



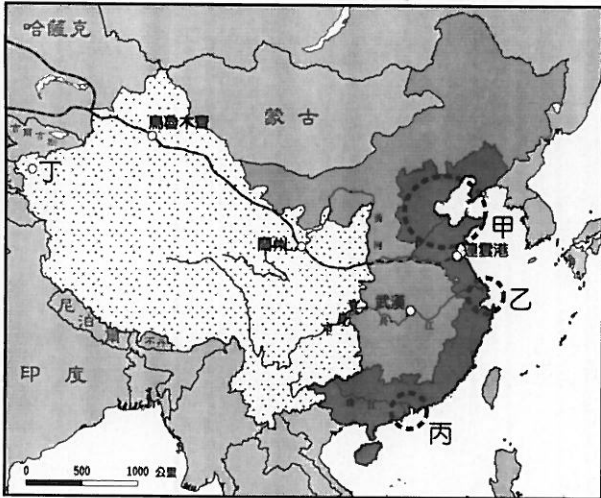
- (A)大衛 (B)麥可
(C)瑪莉 (D)湯尼。

~背面尚有試題~

8. (D) 內蒙古草原在中國「向地要糧」、「以頭數取勝」等政策下，導致出現沙漠化現象的嚴重後果，下列何者最能說明此種現象？

- (A) 溫室效應引起大規模沙漠化
- (B) 開發耕地須做好水土保持工作
- (C) 作物及牲畜需尋找能適合乾燥氣候的品種
- (D) 土地利用深受環境負載力的限制。

9. (C) 1980年代，臺灣因勞力短缺、工資上漲等因素，造成產業大出走，其中部分轉往中國投資設廠。請問：上述出走的臺灣產業主要前往附圖中的哪一個地區投資？



(A)甲 (B)乙 (C)丙 (D)丁。

10. (C) 地理老師在課堂上出示如右圖的『某種地理現象』的過程圖，詢問針對此圖的解釋，下列有幾位同學的回答是正確的？

冠廷：「圖中的『甲』指的是對耕地過度灌溉。」

柏翰：「圖中的『某種地理現象』指的是沙漠化。」

子原：「圖中的『某種地理現象』是土地退化的一種。」

宇崧：「圖中的『某種地理現象』主要發生在乾燥地區。」

少祈：「濫墾濫伐以及過度發展畜牧業都會造成這種情形。」

(A) 1 位 (B) 2 位 (C) 3 位 (D) 4 位。

11. (B) 建銘的爸爸有鑒於中國近年來經濟發展快速，並看好西部經濟帶的發展潛力，想要前往當地投資設廠。若以原料充足與否為考量，請問：下列何種產業活動最「不」適合投資？

- (A) 家具工業 (B) 茶葉加工業
- (C) 石油化學工業 (D) 棉紡織工業

12. (B) 中國土地遼闊，地理環境多樣，影響傳統農業空間的分布。關於農業分布與地理條件的敘述，下列何者正確？

(A) 通常用來當作果腹的作物稱之為「經濟作物」，以空間分布的特徵來說中國素有「南小麥、北稻米」之說。


(B) 中國西半部主要發展畜牧業，但新疆地區利用高山融雪發展綠洲農業，像是灌溉出瓜果與棉花等作物。

(C) 秦嶺、淮河以北多旱田景觀，主要作物包含小麥、雜糧、甜菜和溫帶水果，年收穫次數可 2~3 穫。

(D) 中國水田景觀的主要作物包含水稻、甘蔗、茶樹和熱帶水果，隨著緯度越低生長季也逐漸縮短。

13. (A) 下圖是中國西半部某一畜牧方式，當地牧民為了適應高山環境，故多垂直移動。請問：此一畜牧方式最有可能出現在下列哪一牲畜活動的地區？

(A)甲 (B)乙 (C)丙 (D)丁。



二、題組題(每題 4 分)

※『三北防護林又稱修建綠色萬里長城活動。1979年，中國決定開始動工建設由超過 1000 億棵樹構成的 4500 公里長帶、片、網相結合的綠色防線，可堪稱為「世界生態工程之最」。儘管最初專家對成效意見分歧，但最新研究發現，30 多年下來，這道綠色長城確實有效阻止生態環境的惡化，也阻擋了每年□□□□時沙塵暴問題的惡化。』請依據上段敘述，回答 14~17 題。

14. (C) 三北防護林阻止了生態環境的惡化，請問這些生態問題的產生與下列何者『無關』？

- (A) 氣候乾燥 (B) 過度放牧
- (C) 圍湖造田 (D) 濫伐森林。

15. (D) 據推測，中國種植最多防護林的地區可能集中在下列何處？

- (A) 雲貴高原周邊 (B) 上海附近地區
- (C) 海南島地區 (D) 蒙古、新疆一帶。

16. (D) 文中□□□□，最有可能介於下列哪個時間點？

- (A) 春末夏初 (B) 夏末秋初
- (C) 秋末冬初 (D) 冬末春初。

17. (C) 受到當地哪一個風向的吹送下，沙塵暴的影響範圍可以籠罩華北的地區甚至到海外？

- (A) 東南季風 (B) 東北季風
- (C) 西北季風 (D) 西南季風。

~請接下一頁~

※根據文章回答 18~21 題：

**造經濟走廊 習訪巴基斯坦砸 1.4 兆
蓋鐵路連通要港 運輸省 6 千公里**

蘋果日報 2015/04/19

2014 年 2 月 18 日，巴國政府已將瓜達爾港的建設和營運權交予中國海外港口控股有限公司。據稱，中國擁有瓜達爾港 40 年的港口營運權。

中國巴基斯坦經濟走廊（簡稱中巴經濟走廊），是北起新疆維吾爾自治區喀什市，南至巴基斯坦瓜達爾港的貿易走廊，也是中國「一帶一路」戰略的一部分。計劃在走廊沿線，建設公路、鐵路、油氣管道等，藉此帶動兩國在貨物貿易、基礎建設等領域的合作，廣設工業區與自由貿易區。



18. (C) 中巴經濟走廊可以帶動中國哪一經濟帶的發展？
(A) 東部經濟帶 (B) 中部經濟帶
(C) 西部經濟帶 (D) 南部經濟帶
19. (B) 「喀什」在中國扮演的經濟角色，與哪個都市相同？
(A) 天津 (B) 深圳 (C) 香港 (D) 上海
20. (B) 中國實施一帶一路政策，同時擴張陸上與海上經濟版圖。關於「一帶一路」政策，下列敘述何者正確？
(A) 與邊界國家長期都有良好外交關係，從不發生紛爭
(B) 加強與周圍國家的邊境貿易發展，帶動經濟快速發展
(C) 陸上絲綢之路經濟帶主要以空運作為運送貨品的主力
(D) 以統一全亞洲為目標，實現「大亞洲國」的政治夢想
21. (D) 中國一帶一路的政策發展「不會」延伸到哪一個地區？
(A) 中亞 (B) 非洲 (C) 歐洲 (D) 美洲

※根據文章回答 22~25 題：

一碗泡麵看中國 為何泡麵銷量大減？

2018-01-02 地球圖輯隊 微微

1980、1990 年代，泡麵在中國崛起，幾乎每一家小店和超市都有賣泡麵。然而，和當時泡麵風靡全中國相比，現在泡麵的銷量今非昔比，從這點也可以一窺中國經濟和社會的發展。究竟，為什麼泡麵銷量會由盛轉衰呢？

原因一：不只想要填飽肚子

消費者對生活品質越來越感興趣，而不只是想要填飽肚子。

原因二：泡麵大戶移工返鄉

越來越少來自農村的低薪移工進城賺錢，不少移工在城市賺了錢和學會了一技之長後，決定返鄉就業。身為泡麵消費大戶的他們人數減少後，自然帶動泡麵銷量跟著下滑。

原因三：不用帶著泡麵上車

過去，在中國靠著鐵路移動耗時，在火車上靠泡麵解決一天三餐很常見。但隨著高鐵興起，搭車時間縮短自然不用再吃那麼多泡麵。此外，中產階級也有越來越多人棄火車改搭飛機。

原因四：手機點餐太方便

不少人手機中都裝有點餐 app，只要動動手指就可以叫外賣，雖然外賣的價錢比泡麵來得貴，但還在可接受的範圍內，餐點也比泡麵來的美味。

雖然在中國泡麵的銷量下滑，但和其他國家相比，中國泡麵的市場仍大。2016 年中國泡麵的銷量，佔據全球第一，共有 385.2 億包，這代表著全球泡麵製造商不可能放棄中國這個市場。

22. (A) 過去經濟發展較為遲緩，直到 1980 經濟改革開放後開始經濟起飛，吸引大量勞工前往都市工作，因此泡麵成為最方便的良伴。請問：過去經濟發展較為遲緩的主要原因為何？
(A) 偏重國防工業 (B) 人民糧食不足
(C) 缺乏天然資源 (D) 環境破壞嚴重
23. (A) 文中提及「越來越少來自農村的低薪移工進城賺錢，不少移工在城市賺了錢和學會了一技之長後，決定返鄉就業。」，顯示中國經濟發展不再侷限都市，請問低薪移工返鄉就業的原因有可能是下列哪一項？
(A) 家鄉因薪資低廉吸引外資投入設廠
(B) 都市的經濟發展每況愈下越來越差
(C) 中部經濟帶設立經濟特區加速發展
(D) 西電東送可解決鄉村電力供應問題

~背面尚有試題~

24. (B) 文中提及「雖然在中國泡麵的銷量下滑，但和其他國家相比，中國泡麵的市場仍大。」請問中國市場仍大的原因為何？
(A)人口集中在東半部 (B)中國人口將近 14 億
(C)人口教育程度偏低 (D)中國勞工工資上漲
25. (A) 汶峰看準了中國泡麵市場，打算在中國設廠製造泡麵，若想在主要原料附近生產，應該在哪一地區設廠？
(A)北部地區 (B)南部地區
(C)新疆地區 (D)青藏地區

~作答結束~