

高雄市嘉興國民中學 108 學年度第一學期三年級地理科第二次定期評量試題卷

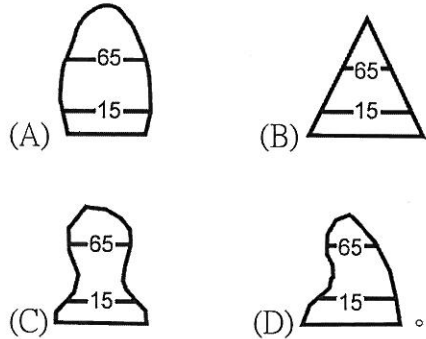
範圍：第五冊 L3-4-1

班級：_____ 座號：_____ 姓名：_____

※1. 年級代號〔三〕 科目、組別代號不用畫；未填妥個人資料，扣 5 分 2. 請將答案清楚畫記在答案卡上。

一、單選題(每題4分)

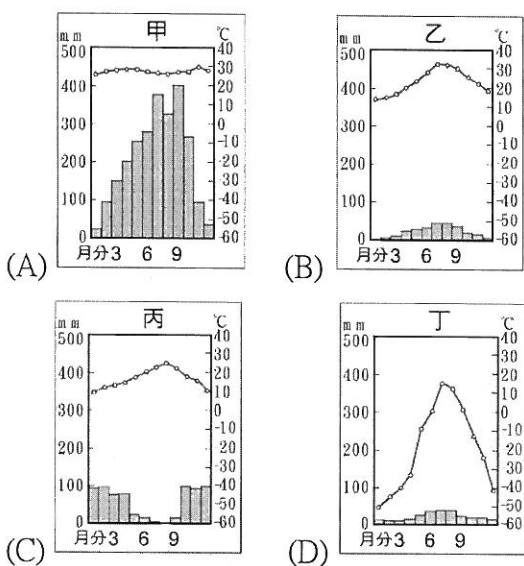
1. () 北歐國家地處高緯，地廣人稀，是歐洲的安定角落，人民所得與社會福利都很高，該地區的人口組成可以下列哪一人口金字塔圖表示？



2. () 東歐的巴爾幹半島，因為民族與宗教多元，經常出現紛爭與衝突，因此有「歐洲火藥庫」之稱，其多元的民族與宗教主要是受到這個地區何種自然環境的影響？

- (A) 地形崎嶇封閉，小國林立
 (B) 是歐洲大平原的一部分，受前蘇聯統治的影響
 (C) 溫帶大陸性氣候區生活條件優越，吸引亞洲民族到此定居
 (D) 北起波羅的海，南至地中海，地處歐洲進入亞洲的過渡地帶。

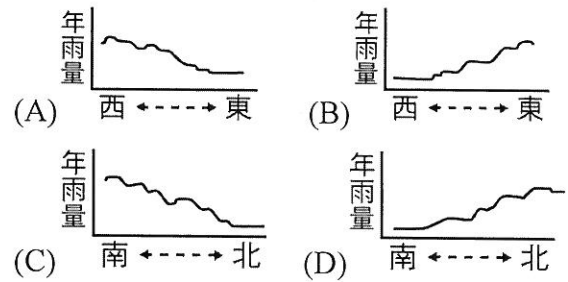
3. () 朝順參加法國坎城影展，在抵達後趁著尚未工作，先在附近的海灘與山丘古堡散步，在地中海的明艷陽光與宜人微風之下，大呼飛了十幾小時來到此地實在值得。請問：下列何者最有可能是法國坎城的氣候圖？



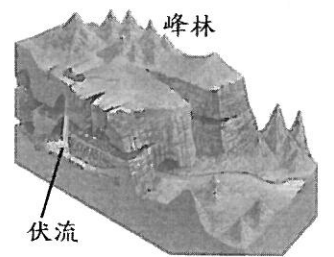
4. () 勝美想去挪威自助旅行，在「背包客棧」上看到背包客的分享，其中有一段話提到：「挪威北部的亨墨菲斯港位於北極圈內，但港口終年不凍，請問是下列何者影響？

- (A) 西風 (B) 地勢高低
 (C) 海陸性質差異 (D) 暖流。

5. () 東歐地區年降雨量的空間分布變化，可以用下列哪一張圖來表現？



6. () 喀爾巴阡山以南的地區發現了如右圖所示的地形，下列何者是造成地表如此崎嶇的主要原因？



- (A) 火山噴發
 (B) 溶蝕作用
 (C) 冰河侵蝕
 (D) 河川堆積。

7. () 北歐國家自然環境不佳，卻能善用環境發展當地產業，請問芬蘭、瑞典等地通訊產業發達的共同原因為何？

- (甲) 煤、鐵、石油等礦產資源豐富
 (乙) 緯度高，氣候寒冷
 (丙) 地廣人稀
 (丁) 崎嶇的石灰岩地形。

- (A) 甲乙 (B) 乙丙 (C) 丙丁 (D) 乙丁。

8. () 荷蘭的沿海地區多為填海造陸所形成的新生地，以發展何種產業為主？

- (A) 重工業 (B) 養殖漁業
 (C) 酪農業 (D) 水稻耕作。

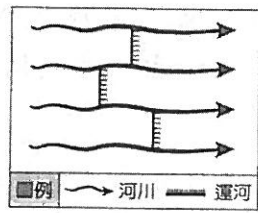
9. () 極圈內能見到特殊的永晝、永夜現象，以下哪一個國家看的到該特殊現象？

- (A) 瑞士 (B) 芬蘭
 (C) 丹麥 (D) 烏克蘭。

10. () 臺灣電子大廠鴻海在 2000 年即前往捷克投資生產，更在 2002 年完成新廠房的擴建，成為歐洲市場的蘋果電腦生產基地。請問：鴻海公司前往捷克設廠的主要原因為何？

- (A) 勞資便宜、關稅優惠
 (B) 研發重鎮、技術進步
 (C) 氣候優良、位置適中
 (D) 技術進步、資金充足。~請翻背面繼續作答~

11. () 便捷的水運是德國工業發展的優勢，該國利用河川及運河構築成綿密的水運網，分布大致如右圖。依據德國的自然環境判斷，若要在圖中標示出方位，則下列何者最正確？



- (A) (B) (C) (D)

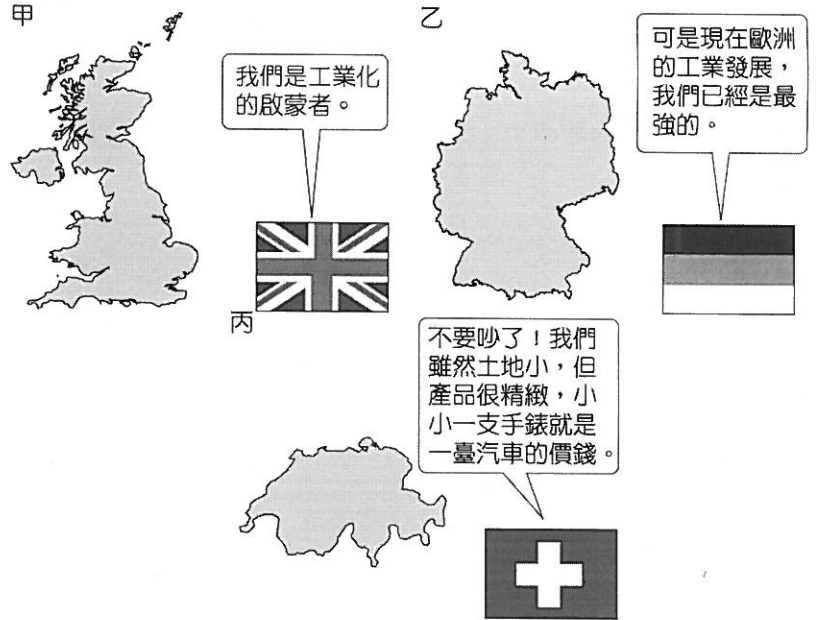
二、題組題(每題4分)

※東歐地區的開放較晚，再加上風光明媚，因此成為新興的旅遊勝地，為當地帶來豐富的外匯收入。附表為小彩參加的東歐行程，請問 12~15 題：

第 1 站	漫步布拉格舊城區
第 2 站	在斯洛伐克登上東歐主要山脈的最高峰，並享受午餐
第 3 站	參觀電影「辛德勒名單」中出現的奧斯維辛集中營舊址
第 4 站	搭船欣賞東歐主要河川的沿岸風光
第 5 站	參觀布達佩斯被列入世界文化遺產的城堡區與河畔風光

12. () 小彩參加上述的旅遊行程，為了避免遇到滂沱大雨，應避免在下列何時前往？
(A) 1 月 (B) 4 月 (C) 7 月 (D) 10 月。
13. () 在第 2 站的行程中，小彩登上高峰後見到美麗的景色讓他忘卻爬山的辛勞，根據導遊介紹這座山脈應為何？
(A) 蘇臺德山 (B) 高加索山
(C) 阿爾卑斯山 (D) 喀爾巴阡山。
14. () 第二次世界大戰時，在奧斯維辛集中營有許多猶太人在此被德國的納粹軍隊屠殺，讓這個地處德、俄大國間的國家更添一筆悲傷的歷史。請問：小彩前往的奧斯維辛集中營應位於下列哪一國家？
(A) 羅馬尼亞 (B) 波蘭
(C) 保加利亞 (D) 烏克蘭。
15. () 第 4 站是小彩最喜歡的行程，可以輕鬆的搭船暢遊哪一條河川的風光？
(A) 萊茵河 (B) 多瑙河
(C) 聶伯河 (D) 塞納河。

※圖為《看漫畫學歐洲地理》一書中的內容，請問 16~19 題：

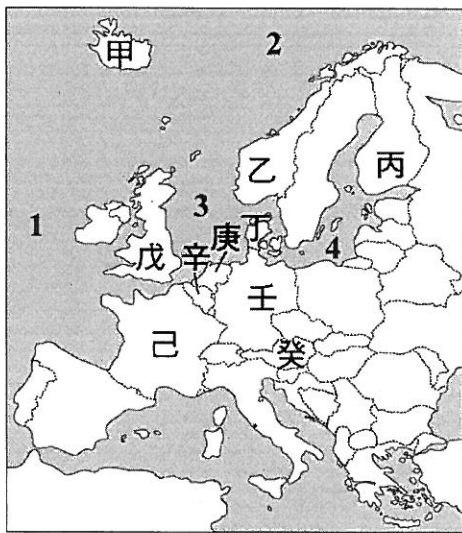


16. () 圖中甲國家是由於何種礦產資源的開發利用，因此開啟了工業革命的序幕？
(A) 煤礦 (B) 鐵礦 (C) 水力 (D) 石油。
17. () 圖中乙國為全歐洲工業最發達的國家之一，也創造出許多著名的品牌，如徠卡相機、賓士汽車、BMW 等。下列何者「不」是該國工業發達的主要原因？
(A) 豐富的煤礦資源 (B) 便利的水陸交通
(C) 雄厚的科技能力 (D) 虔誠的宗教信仰。
18. () 圖中丙國家巧克力是世界第一，雖然是從美洲傳到歐洲的食品，但丙國人卻將它發揚光大，其中有一款巧克力品牌，外型是以當地的地形為靈感設計而成。請問該地形為何？
(A) 喀爾巴阡山
(B) 高加索山
(C) 阿爾卑斯山
(D) 斯堪地那維亞山脈。
19. () 圖中丙國家的主要產業除了著名的鐘錶工業外，還包括下列何者？
(A) 電子業 (B) 時尚業
(C) 金融業 (D) 航運業。




~請接下一頁~

※西歐與北歐都是經濟高度發展的地區，不論是自然風光還是人文景觀，都吸引眾多觀光客前往。請根據描述找出所在國家的位置代號，20~25題：



20. () 2015 年湧上歐陸的難民潮估計將達 80 萬人，是第二次世界大戰結束以來歐洲最大的難民危機，對歐洲聯盟構成嚴峻挑戰。...○○國作為歐盟經濟產值最高國家，為洗刷昔日納粹罪行，高呼「歡迎難民」，但 2016 年○○國人對難民問題的態度轉變，到底此問題是帶給○國機會？還是增加其負擔？究竟是轉機或是危機？請根據上述內容判斷：○○國為何？
 (A)戊 (B)己 (C)壬 (D)癸
21. () 子豪在旅遊雜誌上看到一段報導如下：歐洲之星 Eurostar 是來往倫敦和歐洲內陸地區的高速列車，2018 年起，連接倫敦、巴黎、布魯塞爾和阿姆斯特丹四地，時速高達 300 公里，大大縮減了來往四個歐洲首都城市的旅行時間。搭乘歐洲之星，可以自在地暢遊歐洲！根據上述內容，請問：「歐洲之星」高速鐵路，行經國家代號？
 (A)戊己辛庚 (B)戊己壬庚
 (C)己辛庚戊 (D)戊庚辛己
22. () 右圖為蔣老師前往乙國旅遊時拍攝的地形照片。此地形最可能帶來下列哪些產業發展效益？
 (A)促進牧業與紡織業發展
 (B)推動鋼鐵業與汽車工業
 (C)有利於航運與造船工業
 (D)開發石油和天然氣資源
23. () 甲國的煉鋁工業相當發達，成為當地重要的收入來源。請問：該地區發展煉鋁工業最有利的條件為何？
 (A)交通方便 (B)市場廣大
 (C)鋁礦豐富 (D)動力充足。



24. () 科學家調查指出：「一頭乳牛每年放出約四公噸的二氧化碳，遠遠超過一輛汽車。」倘若政府要向飼養者課徵依據牲畜排放氣體量而定的「氣候稅」時，圖中哪一個國家有「歐洲牧場」之稱，政府由此而徵得的稅收會最多？
 (A)乙 (B)丁 (C)庚 (D)辛。
25. () 莎莎到歐洲某城市旅遊，在塞納河左岸喝咖啡，參觀了羅浮宮、凡爾賽宮，經過了凱旋門，最後登上艾菲爾鐵塔，欣賞絢麗的城市夜景，花都之旅，果然不虛此行。請問「某城市」是位於圖中的哪一個國家？
 (A)戊 (B)己 (C)庚 (D)辛。

~作答結束~

高雄市嘉興國民中學 108 學年度第一學期三年級地理科第二次定期評量試題卷

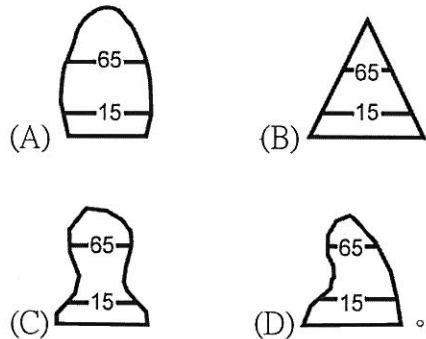
範圍：第五冊 L3-4-1

班級：_____ 座號：_____ 姓名：_____

※1. 年級代號〔三〕 科目、組別代號不用畫；未填妥個人資料，扣 5 分 2. 請將答案清楚畫記在答案卡上。

一、單選題(每題4分)

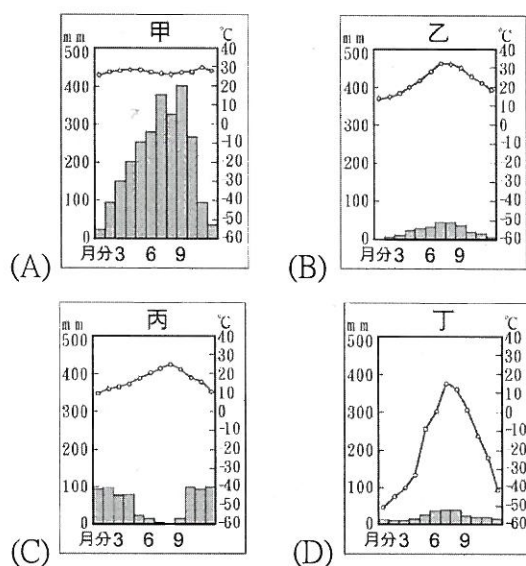
1. (A) 北歐國家地處高緯，地廣人稀，是歐洲的安定角落，人民所得與社會福利都很高，該地區的人口組成可以下列哪一人口金字塔圖表示？



2. (D) 東歐的巴爾幹半島，因為民族與宗教多元，經常出現紛爭與衝突，因此有「歐洲火藥庫」之稱，其多元的民族與宗教主要是受到這個地區何種自然環境的影響？

- (A) 地形崎嶇封閉，小國林立
(B) 是歐洲大平原的一部分，受前蘇聯統治的影響
(C) 溫帶大陸性氣候區生活條件優越，吸引亞洲民族到此定居
(D) 北起波羅的海，南至地中海，地處歐洲進入亞洲的過渡地帶。

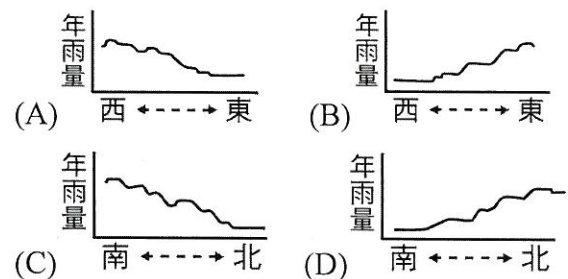
3. (C) 朝順參加法國坎城影展，在抵達後趁著尚未工作，先在附近的海灘與山丘古堡散步，在地中海的明艷陽光與宜人微風之下，大呼飛了十幾小時來到此地實在值得。請問：下列何者最有可能是法國坎城的氣候圖？



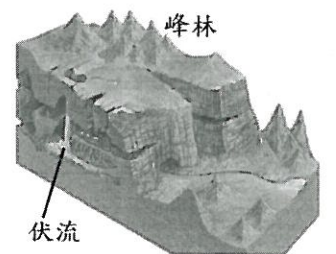
4. (D) 勝美想去挪威自助旅行，在「背包客棧」上看到背包客的分享，其中有一段話提到：「挪威北部的亨墨菲斯港位於北極圈內，但港口終年不凍，請問是下列何者影響？

- (A) 西風 (B) 地勢高低
(C) 海陸性質差異 (D) 暖流。

5. (A) 東歐地區年降雨量的空間分布變化，可以用下列哪一張圖來表現？



6. (B) 喀爾巴阡山以南的地區發現了如右圖所示的地形，下列何者是造成地表如此崎嶇的主要原因？



- (A) 火山噴發
(B) 溶蝕作用
(C) 冰河侵蝕
(D) 河川堆積。

7. (B) 北歐國家自然環境不佳，卻能善用環境發展當地產業，請問芬蘭、瑞典等地通訊產業發達的共同原因為何？

- (甲) 煤、鐵、石油等礦產資源豐富
(乙) 緯度高，氣候寒冷
(丙) 地廣人稀
(丁) 崎嶇的石灰岩地形。
(A) 甲乙 (B) 乙丙 (C) 丙丁 (D) 乙丁。

8. (C) 荷蘭的沿海地區多為填海造陸所形成的新生地，以發展何種產業為主？

- (A) 重工業 (B) 養殖漁業
(C) 酪農業 (D) 水稻耕作。

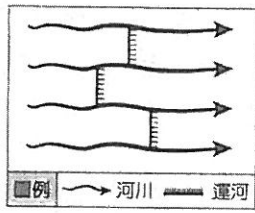
9. (B) 極圈內能見到特殊的永晝、永夜現象，以下哪一個國家看的到該特殊現象？

- (A) 瑞士 (B) 芬蘭
(C) 丹麥 (D) 烏克蘭。

10. (A) 臺灣電子大廠鴻海在 2000 年即前往捷克投資生產，更在 2002 年完成新廠房的擴建，成為歐洲市場的蘋果電腦生產基地。請問：鴻海公司前往捷克設廠的主要原因為何？

- (A) 勞資便宜、關稅優惠
(B) 研發重鎮、技術進步
(C) 氣候優良、位置適中
(D) 技術進步、資金充足。~請翻背面繼續作答~

11. (C) 便捷的水運是德國工業發展的優勢，該國利用河川及運河構築成綿密的水運網，分布大致如右圖。依據德國的自然環境判斷，若要在圖中標示出方位，則下列何者最正確？



- (A) (B) (C) (D)

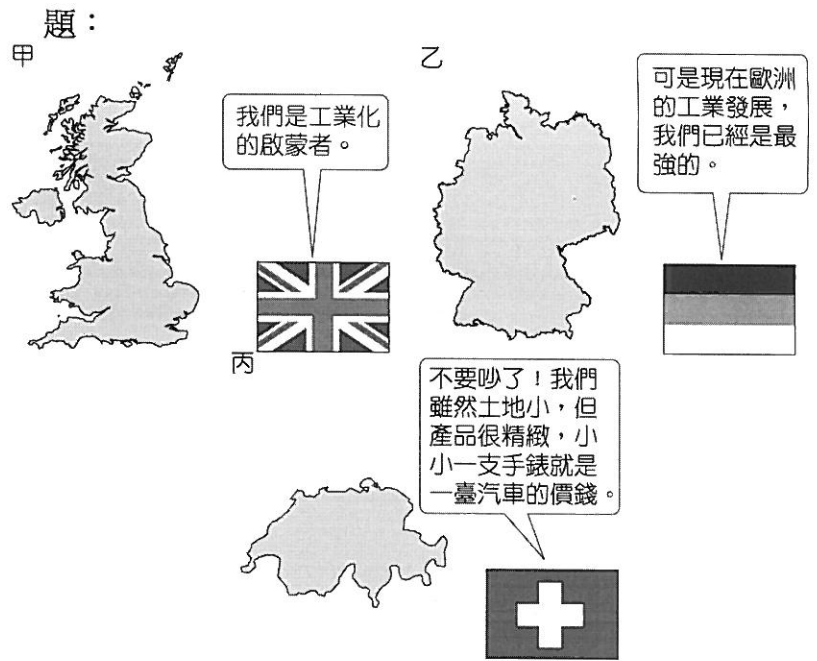
二、題組題(每題4分)

※東歐地區的開放較晚，再加上風光明媚，因此成為新興的旅遊勝地，為當地帶來豐富的外匯收入。附表為小彩參加的東歐行程，請問 12~15 題：

第 1 站	漫步布拉格舊城區
第 2 站	在斯洛伐克登上東歐主要山脈的最高峰，並享受午餐
第 3 站	參觀電影「辛德勒名單」中出現的奧斯維辛集中營舊址
第 4 站	搭船欣賞東歐主要河川的沿岸風光
第 5 站	參觀布達佩斯被列入世界文化遺產的城堡區與河畔風光

12. (C) 小彩參加上述的旅遊行程，為了避免遇到滂沱大雨，應避免在下列何時前往？
 (A) 1 月 (B) 4 月 (C) 7 月 (D) 10 月。
13. (D) 在第 2 站的行程中，小彩登上高峰後見到美麗的景色讓他忘卻爬山的辛勞，根據導遊介紹這座山脈應為何？
 (A) 蘇臺德山 (B) 高加索山
 (C) 阿爾卑斯山 (D) 喀爾巴阡山。
14. (B) 第二次世界大戰時，在奧斯維辛集中營有許多猶太人在此被德國的納粹軍隊屠殺，讓這個地處德、俄大國間的國家更添一筆悲傷的歷史。請問：小彩前往的奧斯維辛集中營應位於下列哪一國家？
 (A) 羅馬尼亞 (B) 波蘭
 (C) 保加利亞 (D) 烏克蘭。
15. (B) 第 4 站是小彩最喜歡的行程，可以輕鬆的搭船暢遊哪一條河川的風光？
 (A) 萊茵河 (B) 多瑙河
 (C) 聶伯河 (D) 塞納河。

※圖為《看漫畫學歐洲地理》一書中的內容，請問 16~19 題：

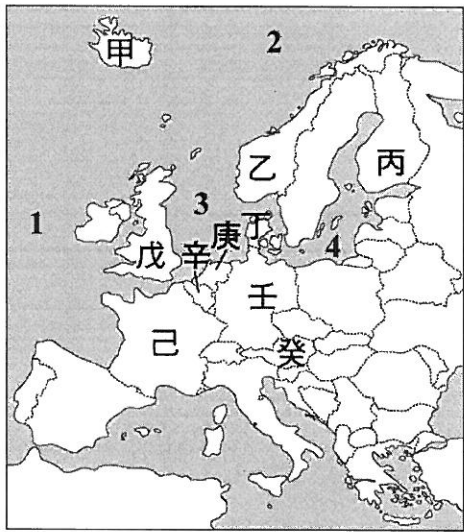


16. (A) 圖中甲國家是由於何種礦產資源的開發利用，因此開啟了工業革命的序幕？
 (A) 煤礦 (B) 鐵礦 (C) 水力 (D) 石油。
17. (D) 圖中乙國為全歐洲工業最發達的國家之一，也創造出許多著名的品牌，如徠卡相機、賓士汽車、BMW 等。下列何者「不」是該國工業發達的主要原因？
 (A) 豐富的煤礦資源 (B) 便利的水陸交通
 (C) 雄厚的科技能力 (D) 虔誠的宗教信仰。
18. (C) 圖中丙國家巧克力是世界第一，雖然是從美洲傳到歐洲的食品，但丙國人卻將它發揚光大，其中有一款巧克力品牌，外型是以當地的地形為靈感設計而成。請問該地形為何？
 (A) 喀爾巴阡山 (B) 高加索山
 (C) 阿爾卑斯山 (D) 斯堪地那維亞山脈。
19. (C) 圖中丙國家的主要產業除了著名的鐘錶工業外，還包括下列何者？
 (A) 電子業 (B) 時尚業
 (C) 金融業 (D) 航運業。




~請接下一頁~

※西歐與北歐都是經濟高度發展的地區，不論是自然風光還是人文景觀，都吸引眾多觀光客前往。請根據描述找出所在國家的位置代號，20~25題：



24. (B) 科學家調查指出：「一頭乳牛每年放出約四公噸的二氧化碳，遠遠超過一輛汽車。」倘若政府要向飼養者課徵依據牲畜排放氣體量而定的「氣候稅」時，圖中哪一個國家有「歐洲牧場」之稱，政府由此而徵得的稅收會最多？
 (A)乙 (B)丁 (C)庚 (D)辛。
25. (B) 莎莎到歐洲某城市旅遊，在塞納河左岸喝咖啡，參觀了羅浮宮、凡爾賽宮，經過了凱旋門，最後登上艾菲爾鐵塔，欣賞絢麗的城市夜景，花都之旅，果然不虛此行。請問『某城市』是位於圖中的哪一個國家？
 (A)戊 (B)己 (C)庚 (D)辛。

~作答結束~

20. (C) 2015 年湧上歐陸的難民潮估計將達 80 萬人，是第二次世界大戰結束以來歐洲最大的難民危機，對歐洲聯盟構成嚴峻挑戰。...○○國作為歐盟經濟產值最高國家，為洗刷昔日納粹罪行，高呼「歡迎難民」，但 2016 年○○國人對難民問題的態度轉變，到底此問題是帶給○國機會？還是增加其負擔？究竟是轉機或是危機？請根據上述內容判斷：○○國為何？
 (A)戊 (B)己 (C)壬 (D)癸
21. (A) 子豪在旅遊雜誌上看到一段報導如下：歐洲之星 Eurostar 是來往倫敦和歐洲內陸地區的高速列車，2018 年起，連接倫敦、巴黎、布魯塞爾和阿姆斯特丹四地，時速高達300公里，大大縮減了來往四個歐洲首都城市的旅行時間。搭乘歐洲之星，可以自在地暢遊歐洲！根據上述內容，請問：「歐洲之星」高速鐵路，行經國家代號？
 (A)戊己辛庚 (B)戊己壬庚
 (C)己辛庚戊 (D)戊庚辛己
22. (C) 右圖為蔣老師前往乙國旅遊時拍攝的地形照片。此地形最可能帶來下列哪些產業發展效益？

 (A)促進牧業與紡織業發展
 (B)推動鋼鐵業與汽車工業
 (C)有利於航運與造船工業
 (D)開發石油和天然氣資源
23. (D) 甲國的煉鋁工業相當發達，成為當地重要的收入來源。請問：該地區發展煉鋁工業最有利的條件為何？
 (A)交通方便 (B)市場廣大
 (C)鋁礦豐富 (D)動力充足。