

高雄市立嘉興國民中學108學年度第一學期一年級地理科第二次定期評量試題卷

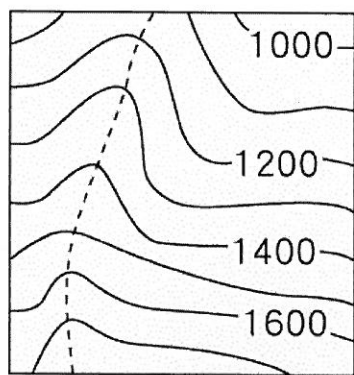
範圍：第一冊第三章~第四章

一年__班 座號：_____ 姓名：_____

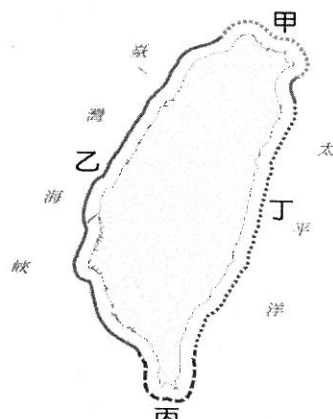
一、選擇：(每題4分，共100分)

※讀卡資料未填妥者扣五分。

- () 某次颱風過境帶來大雨，造成高雄山區嚴重土石流，甚至沖毀住宅橋梁，救災人員選用衛星影像圖來了解救災現場狀況。請問：主要是因為其何種特性？ (A)拍攝範圍小 (B)更新速度快 (C)比例尺固定 (D)圖例較清楚。
- () 圖一為某山坡地的等高線地形圖，圖中虛線處最可能表現為下列何種地形？ (A)懸崖 (B)窪地 (C)河谷 (D)山脊。

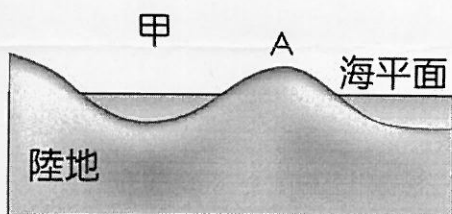


圖一

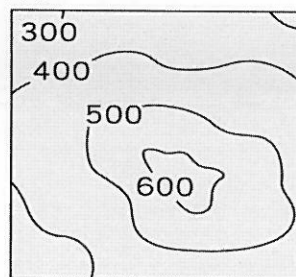


圖二

- () 臺灣某處海岸由於鄰近板塊交界帶，山脈緊逼海洋，形成懸崖峭壁、相對高度落差大的海岸型態。請問：圖二中哪段海岸符合上述？(A)甲 (B)乙 (C)丙 (D)丁。
- () 下列何種土地利用方式，比較符合「永續利用」的精神？ (A)山坡地應該回歸自然，完全不允許人為開發 (B)將國家公園劃分為遊客開放區與專屬保育區 (C)核廢料埋在地底，等未來技術成熟後再處理 (D)在河道旁興建大量堤防，防止河水泛濫成災。
- () 依聯合國海洋法公約規定，一國經濟海域由領海基線向外延伸，最遠可延伸到多少範圍？ (A)1 哩 (B)20 哩 (C)100 哩 (D)200 哩。
- () 被河水挾帶到海中的泥沙，若堆積在淺海地區並露出海面時，稱為「沙洲」，如右圖中的「A」。請問：圖三中「甲」的名稱為何？ (A)灣澳 (B)潟湖 (C)海灘 (D)岬角。




圖三

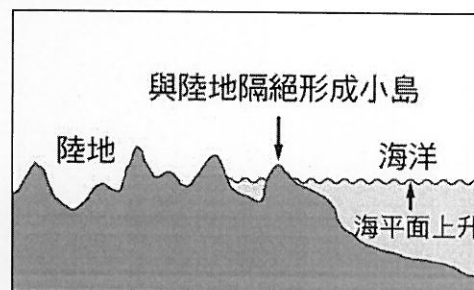


圖四

- () 圖四是康康國中附近一座小山的等高線地形圖，推測該座小山的山頂海拔高度可能是下列何者？ (A)580 公尺 (B)600 公尺 (C)660 公尺 (D)720 公尺。
- () 尹恩今年暑假展開南迴鐵路之旅，由臺東車站到屏東枋寮站，沿線依山傍海，風光壯麗，其中穿越多重隧道更是南迴鐵路的一大特色。請問：南迴鐵路的多重隧道主要是因為穿越哪座山脈？ (A)中央山脈 (B)雪山山脈 (C)阿里山山脈 (D)海岸山脈。
- () 釣魚臺列嶼之主權歸屬，在中華民國(臺灣)、中華人民共和國及日本三方間，歷年來常引起廣大的爭議及討論。請問：釣魚臺列嶼依其成因屬於何種類型的島嶼類型？ (A)火山島 (B)大陸島 (C)珊瑚礁島 (D)沙洲島。
- () 圖五為某地區的地形剖面圖。根據圖中提供的資訊判斷，代號與地形類型的配對，下列何者錯誤？ (A)甲——高原 (B)乙——山地 (C)丙——盆地 (D)丁——平原。
- () 圖六為某島嶼的成因圖，根據形成原因判斷，其最有可能是哪座島嶼？ (A)金門列嶼 (B)東沙島 (C)花瓶嶼 (D)基隆嶼。



圖五

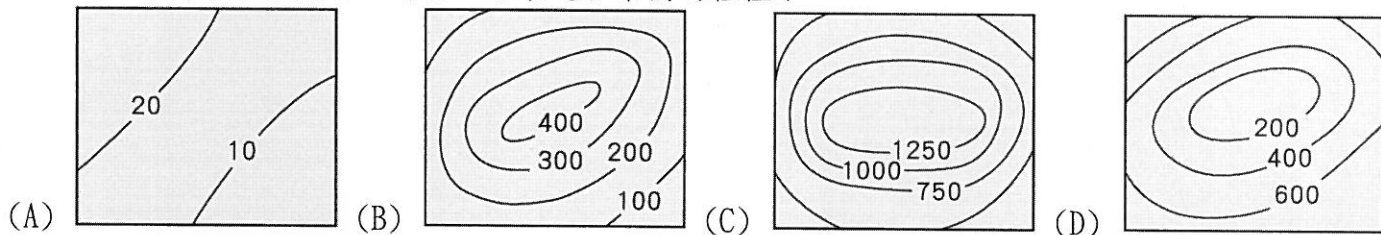


圖六

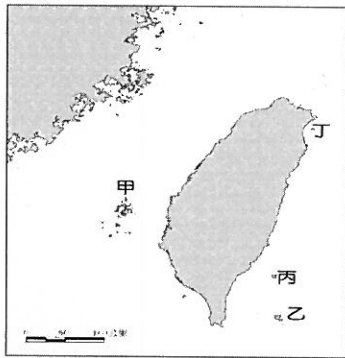
- () 珊瑚礁島為珊瑚礁所構成的島嶼，由於珊瑚生長緩慢，珊瑚礁島大多有下列何種特徵？ (A)海水較深 (B)起伏較大 (C)地勢低平 (D)位於溫帶。
- () 臺灣的地形樣貌是由內營力與外營力共同形塑而成的，下列何者屬於內營力的範疇？ (A)流水搬運 (B)風力堆積 (C)地殼隆起 (D)海浪侵蝕。

背面尚有試題

14. () 下列關於各種地形表示方法的敘述，何者錯誤？
 (A) 在地圖上將地表高度相同的各點，連成一條條的閉合曲線，稱為等高線
 (B) 衛星影像可觀察地表高低起伏
 (C) 分層設色圖是以顏色來表示地形的高低
 (D) 等高線的水平間距愈密集，表示坡面愈平緩。
15. () 下列關於岩岸地形的敘述(甲)海岸線曲折 (乙)沿岸海水較深 (丙)沿岸平原寬廣 (丁)多港灣 (戊)適合發展農業和晒鹽業，哪些正確？ (A)甲乙丁 (B)甲乙戊 (C)乙丁戊 (D)丙丁戊。
16. () 地理老師美女杏請同學觀察臺灣地形圖，發現臺灣東部多山地地形，西部多平原、台地等地形。請問：哪一個同學回答的解釋最為正確？
 (A)家蓁：臺灣在地質構造上是古老地塊 (B)永志：臺灣位於板塊擠壓的接觸帶上
 (C)明宗：臺灣位於亞洲大陸西北側 (D)慧雯：臺灣東側面臨印度洋。
17. () 西元 2009 年的八八水災曾造成臺灣南部發生嚴重的災情，山區土石流肆虐，沿海淹水嚴重。請問：下列有關土石流發生的原因何者有誤？
 (A)超抽地下水造成土石鬆軟 (B)短時間內大量降水 (C)坡地不當利用，碎屑物多 (D)山區坡度陡峭。
18. () 下列四張等高線地形圖中，何者地形最適合茶樹的種植？

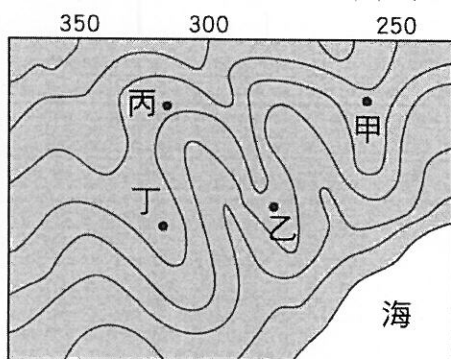


19. () 博元利用暑假期間騎乘單車旅行，他花了五天的時間，沿著濱海公路從嘉義縣東石鄉往南騎到臺東縣臺東市。請問：他沿途所經歷的海岸類型變化，應為下列何者？
 (A)沙岸→珊瑚礁海岸→斷層海岸 (B)岬灣海岸→沙岸→斷層海岸
 (C)斷層海岸→沙岸→珊瑚礁海岸 (D)沙岸→岬灣海岸→珊瑚礁海岸。
20. () 「富貴角」、「三貂角」、「鼻頭角」，這些地名常出現在臺灣哪段海岸？
 (A)東北角岩岸 (B)西南部沿海 (C)東部斷層海岸 (D)西北部沿海。
21. () 西南部居民會在沿海地區掘土作池，成為引水養魚的水產養殖場。請問：在此區的海岸線，當地居民最不可能進行哪種海岸利用？
 (A)利用冬季少雨的日子晒鹽 (B)在沿海淺灘之中架棚養蚵
 (C)於岸邊沙灘開闢海水浴場 (D)開放遊客浮潛與欣賞珊瑚。
22. () 分層設色圖是以不同顏色來表現地形的高度變化。請問：通常會以何種顏色來代表平原地形？
 (A)褐色 (B)黃色 (C)紅色 (D)綠色。
23. () 地理老師女神杏在複習臺灣離島時，繪製了圖七，並請同學比較甲島和乙丙丁三島的特色，請問下列何人的敘述正確？
 (A)悅慈：甲為大陸島，乙、丙、丁為火山島 (B)俊陞：甲為火山島，乙、丙、丁為珊瑚礁島
 (C)珊珊：甲是四島嶼中，唯一位於臺灣海峽的島 (D)子歲：甲是四大島嶼中，唯一擁有雅美(達悟)族文化的島。




←圖七

24. () 圖八為某地區的等高線地形圖。少荃全家利用假日到該地的河畔烤肉、戲水。依據此圖判斷，下列何者最可能是他們烤肉的地點？ (A)甲 (B)乙 (C)丙 (D)丁。
25. () 依地理位置判斷，臺灣的哪個港口最可能是利用圖九中「甲」的地形興建而成？
 (A)基隆港 (B)蘇澳港 (C)高雄港 (D)花蓮港。



圖八



圖九

高雄市立嘉興國民中學108學年度第一學期第二次段
考一年級地理科考查試卷答案

範圍：第一冊第三章~第四章

一、選擇：(每題答案4分，共100分)

1-5 B D D B D

6-10 B C A A D

11-15 A C C D A

16-20 B A B A A

21-25 D D C C C