

高雄市立嘉興國民中學108學年度第一學期二年級地理科第一次定期評量試題卷

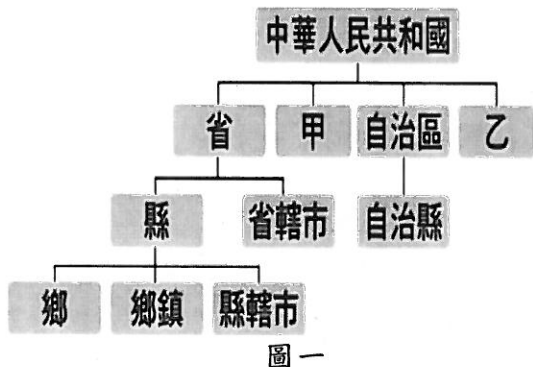
範圍：第三冊第一章~第二章

二年__班 座號：_____ 姓名：_____

一、選擇：(每題4分，共100分)

※讀卡資料未填妥者扣五分。

1. () 圖一為小軒上完地理課後所整理出的中國行政區劃圖。圖中甲、乙兩種省級行政區的數量合計為何?
 (A)3個 (B)4個 (C)5個 (D)6個。

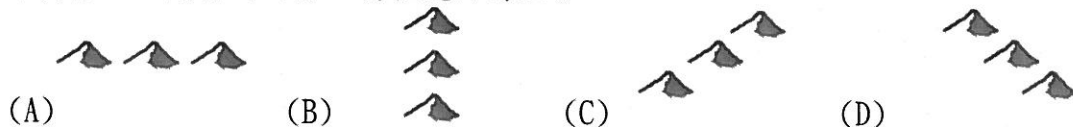


圖一

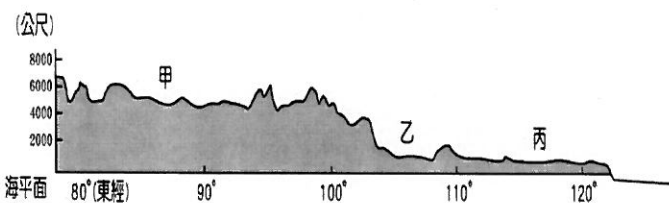


圖二


2. () 圖二為中國沙岸、岩岸分布圖。圖中甲、乙兩地由於組成物質不同，形成不同的海岸地形。下列關於甲、乙兩海岸地形特色及土地利用之敘述，何者正確?
 (A)甲地沿海曲折多灣澳，海底地形平淺
 (B)甲地沿海平原寬廣，適合農業開發
 (C)乙地沿海平直多沙洲，海底地形陡深
 (D)乙地缺乏天然良港，多發展養殖漁業。
3. () 中國的行政區劃中，自治區的行政地位與省相當。促使中國不設省而設自治區的目的為何?
 (A)該區地形崎嶇 (B)該區的氣候乾燥少雨 (C)該區少數民族較多 (D)便於和外國建立友好關係。
4. () 中國的黃河穿行黃土高原後，河流黃濁，因而有黃河的稱號。這種現象說明黃河在黃土高原區，受到高原區土壤的特性而產生了下列哪種強大的作用? (A)沖積 (B)搬運 (C)侵蝕 (D)堆積。
5. () 小明暑假時跟著爺爺到中國探親，爺爺的故鄉位在中國沿海附近，且家鄉到處都是茶園，而老人家們說起茶的歷史似乎說也說不盡。請問：小明爺爺的家鄉應位於下列何處?
 (A)雲貴高原 (B)東南丘陵 (C)四川盆地 (D)珠江三角洲。
6. () 「絲路」在漢、唐時期是中國與中亞及歐洲等地陸上貿易的重要孔道。請問：下列哪個城市在古代是這條重要貿易路線的起點? (A)北京 (B)西安 (C)南京 (D)上海。
7. () 中國第三級階梯的山脈以何種走向為主?



8. () (甲)準噶爾盆地 (乙)四川盆地 (丙)塔里木盆地 (丁)柴達木盆地。上述哪兩個盆地分別位於天山南、北兩側?
 (A)甲丙 (B)甲丁 (C)乙丙 (D)丙丁。
9. () 「中國西部深入亞洲內陸，是陸上商旅行走歐洲、西亞的要道；沿海地區進出口貿易便利，與外國接觸早且頻繁，乃成為中國目前經濟最活躍的地帶。」上文是描述中國哪個地理特色的優越性?
 (A)面海背陸，宜海宜陸 (B)位居中緯度，氣候溫和 (C)位居東半球，鄰國眾多 (D)面積廣大，幅員完整。
10. () 中國設立的民族自治區中，何者和臺灣的距離最近，且同樣被北回歸線經過?
 (A)西藏自治區 (B)廣西壯族自治區 (C)新疆維吾爾自治區 (D)內蒙古自治區。
11. () 圖三為中國的地形剖面圖。請根據圖中特色加以判斷，由丙到甲的方向為何?
 (A)由東到西 (B)由西到東 (C)由南到北 (D)由北到南。



圖三



圖四

12. () 圖四為中國某地區的傳統交通方式。關於此種交通方式的解說，下列敘述何者正確?
 (A)英一：「溜索主要出現在中國的內蒙古高原一帶。」
 (B)可羅：「該地區的地形為一山一河縱走，故道路修築不易。」
 (C)美美：「維吾爾人多採用此種交通方式。」
 (D)冬冬：「黃河中、上游一帶水流湍急，居民多以溜索渡河。」

背面尚有試題

13. () 老師說：「中國的疆域面積為世界第四大國，誰能舉出面積比中國大的國家？」請問：下列哪位同學答錯了？



美國

(A)



俄羅斯

(B)



澳洲

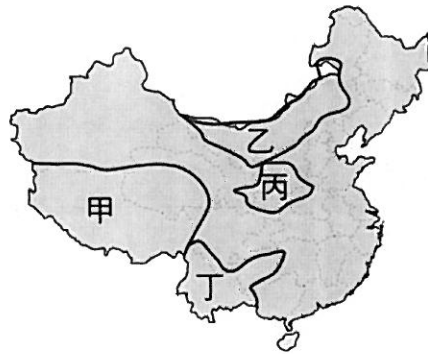
(C)



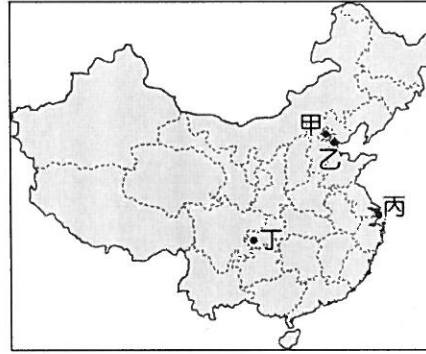
加拿大

(D)

14. () 下列哪個地形區不是中國第二級階梯內的地形區？ (A)四川盆地 (B)東南丘陵 (C)雲貴高原 (D)內蒙古高原。
15. () 若貨輪由南韓的釜山港運送液晶面板前往東南亞的新加坡，依序會經過中國的哪三大緣海？
(A)東海→黃海→南海 (B)東海→南海→黃海 (C)黃海→東海→南海 (D)黃海→南海→東海。
16. () 下列河川主要作用力及其所形成地形區的配對，何者正確？
(A)河川堆積——黃土高原 (B)河川侵蝕——長江三峽
(C)河川堆積——青藏高原 (D)河川侵蝕——珠江三角洲。
17. () 亮亮暑假到廣州旅遊，在日記本中寫著：「這裡是○○的一部分，水運發達，工商業繁榮，不過人口實在太多了，火車站尤其擁擠。」請問：上述中的○○應該為下列何者？
(A)東北平原 (B)華北平原 (C)長江中下游平原 (D)珠江三角洲。
18. () 「山地為中國各地形中面積最廣者，東半部山脈主要(甲)受菲律賓海板塊與歐亞板塊推擠，多為(乙)東北——西南走向，如武夷山、大興安嶺、太行山；西半部山脈(丙)受印澳板塊與太平洋板塊推擠，成(丁)東——西走向的山脈，如天山、崑崙山、喜馬拉雅山。」上文為關於中國山地地形之敘述，請選出敘述正確者。
(A)甲乙 (B)乙丁 (C)乙丙 (D)丙丁。
19. () 小英在遊記中寫著：「這裡是一片平坦遼闊的草原，牧人騎著馬追趕羊群，風光雖然美好，但日、夜溫差實在太大了，加上過於乾燥，和臺灣的氣候截然不同，令我不太適應。」請問：小英最可能到圖五中的哪個地區旅遊？
(A)甲 (B)乙 (C)丙 (D)丁。



圖五



圖六

20. () 北京舉辦奧運後，留下如「鳥巢」、「水立方」等特殊造型的建築物，如欲參觀這些建築，應前往圖六中的哪個城市？ (A)甲 (B)乙 (C)丙 (D)丁。
21. () 中國地勢呈三級階梯，其中「第一級階梯」的區域內，以哪兩種地形為主？
(A)丘陵、平原 (B)丘陵、高原 (C)山地、高原 (D)平原、盆地。
22. () 「近年來，中國因國內森林資源的嚴重缺乏，頒布了禁伐令，以減少國內木材的砍伐，但卻把對木材的需求轉向了北方鄰國，於是在過去的兩年內由該國進口的木材量增長了十倍。」文中的「北方鄰國」指的應為何國？
(A)南韓 (B)印度 (C)日本 (D)俄羅斯。
23. () 有關中國疆域的敘述，下列何者正確？
(A)位於東半球，亞洲東部，東臨大西洋
(B)跨熱帶、溫帶、寒帶三帶，幅員廣大
(C)南部有北回歸線通過，以南為熱帶氣候
(D)大部分屬熱帶氣候，高溫多雨。
24. () 下列關於中國各地理區劃的敘述何者正確？
(A)綜合自然與人文因素，劃分成北部、中部、南部三大區域
(B)依據經濟發展情況，可劃分成東部、中部、西部三大經濟帶
(C)依據地勢高低劃分三級階梯，第三級最高，第二級次之，第一級最低
(D)在三級階梯中，依相對位置又分華東、華中、華北、東北、蒙新與青藏六大地區。
25. () 宇杰利用暑假進行「中國四大盆地之旅」，開學後他與俊哲分享旅遊心得。請問：下列哪個盆地的特色宇杰說錯了？
(A)柴達木盆地：分布著許多鹽湖，有「鹽的世界」之稱
(B)塔里木盆地：是中國面積第二大的盆地，近年有石油開採
(C)四川盆地：由於形勢封閉，有「難於上青天」之嘆
(D)準噶爾盆地：位於天山以北，降水量稀少。

試題結束

高雄市立嘉興國民中學108學年度第一學期第一次段
考二年級地理科考查試卷答案

範圍：第三冊第一章~第二章

一、選擇：(每題答案4分，共100分)

1-5 D B C C B

6-10 B C A A B

11-15 A B C B C

16-20 B D B B A

21-25 C D C B B