

高雄市立嘉興國民中學108學年度第一學期一年級地理科第一次定期評量試題卷


範圍：第一冊第一章~第二章

一年__班 座號：____ 姓名：_____

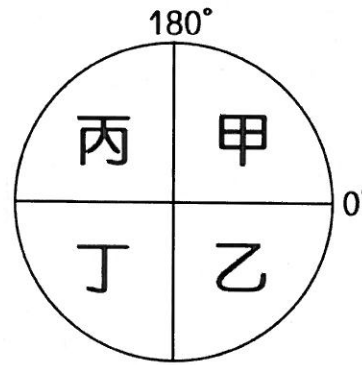
一、選擇：(每題4分，共100分)

※讀卡資料未填妥者扣五分。

1. () 圖一是嘉興國中的地圖。如果淑惠要從行政大樓走到圖書館，她應該朝哪個方向走？
 (A)西北方 (B)西南方 (C)東北方 (D)東南方。

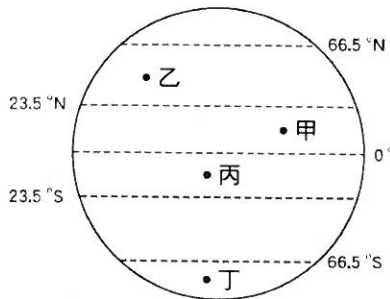


圖一



圖二

2. () 若以圖二的示意圖來表達地球的各半球，則臺灣的位置應位於哪個半球中？ (A)甲 (B)乙 (C)丙 (D)丁。
 3. () 地圖上的方位通常是以英文來標示。請問：哪個英文字母代表的是北方？
 (A)「N」 (B)「E」 (C)「W」 (D)「S」。
 4. () 圖三為全球氣候帶的簡圖，下列何者配對正確？ (A)甲：溫帶 (B)乙：寒帶 (C)丙：熱帶 (D)丁：副熱帶。



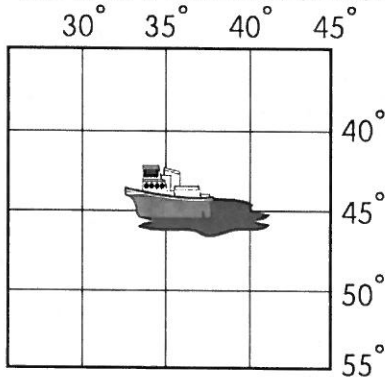
圖三

小明	小華	小林
小王	小胖	小陳
阿呆	阿德	小玉

圖四

5. () 圖四是七年四班的座位圖。下列相關的敘述，何者正確？
 (A)小林坐在小胖的西北方
 (B)小華坐在小王的東北方
 (C)小王坐在阿呆的南方
 (D)小胖坐在小陳的東方。
 6. () 下列哪項地圖要素最能知道地圖的主要內容？ (A)圖名 (B)圖例 (C)方向標 (D)比例尺。
 7. () (甲)臺灣黑熊 (乙)福壽螺 (丙)臺灣獼猴 (丁)櫻花鉤吻鮭 (戊)黑鮪魚 (己)黑面琵鷺。上述哪些動物屬於臺灣特有的物種？ (A)甲乙戊 (B)甲丙丁 (C)乙丙己 (D)乙戊己。
 8. () 關於位置的描述方式，有相對位置與絕對位置兩種。下列關於位置的描述，何者屬於「絕對位置」？
 (A)庭芳坐在威廷的左後方
 (B)煥傑家距離學校兩個街口
 (C)屏東縣位於臺灣最南端
 (D)澎湖群島位於東經119度，北緯23度。
 9. () 下列對於現今臺灣行政區劃的描述，何者錯誤？
 (A)有6個直轄市 (B)共有16個縣、市 (C)唯一不臨海的縣為南投縣 (D)北回歸線僅穿過花蓮縣。
 10. () 地球有南半球與北半球之分，下列何者是將地球分為南、北半球的假想線？
 (A)赤道 (B)極圈 (C)回歸線 (D)本初子午線。
 11. () 「臺灣的離島中，有座島嶼位於南海的南沙群島之中，與高雄港相距約1,600公里。」請問：上述島嶼指的是下列何者？ (A)琉球嶼 (B)東沙島 (C)太平島 (D)釣魚臺列嶼。
 12. () 學完了經線的特性後，老師出了一項作業，請同學比較本初經線和國際換日線。下面四個學生的敘述，何者有誤？
 (A)甲生：兩條線的方向不同，本初經線是南北向，國際換日線是東西向
 (B)乙生：兩條線的左右兩側時間差，都適用「東加西減」的概念
 (C)丙生：本初經線左右兩側日期相同，但是國際換日線左右兩側日期不同
 (D)丁生：本初經線與國際換日線相差180度。
 13. () 若圖中2公分代表實際距離400公尺，則此圖的比例尺為何？
 (A)1/1000 (B)1/2000 (C)1/10000 (D)1/20000。
 14. () 寒假小淇到臺南曾文溪口的七股溼地生態保育區，觀賞瀕臨絕種的野生鳥類。該野生鳥類是一種候鳥，屬於朱鷺科。請問：該種候鳥最可能為何？ (A)灰面鷲 (B)藍腹鷗 (C)黑面琵鷺 (D)臺灣帝雉。

15. () 下列有關地圖比例尺的描述，何者錯誤？
 (A)大比例尺地圖的內容較簡略 (B)小比例尺地圖涵蓋的範圍較大
 (C)比例尺可用來推算地表的真實距離 (D)世界地圖屬於小比例尺地圖。
16. () 著名電腦公司生產的手機在美國舊金山(120°W)6月29日下午6點開始販售，全球各地的新聞大肆報導。請問：臺灣最快可以在何時看到第一位買到手機幸運兒的報導？
 (A)6月29日早上10點 (B)6月30日早上10點 (C)6月29日凌晨2點 (D)6月30日凌晨2點。
17. () 圖五中的某艘貨輪遇上惡劣的天氣而發生船難，且出現嚴重漏油的危機，於是該船船長立即發出求救訊號。請問：該船發生事故的經緯度位置位在哪裡？ (A)35°W, 45°N (B)35°W, 45°S (C)35°E, 45°N (D)35°E, 45°S。

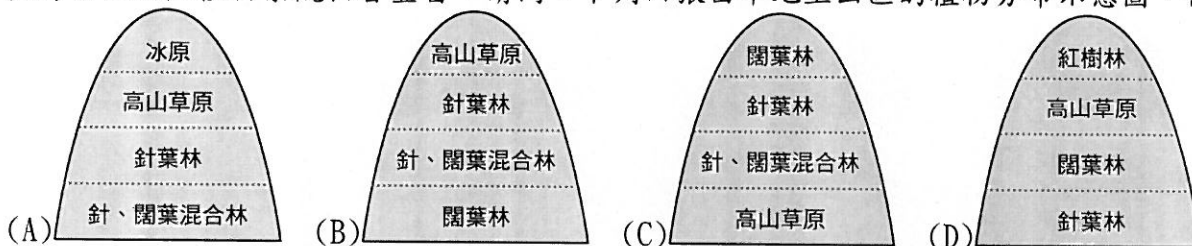


圖五

(A)	(60°E, 30°N)	(60°W, 30°N)
(B)	(0°, 25°S)	(180°, 25°S)
(C)	(100°E, 50°N)	(100°E, 20°N)
(D)	(25°E, 30°S)	(60°W, 30°S)

表一

18. () 表一中哪兩個地區之間沒有時差的問題？
19. () 臺灣山區天然植物景觀相當豐富。請問：下列四張由平地至山區的植物分布示意圖，何者正確？



20. () 當太陽光直射地表的最北界線時，全球各地的作息狀況，下列何者正確？
 (A)此時北半球季節為冬季
 (B)此時北半球節氣為夏至
 (C)此時南半球在過聖誕節
 (D)此時南半球白天時間長。
21. () 經緯線能讓人們判定位置及方位，依照經緯線的特性來判斷，若飛機由北極沿著本初經線飛行，應該會經過下列何地？ (A)澳洲的布里斯班 (B)美國的紐約 (C)英國的倫敦 (D)泰國的曼谷。
22. () 地球表面分為海洋和陸地兩部分，而海洋可分為三大洋，陸地則有七大洲，海陸分布不均。請問：下列何者是全球海陸分布的特性之一？
 (A)海洋部分占全球面積約 29%
 (B)全球一半以上的海洋位於北半球
 (C)全球多數陸地都位於南半球
 (D)太平洋是全世界面積最大的海域。
23. () 下列有關經緯線特性的敘述，何者錯誤？
 (A)每條經線都一樣長
 (B)每條緯線都一樣長
 (C)緯度最高到 90 度，便是極點
 (D)東經 180 度與西經 180 度是同一條線。
24. () 想要駕駛飛機繞著地球由東向西飛行一圈，沿著下列哪條緯線飛行，需要花費最多的時間？
 (A)0 度 (B)23.5 度 (C)66.5 度 (D)90 度。
25. () 生物若長期與外界隔絕，會因為適應環境與近親交配的結果，而逐漸演化成特有種。臺灣島豐富的動植物擁有極高比例的特有種，主要是肇因於下列哪種環境變遷？
 (A)火山爆發 (B)劇烈地震 (C)海平面上升 (D)地層下陷。

試題結束

高雄市立嘉興國民中學108學年度第一學期第一次段
考一年級地理科考查試卷答案

範圍：第一冊第一章~第二章

一、選擇：(每題答案4分，共100分)

1-5 B C A C B

6-10 A B D D A

11-15 C A D C A

16-20 B D C B B

21-25 C D B A C