

高雄市嘉興國民中學 107 學年度第二學期二年級地理科第三次定期評量試題卷

範圍：第四冊 L5-6

班級：\_\_\_\_\_ 座號：\_\_\_\_\_ 姓名：\_\_\_\_\_

※1. 年級代號〔二〕 科目、組別代號不用畫；未填妥個人資料，扣 5 分 2. 請將答案清楚畫記在答案卡上。

一、 單選題(每題4分)

- 1.( ) 中南半島為亞洲南部的三大半島之一，是世界上國家最多的半島。其位置如附圖所示。請問：下列有關中南半島的敘述中，何者錯誤？



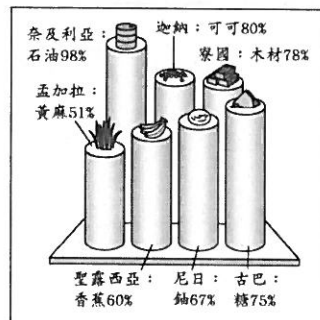
- (A)地勢北高南低  
(B)縱谷地形分布  
(C)甲處為沖積扇  
(D)河川源自中國西南部。

- 2.( ) 印度的棉花生產量豐富，早期主要銷售至殖民國家英國，作為發展紡織工業的主要原料。請問：印度半島的棉花主要生產區為附圖中何處？



- (A)甲 (B)乙  
(C)丙 (D)丁。

- 3.( ) 附圖顯示某類型國家的單一產品，在某年占該國出口總額的百分比，如黃麻占孟加拉出口總額的 51%。此類型的國家，最可能具有下列哪一項共同的特色？



- (A)外匯收入不穩定  
(B)貿易巨額出超  
(C)經濟發展程度高  
(D)產品附加價值高。

- 4.( ) 目前南韓的經濟活動相當發達，尤其在大型企業的主導下，競爭力更為強勁。請問：下列哪一個企業為南韓的大型財團，單一公司的營收占全國 GDP 的 22%？

- (A) SONY (索尼)  
(B) APPLE (蘋果)  
(C) SAMSUNG (三星)  
(D) PHILIPS (飛利浦)。

- 5.( ) 近年來東南亞主要利用下列哪些優勢吸引臺商前往投資？(甲)低廉勞工(乙)豐富資源(丙)優越技術(丁)交通要道

- (A)甲乙 (B)甲丙 (C)乙丁 (D)丙丁。

- 6.( ) 2004年時，正值歡樂的聖誕節假期期間，東南亞和南亞之間發生了可怕的海嘯，造成29萬人傷亡。請

問：海嘯的發生和當地的哪一個地理條件關係最大？

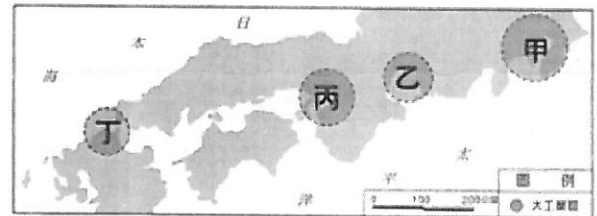
- (A)板塊接觸、地震頻繁  
(B)橫跨赤道、終年有雨  
(C)海陸交會、季風轉變  
(D)熱帶海域、颱風侵襲。

- 7.( ) 下表為南、北韓概況比較表，表中內容何者正確？

	(甲)農業	(乙)工業	(丙)制度	(丁) 重點產業
北韓	年可一獲	重工業為主	共產制度	大財團為主
南韓	年可二獲	軍火工業	社會主義	國營企業盛

- (A)甲 (B)乙 (C)丙 (D)丁。

- 8.( ) 由圖可見日本主要工業區多分布於太平洋沿岸。下列何者對日本主要工業區的分布現況影響最「小」？



- (A)國內市場規模有限，需拓展國際市場  
(B)缺乏自然資源，原料及能源需仰賴進口  
(C)國際貿易發達，工業產品仰賴海運外銷  
(D)方便勞力密集型產業轉移至東南亞，降低生產成本。

- 9.( ) 在全球化趨勢下，日本的經濟發展正面臨其他國家競爭。請問：該國目前的工業發展方向主要為下列何者？

- (A)高勞力工業 (B)低成本工業  
(C)高附加價值工業 (D)原物料開採工業。

- 10.( ) 小倫到東南亞某城市旅遊，發現當地全年的天氣變化概況相似，其狀況如附圖所示，小倫最可能是到了哪一個國家？

時 間	天氣特色
	太陽升起
	氣溫升高
	白雲朵朵
	風雲突變
	雨過天晴
	涼爽宜人

- (A)越南 (B)泰國  
(C)印尼 (D)菲律賓。

~請翻背面繼續作答~

- 11.( )泡菜是韓國人民一年四季不可或缺的食物，韓國也會帶著分裝成小罐的各式泡菜，放在行李箱中，以解出國思鄉之情。請問：這種泡菜飲食文化，主要是受何項因素影響而形成？  
 (A)耕地狹小 (B)降雨量少  
 (C)冬季嚴寒 (D)宗教觀念。

- 12.( )欣欣預計暑假時前往日本的本州島自助旅行，她打算從東京出發，以順時針方向環島一圈，如圖所示，其中箭頭部分為騎乘單車的路段。依當時盛行風向判斷，在圖中哪一路段，她應注意來自身體左方的側風？  
 (A)甲 (B)乙 (C)丙 (D)丁。



- 13.( )小庭查詢了二家旅行社的南亞旅遊相關資料，如下圖，她發現在不同時間搭機前往該地區進行相同的旅遊行程，費用會有相當程度的價差。請問：影響此現象的地理因素，最有可能是下列何者？

<p>熊獅旅遊</p> <p>6月出發 · NT.39,900元起          【華航直飛·經典恆河日出8日】          印度金三角、瓦拉納西恆河遊船、          泰姬瑪哈陵</p>	<p>11月出發 · NT.56,900元起          【華航直飛·經典恆河日出8日】          印度金三角、瓦拉納西恆河遊船、          泰姬瑪哈陵</p>
<p>五蝠旅遊</p> <p>6月出發 ·          NT.26,900元起          【華航直飛·古文明金三角6日】          泰姬瑪哈陵、艾芭奈羅地下宮殿、          崔波萊市集</p>	<p>11月出發 ·          NT.38,500元起          【華航直飛·古文明金三角6日】          泰姬瑪哈陵、艾芭奈羅地下宮殿、          崔波萊市集</p>

- (A)當地 6 月氣候暖溼，屬於旅遊旺季  
 (B)當地 6 月氣候乾熱，屬於旅遊淡季  
 (C)當地 11 月氣候涼爽，屬於旅遊旺季  
 (D)當地 11 月氣候溼冷，屬於旅遊淡季。

- 14.( )根據統計，印尼的海岸線長度排名世界第二位，比俄羅斯還長，其原因最可能為下列何者？  
 (A)島嶼數量眾多 (B)所處緯度較低  
 (C)國土面積較大 (D)峽灣海岸曲折。

## 二、題組題(每題4分)

※東南亞為國人相當喜愛的旅遊勝地，距離近，加上物價水準平易近人，因此每年前往該地區的遊客人次高達數百萬人，著名的觀光景點及人文特色也成為大家熟悉的景象。請問15~17題：

- 15.( )東南亞國家人民對於宗教信仰大多相當虔誠，其中被稱為「微笑國度」的甲國更是虔誠的佛教國家，甚至當地速食店的麥當勞叔叔都出現圖




中的姿勢。上述的甲國應為下列何者？

- (A)印尼 (B)新加坡 (C)泰國 (D)菲律賓  
 16.( )乙國在東南亞居領頭羊的位置，由航海的傳說中雕塑出當地的地標「魚尾獅」，也呈現出其海洋城市的特色。上述乙國這座城市國家是指下列何者？

- (A)菲律賓 (B)泰國  
 (C)新加坡 (D)越南。

- 17.( )流傳千年的文化古蹟為人類重要的文化寶庫。圖(一)為丙國的國旗，圖中的建築(如圖(二))是該國境內著名的世界遺產。上述丙國這座城市國家是指下列何者？



▲圖(一)



▲圖(二)

- (A)泰國 (B)越南 (C)印尼 (D)柬埔寨。

※相較於太平洋及大西洋的寬廣，印度洋由於大多位於熱帶海域，一向以人間天堂著稱，不論是散布於海洋中像珍珠一般散落的島群、亦或是提供心靈昇華修行的印度半島，都是民眾深度旅遊的最愛。請問18~22題：

- 18.( )某國為印度洋上著名的海島國家，因為好萊塢電影曾到此地取景而讓他聲名大噪。該國眾多島嶼灑落在印度洋上，當地人稱之為花環。依上述地理位置判斷，該國最可能為何種類型的島群？

- (A)珊瑚礁島 (B)火山島  
 (C)大陸島 (D)沙洲島。

- 19.( )南亞的印度為瑜伽的發源地，當地人民對於生命的領悟常令外地遊客深深動容。附圖為流經印度的某條河流，被印度教信徒視為是「聖河」，該河流應是指下列何者？



- (A)印度河 (B)恆河  
 (C)紅河 (D)湄公河。

- 20.( )被譽為天堂的斯里蘭卡有著綿延不斷的棕櫚樹、一望無盡的白色沙灘，再加上綠油油的農作物，鑲嵌出一幅美麗圖畫，令人難忘。當地丘陵由於自然條件的影響，以種植何種作物行銷各地而聞名？

- (A)咖啡 (B)玉米 (C)水稻 (D)茶葉。

~請接下一頁~

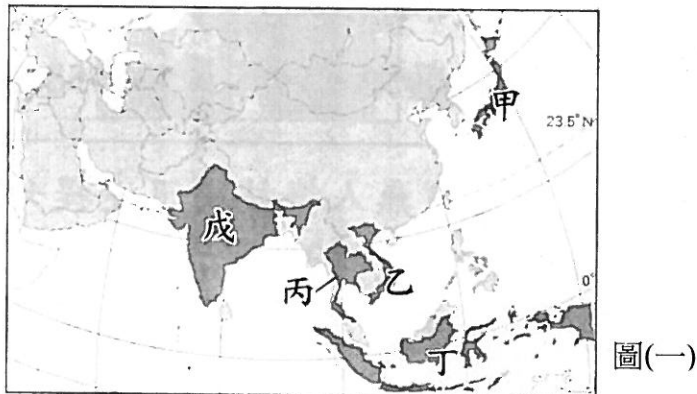
- 21.( )承上題，該地區主要由於哪一種盛行風向帶來溼潤的空氣，因此有利於農作物的生長？  
 (A)東北風 (B)東南風  
 (C)西北風 (D)西南風。
- 22.( )印度半島上雖然有肥沃的沖積平原，可以供養這塊土地上龐大的人口數量，但是恆河下游的三角洲地帶卻因為地勢低窪而水患頻傳，為世界上水災情形嚴重的地區之一。上文中所說的恆河下游的水災應發生在哪一個國家中？  
 (A)巴基斯坦 (B)孟加拉  
 (C)印度 (D)尼泊爾。

時習俗、典章制度深受中國影響；19世紀中法戰爭後亦曾為法國的殖民地，在飲食、建築上因此染上濃厚的法式色彩。根據上述，孟儒應該在圖(一)中何國任教？

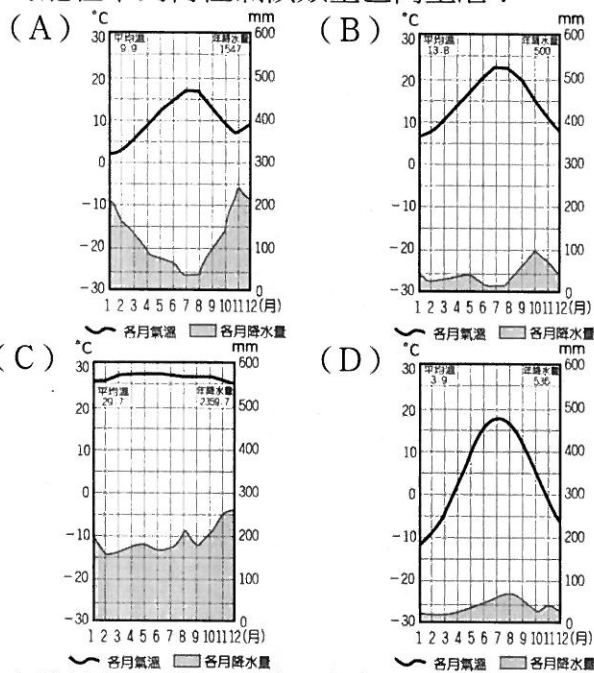
- (A)甲 (B)乙  
 (C)丙 (D)戊。

~作答結束~

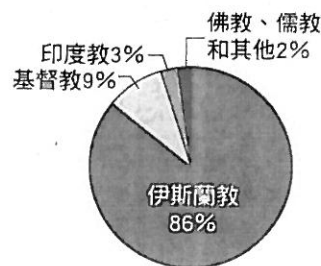
※教育部近年積極打造我國成為華語教師的培育基地，在全球致力開發華語教師任教機會，推動國際華語文教育。目前教育部選送的華語教師已遍及美洲、歐洲、亞洲及非洲等全球各地，圖深色區域為2019年華語教師亞洲地區的選送國家。請問23~25題。



- 23.( )2019年獲選派送到亞洲地區的華語教師們，較可能在下列何種氣候類型區內生活？



- 24.( )小美是即將赴任的華語教師，行前她查詢了該國的信仰狀況，如右圖所示。這代表她最有可能前往圖(一)中何國就任？



- (A)乙 (B)丙  
 (C)丁 (D)戊。
- 25.( )華語教師孟儒任教的國家曾為中國藩屬，其歲