

# 高雄市立嘉興國民中學107學年度第二學期一年級歷史科 第二次段考試題卷

請用 2B 鉛筆畫卡作答，班級座號等資訊畫記錯誤者，扣總分 5 分，請同學細心檢查。

試題共 25 題，每題 4 分，共 100 分。

## 一、選擇：

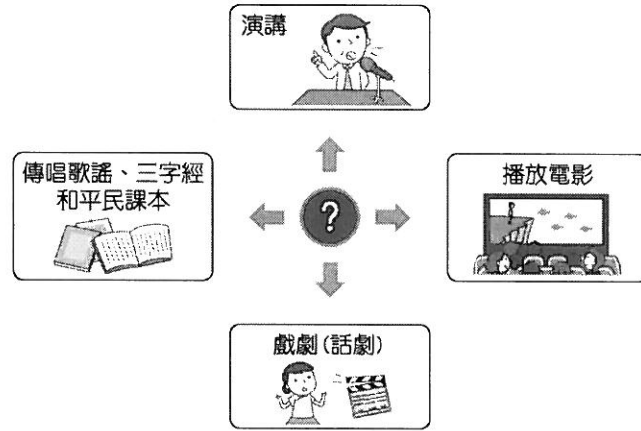
1. ( ) 日治時期臺灣士紳有感於日本殖民教育對臺人不公，遂集結眾人創辦第一所專為培育臺籍學子所設立的中學校。請問：這所學校是今日的哪所學校？  
(A)建國中學 (B)高雄中學 (C)臺南一中 (D)臺中一中。
2. ( ) 西元 1943 年，10 歲的臺生侑維正在念初等教育，此時總督府在臺實施六年制國民教育。請問：侑維應該是就讀哪種學校？ (A)小學校 (B)公學校 (C)國民學校 (D)普通中學。
3. ( ) 總督府透過學校教育與報章雜誌促進社會風俗的改變，在管制鴉片吸食的政策上，總督府是採取哪種措施？ (A)嚴禁措施 (B)漸禁政策 (C)實用原則 (D)差別待遇。
4. ( ) 臺灣人民早在下列哪個時期，即可首次行使投票權，選出民意代表？  
(A)日治前期 (B)日治後期 (C)光復初期 (D)解嚴後。
5. ( ) 「臺灣文化協會」舉辦各種文化活動，藉以啟發民智，改良風俗習慣，並發行何種刊物作為宣傳工具？  
(A)《臺灣新報》 (B)《臺灣民報》 (C)《新民叢報》 (D)《申報》。
6. ( ) 「二二八事件」發生時，中央緊急調派軍隊來臺灣，以何種方式處理？  
(A)安撫政策 (B)清鄉行動 (C)剛柔並濟 (D)實施改革。
7. ( ) 國民政府遷到臺灣初期，所有的政策都是以下列何者為目標？  
(A)站上國際舞臺 (B)反共光復大陸 (C)建設臺灣為獨立主權的國家 (D)經營臺灣為殖民地。
8. ( ) 「他在民國 38 年擔任臺灣省政府主席兼臺灣省警備總司令時，頒布了《戒嚴令》，對臺灣社會的民主化進程影響重大。」上文中的「他」是對何人的描述？ (A)陳儀 (B)陳誠 (C)雷震 (D)蔣中正。
9. ( ) 嘉義市圓環附近豎立著一尊雕像，這是 1931 年代表臺灣參加日本甲子園棒球比賽的嘉義農林學校當家投手吳明捷，也是電影《KANO》的主角。請問：嘉義農林學校在日治時期，屬於哪一種類型的教育制度？  
(A)初等教育 (B)中等教育 (C)高等教育 (D)一般教育。
10. ( ) 思維爺爺是日治時期的大學生，他常對孫子說要努力像爺爺一樣考取日治時期台灣的最高學府。請問：思維爺爺說的是今日的哪間大學？  
(A)臺灣師範大學 (B)成功大學 (C)台北科技大學 (D)台灣大學。
11. ( ) 有份報告指出：「1895 年日軍接收臺灣時，官兵實際死於戰鬥者僅 164 名，而死於疫病者卻高達 4,478 人。」因此，日本政府在臺灣推動各項公共衛生措施。請問：下列關於其推動措施的敘述何者錯誤？  
(A)為了有效防止傳染病，建立現代衛生觀念 (B)建立醫院、自來水、廁所等公共衛生措施  
(C)推動結果使得臺灣死亡率下降，人口激增 (D)透過壯丁團，使防疫、衛生觀念逐漸普及。
12. ( ) 附表為臺灣於 20 世紀初數個社會團體成立的情形。經過這些團體的努力，臺灣社會出現什麼樣的轉變？

會名	發起人	設立時間
臺北天然足會	黃玉階	1900 年 3 月
臺南天足會	許廷光	1900 年 6 月
基隆天然足會	許梓桑	1903 年 11 月
臺北解纏會	陳宇卿	1911 年 8 月
宜蘭解纏足會	黃張氏	1912 年 1 月
彰化解纏足會	楊吉臣夫 人	1914 年 11 月
臺中解纏足會	林獻堂夫 人	1914 年 12 月

- (A)吸食鴉片人口大量減少 (B)婦女便於從事生產工作  
(C)民眾養成守法守紀習慣 (D)臺灣甘蔗收購價格提高。

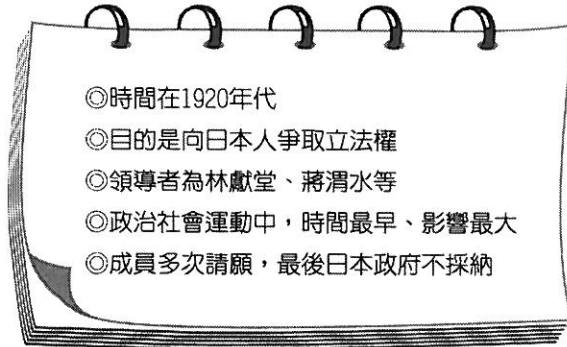
背面尚有試題，請繼續作答

13. ( ) 附圖的漫畫說明了日治時期某個組織舉辦的活動，希望藉由這些活動能啟迪民智。請問：這個組織為何？



(A) 臺灣議會設置請願運動 (B) 臺灣文化協會 (C) 臺灣民眾黨 (D) 臺灣地方自治聯盟。

14. ( ) 美華在看一本介紹日治時期政治社會運動的書籍，將書籍重點整理如附圖。請問：這本書介紹的內容主要為下列何者？



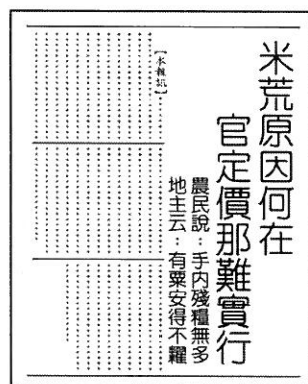
(A) 臺灣民眾黨 (B) 臺灣文化協會 (C) 臺灣地方自治聯盟 (D) 臺灣議會設置請願運動。

15. ( ) 曉慧整理日治時期臺灣政治社會運動資料如附表，她發現不管是哪一個組織與活動大約都在 1930 年代時結束。請問：這些社會運動的沉寂最有可能是下列哪一個原因？

項目	起	迄
臺灣議會設置請願運動	1921 年	1934 年
臺灣文化協會	1921 年	1931 年
臺灣民眾黨	1927 年	1931 年
臺灣地方自治聯盟	1930 年	1937 年

(A) 中日戰爭開打 (B) 日臺合一政策的成功  
(C) 社會風俗的演變 (D) 「工業日本，農業臺灣」政策的推行。

16. ( ) 附圖是 1940 年代報紙中談論「米荒」發生原因的報導。請問：當時臺灣發生「米荒」的原因可能是為了支援哪一場戰爭？



(A) 韓戰 (B) 國共內戰 (C) 第一次世界大戰 (D) 第二次世界大戰。

17. ( ) 目前我國總統由人民選舉產生，任期四年，可連選連任一次，但歷史上我國第 1~5 任的總統都是由蔣中正擔任，他可以不斷連任總統的原因為何？

(A) 《中華民國憲法》的規定 (B) 在美國授權監督下的委託  
(C) 當時正值白色恐怖而需要強人領導 (D) 《動員戡亂時期臨時條款》擴大總統職權。

尚有試題，請繼續作答

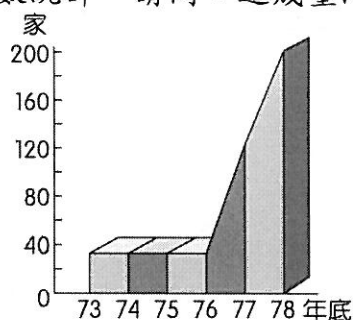
18. ( ) 附圖為民國 30 年代的一則舊剪報，當時此事件造成臺灣民情激憤，演變成後來一連串事情的導火線。請問：剪報中所報導的事件為何？



- (A) 二二八事件 (B) 國共內戰 (C) 日本戰敗投降 (D) 實施白色恐怖。
19. ( ) 民國 40、50 年代，政府為鞏固在臺政權，且擔憂匪諜滲透，因此過度使用以下條文，甚至不需依法律程序審判就隨意逮捕民眾。請問：當時的時空背景為何？

意圖破壞國體、竊據國土或以非法之方法變更國憲、顛覆政府，而著手實行者，處七年以上有期徒刑；首謀者，處無期徒刑。預備或陰謀犯前項之罪者，處六月以上五年以下有期徒刑。

- (A) 臺灣光復初期 (B) 白色恐怖時期 (C) 解除戒嚴之後 (D) 國共內戰爆發。
20. ( ) 民國 79 年 3 月臺灣大專生發起一次運動，並且決議本次運動的代表物為野百合，取其為臺灣固有種，又有堅毅不拔的草根性。請問：這個運動的訴求應為下列何者？
- (A) 為二二八事件平反 (B) 要求解嚴 (C) 廢除黨禁報禁 (D) 廢除《臨時條款》。
21. ( ) 王老師回憶民國 85 年 3 月 20 日，那天是他的生日，也是他第一次行使對某種公職人員的投票權。當天全國有投票權的人幾乎都起了個大早去投票，整天下來投票率超過 8 成。請問：王老師所參與的這次選舉投票為何？
- (A) 省長、直轄市市長民選 (B) 總統、副總統直接民選  
(C) 國民大會代表人民直選 (D) 省議員、鄉鎮里長選舉。
22. ( ) 附圖為民國 73 年~78 年臺灣報紙家數統計。請問：造成臺灣報紙家數大量增加的主要原因為下列何者？



- (A) 國民黨改採革新保臺政策 (B) 結束戒嚴 (C) 終止動員戡亂 (D) 民進黨成為執政黨。

## 二、題組

(甲) 開放黨禁 (乙) 取消戒嚴 (丙) 開放報禁 (丁) 修改《憲法》 (戊) 中央民意代表全面改選。

這些是臺灣近代民主政治的成果。請問：

23. ( ) 上述哪些是蔣經國總統任內的成就？ (A) 甲乙丙 (B) 甲丙戊 (C) 乙丙丁 (D) 乙丙戊。
24. ( ) 上述哪些是李登輝總統任內的成就？ (A) 甲乙 (B) 乙丙 (C) 丙丁 (D) 丁戊。
25. ( ) 上述何項措施解除人們長久被限制的言論自由？ (A) 甲 (B) 乙 (C) 丙 (D) 丁。

試題結束