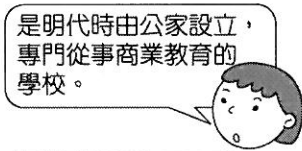

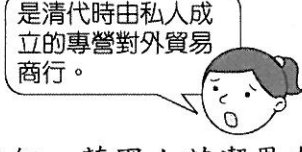



高雄市立嘉興國民中學107學年度第一學期二年級歷史科 第三次段考試題卷

請用 2B 鉛筆畫卡作答，班級座號等資訊畫記錯誤者，扣總分 5 分，請同學細心檢查。
試題共 25 題，每題 4 分，共 100 分。

一、單一選擇題

- () 「六三禁菸節」的由來，是為了紀念至廣州查禁鴉片的哪一位人物？
(A) 李鴻章 (B) 曾國藩 (C) 馬加爾尼 (D) 林則徐。
- () 清朝簽訂的不平等條約中，與英國簽訂的第一個不平等條約是下列何者？
(A) 《天津條約》 (B) 《北京條約》 (C) 《南京條約》 (D) 《璦琿條約》。
- () 老師要同學針對「公行」一詞作名詞解釋。請問：哪位同學的解釋是正確的？
(A)  是明代時由公家設立，專門從事商業教育的學校。
(B)  是明代時由私人成立的公職補習班。
(C)  是清代時由私人成立的專營對外貿易商行。
(D)  是清代時由公家成立的商業貿易中心。
- () 19 世紀，英國人艾潔恩在中國犯下搶劫的重罪，可是當巡捕聞風逮捕之際，官府卻選擇將艾潔恩交由英國領事館處分而未進行任何的審判程序。請問：上述情形是受到哪件史事的影響？
(A) 雍正禁教 (B) 馬加爾尼使華 (C) 鴉片戰爭 (D) 英法聯軍。
- () 法國大文豪雨果曾寫道：「有一天，兩個強盜闖進圓明園，一個搶東西，一個放了火。勝利者把口袋裝滿，他們手拉手，笑嘻嘻地回到了歐洲。」請問：雨果所描繪的是哪一場戰爭？
(A) 八國聯軍 (B) 鴉片戰爭 (C) 甲午戰爭 (D) 英法聯軍。
- () 1844 年在某國對中國的不平等條約中多了一項保護天主教的條款，首開保護教士之規定。1856 年還發生該國以傳教士在廣西被殺為藉口，而出兵中國。請問：上文指的是下列何國？
(A) 英國 (B) 美國 (C) 德國 (D) 法國。
- () 17 世紀康熙皇帝曾與俄國簽訂《尼布楚條約》，約定以外興安嶺和額爾古納河為界，畫分中俄兩國邊界。但在一百多年後，由於哪一條約的簽訂打破了上述局面，使中國喪失了廣大的領土？
(A) 《南京條約》 (B) 《天津條約》 (C) 中英法《北京條約》 (D) 《璦琿條約》。
- () 曾國藩《討粵匪檄》：「舉中國數千年禮義人倫，詩書典則，一旦掃地蕩盡，此豈獨我大清之變，乃開闢以來名教之奇變，我孔子、孟子之所痛哭於九泉！凡讀書識字者，又烏可袖手安坐，不思一為之所也？」請問：此文告應是在哪一戰事期間所發表的？
(A) 鴉片戰爭 (B) 八國聯軍 (C) 英法聯軍 (D) 太平天國之亂。
- () 「為顯示大清威儀，幼童們上岸時一身中式打扮：瓜皮帽，藍緞褂，嶄新的黑布鞋，排著整齊的隊伍踏上了美國的土地。特別是每人一條烏黑油亮的小辮子，引起美國人的好奇，每到一處總是觀者如雲。」這是中國公費留學生抵達美國時的資料，請問：這批小留學生們出國的時間最早有可能為何？
(A) 1830 年代 (B) 1850 年代 (C) 1870 年代 (D) 1900 年代。
- () 英國駐華公使布魯斯曾說：「此機構為中國政府準備容許其高層官員與外國使節直接交往的明證，這是防範誤會發生的最好保證。」這代表一項體制上的變革，儘管該機構在編制、職權、法定地位各方面均有不盡如人意之處，但其重要性仍不容置疑。請問：此一機構為下列何者？
(A) 北京同文館 (B) 輪船招商局 (C) 總理各國事務衙門 (D) 外務部。
- () 「20 世紀初，清廷與某國簽訂『中越交界禁止革命黨章程』，要求該國官員協助查辦在中越邊境活動的革命份子，若有人在越南境內傳播對清廷不利的言論，則依照該國的律例加以懲治。」上文中的「某國」最可能是下列何者？
(A) 日本 (B) 英國 (C) 法國 (D) 美國。
- () 西元 1895 年某一天，太廟裡傳來陣陣哭聲，太廟旁的太監哭成一團，太廟裡的皇帝也哭得唏哩嘩啦，只聽見皇帝哀號說道：「割臺灣……朕無顏見祖宗，天下人心皆去矣……。」請問：上述的皇帝是何人？
(A) 道光皇帝 (B) 咸豐皇帝 (C) 同治皇帝 (D) 光緒皇帝。

背面尚有試題

13. () 歷史老師列舉歷史人物李鴻章的生平事蹟，不過有一處不慎寫錯了。請問：寫錯的是何處？

選項	事蹟
甲	受道光皇帝託付，查禁鴉片
乙	參與平定太平天國之亂
丙	推動自強運動，振興實業
丁	授權為欽差大臣，簽訂《馬關條約》

(A)甲 (B)乙 (C)丙 (D)丁。

14. () 下列是某次美國外交聲明的概要，根據內容判斷，美國為何發表此一聲明？

我國政府希望各國在中國的商業和航運能享受平等待遇，我國人民的利益，也不得因列強在華畫分勢力範圍而受到損害，故反對列強在大清帝國領土內的獨占權利，或對土地的控制權。

- (A)闡明門戶開放政策，維護在華利益
 (B)要求中國開港通商，發動鴉片戰爭
 (C)參與瓜分中國領土，確保勢力範圍
 (D)議定《天津條約》內容，保護僑民安全。

15. () 有篇介紹某位清末歷史人物的文章，其中有段敘述如附圖。根據資料判斷，這篇文章介紹的歷史人物是誰？

他跟一批有志之士上書請願、組織學會、辦報紙、鼓吹政治革新的理念，大談救國思想。他得到皇帝支持，推動政治改革，卻因保守派發動政變，使他的理想曇花一現，最後亡命海外。



- (A)李鴻章 (B)張之洞 (C)康有為 (D)孫中山。

16. () 清末國局動盪不安，為救亡圖存，有識人士提出變法改革主張，但都未能成功，重要的原因之一在於保守派的反對。下列哪一位為當時最具影響力的保守派人物？


- (A)李鴻章 (B)慈禧太后 (C)德宗光緒帝 (D)恭親王奕訢。

17. () 數年前在國際的拍賣會場上，曾出現清代圓明園的文物，這些珍寶的外流，最主要是肇因於下列哪一項事件？

- (A)鴉片戰爭 (B)英法聯軍 (C)太平天國 (D)三藩之亂。

二、題組

- (一) 陳同學到中國南方沿海某大城市遊覽時，於博物館中看到一面遭蟲蛀的機構旗幟，這面旗幟上標有歐美多國國旗，並曾在 1845~1943 年間在此城飄揚。



18. () 請從此旗幟飄揚的年代，判斷該機構的開辦與下列那一次戰爭有關？

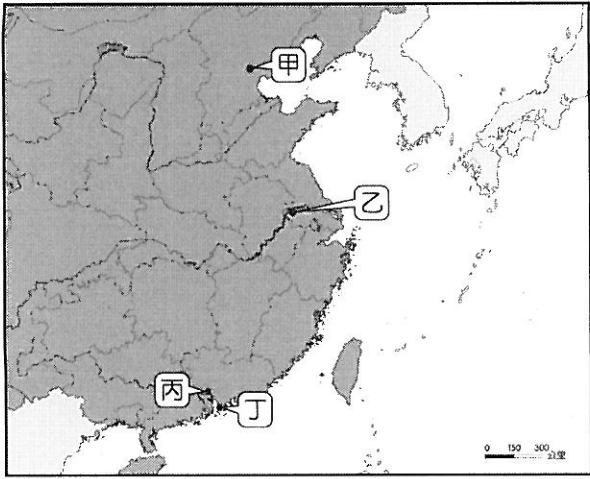
- (A)鴉片戰爭 (B)英法聯軍 (C)牡丹社事件 (D)中法戰爭。

19. () 這處中國南方沿海大城，最有可能為何者？

- (A)香港 (B)澳門 (C)上海 (D)雞籠。

尚有試題，請繼續作答

(二) 同治2年(1863年)，英國商人黃約翰來到中國經商，手中拿了一張中國地圖(如附圖)。請問：



20. () 在鴉片戰爭以前，像黃約翰一樣想在中國做買賣的外國商人，只能在圖中何地活動？
(A)甲 (B)乙 (C)丙 (D)丁。
21. () 黃約翰想在距離廣州最近的英國殖民地設立公司，請問：他可以選擇下列何地？
(A)甲 (B)乙 (C)丙 (D)丁。
22. () 由於清朝在某個條約中開放外國人可到中國內地遊歷與傳教，所以黃約翰有時會到各地遊覽觀光。請問：該條約的簽訂地在圖中何處？
(A)甲 (B)乙 (C)丙 (D)丁。
23. () 黃約翰搭船到上海談生意時，船員告訴他，清軍已將太平軍的首都團團圍住，看來太平軍敗象已現。請問：船員所指的太平軍首都位於圖中何處？
(A)甲 (B)乙 (C)丙 (D)丁。

(三) 以下是清末時的一份聲明：

「我們聽到政府已經和某國談判求和，條件是割讓中國東北特定地區和東南沿海的島嶼，賠償兩億兩白銀，開放更多的通商口岸，任外國在中國內陸地區設置工廠、流通貨物……舉國上下聽到這樣的求和內容，深感憤怒與惶恐，所以我們要求政府立即遷都、練兵、變法圖強、拒絕賠款、持續抵抗……。」

24. () 後來當政的皇帝根據建言，實施大規模的政治改革，下列改革項目何者有誤？
(A)廢除八股文 (B)設立現代化學堂 (C)開放沿海口岸 (D)發達工商業。
25. () 根據以上內容，這位主張改革的皇帝是下列哪一位？
(A)道光皇帝 (B)光緒皇帝 (C)咸豐皇帝 (D)乾隆皇帝。