

高雄市立嘉興國民中學106學年度第二學期三年級歷史科 第一次段考試題卷

請用 2B 鉛筆畫卡作答，班級座號等資訊畫記錯誤者，扣總分 5 分，請同學細心檢查。

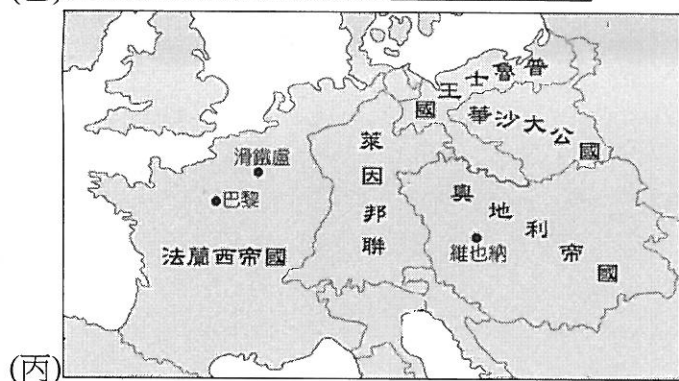
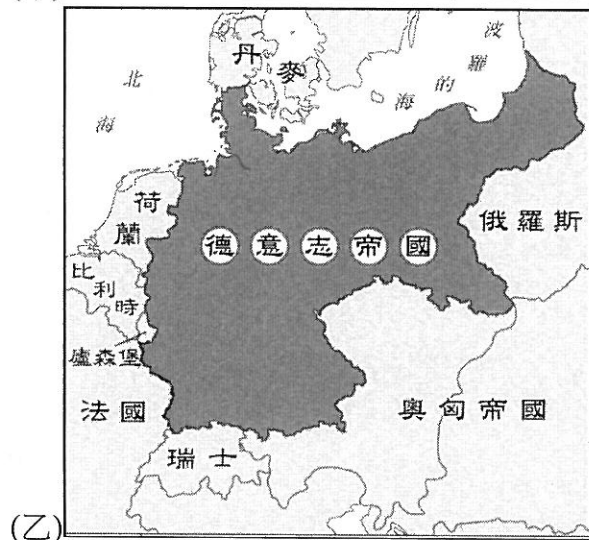
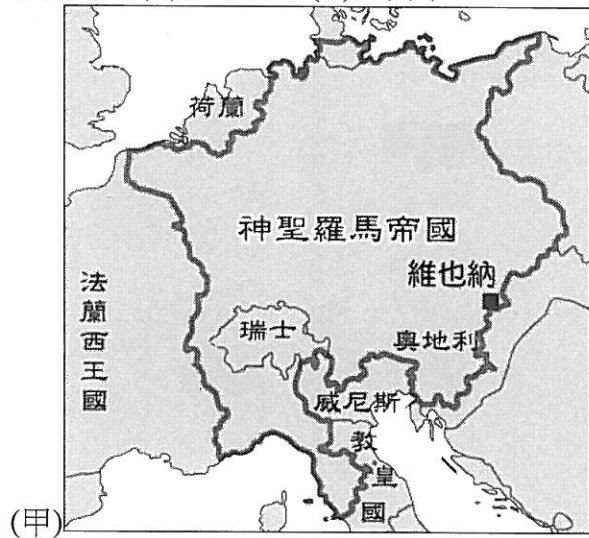
第 1~35 題 每題 2 分； 第 36~45 題 每題 3 分，共 100 分

一、選擇

- () 中、南美洲又稱為「拉丁美洲」的原因，與下列哪一段歷史有關？ (A)地理大發現 (B)工業革命 (C)美國獨立 (D)法國大革命。
- () 下列何人為十九世紀初，領導中、南美洲獨立運動的重要人物？ (A)梅特涅 (B)華盛頓 (C)玻利瓦 (D)拿破崙。
- () 十九世紀初，拉丁美洲各地興起獨立運動，這主要是受到當時歐洲發生哪個事件的影響？ (A)德國統一 (B)英國光榮革命 (C)拿破崙入侵西班牙 (D)義大利統一。
- () 十九世紀以來，巴爾幹地區種族與宗教的問題層出不窮，這與哪個帝國長期統治該地有關？ (A)拜占庭帝國 (B)俄羅斯帝國 (C)阿拉伯帝國 (D)鄂圖曼土耳其帝國。
- () 巴爾幹半島位處歐、亞、非三洲交界的戰略要地，國家與民族組成複雜，外國勢力亦時常介入。請問：巴爾幹半島上的居民大多信仰何種宗教？ (A)印度教 (B)天主教 (C)希臘正教 (D)伊斯蘭教。
- () 普魯士王國曾倡導建立哪個組織，奠定日耳曼統一的經濟基礎？ (A)三國同盟 (B)三國協約 (C)關稅同盟 (D)日耳曼同盟。
- () 他是最後一任普魯士國王，在完成日耳曼地區的統一後，成為德意志帝國的首任皇帝。請問：他是下列何者？ (A)拿破崙 (B)伊曼紐二世 (C)威廉一世 (D)俾斯麥。
- () 西元 1870 年普法戰爭後，有兩個國家獲得統一。這是指下列哪兩個國家？ (A)德國和法國 (B)法國和義大利 (C)德國和義大利 (D)法國和比利時。
- () 這個國家在西元 1846 年曾派軍艦前往日本，但不得其門而入。之後在西元 1853 年，再度派出艦隊以武力強迫日本打開通商大門，而這次終於迫使日本結束閉關自守的狀態。請問：這個國家應是下列何者？ (A)荷蘭 (B)英國 (C)美國 (D)中國。
- () 日本在近代化過程中，先後在哪些戰役中擊敗中國和俄國，因而得以躋身列強之林？ (A)鴉片戰爭、日俄戰爭 (B)鴉片戰爭、南北戰爭 (C)甲午戰爭、南北戰爭 (D)甲午戰爭、日俄戰爭。
- () 身為一個音樂家，再也沒有比喪失聽力更痛苦的事了，而中年以後的貝多芬卻化危機為轉機，憑著豐沛的情感和敏銳的直覺，創作出許多膾炙人口的偉大名曲。由此看來，貝多芬應該可被歸於哪一種思潮的代表人物？ (A)理性主義 (B)浪漫主義 (C)社會主義 (D)寫實主義。
- () 精采美術館推出一項展覽，主題是「印象主義的風采」，這項展覽最可能陳列下列哪個畫家的畫作？ (A)梵谷 (B)德拉克洛瓦 (C)米勒 (D)達文西。
- () 西元 1823 年，美國總統門羅發表宣言，其主要的訴求為何？ (A)歐洲國家勿干預美洲事務 (B)不滿英、法兩國對於海權的獨霸 (C)不願見到拉丁美洲獨立 (D)宣布拉丁美洲為美國殖民地。
- () 這個地區位於歐、亞、非三洲的交界，曾先後歷經希臘、亞歷山大帝國等政權的統治。近代時因為此地區局勢的動盪不安，被稱為「歐洲火藥庫」。此地區應位於附圖中的何處？ (A)甲 (B)乙 (C)丙 (D)丁。

- () 有鑑於巴爾幹半島的戰略地位，十九世紀的西方列強極力干預該地區的發展；這些列強之中並不包括下列哪一國家？ (A)英國 (B)奧國 (C)俄國 (D)美國。
- () 中世紀以來，在神聖羅馬帝國的統治下，日耳曼地區呈現小邦林立的狀態。而在維也納會議的決議下，該區的情勢又產生何種變化？ (A)建立德意志帝國，完成統一 (B)組成關稅同盟，加強各地經濟合作 (C)解散神聖羅馬帝國，將小國合併為三十多邦 (D)組成鬆散的日耳曼邦聯。
- () 某位歷史人物曾向反對擴軍的國會大聲疾呼：「日耳曼所指望於普魯士的，不是自由主義而是實力。目前的重大問題絕非演說、辯論或過半數的投票所能解決。現在不救日耳曼則已，要救日耳曼，只有血和鐵！」這應該是指下列何人？ (A)林肯 (B)俾斯麥 (C)加富爾 (D)路易拿破崙。
- () 下列何地直到十九世紀初期尚未被西方國家所認識，而有「黑暗大陸」之稱？ (A)西伯利亞 (B)阿拉斯加 (C)非洲內地 (D)拉丁美洲。
- () 新帝國主義者對非洲的侵略，可說是以鯨吞的方式瓜分了非洲國家的主權，然而有兩個國家卻能幸運的維持獨立。請問：除了衣索比亞外，還有哪一個國家？ (A)利比亞 (B)埃及 (C)馬達加斯加 (D)賴比瑞亞。
- () 隨著社會變遷，最後會由強者生存，並主導世界。這種主張助長了白人的優越感，成為維護帝國主義政策的說詞。請問：這是什麼主義？ (A)帝國主義 (B)浪漫主義 (C)寫實主義 (D)社會達爾文主義。
- () 第一次世界大戰期間，哪一國的退出，使得協約國東線的軍力瓦解，情勢一度危急？ (A)德國 (B)義大利 (C)俄國 (D)奧國。
- () 一次大戰初期，美國原本並沒有加入戰局，後來因為哪一個因素，宣布參戰，扭轉了當時戰爭的局勢？ (A)德國實施無限制潛艇政策 (B)列強對於非洲的侵略 (C)巴黎和會的召開 (D)塞拉耶佛事件。
- () 「坦克」又稱戰車，現代陸上作戰的主要武器，有「陸戰之王」的稱號；「毒氣」分為自然界產生和人工製造兩種，其中以人工化學手段製造的毒氣，一般被用於軍事目的，屬於化學武器。這兩種武器最早出現在哪場戰爭中？ (A)普法戰爭 (B)甲午戰爭 (C)一次大戰 (D)二次大戰。

24. () 附圖是三張不同時期的日耳曼地區地圖，按照時間先後順序排列，下列何者正確？ (A)甲乙丙 (B)甲丙乙 (C)乙甲丙 (D)乙丙甲。



25. () 第一次世界大戰前，歐洲出現的軍事聯盟「三國同盟」，不包括哪個國家？ (A)德國 (B)俄國 (C)奧國 (D)義大利。
26. () 西方女性的地位長期受到男性壓迫而顯得低落，直到經歷哪一段時期才有了顯著的提高？ (A)工業革命 (B)第一次世界大戰 (C)法國大革命 (D)啟蒙時代。
27. () 「西元 1906 年，初次看到黑人的雕刻，受到莫大的感動。創造基本上不是純美學的，而是走向理性的、抽象的，將物體重新構成、組合，帶給人更新、更深刻的感受。」這種立體派畫風的奠基者是誰？ (A)梵谷 (B)莫內 (C)畢卡索 (D)達文西。
28. () 由於美國在第一次世界大戰後，對許多歐洲國家的貸款難以回收，加上國內民族情緒的影響，因而不參與歐洲事務，並且建立嚴格的關稅制度，這是指哪項政策？ (A)民族自決 (B)自由主義 (C)帝國主義 (D)孤立主義。

29. () 雷馬克把他在一次大戰九死一生的經歷，寫成這本書，是一本描繪前線戰士實況的半自傳體小說。問世之後，風靡全球，曾多次改編成電影，使他成為著名的小說家。請問：這應是下列哪本書？ (A)《雙城記》 (B)《老人與海》 (C)《戰地春夢》 (D)《西線無戰事》。
30. () 德意志帝國在統一的過程中，經歷了三次重要的戰爭。請問：德國在這三次戰爭中的對手不包括哪個國家？ (A)丹麥 (B)奧國 (C)法國 (D)義大利。
31. () 某位歷史人物曾經是燒炭黨人，後來覺得暴動、暗殺不是正當的作法，因此另外成立青年義大利黨，鼓吹義大利統一，並以恢復羅馬帝國的光榮為號召。請問：這應該是指何人？ (A)加富爾 (B)加里波底 (C)馬志尼 (D)俾斯麥。
32. () 十九世紀前，「蘭學」成為日本和西方重要的維繫。請問：下列哪個城市為當時日本吸收「蘭學」的重地？ (A)廣島 (B)京都 (C)長崎 (D)大阪。
33. () 十九世紀中葉後，日本為了能在軍事、經濟等各方面趕上西方國家，實施「明治維新」的西化運動。關於此次西化運動的內容，下列敘述何者錯誤？ (A)實施君主專制，加強國家統治 (B)建立新式軍隊，實施徵兵制 (C)發展工商業和交通 (D)強調人民一律平等。
34. () 子平打算以英國工業革命為題目寫一篇報告，老師告訴他，可以參考一些當時作家寫的小說。請問：他應該去看誰的小說才較有幫助？ (A)歌德 (B)狄更斯 (C)莎士比亞 (D)塞凡提斯。
35. () 名著《少年維特的煩惱》以一位十八世紀的少年維特為主角，描述其執著與單戀的熱情，以及內心世界感傷、掙扎與痛苦的歷程。以此研判，這本書應該反映了哪一時期的思潮？ (A)啟蒙運動 (B)科學革命 (C)工業革命 (D)浪漫主義。
36. () 下列何地為十九世紀時，英國侵略亞洲的根據地，同時也是英國東印度公司所在地？ (A)新加坡 (B)馬來西亞 (C)印度 (D)印尼。
37. () 第一次世界大戰在歐洲爆發以後，戰火很快蔓延到亞洲，日本隨即對德宣戰，出兵攻占德國在山東的膠州灣租借地。由此可知，日本當時的立場為何？ (A)參加同盟國 (B)參加協約國 (C)維持中立國 (D)與中國屬敵對陣營。
38. () 中南半島曾經是法國侵略亞洲的大本營。請問：越南是在什麼時候正式成為法國的殖民地？ (A)鴉片戰爭 (B)英法聯軍 (C)中法戰爭 (D)甲午戰爭。
39. () 下列關於佛洛伊德的描述，何者正確？ (A)是十八世紀的學者 (B)提出相對論，對於心理學界產生很大的衝擊 (C)二十世紀著名的心理學家 (D)一生致力於放射性物質的研究。

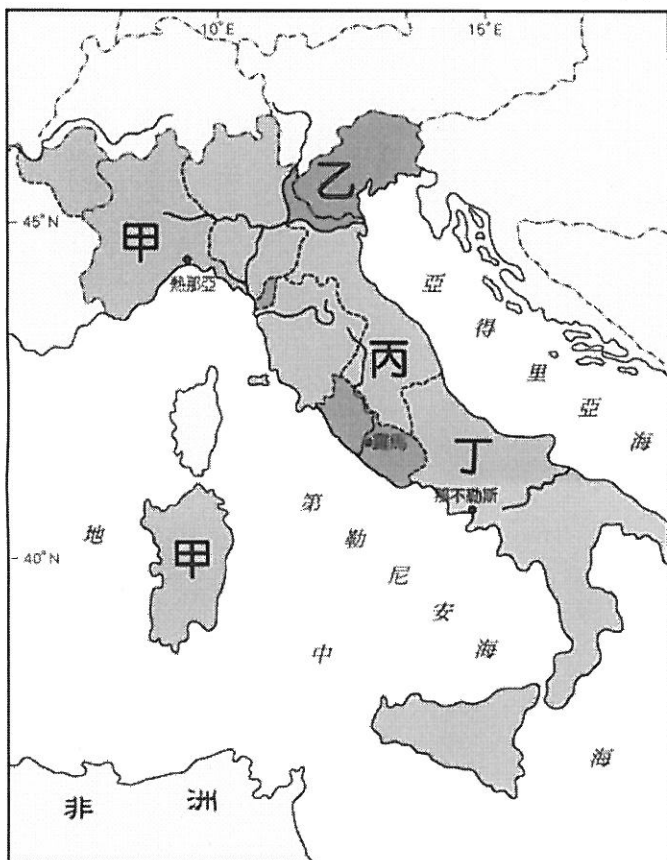
尚有試題，請繼續作答

二、題組

※某位美國總統在西元 1918 年提出以下主張：「廢止祕密外交；國際水域自由航行；廢除各種經濟壁壘；限制軍備；公正解決殖民地問題；……奧匈帝國境內各民族自治發展；……鄂圖曼帝國領土限於土耳其地區，非土耳其民族自治；建立獨立的波蘭；設立國際和平機構。」請問：

40. () 提出這些主張的總統是哪一位？ (A)羅斯福 (B)林肯 (C)華盛頓 (D)威爾遜。
41. () 文中提到需讓奧匈帝國與鄂圖曼土耳其帝國境內民族自治發展。除此兩地外，第一次世界大戰後還有哪兩個帝國崩解？ (甲)義大利 (乙)俄羅斯 (丙)德意志 (丁)西班牙 (A)甲乙 (B)甲丙 (C)乙丙 (D)丙丁。
42. () 文中「設立國際和平機構」的意見，與西元 1920 年哪一國際組織的成立有關？ (A)聯合國 (B)世界貿易組織 (C)歐洲聯盟 (D)國際聯盟。

※下圖為十九世紀前期義大利半島四分五裂的狀態。請問：



43. () 義大利半島的這種形勢，和下列哪個會議的關係最密切？ (A)開羅會議 (B)維也納會議 (C)巴黎和會 (D)雅爾達會議。
44. () 圖中哪個地方後來成為義大利統一的主導者？ (A)甲 (B)乙 (C)丙 (D)丁。
45. () 加里波底征服之後，獻給薩丁尼亞國王的土地位於圖中何處？ (A)甲 (B)乙 (C)丙 (D)丁。

試題結束