

高雄市立嘉興國民中學 106學年度第二學期 二年級歷史科第三次段考試題卷

共25題 每題配分為4分

※同學畫卡時，請使用2B鉛筆，並細心檢查科目、班級、座號等資訊，是否正確。若答案卡上方，個人資訊畫卡有誤，將扣段考分數5分。


一、選擇：

- () 西元1936年12月13日的《西北文化日報》，其中內容提及：「張學良發動對蔣兵諫，通電全國發表救國主張。」請問：張學良的主張為何？ (A)聯俄容共，北伐統一 (B)停止內戰，一致抗日 (C)實施清黨，排除異己 (D)先安內，後攘外。
- () 文進穿越回到民國14年，發現自己變成黃埔陸軍軍官學校的學生，每日都努力的接受訓練與學習。請問：文進穿越所至的黃埔軍校最可能位於下列何處？ (A)上海 (B)南京 (C)重慶 (D)廣州。
- () 軍閥割據時期，孫中山幾次討伐軍閥皆無成果，因此他深感需改造國民黨。於是在民國12年，他決定與哪一列強勢力合作來重新改組國民黨？ (A)蘇聯 (B)德國 (C)日本 (D)美國。
- () 孫中山所著的《建國大綱》中，將國家建設分為三個時期：(甲)軍政 (乙)憲政 (丙)訓政。按照實施時間先後順序排列，應為下列何者？ (A)甲乙丙 (B)乙丙甲 (C)乙甲丙 (D)甲丙乙。
- () 誼潔在歷史課時代表小組上臺報告，說明「黃金十年」的重大成就。請問下列最可能是她針對十年建設說明的內容？ (A)廢除領事裁判權 (B)收回清末以來的各國租界 (C)收回關稅自主權 (D)收回內河航行權。
- () 下圖為美國在第二次世界大戰期間，在臺灣空投的宣傳單。內容為太平洋沿岸兩大國家，決心聯手掃蕩日本，趕走日寇，解放恢復臺灣人民自由，讓臺灣脫離殖民政權。請問根據下圖，文中所指兩大國家最有可能是為何？ (A)美國及中國 (B)中國及德國 (C)日本及美國 (D)英國及蘇聯。

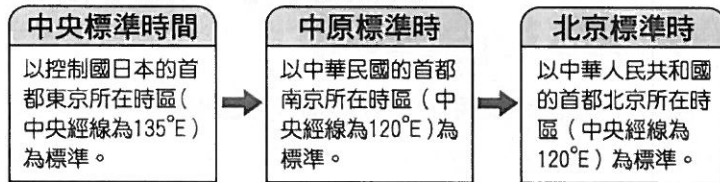


- () 民國15年，國民政府任命蔣中正為國民革命軍總司令，誓師北伐，至民國17年完成全國統一。這段期間曾發生哪一個和中國共產黨相關的事件？ (A)滿州國成立 (B)五三慘案 (C)寧漢分裂 (D)九一八事變。
- () 《毛主席語錄》一書的發行人從1959年到20世紀末，約印刷了50億冊，印刷發行人僅次於聖經。當時中國教育並不普及，要快速地把領袖觀點編纂成容易理解的形式，因而巨量發行，並易於朗朗上口。請問：該書主要發行且流行於哪一時期？ (A)國共內戰時期 (B)大躍進時期 (C)文化大革命時期 (D)改革開放時期。
- () 晨瑄在課本上看到一張海報，標題寫著「保家衛國 抗美援朝」，請問關於此圖的解釋，何者最為正確？ (A)此為天安門事件的學生口號 (B)此為國民黨於國共內戰爆發時的宣導標語 (C)此為中日戰爭爆發時的中國策略 (D)此為韓戰爆發時中共的參戰口號。
- () 有一本小說，內容描述戰爭時期的學校生活，當時首都由南京遷到重慶，敵人則在原首都另立政權。書中主角隨政府撤退到西南後方，最後響應政府的號召而投筆從戎。這部小說的創作背景應是下列何者？ (A)民國15~17年間國民革命軍北伐 (B)民國23~25年間中共「長征」 (C)民國26~34年間對日抗戰 (D)民國39~42年間韓戰衝突。
- () 佳宜在歷史專題報告中，決定以中日戰爭作為報告主題，於是他在圖書館借了一些書籍。請問下列哪一本書籍與此次報告題目最為相關？ (A)《生死關頭：中國共產黨的道路抉擇》 (B)《淞滬會戰紀實》 (C)《從鴉片戰爭到軍閥混戰的百年影像史》 (D)《孫中山與辛亥革命》。
- () 1947年後，國民政府財政短絀，社會物價隨之飛漲，部分城市通貨膨脹嚴重。請問：有關此種社會背景的敘述，下列何者正確？ (A)國共內戰加劇 (B)八年抗戰爆發 (C)十年建設改革 (D)推動大躍進。
- () 百廷無意間翻到一本名為《三十年來家國：1916~1945的烽火中國》的中國歷史書籍，請問下列哪一主題不可能為此書的篇章主題？ (A)袁世凱稱帝 (B)黃埔建軍與北伐 (C)九一八事變 (D)六四天安門事件。
- () 「學校師生要向日本天皇及當時在位的滿皇帝遙拜，背誦滿皇帝的詔書，且學生必須學習日語，並被灌輸『日滿一體』的思想。」請問上述的滿皇帝最有可能是下列何人？ (A)孫中山 (B)溥儀 (C)袁世凱 (D)張學良。

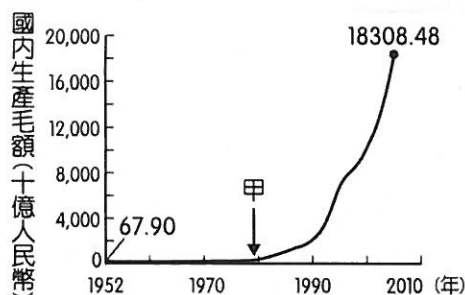
15. () 下列四幅漫畫分別是國民政府統治時期的四個事件。依發生時間先後順序排列為何？ (A)甲乙丙丁 (B)乙丙甲丁 (C)丙甲丁乙 (D)丁甲丙乙。



16. () 抗戰勝利後，蘇聯得以阻撓國軍接收東北，而將所得武器轉贈中國共產黨，使共產黨有更多武力可在國共內戰中獲得勝利。請問：上述與哪一條約的簽訂有關？ (A)《開羅宣言》 (B)《辛丑和約》 (C)《璦琿條約》 (D)《雅爾達密約》。
17. () 各地所採用的時區及標準時間名稱，有時會隨著當地的政治勢力改變而有所不同。附圖為 20 世紀時，某座城市在十餘年內所屬時區及標準時間名稱的轉變。此城市最可能位於下列何處？ (A)中國瀋陽 (B)日本東京 (C)中華民國臺北 (D)中國香港。



18. () 資料一：「大煉鐵，大煉鋼，浮誇瞞報假文章；砸爛鐵鍋報成績，一年一個沒吃啥。」
資料二：「稻粒賽玉米，黃豆像地瓜，花生像山芋，山芋趕南瓜。」
針對上述資料，下列解釋何者正確？ (A)此說明大躍進時期民間流行的浮誇風氣 (B)此為文化大革命時紅衛兵的宣傳標語 (C)此為依附蘇聯的外交政策 (D)此為改革開放時期的經濟政策。
19. () 附圖呈現中國 1952 年至 2005 年國內生產毛額的數據資料。圖中曲線從甲處後有明顯變動的情況，最可能與下列何者有關？ (A)參與韓戰，獲取戰爭經濟利益 (B)實施改革開放政策，設立經濟特區 (C)發動文化大革命，破四舊立四新 (D)大躍進提倡生產，國力超英趕美。



20. () 政宏看到一段資料：「剝奪 1914 年以後日本占得之太平洋島嶼，所有日本竊奪中國之滿洲、臺灣、澎湖，均應歸還中國。」請問上述資料為哪一場會議所作成之決定？ (A)巴黎和會 (B)雅爾達會議 (C)開羅會議 (D)馬歇爾來華調停。
21. () 亞洲基礎設施投資銀(行簡稱亞投行)，是一個向亞洲各國提供資金進行基礎建設的開發機構。由中華人民共和國主導，總部設於北京，法定資本額為一千億美元。中華人民共和國主席於 2013 年倡議籌建，並於 2015 年開放申請加入。請問推動亞投行的中共領導人應為下列何人？ (A)胡錦濤 (B)鄧小平 (C)溫家寶 (D)習近平。

二、題組：

1. 民國 78 年 6 月 4 日的聯合報，頭版標題寫著「共軍開火 血洗北京城—槍聲四起，死傷難計，醫院叫護車不敷調派」。從上述標題可以看出共軍的強力鎮壓造成許多人員傷亡，而這樣的事件起源於一場學生發起的示威請願。請問：
- () (22) 上述事件中，學生民眾付出慘烈的代價，他們想追求的訴求是？ (A)經濟成長 (B)國家主權 (C)共產政權 (D)民主政治。
- () (23) 此一事件發生於哪一城市？ (A)天津 (B)北京 (C)南京 (D)重慶。
2. 民國 38 年，中華人民共和國成立，同年，國民黨戰敗遷臺，國共歷史互相牽制影響。請問：
- () (24) 國民黨曾實施剿共，迫使中國共產黨展開「二萬五千里長征」。請問：民國 23 年 10 月共軍從江西瑞金出發，最後在何處落腳？ (A)重慶 (B)南京 (C)延安 (D)瀋陽。
- () (25) 承上題，勢力大減的共產黨，仰賴下列哪一事件得以解危？ (A)一二八事變 (B)九一八事變 (C)七七事變 (D)西安事變。

試題結束

~請細心檢查，畫卡資訊是否正確~