

# 高雄市立嘉興國民中學106學年度第一學期一年級歷史科第三次定期評量試題卷

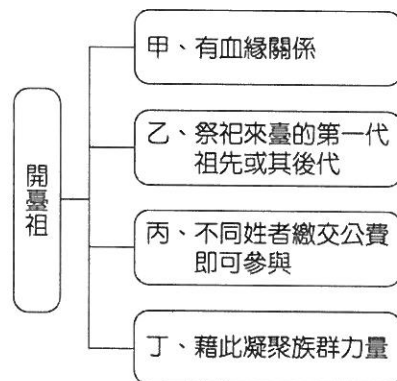
單選題40題 每題配分2.5分

姓名：\_\_\_\_\_ 班級：\_\_\_\_\_ 座號：\_\_\_\_\_

本次段考使用紙本答案卷，請依題號填答，使用藍筆，勿使用鉛筆。

## 一、選擇：

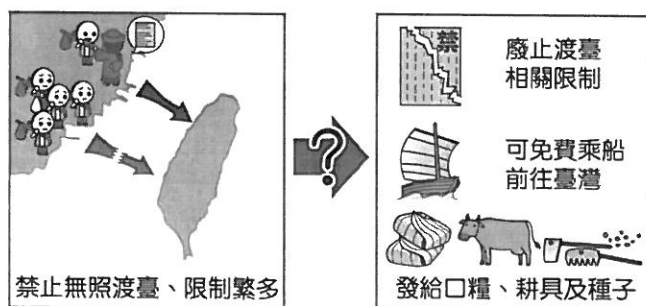
- ( ) 聯合國教科文組織將媽祖遶境列入人類非物質文化遺產代表名錄，在臺灣每年此一盛會都會吸引眾多信徒跟隨媽祖遶境。2017年四月份出刊的國家地理雜誌，特別邀請人文攝影大師Michael Yamashita來臺灣拍攝，隨媽祖進行隊伍走完全程九天八夜行程，讓臺灣宗教盛事躍上國際媒體，讓更多人感受臺灣的媽祖文化。請問媽祖信仰屬於？ (A)是泉州人的原鄉信仰 (B)為客家人的獨特信仰 (C)是漳州人的原鄉信仰 (D)不分族群的共同信仰。
- ( ) 晨熙利用寒假閱讀臺灣歷史書籍，看到其中一段文字描述：「漳州人為保護財產，在芝山岩設置隘門，管制人員出入，也可遠眺侵犯者的動向。」。請問：圖中文字應是在呼應哪一主題？ (A)荷治時期的漢原發展 (B)鄭氏時期的文教建設 (C)清領時期的械鬥現象 (D)清領時期的開港通商。
- ( ) 怡鈞在複習清領時期的宗族組織時，繪製了階層圖以加深印象(如附圖)。請問：圖中所整理的內容何者有誤？(A)甲 (B)乙 (C)丙 (D)丁。




- ( ) 臺灣在國際競爭時代與清領時期均發生大規模的反政府事件，百姓揭竿起義，對統治者表達嚴重的不滿。請問：下列哪一事件發生的時間最晚？ (A)郭懷一事件 (B)朱一貴事件 (C)戴潮春事件 (D)林爽文事件。
  - ( ) 附圖網路上一張臺灣歷史演變圖，其中「甲」的發生，迫使清朝政府開放臺灣的四個通商口岸。請問：「甲」最可能為下列何者？ (A)甲午戰爭 (B)英法聯軍 (C)中法戰爭 (D)牡丹社事件。
- 
- ```
graph LR; A[18世紀 臺灣納入清朝版圖 國內貿易] -- 甲 --> B[19世紀中葉 開放通商口岸 國際貿易];
```
- ( ) 阿嚕密在書上看到一段資料：「清領時期某一民變的歌謠『頭戴明朝帽，身穿清朝衣；五月稱永和，六月還康熙』」。上段資料是描述下列何人？ (A)朱一貴 (B)戴潮春 (C)郭懷一 (D)林爽文。
  - ( ) 清同治末年，中日簽訂的專約中記載：「茲以臺灣生番曾將日本國屬民等妄為加害，日本國本意唯番是問，遂遣兵往彼，向該生番等詰責。」請問：此事對臺灣有何影響？ (A)清朝開始積極建設臺灣 (B)臺灣開始有日本軍隊駐紮 (C)臺灣因此成為日本屬地 (D)臺灣因而改建為省。
  - ( ) 清領時期，臺灣的文教機構日漸繁多。阿布是生活在清領前期的貧寒子弟，他想接受教育，參加科舉考試，來改變身分地位。請問阿布最有可能到下列哪一教育機構就讀？ (A)縣學 (B)書院 (C)義學 (D)府學。
  - ( ) 臺灣開港通商後，西方傳教士紛紛來臺推廣基督教，為了深入人群，他們往往藉由哪一種方式來推廣傳教事業？ (A)經濟援助貧者 (B)推動樟腦生產 (C)免費贈送鴉片 (D)提供醫療教育。
  - ( ) 嘉慶、道光時期，臺灣考上舉人及進士的人數增多。請問出現這樣的轉變，主要原因為下列何者？ (A)臺灣的民變械鬥皆已消失，社會非常安定 (B)清庭出現渡臺禁令，女眷無法來臺 (C)文教機構增加，經濟亦有改善 (D)工商業者廣設行郊，帶動讀書風氣。
  - ( ) 左營慈濟宮，祭祀主神為保生大帝。每年農曆三月十五日保生大帝聖誕，廟裡會舉辦盛大的酬神活動與相關節目，成為當地一大盛事。請問：保生大帝屬於下列何族群的原鄉信仰？ (A)漳州人 (B)泉州人 (C)廣西人 (D)廣東人。
  - ( ) 在基隆二沙灣炮臺的城門上題有「海門天險」四字，依稀可見當日的雄風。請問：這座古蹟可見證哪個國家進犯臺灣的歷史？ (A)日本 (B)法國 (C)荷蘭 (D)英國。

背面尚有試題

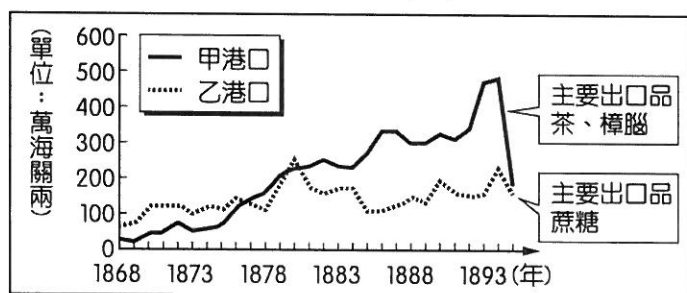
13. ( ) 臺灣目前有許多祭祀公業組織，大多為清領或日治時期的移民，為懷念其原鄉祖先，召集同姓但不同血緣的移民，共同購置田產。田產收益作為祭祀祖先用，透過定期的祭祖來聯絡感情。關於此種組織的敘述，下列何者正確？ (A)祭祀對象為來臺的第一代祖先 (B)屬於「開臺祖」的宗族組織 (C)具有團結同姓移民的功能 (D)設有祭祀公業者就不會再祭祀原鄉神明。
14. ( ) 附圖呈現某一歷史事件前後，清朝治臺措施的差異。從圖中內容判斷，此一事件應是下列何者？(A)甲午戰爭 (B)中法戰爭 (C)林爽文事件 (D)牡丹社事件。



15. ( ) 臺灣有所謂的「有應公廟」，廟中祭祀的多為無主孤魂，由地方善心人士出資興建，進而成為臺灣的民間信仰之一。有應公廟的出現，代表下列何種歷史意義？ (A)荷治時期臺人英勇抵抗 (B)鄭氏時期臺灣疫病流行 (C)清領前期臺灣民間動亂頻繁 (D)清領後期士兵因抵抗外患死傷。
16. ( ) 妍蓁與家人至高雄美濃遊玩，而美濃早期屬客家聚落，因此到當地後她吃了客家板條，並參觀了一些古蹟廟宇。若以歷史課所學推測，當地早期祭拜的原鄉信仰，應該是以下列何者為主？ (A)王爺 (B)保生大帝 (C)三山國王 (D)開漳聖王。
17. ( ) 八通關古道，建於1875年，是臺灣清領時期所建橫貫臺灣本島東西部的三條道路之一，也是目前僅存的一條。沿途風景有瀑布、斷崖、草原，風景優美，常吸引許多愛好登山的人士前往。請問該條古道的建立背景為何？ (A)沈葆楨欲開山撫番 (B)馬偕欲加強後山醫療資源 (C)劉銘傳加強後山開發 (D)丁日昌打擊貪污。
18. ( ) 賽璐珞是最早的人工樹脂，合成後可以製作桌球及日本手工鏡框，也是塑膠的始祖。而這種成分是從□□取得的，在清領時期，臺灣的產量曾居世界第一。請問：□□應是下列何者？ (A)甘蔗 (B)茶葉 (C)樟腦 (D)稻米。
19. ( ) 歷史課上，同學們在討論馬雅各的事蹟。其中哪一位同學的發言正確？



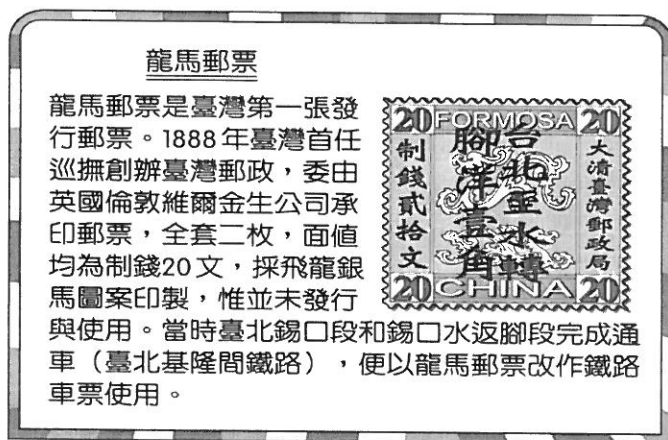
20. ( ) 附圖為臺灣某時期兩大港口的海關出口值統計圖。由圖中內容判斷，甲港口最可能位於臺灣何處？ (A)北部 (B)中部 (C)南部 (D)東部。



21. ( ) 臺灣歷史上有一位開臺第一進士名為鄭用錫，在他之前雖有臺灣籍的進士，但多是假冒臺灣籍考上的。直至鄭用錫考上，臺灣才算有了一位真正臺灣籍的進士上榜。請問：清領前期如果要進省城去考科舉，他應該要到下列何處應考？ (A)臺灣省 (B)福建省 (C)山東省 (D)廣東省。
22. ( ) 淡水女學堂建造於1884年，是全臺灣第一間女子學校，首開婦女教育的先河。但因為當時漢人多以女子無才便是德的傳統觀念，因此就讀的漢人女子少之又少，所收學生多以平埔族或信徒家眷為主。請問上述為何人在臺灣提倡女子教育的歷程？ (A)馬偕 (B)馬雅各 (C)劉銘傳 (D)沈葆楨。
23. ( ) 臺灣開港通商後，下列哪一組商品是主要的進口商品？ (A)軍火、鹿皮 (B)藥材、茶葉 (C)樟腦、紡織品 (D)鴉片、紡織品。

接續下頁

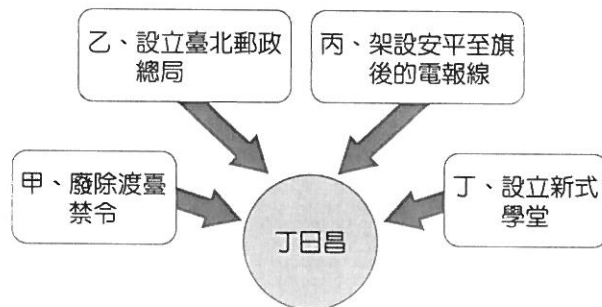
24. ( ) 承佑看到課本上，車城的大日本琉球藩民墓圖片，請問：該古蹟的歷史背景與下列何者有關？ (A)日本根據《馬關條約》接收臺灣時，第一批日軍由此登陸，引起原住民的強烈反抗 (B)琉球人民漂流至臺灣，遭臺灣原住民殺害，引起日軍犯臺 (C)英法聯軍後，開港時的傳教士與原住民的發生激烈的戰爭 (D)鄭成功由此登陸，得到原住民的協助，打敗荷蘭人。
25. ( ) 禹坪近日要繳交一份歷史報告，他蒐集的資料內容有：(一)戰爭時代背景為清朝 (二)戰爭目的為維護藩屬國宗主權而戰 (三)清朝派劉銘傳率軍來臺抵禦外敵入侵。由以上資料，我們可以推論該報告應是寫下列哪一場戰爭？ (A)牡丹社事件 (B)英法聯軍 (C)中法戰爭 (D)甲午戰爭。
26. ( ) 書上一塊解說牌，部分內容如附圖。請問：這段文字應該是描述下列何人的建設成果？ (A)沈葆楨 (B)丁日昌 (C)劉銘傳 (D)郭錫瑠。



27. ( ) 文宗到便利商店購買飲料時，發現瓶上的標示如附圖。此洋行最初是在清領時期由英國商人所設立，現在則為臺灣的進出口貿易公司。請問：此洋行最可能是下列何者發生後設立於臺灣？ (A)十五世紀初期 (B)十七世紀初期 (C)十九世紀中葉 (D)二十世紀末期。



28. ( ) 「臺灣在戰後再度進入國際貿易市場，海關、領事館等機構正式出現。不僅各國商人可以到通商口岸做買賣，西洋傳教士也能自由進出傳教，馬偕牧師即為著名代表之一。」上述現象發生於臺灣哪一時期？(A)荷蘭統治時期 (B)鄭氏統治時期 (C)清朝統治前期 (D)清朝統治後期。
29. ( ) 臺北二二八和平紀念公園內陳列有臺灣最早火車頭，此文物可用來說明哪一項史實？ (A)臺灣鐵路的建設功臣為劉銘傳 (B)歷史上臺灣最早經濟發展於北部 (C)臺灣第一條鐵路通車於鄭氏治臺時期 (D)臺灣鐵路最早通車的路段是臺北到高雄。
30. ( ) 臺灣從荷西時期到清領期間的進出口貿易，每個階段都有不同的變化。請問：關於這段時期臺灣的出口貿易，下列敘述何者正確？ (A)荷治時期，臺灣是貿易轉運站，出口以蔗糖、茶葉和鹿皮為主 (B)鄭氏時期，出口以鹿皮、蔗糖、樟腦為主 (C)清領前期，以中國為主要貿易區，主要出口稻米及蔗糖 (D)清領後期，臺灣開港，出口以茶葉、樟腦和鴉片為主。
31. ( ) 附圖是安安在複習「丁日昌」的政績時繪製的關係圖，但內容卻錯誤百出，其中只有一個正確。請問：圖中何者屬於丁日昌的政績？ (A)甲 (B)乙 (C)丙 (D)丁。



背面尚有題目

二、題組：

1. 1865年，一位蘇格蘭商人名為約翰陶德，他到臺灣經商，並引進福建的茶樹到臺灣種植。臺灣北部到苗栗一帶的丘陵均廣植茶園。約翰陶德創立Formosa Oolong品牌，銷售烏龍茶至美國大獲成功。而臺灣北部茶葉的集散重鎮，茶行茶館林立，成為新興的貿易中心。請問：

- ( ) (32) 上文提及「北部茶葉的集散重鎮」應為下列何地？(A) 艋舺 (B) 大稻埕 (C) 打狗 (D) 集集。  
( ) (33) 此時期，茶葉的出口港主要為下列何地？(A) 淡水 (B) 基隆 (C) 安平 (D) 打狗。

2. 史料題，參考下列資料並回答問題

出處：《小的臺灣史》

「我年三十二歲，乾隆三十八年，隨父母來到臺灣，趕車度日。時常聽見說，漳、泉兩府，設有天地會，邀集多人，立誓結盟，患難相救。我同林泮……等，平日意氣相投，遂於乾隆五十一年八月內，拜盟起會。後來，斗六門地方，有楊光勳弟兄，因分家起釁，……被人告發，並牽連我們一齊呈告。彰化文武官員，差人各處查辦，衙役等從中勒索，無論好人、歹人，紛紛亂拿，以致各村莊俱被滋擾。那時，林泮等房屋已被官兵燒毀，……起意招集各莊民人，抗拒官兵，就來邀我。」

- ( ) (34) 上文為清朝某叛亂的人犯口供，請問依上文推測該人犯最有可能為何人？  
(A) 朱一貴 (B) 林爽文 (C) 戴潮春 (D) 劉銘傳。  
( ) (35) 文中可看出叛亂起因為何？  
甲：官員吏治不良 乙：商業利益爭奪 丙：秘密結社盛行 丁：渡臺禁令解除  
(A) 甲乙 (B) 乙丙 (C) 丙丁 (D) 甲丙。  
( ) (36) 下列哪句諺語最能形容當時臺灣叛亂頻繁的狀況？  
(A) 红柿上樹頭，羅漢腳淚尿流 (B) 三年一小反，五年一大亂  
(C) 唐山過臺灣，心肝結歸丸 (D) 一個某，卡贏三個天公祖。  
( ) (37) 下列哪一古蹟，即與此一歷史事件相關？  
(A) 基隆的海門天險 (B) 臺南億載金城 (C) 臺南赤崁樓的鼂屨記功碑 (D) 恆春城的舊砲台。

3. 下圖為嘉興國中校外教學的預定行程，請回答下列問題：

\* 帶著愉快心情前往臺南，首先第一站抵達台江國家公園，乘坐竹筏，感受四草綠色隧道的生態魅力。中午至熱鬧的安平老街吃美食，享用午餐。安平老街號稱是臺灣第一街，據說是荷蘭人在臺灣建立的第一條石板街道，現今老街上有許多賣古早味商品的攤販，假日總能吸引許多人潮。而老街一旁，有安平古堡與德記洋行，這些都是有名的古蹟呢！下午，到億載金城參觀，途中經過赤崁樓，再至國立臺灣歷史博物館，參觀各項展覽主題。博物館內不管是清代的船隻或是日治的街道，都能讓在場同學感受濃濃歷史氛圍。

- ( ) (38) 請問：上述哪一古蹟為開港通商後才出現的？ 甲：安平古堡 乙：德記洋行 丙：億載金城 丁：赤崁樓  
(A) 甲乙 (B) 乙丙 (C) 丙丁 (D) 甲丁。  
( ) (39) 億載金城的正式名稱為二鯤鯓砲台，是全臺的第一座西式砲臺。請問此一砲臺最早建設的目的為何？  
(A) 鞏固海防，對抗侵略臺灣的日本軍隊 (B) 觀光指標，提供觀光客踏青打卡  
(C) 整頓防務，對抗侵略臺灣的法國士兵 (D) 改革治安，有效鎮壓漢人與原住民。  
( ) (40) 億載金城屬於下列哪一人物之建設？ (A) 沈葆楨 (B) 劉銘傳 (C) 丁日昌 (D) 馬雅各。

試題結束