

一、選擇題(每題 2.5 分，共 62.5 分)

1.() 眼看暑假即將來臨，琪琪試著規畫四個旅遊行程。請問：下列哪個行程規畫正確？

- (A) 巴基斯坦沙漠騎駱駝 (B) 印尼普吉島衝浪
(C) 馬爾地夫參觀茶園 (D) 印度峇里島SPA。

2.() 孫燕姿及林俊傑等藝人在臺灣廣受歡迎，他們也曾成為自己家鄉——新加坡的觀光代言人，將新加坡介紹給其他地區的華人認識。請問：有關新加坡的敘述，下列何者錯誤？

- (A) 地控麻六甲海峽
(B) 主要民族為華人
(C) 國土面積廣大
(D) 東南亞經濟最發達國家。

3.() 下列有關熱帶栽培業與傳統稻作農業的比較，何者錯誤？

	(甲)主要產區	(乙)種植特色	(丙)主要特性	(丁)主要用途
熱帶栽培業	熱帶雨林氣候	機械化高	經濟作物	出口買賣
稻作農業	季風亞洲氣候	勞力密集	糧食作物	自給自足

- (A) 甲 (B) 乙 (C) 丙 (D) 丁。

4.() 每年夏天是臺灣熱門的出遊季節，住在臺北的小明預計在暑假，和爸爸、媽媽到南亞著名的熱帶小島度假。請問：若小明從臺灣搭乘直飛班機飛往當地，這時飛機將朝下列哪一個方向前進？

- (A) 東北方 (B) 西南方
(C) 西北方 (D) 東南方。

5.() 熱帶氣候位於地球的低緯地帶，這主要受到下列哪一個因素的影響？

- (A) 日照角度 (B) 陸地面積
(C) 海洋分布 (D) 地勢高低。

6.() 苾佐將信放入瓶中，希望瓶子可以從蘇澳港漂至日本橫濱，那麼須順著下列哪條洋流而行才有機會到達日本？

- (A) 黑潮 (B) 親潮
(C) 中國沿岸流 (D) 北大西洋暖流。

7.() 汶萊曾是貧窮落後的農業小國，但在本世紀初發現□□後，經濟結構發生巨大的變化。□□的生產和銷售帶來豐厚的外匯收入，加之國家人口少，經濟迅速發展，生活水準大幅提高。文中□□應為下列何者？

- (A) 錫礦 (B) 石油 (C) 煤礦 (D) 鐵礦。

8.() 南韓的平均國民所得已超越臺灣，該國政府致力於經濟發展，常採取一些強力的措施。這些措施不包括下列何者？

- (A) 扶植大型財團
(B) 家電、遊戲軟體為主的工業產品
(C) 實施共產主義

(D) 贊助電視劇的拍攝帶動觀光業發展。

9.() 馬來西亞及印尼地區為橡膠、咖啡等熱帶栽培業的主要生產地帶。請問：該地區發展熱帶栽培業的有利區位條件中不包括下列何者？

- (A) 內需市場廣大 (B) 廉價勞工眾多
(C) 沿海航運交通 (D) 氣候高溫多雨。

10.() 新聞報導：「近年來中國經濟快速發展，同為共產國家的北韓擔心中國終將會背棄兩國的盟約，因此北韓在與中國隔江相望的第 12 軍團，部署了數十輛坦克和裝甲戰車，宣示意味濃厚。」根據上文報導，北韓部署軍隊的地點可能位於下列哪一條河的沿岸地區？

- (A) 圖們江 (B) 松花江
(C) 黑龍江 (D) 烏蘇里江。

11.() 下圖為北韓飛彈發射預測路徑圖，除了南韓外，下列哪一國家正好位在其飛彈路徑上，受到的威脅最大？



- (A) 臺灣 (B) 菲律賓
(C) 日本 (D) 俄羅斯。

12.() 位於南亞的印度半島，冬季不明顯，相對於其他同緯度地區較為溫暖。請問：這和下列哪一個因素的關係最大？

- (A) 高大山脈阻擋北方寒冷氣團
(B) 沿海地區暖流經過，冬不寒冷
(C) 受到海上季風吹拂氣候暖溼
(D) 位於來自歐亞大陸的東北季風迎風坡。

13.() 日本主要的工業區和工業都市均濱臨海洋，主要是因日本的工業受到何項條件限制？

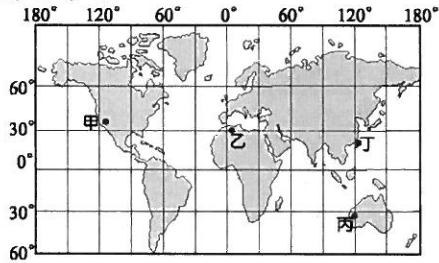
- (A) 勞工缺乏
(B) 內陸運輸不便
(C) 土地面積狹小
(D) 國內原料不足，仰賴進口

14.() 東南亞過去受歐洲殖民，殖民國為運送物資，對於當地港口的建設較為完善。請問：上述原因使東南亞以哪種類型的都市為主？

- (A) 綠洲型 (B) 宗教型
(C) 工礦型 (D) 港埠型。

~背面尚有試題~

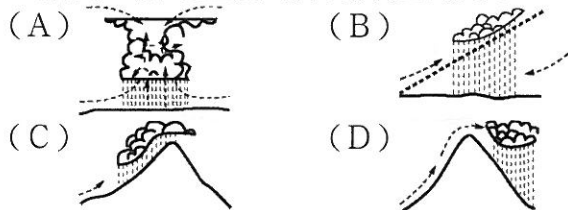
- 15.()各地的氣候特色受到地理位置的影響甚大，而形成不同的季節變化。附圖為世界各地主要的都市位置所在，其中哪一個都市在7月分時的月均溫最低，為當地的冬季？



- (A)甲 (B)乙 (C)丙 (D)丁。
- 16.()印度的邦加羅爾軟體工業相當盛行，成為該國新興的產業活動。請問：印度發展軟體工業的有利條件主要為哪些？(甲)使用英語(乙)工資低廉(丙)社會平等(丁)海運便利

- (A)甲乙 (B)丙丁 (C)甲丁 (D)乙丙。
- 17.()「世界自然保育基金會警告，因為溫室效應增強，喜馬拉雅山的雪線每年以10到15公尺的速度後退。短期內可能會引起『周圍國家』的河流氾濫，造成水災，長期而言這些河流水位將會下降，引發乾旱，威脅當地人民的生活。」請問：下列何者不是文中所指的「周圍國家」？
- (A)伊朗 (B)中國 (C)印度 (D)尼泊爾。

- 18.()東印度群島有一句氣候諺語：「夜間是熱帶的冬天」。請問：該地主要的降雨類型為何？



- 19.()日本地區降水量較同緯度的中國多，氣溫也較暖和，主要原因為何？
- (A)多島嶼 (B)地形高聳
(C)日照較長 (D)四周有海洋調劑

- 20.()雅筑到曼谷旅行時，發現這裡四處可感受當地虔誠的宗教氛圍，除了金碧輝煌的寺廟之外，連到連鎖速食店都可看到附圖中麥當勞叔叔擺出不同於其他國家的姿勢。請問：曼谷當地主要的宗教為何？



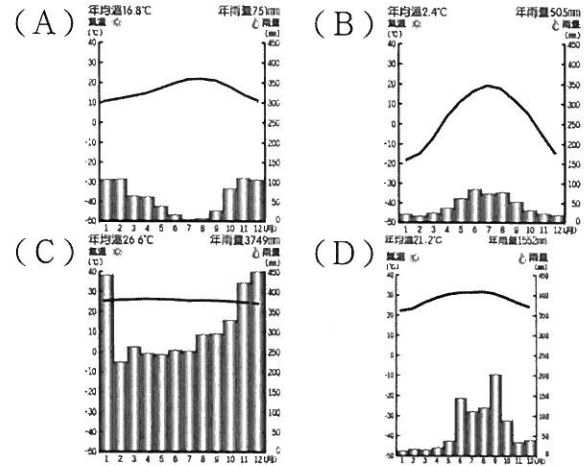
- (A)基督教 (B)伊斯蘭教
(C)印度教 (D)佛教。
- 21.()南美洲大國巴西有赤道經過，境內氣候多為炎熱溼潤的類型。請問：該區最主要的天然植物為下列何者？ (A)針葉林 (B)苔原 (C)混合林 (D)雨林。
- 22.()附圖是旅遊達人彥翔在部落格上寫下的旅遊札記。請問：彥翔遊記所敘述的國家為何？

第一天下飛機後，見到當地特有的交通工具，很特殊，也很有異國流浪的感覺。來到街上後更是大開眼界，不要懷疑，這裡是當地的鬧區，就真的這樣子。



- (A)泰國 (B)印尼 (C)印度 (D)巴基斯坦。

- 23.()下列為世界不同類型的氣候圖，其中哪一個為典型的溫帶地中海型氣候？



- 24.()東南亞的人文景觀十分豐富，充滿多元文化的特性。請問：這種現象和該地區何種地理條件的關係最大？ (A)位置 (B)氣候 (C)面積 (D)土壤。
- 25.()德沙一出生即被歸為某種社會階級，註定了他這一生的未來發展，無法在此生藉由努力而開創自己的前途，十分無奈。請問：德沙最可能為下列哪一個國家的人民？
- (A)不丹 (B)印度
(C)斯里蘭卡 (D)巴基斯坦。

二、題組題(每題 2.5 分，共 37.5 分)

※ 相較於太平洋及大西洋的寬廣，印度洋由於大多位於熱帶海域，一向以人間天堂著稱，不論是散布於海洋中像珍珠一般散落的島群、亦或是提供心靈昇華修行的印度半島，都是民眾深度旅遊的最愛。請問26~29題：

- 26.()南亞的印度為瑜伽的發源地，當地人民對於生命的領悟常令外地遊客深深動容。附圖為流經印度的某條河流，被印度教信徒視為是聖河，該河流應是指下列何者？

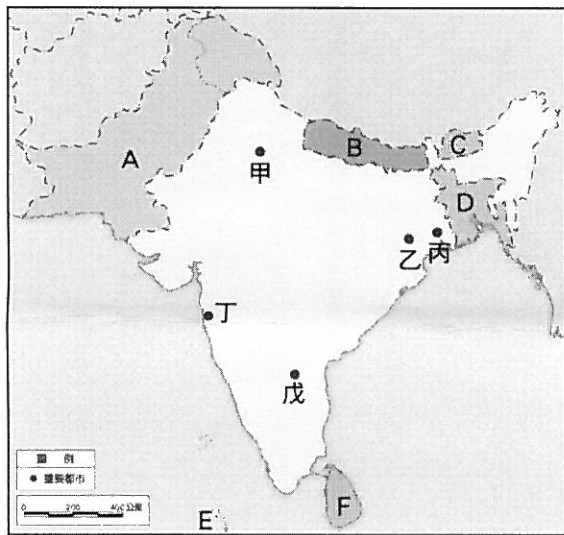


- (A)印度河 (B)恆河
(C)紅河 (D)湄公河。

~請接下一頁~

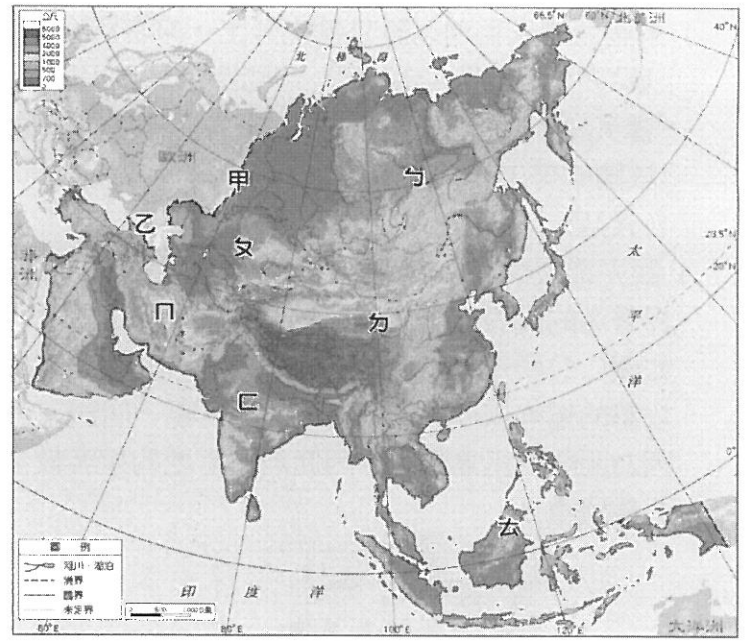
- 27.() 被譽為天堂的斯里蘭卡有著綿延不斷的棕櫚樹、一望無盡的白色沙灘，再加上綠油油的農作物，鑲嵌出一幅美麗圖畫，令人難忘。當地丘陵由於自然條件的影響，以種植何種作物行銷各地而聞名？
 (A)咖啡 (B)玉米 (C)水稻 (D)茶葉。
- 28.() 承第(3)題，該地區主要由於哪一種盛行風向帶來溼潤的空氣，因此有利於農作物的生長？
 (A)東北風 (B)東南風
 (C)西北風 (D)西南風。
- 29.() 印度半島上雖然有肥沃的沖積平原，可以供養這塊土地上龐大的人口數量，但是恆河下游的三角洲地帶卻因為地勢低窪而水患頻傳，為世界上水災情形嚴重的地區之一。上文中所說的恆河下游的水災應發生在哪一個國家中？
 (A)巴基斯坦 (B)孟加拉
 (C)印度 (D)尼泊爾。

※印度半島人口眾多、族群複雜、文化多元，擁有特殊的風土民情與歷史古蹟，觀光資源豐富。請回答 30~32 題 (A~F 為國家代號，甲~戊為都市代號)。



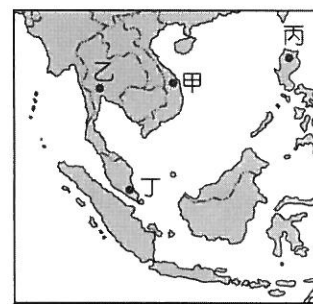
- 30.() 阿三想安排到圖中的「甲」地旅遊，下列哪個假期是當地最舒適的時節？
 (A)春節 (B)端午節 (C)中秋節 (D)清明節
- 31.() 若要參觀印度著名的寶萊塢製片廠，應前往圖中哪個都市？
 (A)甲 (B)丙 (C)丁 (D)戊
- 32.() 有「印度矽谷」之稱的是哪個都市？
 (A)乙 (B)丙 (C)丁 (D)戊

※依自然與人文環境的特色，亞洲可分為東亞、東北亞、東南亞、南亞、西亞、中亞及北亞七大區，請參考下圖，回答 33~35 題。



- 33.() 「位於亞洲東南部，緯度較低，氣候溼熱，四季如夏；島嶼多，國家數眾多。」上面所敘述的是圖中哪個地區？ (A)乙 (B)丙 (C)丁 (D)戊
- 34.() 「位於亞洲大陸南側，北有喜馬拉雅山，東、西、南三面臨印度洋，主要範圍包括印度半島、錫蘭島及馬爾地夫群島。」上面所敘述的是圖中哪個地區？ (A)甲 (B)乙 (C)丙 (D)戊
- 35.() 上圖乙介於歐亞大陸之間，自古交通戰略位置相當重要。請問：乙是指亞洲哪個地區？
 (A)南亞 (B)中亞 (C)東北亞 (D)東南亞

※東南亞國家近年來經濟發展快速，甚至部分國家被譽為是繼四小龍之後的「亞洲四小虎」。在可預見的未來，臺灣和該地區的關係將日益密切。圖(一)是東南亞地區簡圖，請問36~40題：

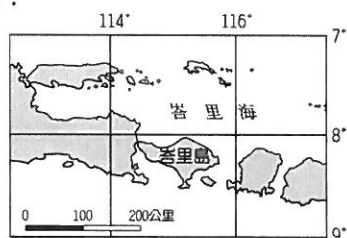


▲圖(一)

- 36.() 今日臺灣的外籍配偶愈來愈多，以東南亞國家而言，圖(一)中哪一個國家因為受中華文化的影響最深，和臺灣的文化隔閡相對較淺，成為國人選擇東南亞地區跨國婚姻的首選？
 (A)甲 (B)乙 (C)丙 (D)丁。
- 37.() 新興國家的崛起，其政治的穩定度會影響外國投資者的信心。圖(一)中哪一個以佛教為國教的國家，在 2009 年時因為紅衫軍事件而造成經濟上極大的損失？ (A)甲 (B)乙 (C)丙 (D)丁。

~背面尚有試題~

- 38.() 東南亞國家目前以對外輸出勞工，來為國家賺進大量的外匯。圖(一)中哪一個國家受到殖民歷史的影響英語相當普及，因此許多歐美企業相當喜愛引進該國的勞工？
 (A)甲 (B)乙 (C)丙 (D)丁。
- 39.() 觀光業被稱為是無煙囪工業，如印尼的峇里島是世界著名的度假區，為印尼賺進大量外匯，其地理位置如圖(二)所示。然而 2002 年時峇里島卻發生了恐怖攻擊的爆炸事件，死傷慘重。下列哪一個國家可能會因為距離峇里島最近，因此前往當地的遊客較多，傷亡最嚴重？



▲圖(二)

- (A)澳洲 (B)美國 (C)西班牙 (D)日本。
- 40.() 瑤哲暑假到泰國旅行，參觀了泰國傳統的水上市場。據說中南半島受到地形的影響，早期多以河川水運為主。當地若沿河流順流而下，其行進路線應為何？
 (A)由南向北流 (B)由東向西流
 (C)由北向南流 (D)由西向東流。

~題目結束~

