

高雄市立嘉興國民中學105學年度第二學期第三次段考一年級地理科考查試卷

範圍：第二冊第五章~第六章

一年__班 座號：____ 姓名：_____

溫馨提醒：地理科代碼 05；未填妥個人資料，扣五分

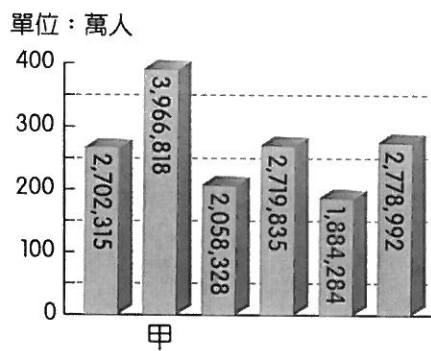
一、選擇：(每題 2.5 分，共 87.5 分)

1. ()表一是語璇分析臺灣某港口的自然條件，依表中內容判斷，最可能是指下列哪一個港口？
 (A)基隆港 (B)臺中港 (C)高雄港 (D)花蓮港。

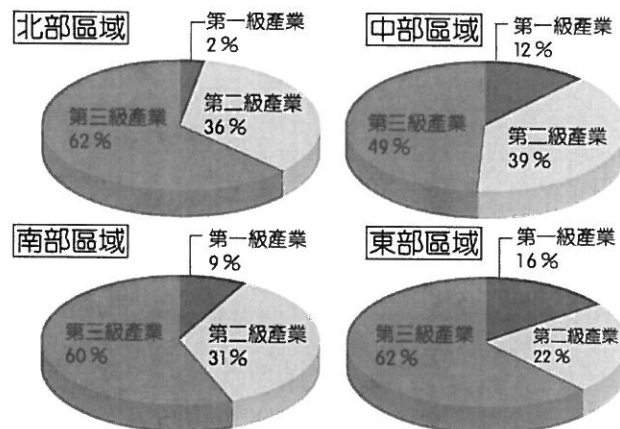
自然條件	
優點	1. 形勢良好的灣澳。 2. 少淤積的曲折岩岸。
缺點	1. 丘陵環抱、平地狹小。 2. 雨日較多，影響貨物裝卸。

表一

2. ()臺灣近 40 餘年來，經濟發展成長快速，但也產生哪一項負面影響？
 (A)區域間發展不均衡 (B)國民所得大幅提高 (C)物質生活條件較優 (D)經濟高度成長。
3. ()由於苗栗縣政府負債嚴重，引發民眾對於地方政府財務的關注，唯一沒有負債的金門縣和連江縣(馬祖)，其財政優異狀況讓大家甚感驚訝。請問：這兩個縣市經濟發展的有利條件為下列何者？
 (A)礦產豐富 (B)漁業發達 (C)觀光興盛 (D)工業活動。
4. ()教育程度的高低影響一地未來的發展，臺灣目前除了臺北市外，新竹市的教育程度也遙遙領先其他縣市，最主要的原因為下列何者？ (A)金融商業中心 (B)自然環境優美 (C)科學工業園區設立 (D)人口密度最高。
5. ()圖一為臺灣各直轄市的人口數量分布表，依表中資訊判斷，甲縣市應該為下列何者？
 (A)臺北市 (B)高雄市 (C)新北市 (D)臺中市。
6. ()圖二為臺灣四大區域各級產業就業人口比例圖。請由圖中資料判斷，哪一個區域的工業最不發達？
 (A)北部區域 (B)中部區域 (C)南部區域 (D)東部區域。



圖一



圖二

7. ()圖三為連江縣的傳統石頭屋建築，房屋依山而建，並由堅硬的花崗岩一塊一塊堆砌而成。請問：此建築特色的形成是為了因應當地何種自然條件？ (A)地震頻繁 (B)利於排水 (C)強風吹拂 (D)土質鬆軟。

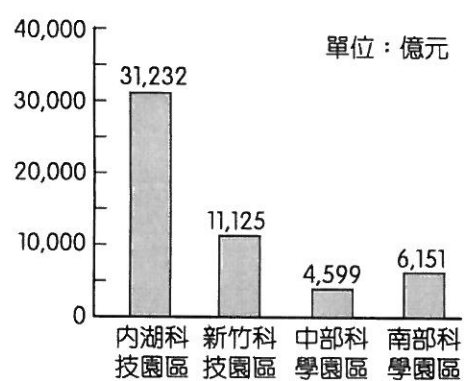


圖三

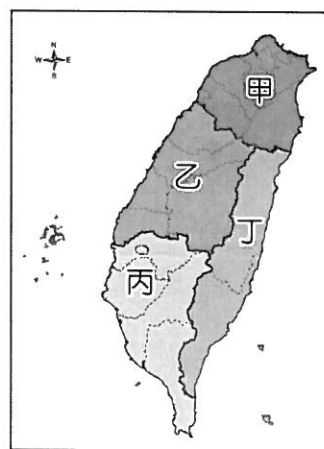
8. ()一地的經濟活動發展會影響該地人口密度，臺灣本島依經濟活動發展情況可分為四個不同區域，其中人口密度最高的區域，其產業活動特色應為下列何者？
 (A)金融、商業、資訊業 (B)農業、機械工業 (C)農業、漁業、重工業 (D)觀光業、牧業、農業。

背面尚有試題

9. ()來自中國上海的琮堯打算到臺灣北部區域自由行，於是在網路上搜尋相關資料，請問：下列哪一項的資訊是錯誤的？(A)全臺人口密度最高的區域 (B)全臺政經中心 (C)全臺面積最大的區域 (D)氣候四季有雨。
10. ()臺灣中部區域為農業大鎮，近年來受到開放國際農產品進口的影響，農業面臨轉型危機。該地區農業轉型以下列(甲)花卉蔬果專業區(乙)大規模農業(丙)自給性農業(丁)休閒農業，哪些類型為主？(A)甲乙 (B)丙丁 (C)甲丁 (D)乙丙。
11. ()臺灣哪一個縣由於完全不靠海，再加上山地面積大，因此境內以茶葉生產為主？(A)臺東縣 (B)屏東縣 (C)南投縣 (D)桃園市。
12. ()臺灣位於海陸接觸地帶，屬於季風氣候，依地理位置分成熱帶氣候及副熱帶氣候，其中哪一個區域的熱帶氣候面積比例最高？(A)北部區域 (B)中部區域 (C)南部區域 (D)東部區域。
13. ()長榮航空公司邀請電影明星金城武拍攝形象廣告，意外打響了花東縱谷平原的美景。宗翰一家人看了廣告後，決定由南迴公路前往花蓮，沿途追尋廣告中的景色。請問：宗翰在花東縱谷路段見到的左側山脈為何？(A)海岸山脈 (B)雪山山脈 (C)阿里山山脈 (D)中央山脈。
14. ()臺灣東部區域的人口密度約69人/平方公里，而金馬地區則高達736人/平方公里。請問：造成兩地差異的主要原因應為下列何者？(A)東部人口數較少 (B)東部人口外移多 (C)金馬多中國移民 (D)金馬土地面積小。
15. ()臺灣目前產業結構的主力為高科技產業，其主要科技園區的營業額如圖四所示。請問：影響內湖園區營業額高低的主要因素為下列何者？(A)鄰近臺北國際航空站，交通便利 (B)企業總部所在，分布密集 (C)園區面積廣大，廠商眾多 (D)勞工素質優異，技術進步。
16. ()高科技工業為近年臺灣積極推動發展的策略產業活動，請問：臺灣目前設有科技園區的區域不包括圖五中何者？(A)甲 (B)乙 (C)丙 (D)丁。

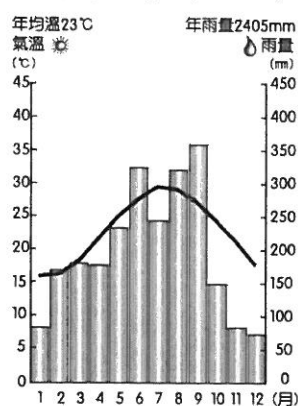


圖四



圖五

17. ()2015年曾文溪的河道出現近乎乾枯的情況，且曾文水庫及烏山頭水庫的蓄水量也屢創新低，造成嚴重的缺水危機。請問：上述現象對下列哪一個地區的農業活動影響最大？(A)嘉南平原 (B)屏東平原 (C)恆春臺地 (D)彰化平原。
18. ()苗栗縣的農家以休閒農業及民宿的方式經營，成為當地的特色。該縣的民宿業者多以何種文化體驗作為宣傳主題？(A)閩南文化 (B)原住民文化 (C)戰地文化 (D)客家文化。
19. ()綉玉到臺灣某離島旅遊，在當地見到難得的古洋樓建築。該地區因文化景觀及戰地遺址，已被規畫為國家公園。綉玉旅遊的地點應為下列何者？(A)澎湖 (B)東沙島 (C)金門 (D)馬祖。
20. ()臺灣本島依各區域的自然環境及區域特色而分為四個區域。請問：圖六中的氣溫雨量圖最可能出現在圖七中的哪一區域？(A)甲 (B)乙 (C)丙 (D)丁。



圖六



圖七

接續第三頁試題

21. ()表二有關臺灣北部區域和南部區域的地理環境比較，其中何者敘述不正確？

(A)緯度位置 (B)氣候類型 (C)地形特色 (D)人口分布。

	緯度位置	氣候類型	地形特色	人口分布
北部區域	緯度較高	熱帶氣候區	丘陵遍布	人口較多
南部區域	緯度較低	副熱帶氣候區	平原廣大	人口較少

表二

22. ()臺灣東部區域一向以好山好水聞名，無污染的自然環境及悠閒的生活步調讓當地成為臺灣的後花園。請問：東部區域特色的形成和下列哪一個因素的關係最為密切？

(A)面積較大 (B)海岸線長 (C)開發較晚 (D)礦藏豐富。

23. ()「臺南沿海有大片的海埔地及許多離岸沙洲，不但是臺灣早期開發的重要地區，也擁有二處國際級溼地，因而政府於數年前提出成立『臺江黑水溝國家公園』的規畫案。此國家公園的成立，不僅可保育生態環境、保存重要的歷史資產，同時更可以利用當地昔日的傳統產業來發展具地方特色的生態旅遊，是一座兼具自然、歷史、產業三大特色的國家公園。」上文中提及當地昔日的傳統產業，最可能是指下列何者？

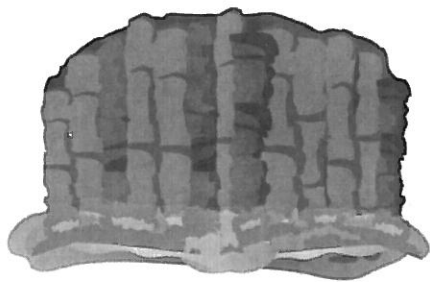
(A)水泥業 (B)採煤業 (C)製茶業 (D)晒鹽業。

24. ()臺灣的自然景觀相當多樣，圖八為臺灣著名的觀光景點，相當具有特色。請問：其成因最有可能為下列何者？


(A)岩漿冷卻 (B)海浪侵蝕 (C)泥沙堆積 (D)河川沖積。

25. ()圖九為臺灣世界級的地質景點石梯坪，因沿岸的岩石伸入海中，其形如階梯而得名，若登上其中的單面山向東望去，可以盡覽海洋的壯闊浩瀚景象。請問：圖中的海洋應該為下列何者？

(A)臺灣海峽 (B)巴士海峽 (C)東海 (D)太平洋。



圖八



圖九

26. ()金門、馬祖地區的人口，以老年人口比例偏高，這和下列何項因素的關係最大？

(A)地震頻繁 (B)就業問題 (C)面積狹小 (D)氣候惡劣。

27. ()臺灣南部區域大致可分為東西兩部分，西邊為廣大的平原，而東邊則多山脈。請問：分布於該區域的主要山脈不包括下列何者？

(A)中央山脈 (B)海岸山脈 (C)玉山山脈 (D)阿里山山脈。

28. ()台灣中部區域有許多傳統農業轉型為精緻農業與休閒農業，這些農民願意選擇轉型的原因不包含下列何者？

(A)可降低生產成本 (B)可提高生產利潤 (C)因應WTO的競爭 (D)發展多元化的行銷。

29. ()中部區域的彰化、雲林一帶由於平原面積廣大，因此農業活動相當發達，加上下列哪一條交通路線通車後，可以快速將生鮮農產品運送到各大都市，使區域內的傳統農業逐漸轉作花卉、蔬果？

(A)中山高速公路 (B)蘇花公路 (C)中部橫貫公路 (D)蔣渭水高速公路。

30. ()近年來臺灣東部區域已設立幾所大學院校。請問：在東部區域設立大學將產生什麼影響？

(A)縮小區域差距 (B)促使人才外流 (C)造成資源浪費 (D)加強生態保育。

31. ()臺北港主要的功能為分擔北部重要商港的進出口貨運。請問：臺北港應位於哪一條河川的出海口？

(A)基隆河 (B)淡水河 (C)濁水溪 (D)蘭陽溪。

32. ()我國四面環海，除了臺灣本島外，尚包括許多離島島嶼。根據臺灣區域畫分判斷，下列哪一個離島位於南部區域？ (A)金門 (B)琉球嶼 (C)綠島 (D)龜山島。

33. ()南投縣改變以往大肆開發的發展方式，改以人地和諧相處的生態旅遊為發展主軸。請問：若我們到南投旅遊，可以從事下列何種活動？

(A)瀉湖筏舟，遊覽沿岸生態 (B)潮埔觀察蟹行，欣賞兩棲動物作息
(C)水田巡稻，體會粒粒皆辛苦的珍貴 (D)探訪山間小徑，體會竹林的變化萬千。

背面尚有試題

34. () 臺灣對外進行招商時，由於基隆至桃園地區的交通便利，經常成為跨國企業總部的據點。請問：此地區前往海外的交通方式，不包括下列何者？ (A)基隆港 (B)臺北國際航空站 (C)蘇澳港 (D)桃園國際航空站。
35. () 臺灣原住民人數最多的縣市為花蓮縣，而比例最高的地區則為臺東縣。請問：造成原住民族群多集中在東部區域的原因最可能為下列何者？
 (A)易受颱風侵襲，故不利農耕 (B)山脈地形阻擋，早期閩粵移民不易進入
 (C)語言不通，形成族群間隔閡 (D)平原的面積狹小，人口外移嚴重。

二、題組(每題 2.5 分，共 12.5 分)

(一)金門為臺灣重要的軍事基地，近年來逐漸轉型，呈現多樣化的風貌。請問：

36. () 金門由於下列哪一風勢強勁，因此當地居民設立附圖的風獅爺來鎮風避邪？
 (A)東南季風 (B)西南季風 (C)東北季風 (D)西北季風。

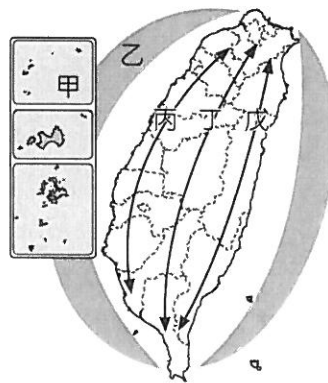


37. () 目前與金門之間進行小三通的是中國哪一個沿海都市？ (A)廈門 (B)深圳 (C)廣州 (D)上海。

(二)臺灣未來的國土空間規畫主要依據各地不同的條件來設計，期望可以為未來國家發展奠定基礎，其相關計畫如附表所示。請問：

區域	定位
A	強調都市與創新產業發展
B	以生態環境資源保育為重心
C	以適性發展優質生活產業
D	強調海岸及海洋之自然珍貴資產
E	強調人文及自然環境保全與觀光發展

38. () 各地區的發展條件不同，政府擺脫了過去一致性的思考模式，期望能找到各區域的特色，設計出因地制宜的相關策略。附表中「以生態環境資源保育為重心」定位的B區域應位於附圖中何處？
 (A)甲 (B)乙 (C)丙 (D)丁。



39. () 若依各縣市所在位置的特性判斷，下列哪一縣市的發展方向屬於附表中C區域的定位目標？
 (A)臺北市 (B)南投縣 (C)屏東縣 (D)花蓮縣。
40. () 根據區域條件的不同，使得發展重點有別。若要朝「以創意、創新作為城鄉轉型與發展的核心價值」目標前進，則下列哪一區域所進行的相關計畫會最多？ (A)A區域 (B)C區域 (C)D區域 (D)E區域。

試題結束