

高雄市立嘉興國中105學年度第二學期一年級歷史科第一次段考 ____年 ____班 座號：____ 姓名：_____

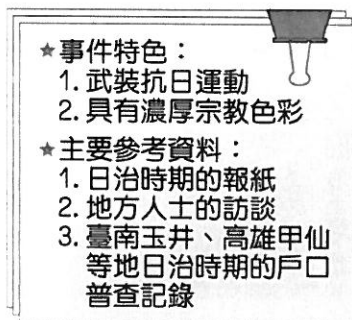
科目代碼:06

共40題 每題配分2.5分

※同學畫卡時，請使用2B鉛筆，並細心檢查科目、班級、座號等資訊，是否正確。若答案卡上方，個人資訊畫卡有誤，將扣段考分數5分。

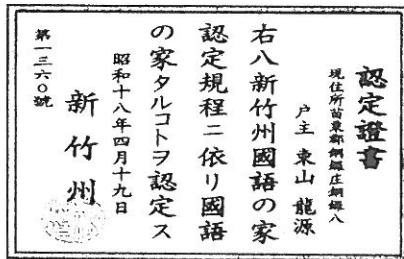
一、選擇：

1. () 總督府能深入控制臺灣社會的各個角落，主要得力於警察制度與何者的結合？ (A) 教育制度 (B) 保甲制度 (C) 皇民化運動 (D) 專賣制度。
2. () 某段資料：「羅福星紀念館有著深藍色的屋頂與淺黃色外觀，是一棟融合客家圓樓與中國建築特色的建築物，它是為了紀念抗日志士羅福星而成立。」請問依羅福星抗日地點推測，此一紀念館應位於？ (A) 苗栗 (B) 臺南 (C) 高雄 (D) 南投。
3. () 怡綉看到一張圖表如下，若以此圖表為線索，請問最有可能為下列哪一抗日事件？ (A) 苗栗事件 (B) 西來庵事件 (C) 霧社事件 (D) 牡丹社事件。

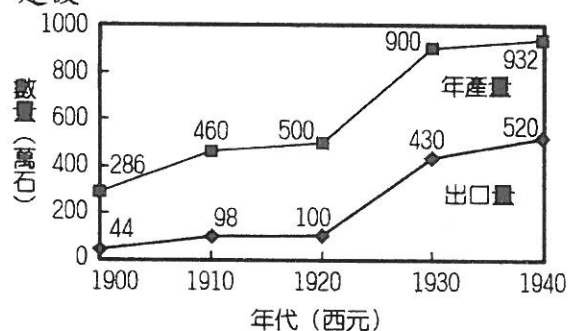


4. () 承上題，此一事件最有可能發生於哪一時期？ (A) 清領後期 (B) 無方針主義時期 (C) 內地延長主義時期 (D) 皇民化運動時期。
5. () 臺灣西部河川多東西流向，造成早期南北陸路交通不便。請問：要到何時，臺灣南北陸路交通開始通行無礙，此種現象獲得改善？ (A) 荷蘭時期的海外貿易 (B) 鄭氏時期的農業拓墾 (C) 清領後期的開港通商 (D) 日治時期的基礎建設。
6. () 新聞：「臺灣民間傳說中的英雄廖添丁，對抗日本高壓統治、扶弱濟貧、救助貧者，義賊形象深植人心。但從歷史檔案中的判決來看，廖添丁卻為殺人犯及竊盜慣犯，兩者形像似乎有段差距。根據判決記載，廖添丁生於明治16年(1883年)，住臺中廳大肚上堡秀水庄。18歲的廖添丁因竊盜及監視違犯罪，被判禁錮10月、監視6月。明治42年(1909年)，他在基隆廳槍殺日本密探陳良久後逃亡，同年11月作成判決，依殺人罪判處死刑。」請問總督府如要逮捕廖添丁，應動員哪些組織？ 甲：民政長官 乙：警察 丙：高砂義勇軍 丁：地方壯丁團。(A) 甲乙 (B) 乙丙 (C) 丙丁 (D) 乙丁。
7. () 「1895年是決定臺灣命運的一年。4月的臺灣，春天降臨，然而卻充滿了惶恐與不安，因為清廷在戰敗後已將臺灣拋棄。面對新來的主人及臺灣未卜的將來，臺灣巡撫在府衙中一籌莫展。」上文中的「臺灣巡撫」應是指下列何人？ (A) 唐景崧 (B) 劉銘傳 (C) 丘逢甲 (D) 沈葆楨。
8. () 阿嬤出生於1920年，她24歲時，臺灣正經歷一場戰爭。她的哥哥被徵召為到南洋當兵，她則改了日本姓名。回憶起那時躲空襲警報的日子，真是心驚膽跳。請問：阿嬤回憶起這段日治時期的戰爭時光，當時臺灣正經歷哪一場戰爭？ (A) 甲午戰爭 (B) 第一次世界大戰 (C) 中日戰爭 (D) 英法聯軍。
9. () 雅婷和班上同學約好暑假一起環島旅遊，她們安排參觀下列幾個景點：(甲) 烏山頭水庫 (乙) 安平古堡 (丙) 日月潭發電所 (丁) 總統府，請問她們安排的景點中，哪些屬於日治時期的建設或建築？ (A) 甲丙丁 (B) 甲乙丙 (C) 乙丙丁 (D) 甲乙丁。
10. () 清光緒年間，中國割讓臺灣，部分知識分子反對割讓，主張建立臺灣民主國，率眾抵抗外國勢力的入侵。此事件起因於清廷哪一場戰爭的失敗？ (A) 中日戰爭 (B) 甲午戰爭 (C) 中法戰爭 (D) 英法聯軍。
11. () 楷倫參觀「臺灣日治時期的照片特展」，請問：下列哪一張照片不應該出現在這次特展中？ (A) 嘉南大圳艱辛的建設工程 (B) 舉行基隆到高雄段的鐵路通車典禮 (C) 日月潭水力發電廠完工 (D) 恆春首次建城。
12. () 後藤新平認為殖民地統治，應對其地展開完整的舊慣調查，透過專家的研究分析擬定對殖民地的統制策略，因而設立臨時臺灣舊慣調查委員會。請問該組織最可能設立於哪一時期？ (A) 清領時期 (B) 無方針主義時期 (C) 內地延長主義時期 (D) 皇民化運動時期。

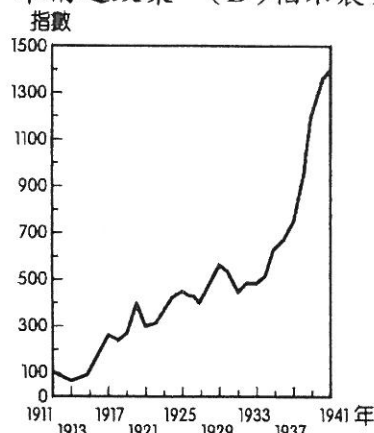
13. () 信宇到戶政事務所申請了自己家族的日治時期戶籍謄本，發現祖先來自福建，並且種別被註記為第一種，為有資產及行為良善者。他看到日治時期的戶口調查相當清楚詳細，忍不住讚嘆日本在統治臺灣上確實有其方法。而戶口名簿得以完成，須歸功於日治時期的人口普查，請問日治時期第一次進行人口普查在西元哪一年？(A)1895 (B)1905 (C)1910 (D)1920。
14. () 附圖是昭和 18 年 (1943 年)，由新竹州所頒訂的證書。請問：其說明日本當局用意為何？ (A)讓臺灣人接受義務教育 (B)鼓勵臺灣人維持舊慣風俗 (C)培養臺灣人的職業技術 (D)培養臺人效忠天皇的精神。



15. () 承上題，上述圖片中提及「國語之家」，請問所稱「國語」為何種語言？(A)日文 (B)中文 (C)法文 (D)英文。
16. () 附圖為臺灣稻米年產量及出口數量圖。圖中稻米 1920 年代的年產量與出口量大增，可能與下列哪一項政策有直接關係？ (A)土地重劃，增加稅收 (B)農業臺灣，工業日本 (C)南進政策，工農並重 (D)林野調查，基礎建設。



17. () 三井小樺，本名洪小樺，為了因應政府推行的政策，才在 1940 年改用日本姓氏。取了日本名字的小樺，穿起和服，腳踩木屐，說著日語，就像是真的日本人一樣。請問上述最可能發生在哪一歷史背景？(A)甲午戰爭剛結束 (B)第一次世界大戰爆發時 (C)第一次世界大戰結束時 (D)第二次世界大戰爆發時。
18. () 附圖為 1911~1941 年臺灣輕工業生產指數圖。由圖中資料可知，1930 年代以後，臺灣輕工業生產指數大幅上升，與下列何者有關？(A)總督府推動「內地延長主義」 (B)基隆到高雄的西部縱貫鐵路完工通車 (C)因應日本南進政策 (D)稻米農業改良成功。



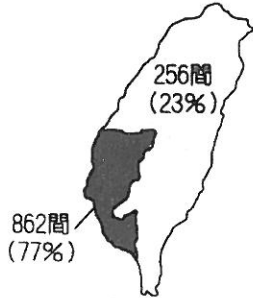
19. () 高雄橋頭糖廠的展示館中，放了一尊新渡戶稻造的銅像，寫著臺灣糖業之父。他曾發表《臺灣糖業改良意見書》，從蔗作、加工、市場三方面建議臺灣的糖業生產，從改善甘蔗品種、建設水利設施、獎勵種蔗，並且主張設置大規模糖廠，使糖業成為日治時期臺灣最大的產業。請問此時總督府的政策主軸為何？(A)工業日本、農業臺灣 (B)工業臺灣、農業南洋 (C)工業日本、農業南洋 (D)南進政策。
20. () 某歷史周刊報導：「他奉獻畢生心力給臺灣的農業，使臺灣米舉世聞名，甚至被尊稱為臺灣蓬萊米之父。培育農業人才，對臺灣近代農業發展有極深遠的影響。日本戰敗後仍留下來從事農業研究，臺灣省主席嚴家淦先生在他退休之時，代表中華民國政府頒贈景星勳章；同時省議會亦提案通過，贈予他終生食用蓬萊米每年 1200 公斤，以表彰他對台灣農業無可抹滅的貢獻。」請問：上文所報導的這位人物，應為下列何人？(A)磯永吉 (B)八田與一 (C)兒玉源太郎 (D)後藤新平。
21. () 歷史課本中，日治時期的宣傳海報「南無警察大菩薩圖」，從此宣傳海報可推測出當時的社會背景，下列敘述何者正確？(A)當時的警察是慈眉善目的佛心菩薩 (B)當時警察的工作項目無所不包 (C)警察的職權高於臺灣總督 (D)警察成為當時臺灣最高統治者。

接續下一頁

22. () 附圖為俊德與家人到嘉義旅行時，在臉書的貼文。他搭乘的鐵路支線現在主要是以觀光為主，但其最初修築的目的應為下列何者？ (A)促進南北交通 (B)貨物進出口門戶 (C)開發森林資源 (D)聯絡各城鎮的公路。




23. () 附圖為 1902 年臺灣某種主要出口商品的加工場所數量分布示意圖，根據其分布情形判斷，此種出口商品最可能為下列何者？ (A)茶葉 (B)樟腦 (C)蔗糖 (D)鹿皮。



24. () 日本對臺灣的殖民統治達 50 年之久，其統治政策依序有三個階段的演變。由第一階段改變為第二階段的原因為何？ (A)臺人武裝抗日不斷 (B)民族自決思潮興起 (C)臺灣總督頒布「六三法」 (D)臺灣總督推行皇民化運動。
25. () 景展買到一張臺北捷運公司發行的「藍地黃虎旗」悠遊卡，他覺得這張捷運卡相當具有歷史意涵。「藍地黃虎旗」為哪一國之國旗？ (A)臺灣民主國 (B)日本 (C)清朝 (D)美國。
26. () 臺灣歷史上，知名抗日事件的當事人與倖存者——賽德克族的娥賓·塔達歐 (Obing Tadao)，她的口述歷史曾改為小說與同名電視劇《風中緋櫻》。請問：上述主角親身經歷了下列哪一歷史事件？ (A)苗栗事件 (B)牡丹社事件 (C)西來庵事件 (D)霧社事件。
27. () 附圖為日治時期警察執行任務的情況，請根據此圖的內容來看，圖中警察正在執行何項工作？ (A)推行疫苗防疫 (B)鎮壓抗日分子 (C)督促環境整理 (D)執行六三法。



28. () 歷史課舉行快問快答，老師問到「臺灣民主國的義軍統領為何人」，文進雖然舉手最快，但不太確定答案。請問他若回答下列哪一選項，即為正確？ (A)沈葆楨 (B)唐景崧 (C)劉永福 (D)丘逢甲。
29. () 于禎在網路上看到一段資料：「日本接收臺灣的時候，幾乎沒有像樣的道路。村落與村落之間，村落與市街之間，只有 30 公分寬的小路。後來在某為民政長官任內，大力推行公路建設，臺灣建築了 1.8 公尺寬的道路 5 千 5 百公里，超過 1.8 公尺寬的道路 2 千 9 百公里，超過 5.4 公尺寬的道路 8 百公里，超過 7.2 公尺寬的道路 80 公里。讓臺灣公路發展邁進一大步。」請問上述的民政長官，應為下列何人？ (A)後藤新平 (B)兒玉源太郎 (C)八田與一 (D)樺山資紀。
30. () 日治時期，野原廣志在高雄州岡山郡一帶擔任保正，在地方上頗有聲望。而他居住的地區多為漢人，平時較無抗日舉動。有關他的工作敘述下列何者最為正確？ (A)廣志平時管理十戶人家，輔佐警察工作 (B)保正是地方行政的中心，地位高於警察 (C)保甲制度非日本引進，此制度沿用清朝而來 (D)在管轄範圍區內需號召原住民青年組成壯丁團。
31. () 歷史老師上課時，說明附圖是 1930 年嘉南大圳完工的漫畫圖，圖中的人物應是下列何人？ (A)八田與一 (B)後藤新平 (C)曹謹 (D)莫那魯道。



32. () 玉萱看到一則臺灣諺語：「臺灣第一憨，種甘蔗乎會社磅。」請問這句諺語背後的歷史背景為何？(A)嘲笑只有愚笨的農夫才會種植甘蔗 (B)製糖會社壓榨蔗農所得利潤 (C)日治時期臺灣不流行種植甘蔗 (D)製糖會社的磅秤是最精準的磅秤。

二、題組：

1. 日本馬關的春帆樓，為中日《馬關條約》的談判與簽署地點。原建物在1945年因戰爭空襲而燒毀，之後經過重建，目前改為日本料理餐廳，一旁則建有「日清議和紀念館」以留紀念。請問：
- () (33)這場和議，是因為哪一場戰爭而召開的？(A)英法聯軍 (B)中法戰爭 (C)甲午戰爭 (D)第一次世界大戰。
- () (34)在此一條約中，清廷割讓了那些領土？(甲)琉球 (乙)臺灣 (丙)澎湖 (丁)越南 (A)甲乙 (B)甲丁 (C)乙丙 (D)乙丁。
- () (35)但此一結果，令許多臺人民覺得無法接受。有知識分子便倡議組織一獨立國家以抵抗日本，發布獨立宣言並尋求國際聲援，期望能改變議和結果。請問臺人成立的組織為？(A)臺灣民主國 (B)壯丁團 (C)臺灣議會 (D)臺灣總督府。
2. 臺灣歷史上，有一段時期的官員曾說：「太陽的子民，從語言到姓名、風俗習慣等外在形式，也能與內地人無所差異的話，那是最理想的。即無論在精神上、形式上都與內地人相同，始能稱為完全之日本化。」請問：
- () (36)上文中所稱「內地」，指得是下列何地？(A)中國 (B)日本 (C)朝鮮 (D)臺灣。
- () (37)總督府極力推動完全日本化的目的為何？
- (A)養成對日本的愛國心與犧牲精神 (B)安撫臺灣人民族自決的思潮
(C)為了獲取豐富的森林與山地資源 (D)期望減低臺灣的武裝抗日事件。
- () (38)參考下表，請問此時期最有可能由誰擔任臺灣總督？(A)甲 (B)乙 (C)丙 (D)丁。

選項	任數	姓名	就任時間	軍銜
甲	第一任	樺山資紀	1895年	海軍大將
乙	第四任	兒玉源太郎	1898年	陸軍中將
丙	第八任	田健治郎	1919年	無
丁	第十七任	小林躋造	1936年	海軍大將

3. 日治時期，總督府在臺積極展開各項經濟改革和建設工作，除了想獲取臺灣的各項資源，也可吸引日本企業家來臺投資。請問：
- () (39)下列哪些項目是清領時期臺灣沒有從事的建設？(甲)清查土地所有權，增加稅收 (乙)興建鐵路，有助交通運輸 (丙)人口普查，了解臺灣人口狀況 (丁)統一貨幣，發行紙幣 (A)甲丙 (B)乙丁 (C)甲乙 (D)丙丁。
- () (40) (甲)基隆港(乙)蘇澳港 (丙)臺中港 (丁)高雄港。以上哪些港口在日本殖民統治時期經整建後，成為具現代化設備的大港？(A)甲乙 (B)乙丙 (C)丙丁 (D)甲丁。

試題結束

~請細心檢查，畫卡資訊是否正確~