

一、選擇題(每題 2.5 分，共 57.5 分)

- 1.( ) 巴拿馬運河的主要貢獻，下列何者正確？  
 (A)縮短美洲東西岸之間的航程  
 (B)提供北美洲民生用水的需求  
 (C)便利歐洲與美洲的交通往來  
 (D)替巴拿馬賺取微薄的通行費。
- 2.( ) 附圖為美加邊境五大湖區的地形示意圖，提供當地水力發電及航運交通，請問：該區地形的成因主要為下列何者？  
 (A)火山作用  
 (B)冰河作用  
 (C)溶蝕作用  
 (D)風蝕作用。
- 3.( ) 安地斯山北段的山間盆地，是人口、都市集中的精華區，其原因為何？  
 (A)地處低緯 (B)地勢低平  
 (C)適合發展山牧季移 (D)地勢險要，易守難攻
- 4.( ) 小儒計畫到中南美洲自助旅行，她最需要加強哪種語言？  
 (A)英語 (B)法語 (C)西班牙語 (D)印第安語。
- 5.( ) 下列哪些是早期吸引歐洲國家到中、南美洲殖民開發的天然資源？  
 (甲)充沛的水力 (乙)豐富的金屬礦  
 (丙)熱帶作物 (丁)魚群聚集  
 (A)甲乙 (B)乙丙 (C)丙丁 (D)甲丁。
- 6.( ) 「這個國家的國土東西寬不超過 180 公里，但南北則長達 4,200 公里，狹長的國土形狀，使其景觀豐富而多變化。除了可以見到生活於寒冷地區的企鵝外，還有高溫炎熱的沙漠景觀。」這描述的是哪一個國家的特徵？  
 (A)巴西 (B)智利 (C)墨西哥 (D)加拿大。
- 7.( ) 聖保羅、布宜諾斯艾利斯到處可見擁擠的人潮及貧民區，和世界其他大都市欣欣向榮的景象不同。同樣都市化程度高，景象卻不同，其原因為何？  
 (A)政府都市計畫不夠周全  
 (B)城市內湧入大批北美洲移民  
 (C)鄉村經濟蕭條，推力太強所致  
 (D)都市工商業發展所造成的拉力。
- 8.( ) 北美洲加拿大西岸的溫哥華與東岸的多倫多緯度相近，而溫哥華地區的氣候卻較為溫暖。其主要的原因為何？  
 (A)距海遠近 (B)盛行風向  
 (C)地勢高低 (D)洋流性質。
- 9.( ) 中南美洲大部分國家習慣種植單一作物，其主要原因為何？  
 (A)受歐洲殖民影響  
 (B)受限於地形、氣候  
 (C)大規模種植，利潤較高  
 (D)採單一作物，利於精緻發展。



- 10.( ) 黃小鈞替旅行社撰寫北美洲的行程，請問：下列何者「錯誤」？  
 (A)第一天抵達美國第一大城—紐約，參觀「自由女神像」  
 (B)第二天來到底特律，參觀太空梭發射基地，並親身體驗太空人的無重力訓練  
 (C)第三天搭飛機前往西岸的賭城拉斯維加斯，小試身手，替自己賺回不少旅費  
 (D)最後一天在舊金山的中國城巧遇臺灣友人，被邀請至矽谷科學園區一遊。
- 11.( ) 美國亞利桑那州大峽谷，高達 1158 公尺的玻璃天空步道，凌空伸出 70 呎，比現時世上最高大廈還要高出一倍，科羅拉多河在腳下滾滾奔流，場面震撼。請問：「天空步道」位於哪一地區內？  
 (A)落磯山脈 (B)北美大平原  
 (C)阿帕拉契山脈 (D)拉布拉多高原。
- 12.( ) 蔡小智想利用假日與楊小靜出遊，先到「麥當勞」享用超值早餐，再到夢時代欣賞「好萊塢」最新 3D 電影星際大戰。蔡小智用「iPhone」手機聯絡完楊小靜之後，便開著「HONDA」汽車準備出發去約會。請問下列哪一項不是美國的商品品牌或文化？  
 (A)「麥當勞」 (B)「好萊塢」電影  
 (C)「iPhone」手機 (D)「HONDA」汽車。
- 13.( ) 侑宗趁著寒假期間和家人到中南美洲旅行，首先，他們參觀了金字塔型的古建築，如圖中所示，據說是印第安人的古文明遺跡。請問該建築物最可能出現在下列哪一個國家？  
 (A)埃及 (B)伊拉克 (C)墨西哥 (D)巴西。
- 14.( ) 承上題，侑宗全家又一起到某地區參加熱鬧的嘉年華會，拍攝照片如附圖所示。他發現當地的遊行融合了黑人、印第安及拉丁文化，相當有特色。請問：他們所前往的國家最可能為何？  
 (A)美國 (B)巴西  
 (C)智利 (D)阿根廷。
- 15.( ) 「根據統計，目前在美國太空總署(NASA)的印度工程師高達30%，而矽谷的新創企業公司中，也有40%為印度人所創立。」請問：以上敘述說明了美國社會哪一現象？  
 (A)美國移民政策形成人力資源投入  
 (B)印度婆羅門教成為美國強勢文化  
 (C)白人和黑人的種族歧視完全消失  
 (D)空運運輸進步使市場距離限制。



~請接下一頁~

16.( ) 拉丁美洲的「委內瑞拉」因為盛產何種礦產資源，成為 OPEC 的會員國，對該國經濟的影響相當大？  
 (A)鐵礦 (B)黃金 (C)石油 (D)煤礦。

17.( ) 電影「神鬼奇航」的拍攝團隊若要取景當時加勒比海海盜的勢力範圍與生活環境，應到下列哪一個群島進行拍攝？

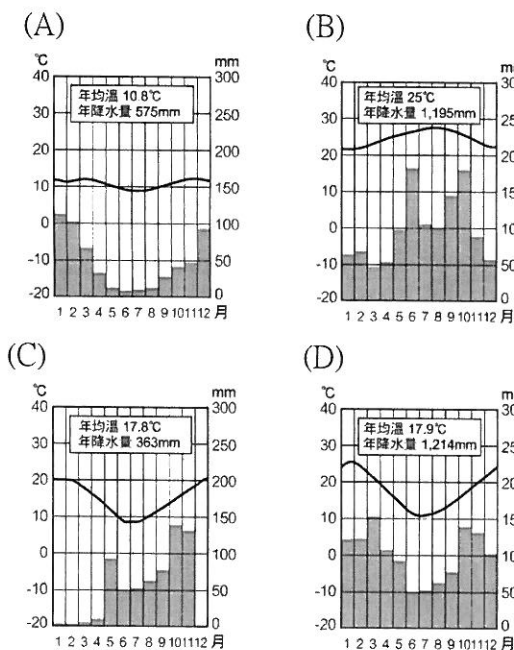


- (A)甲 (B)乙  
 (C)丙 (D)丁。

18.( ) 美國的酪農業多分布在五大湖區及聖羅倫斯河沿岸的主因為何？

- (A)氣候適合養牧牛羊  
 (B)鄰近地區水源充足  
 (C)為北美洲最早開發的地方  
 (D)工業發達、都市人口聚集。

19.( ) 右圖為秘魯國徽，左上角那隻動物正是秘魯的國獸：羊駝(駱馬)。羊駝有耐寒耐旱又可負重的特性。根據羊駝的特性，下列哪張氣候圖比較容易看見牠們的蹤跡？



20.( ) 黃石國家公園有因地熱造成的噴泉景觀，稱為「老忠實噴泉」。請問：這和該地何種地形作用力關係最大？

- (A)河川侵蝕 (B)波浪沖擊  
 (C)板塊擠壓 (D)風力吹蝕。

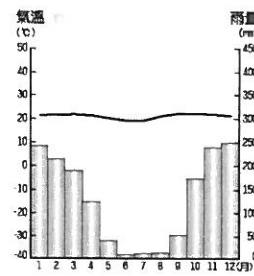
21.( ) 北美洲國家的經濟力不僅影響到國內經濟，更藉由下列何種方式，將勢力擴及至世界各地？

- (A)生產規模廣大 (B)勞工薪資低廉  
 (C)海外分公司多 (D)自然資源豐富。

22.( ) 美國、加拿大和墨西哥同為北美自由貿易協定的會員國，墨西哥在該組織中具有下列何項發展優勢？

- (A)礦產較多 (B)土地較大  
 (C)工資較低 (D)資金充足。

23.( ) 巴西首都為巴西利亞，其氣候類型如附圖所示。請問：當地應該屬於何種氣候類型？




- (A)熱帶雨林氣候 (B)熱帶莽原氣候  
 (C)溫帶地中海型氣候 (D)高地氣候。

## 二、題組題(每題 2.5 分，共 42.5 分)

※北美洲農產主要以市場銷售為導向，屬於「商業性農業」的經營方式，是世界主要的糧食輸出國，請回答24~26題：

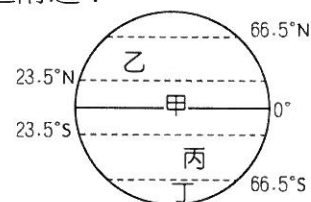
- 24.( ) 北美洲農業的耕作方式屬於？  
 (A)集約農業 (B)粗放農業 (C)精緻農業。
- 25.( ) 北美洲農業的經營特色為？  
 (A)小規模、自給自足 (B)大規模、勞力密集  
 (C)大規模、商品化。
- 26.( ) 北美洲的農業型態，採大規模種植單一作物，可能有何風險？  
 (A)勞力不足 (B)生產過盛 (C)總產量降低。

※圖(一)是亞馬孫河流域土地開發的經過。請問27~29題：



▲圖(一)

27.( ) 亞馬孫熱帶雨林被稱為「地球之肺」，對於地球的自然環境相當重要。請問：這片熱帶雨林多分布於圖(二)中哪一地區附近？



▲圖(二)

- (A)甲 (B)乙 (C)丙 (D)丁。

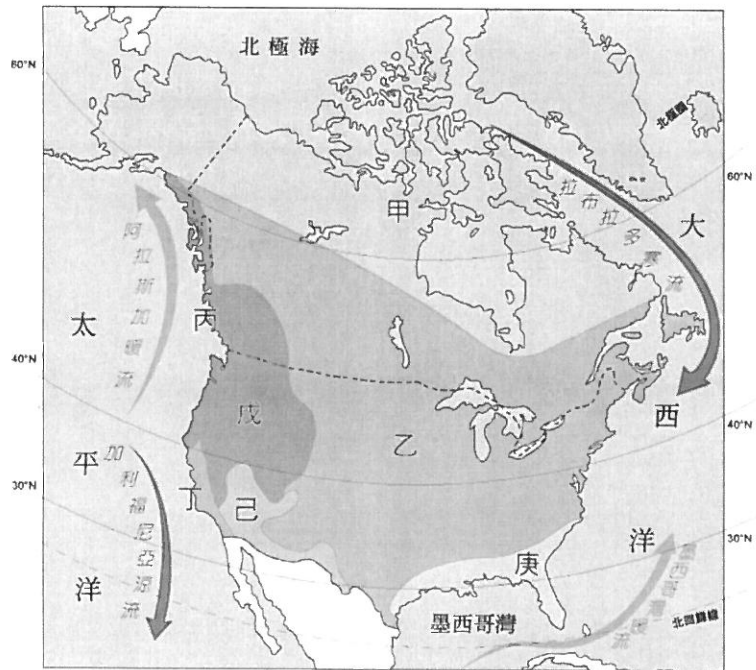
28.( ) 圖(一)中亞馬孫雨林的大規模開發，對自然生態造成嚴重破壞。請問：當地居民砍伐雨林的最主要原因為何？

- (A)人口暴增 (B)防治蚊蟲  
 (C)缺乏水源 (D)溼熱多雨。

29.( ) 圖(一)中可以見到林木被砍伐後，當地居民闢建大規模的農園來發展經濟。請問：當地農園的作物應該為何？ (A)小麥 (B)葡萄 (C)咖啡 (D)棉花。

~請接下一頁~

※請依據下圖，回答 30~33 題。



▲北美洲氣候類型分布圖

- 30.( ) 依上圖判斷，北美洲主要以下列哪一種氣候類型為主，面積最廣？  
 (A)熱帶 (B)副熱帶 (C)溫帶 (D)寒帶。
- 31.( ) 北美洲的溫帶大陸性氣候最主要位於下列何處？  
 (A)甲 (B)乙 (C)丙 (D)戊。
- 32.( ) 溫帶海洋性氣候溫和溼潤，全年有雨、年溫差小、相當適宜人居。請問：該氣候類型的分布地區通常位於下列何處？ (A)甲 (B)乙 (C)丙 (D)丁。
- 33.( ) 美國加州的氣候屬溫帶地中海型氣候，適合葡萄生長，使加州的葡萄和葡萄酒產量居全美第一。請問加州位於圖中何處？  
 (A)乙 (B)丁 (C)己 (D)戊。

※請閱讀下列文章，回答34~36題：


某非營利組織曾指控某家連鎖咖啡是剝削哥倫比亞咖啡貧農的幕後黑手。該組織推出一幅平面廣告，裡頭用了兩張對比圖片：一張是個背對鏡頭、穿西裝、抬腿放窗邊的白人上班族，他的臺詞是：「○○咖啡有一整隊的律師，保證該公司的名譽不被損害。」一張是個正對鏡頭、上了年紀的印第安老人，他的臺詞是：「哥倫比亞咖啡農民有的是你們。」

該組織認為：「現在發展熱帶栽培業的國家多面臨糧食不足、貧窮問題，歐美人想要救濟他們，可是一想到，如果讓他們工業化，就沒有便宜的咖啡可以喝；如果他們不從事熱帶栽培業，巧克力的價格可能就要翻漲好幾倍，許多人就不願繼續伸出援手了……。」

- 34.( ) 哥倫比亞位在南美洲北端，其適合種植咖啡，與下列哪種因素的關係最密切？ (A)海拔高度 (B)雨量多寡 (C)農民素質 (D)緯度高低。
- 35.( ) 造成「現在發展熱帶栽培業的國家多面臨糧食不足、貧窮問題」的原因，與下列哪項敘述較無關聯？  
 (A)土地分配不均 (B)作物過度單一  
 (C)氣候條件欠佳 (D)經濟依賴他國。

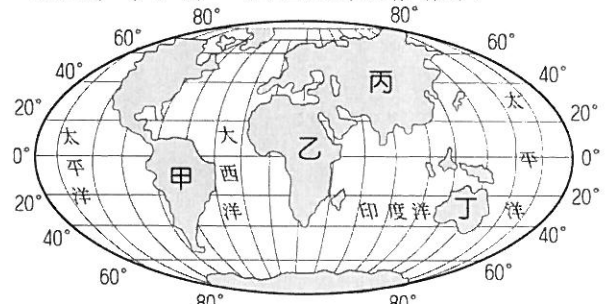
- 36.( ) 熱帶栽培業除了咖啡、可可等作物外，下列何者亦為該產業的重要產物？  
 (A)小麥 (B)橄欖 (C)棉花 (D)甘蔗。

※美國被稱為民族拼盤，世界各地的不同民族來到這片新大陸，開創屬於自己的天地，圖(一)為《美國族群研究》一書中提及的主要族群。請問37~40題：



▲圖(一)

- 37.( ) 美國境內族群多元，圖(一)中甲圖的美國原住民為何？  
 (A)印第安人 (B)拉丁人  
 (C)黑人 (D)盎格魯撒克遜人。
- 38.( ) 圖(一)的乙圖為 15、16 世紀地理大發現時期，遠渡重洋到美洲的歐洲人，他們航行至美國的路途中，會遇到何種風向的逆風？  
 (A)東風 (B)西風 (C)北風 (D)南風。
- 39.( ) 美國南方曾利用圖(一)丙圖中的黑奴種植棉花，以生產大量的農產品出口歐洲。請問：這些黑奴當時多從圖(二)中哪一個地區來到美國？



▲圖(二)

- (A)甲 (B)乙 (C)丙 (D)丁。
- 40.( ) 圖(一)中丁圖為清代的中國漢人準備搭船到美國討生活的情形。請問：這些漢人必須航行通過哪一個海洋才可抵達美國？  
 (A)大西洋 (B)太平洋  
 (C)印度洋 (D)阿拉伯海。

~題目結束~

