

溫馨小提醒：請以 2B 鉛筆在答案卡上作答，如劃記個人資料有誤，將扣個人成績 5 分

科目代號：06

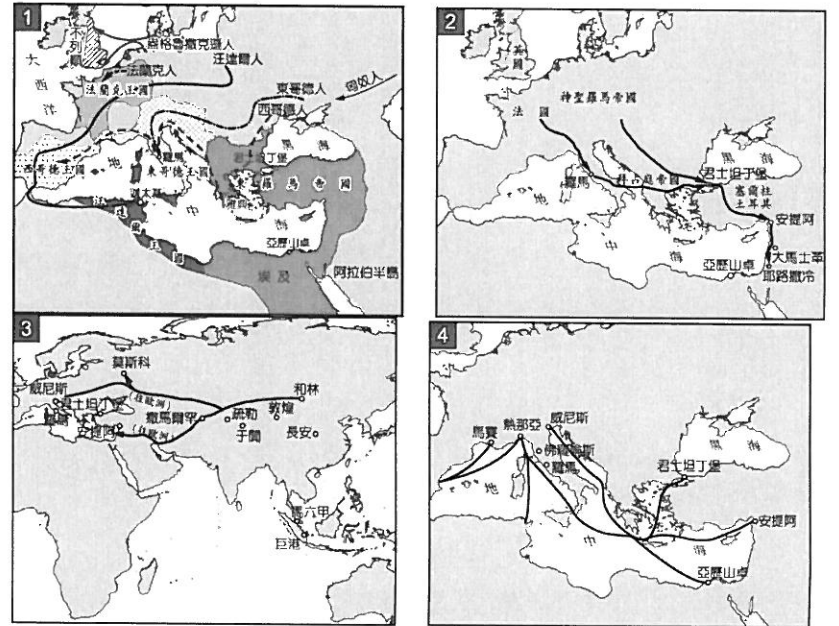
共 40 題，每題 2.5 分，共 100 分

一、單一選擇題

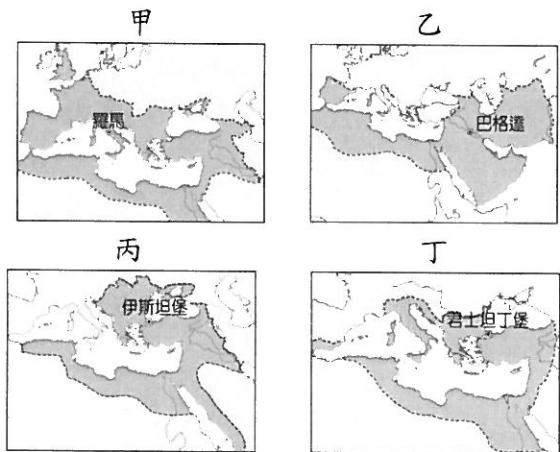
1. ( )下列哪一項是中世紀西歐莊園經濟的最大特色？  
(A)工商業發達 (B)自給自足的生活型態  
(C)貿易盛行 (D)土地可自由買賣。
2. ( )中國西周與中世紀西歐的封建制度，兩者最大的差異為下列何者？  
(A)西周有貴族，歐洲則沒有  
(B)西周的封建制度建立在血緣關係上，歐洲則建立在契約的關係上  
(C)西周的農民擁有自己的土地，歐洲農民則必須為領主耕種  
(D)西周實施三田制，西歐實施井田制。
3. ( )斯拉夫民族原居於現今波蘭東南部一帶，主要分布在東歐與俄羅斯等地，這些地區的斯拉夫人受到拜占庭帝國影響，信奉下列哪一宗教？  
(A)祆教 (B)伊斯蘭教  
(C)天主教 (D)希臘正教。
4. ( )西羅馬帝國於西元 476 年滅亡後，東羅馬帝國直到西元 1453 年才被哪一民族所滅？  
(A)日耳曼人 (B)阿拉伯人  
(C)鄂圖曼土耳其人 (D)波斯人。
5. ( )查士丁尼大帝被認為是一位「不眠的皇帝」，他親自管理許多事情，並多次對外發動戰爭，收復失土。請問：他是下列哪一帝國的君主？  
(A)西羅馬帝國 (B)拜占庭帝國  
(C)神聖羅馬帝國 (D)查理曼帝國。
6. ( )基督教的第一次大分裂，其實就是哪兩方勢力對抗的結果？  
(A)羅馬教宗與拜占庭皇帝  
(B)拜占庭皇帝與法蘭克國王  
(C)羅馬教宗與法蘭克國王  
(D)拜占庭皇帝與阿拉伯人。
7. ( )聖索菲亞大教堂現今是座博物館，館內的收藏主要是希臘正教與伊斯蘭教的文物，為哪兩個政權的統治作見證？  
(A)羅馬帝國、阿拉伯帝國  
(B)西羅馬帝國、東羅馬帝國  
(C)東羅馬帝國、鄂圖曼土耳其帝國  
(D)神聖羅馬帝國、鄂圖曼土耳其帝國。
8. ( )中世紀後期，歐洲商人從何者的身上學到了支票、股份公司等商業制度，有助於歐洲商業活動的進一步發展？  
(A)中國僧侶 (B)阿拉伯商人  
(C)印度商人 (D)日耳曼人。
9. ( )中世紀時期，伊斯蘭勢力橫掃歐、亞、非三洲。請問：伊斯蘭教興起於何地？  
(A)巴爾幹半島 (B)伊比利半島  
(C)阿拉伯半島 (D)義大利半島。
10. ( )軒哲看到電視節目介紹西班牙南部旅遊行程，影片中看到雄偉的清真寺建築感到百思不解。請問：西班牙之所以會出現清真寺建築，應該是由於西班牙曾被哪一政權所統治？  
(A)阿拉伯帝國 (B)塞爾柱土耳其帝國  
(C)鄂圖曼土耳其帝國 (D)西羅馬帝國。
11. ( )嘉鴻即將代表嘉興國中去義大利比賽巧固球，在《義大利旅遊指南》中發現中世紀時期帽業同業公會標誌，歷史老師向他解釋中世紀後期的歐洲商業活動逐漸發展，商人為了互助和保障權利，會組織一種自治團體來管理。請問：此種自治團體的名稱為何？  
(A)公行 (B)行會 (C)商幫 (D)莊園。
12. ( )中世紀後期，歐洲農業進步、商業復甦、城市興起，人口呈現穩定成長。然而 14 世紀中期，歐洲人口卻突然大量減少，對社會發展產生重大影響。下列哪一項是造成當時人口銳減的最主要原因？  
(A)戰爭 (B)移民 (C)鼠疫 (D)饑荒。
13. ( )文藝復興的原意是古典文化的再生與創造力的復興，其中的「古典文化」是指下列何者？  
(A)西亞、埃及文化 (B)佛教、伊斯蘭文化  
(C)中國的儒家文化 (D)古希臘與羅馬文化。
14. ( )佩脫拉克說：「我自己是凡人，我只求凡人的幸福。」這句話充分表現出文藝復興時期盛行的哪一種思想？  
(A)神權主義 (B)人文主義  
(C)自由主義 (D)民族主義。
15. ( )中世紀晚期，東西貿易日益頻繁，城市與市民階級逐漸興起，促成文藝復興運動。這些現象最早發生在歐洲的哪一個地方？  
(A)英國 (B)巴爾幹半島  
(C)伊比利半島 (D)義大利半島。
16. ( )旭賢看到一本西方政治學的經典書籍內容有這麼一句話：「一個君王為了保住權位，必須要做到『為達目的，不擇手段』，並且明白何時該用，何時不該用。」請問：此書應為下列何者？  
(A)《神曲》 (B)《十日談》  
(C)《君王論》 (D)《唐吉訶德》。
17. ( )西元 1469 年，伊比利半島北部的卡斯提爾女王伊莎貝拉一世與亞拉岡國王斐迪南二世聯姻，奠定了哪個國家統一的基礎？  
(A)西班牙 (B)葡萄牙 (C)荷蘭 (D)英國

18. ( ) 昱祈在玩一款以中世紀後期西歐為時代背景的遊戲時，發現有一個人物角色是這樣形容的：「激起戰敗法國的士氣，帶領法國重創英軍，並造成將英國勢力趕出法國本土的巨大勝利。」請問：此人物角色是指下列何人？  
 (A) 馬基維利 (B) 查士丁尼  
 (C) 聖女貞德 (D) 哥倫布。
19. ( ) 西方最早從事地理大發現的國家為何？  
 (A) 英國、法國 (B) 挪威、丹麥  
 (C) 西班牙、葡萄牙 (D) 德國、義大利。
20. ( ) 西方的歷史由「地中海時代」變為「大西洋時代」，此轉變是由於哪一事件的發生？  
 (A) 日耳曼民族大遷徙  
 (B) 伊斯蘭教勢力退出伊比利半島  
 (C) 地理大發現  
 (D) 英法百年戰爭。
21. ( ) 宗教改革之後新教派紛立，其中哪一派的教義主張勤儉，以努力工作以榮耀上帝，並受到工商業者的歡迎？  
 (A) 路德教派 (B) 喀爾文教派  
 (C) 英國國教派 (D) 希臘正教。
22. ( ) 英國國教派的創立者亨利八世和教廷決裂，另外創立新教派的主因為何？  
 (A) 財政問題 (B) 婚姻問題  
 (C) 教義問題 (D) 封地問題。
23. ( ) 他將整部《聖經》翻譯成德語，讓所有人民能自己閱讀《聖經》，了解上帝的言語並直接與上帝溝通，抗拒著教宗的權威。這位歷史人物是誰？  
 (A) 馬丁路德 (B) 亨利八世  
 (C) 喀爾文 (D) 羅耀拉。
24. ( ) 這個教派在宗教改革之後成立，執行工作時皆以教廷的指示為原則，而且該教派的傳教士遍及非洲、美洲、日本與中國，創辦數以百計的大學與研習會。由上述內容判斷，這應是哪一宗教組織？  
 (A) 路德教派 (B) 喀爾文教派  
 (C) 耶穌會 (D) 長老教會。
25. ( ) 基督教發展史上的兩次分裂，各發生於何時？  
 (A) 西元 9、14 世紀 (B) 西元 12、15 世紀  
 (C) 西元 11、16 世紀 (D) 西元 12、17 世紀。
26. ( ) 地理大發現後，歐洲國家從事海外拓殖活動，後來在西元 17 世紀時，哪兩個歐洲國家曾經占領過臺灣？  
 (A) 英國、法國 (B) 荷蘭、西班牙  
 (C) 荷蘭、葡萄牙 (D) 西班牙、葡萄牙。
27. ( ) 東法蘭克國王統治日耳曼，以羅馬帝國的繼承者自居，對內伸張王權，對外遠征義大利，西元 962 年教宗為其加冕為帝的是誰？ (A) 查士丁尼 (B) 查理曼 (C) 鄂圖一世 (D) 屋大維。

28. ( ) 「達文西曾為米蘭市畫了一幅《最後的晚餐》，日後成為這座城市的鎮市之寶。……米開朗基羅與拉斐爾兩人的藝術作品，則被收藏在羅馬教廷與佛羅倫斯幾座美術館中，被政府視為國寶。」根據上文的敘述來判斷，如果要親眼目睹這些偉大作品的真蹟，應該要到下列哪個國家？  
 (A) 英國 (B) 法國  
 (C) 義大利 (D) 西班牙。
29. ( ) 延丞同學想要撰寫「11 到 15 世紀的歐亞兩洲交流活動」的報告，請問：附圖四張圖中，哪張與他準備撰寫的主題密切無關？(A) 1 (B) 2 (C) 3 (D) 4。



30. ( ) 世界史上曾出現過數個橫跨歐、亞、非三洲的帝國，以下分別是這些帝國的疆域圖：




- 請問：按照帝國建立的時間先後順序加以排列應為 (A) 甲乙丙丁 (B) 丙乙丁甲  
 (C) 甲丁乙丙 (D) 丁甲乙丙。

## 二、題組

- (一) 中外歷史上皆曾出現北方民族大舉南下，紛紛建立國家，形成社會動盪不安的紛亂局面。請問：
31. ( ) 西元 4~5 世紀，北方民族大舉南下，各促成中國與歐洲的哪一政權瓦解？  
 (A) 西晉、西羅馬帝國  
 (B) 東晉、東羅馬帝國  
 (C) 西漢、亞歷山大帝國  
 (D) 東漢、查理曼帝國。

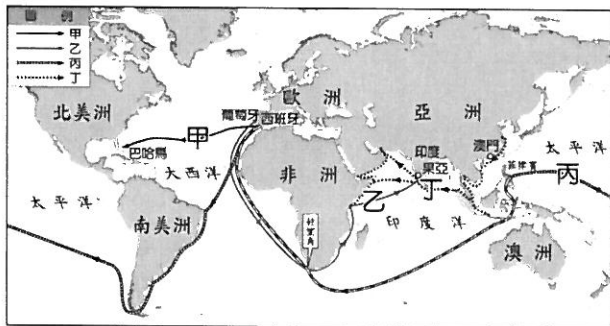
32. ( ) 承第(31)題，從中國與歐洲北方大舉南下的民族，其勢力最大者各是何者？  
 (A) 氐、西哥德 (B) 匈奴、法蘭克  
 (C) 羌、東哥德 (D) 羯、汪達爾。
33. ( ) 導致原居住在歐洲北方的民族，紛紛向外遷徙的最大原因為何？  
 (A) 被氣候寒冷所逼迫  
 (B) 是有計畫性的自然遷徙  
 (C) 漢朝大舉北伐匈奴，受匈奴西遷的逼迫  
 (D) 唐朝北伐突厥，受突厥西走歐洲的牽動。

(二) 11世紀末，附圖這支隊伍懷抱信心與使命感，即將出發。請問：



34. ( ) 由圖中內容判斷，這應是在描述哪一次軍事行動？  
 (A) 亞歷山大東征 (B) 查士丁尼西征  
 (C) 十字軍東征 (D) 蒙古西征。
35. ( ) 此次的軍事行動，討伐的對象是下列何者？  
 (A) 鄂圖曼土耳其人 (B) 塞爾柱土耳其人  
 (C) 阿拉伯人 (D) 日耳曼人。
36. ( ) 此次行動最具有意義的影響是下列何者？  
 (A) 促進東西文化交流 (B) 封建制度形成  
 (C) 工商業衰落 (D) 伊斯蘭教傳入歐洲

(三) 15世紀以來，歐洲諸國紛紛轉向海外發展，並且各自獲得極大的成果。試根據附圖的新航線路線圖回答下列問題：



37. ( ) 西方人捨棄地中海航線，開始往大西洋去尋找新航路，主要是因為受到下列何事的影響？  
 (A) 鄂圖曼土耳其帝國滅拜占庭帝國  
 (B) 日耳曼人滅西羅馬帝國  
 (C) 鄭和下西洋  
 (D) 神聖羅馬帝國興起。
38. ( ) 圖中，發現甲航線但終生都以為他所抵達的地方是印度的探險家是誰？  
 (A) 麥哲倫 (B) 達伽馬  
 (C) 哥倫布 (D) 狄亞士。

39. ( ) 圖中，發現丙航線，但探險旅程進行到太平洋上就喪生於當地的探險家是誰？  
 (A) 麥哲倫 (B) 達伽馬  
 (C) 哥倫布 (D) 狄亞士。
40. ( ) 圖中，在葡萄牙王室支持下發現乙航線的探險家是誰？  
 (A) 麥哲倫 (B) 達伽馬  
 (C) 哥倫布 (D) 狄亞士。