

高雄市立嘉興國民中學 105 學年度第 1 學期三年級公民科第 2 次段考試題

注意: 1、請將答案畫記在答案卡上, 否則不予計分。畫記不清楚者, 酌扣 5 分。

2、科目代碼【07】

一、單選題(共 28 題, 每題 2.5 分)

1、() 附圖中出現的數字, 其代表的含意應為下列何者?



(A) 生產過程所經歷的流程步驟 (B) 提供產品原料的產地數目 (C) 產品生命週期的排碳量 (D) 製造產品所用的原料種類。

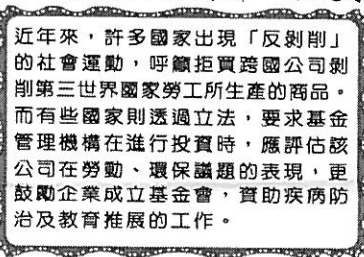
2、() 老師在課堂中說:「企業在行銷活動中, 應做誠實的廣告; 在新技術發展完成後, 若有調整人事的必要, 應對員工實施再訓練以代替解雇。」上述內容可能是在討論跟企業有關的哪一項議題?(A) 行銷技巧(B) 社會責任(C) 風險管理(D) 科技研發。

3、() 若是以企業經營的型態來分類, 附圖中的滷味攤是屬於下列何種型態?



(A) 獨資 (B) 合夥 (C) 股份有限公司 (D) 公辦民營。

4、() 小柔在近看到一篇新聞, 其內容部分節錄如下。根據內容判斷, 該現象最能反映出下列何種意涵?



(A) 全球化風潮使貧富差距更形擴大 (B) 企業經營應兼顧自身的社會責任 (C) 非營利組織的訴求有礙企業獲利 (D) 政府應改善投資環境以利於招商。

5、() 金錢雖不是萬能, 但是卻可以滿足我們在物質上的欲望。下列關於現今普遍使用的「貨幣」, 何者敘述正確?(甲)由民間銀行負責發行(乙)可以解決「以物易物」的缺點(丙)可以用來清償債務(丁)是一種延遲支付花費的工具 (A) 乙丁 (B) 甲丁 (C) 甲丙 (D) 乙丙。

6、() 在經濟活動循環體系中, 對於「生產者」在市場中所扮演的角色, 下列敘述何者正確? (A) 商品市場的商品需求者 (B) 生產要素市場中的生產要素需求者 (C) 商品市場中的消費支出者 (D) 生產要素市場中的生產要素供給者。

7、() 當個人的薪資固定, 而物價卻持續上漲時, 將造成什麼現象? (A) 儲蓄率提高 (B) 貨幣價值提高 (C) 物價指數降低 (D) 生活水準降低。

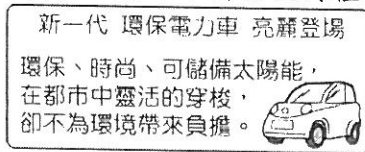
8、() 市場經濟制度的經濟活動, 是由價格機制這隻看不見的手所完成的。請問: 下列何者是由上述「看不見的手」所推動? (A) 全民健保保險費 (B) 菸品健康福利捐 (C) 國際美元行情價 (D) 愛心募款總收入。

9、() 下列何種行為會增加經濟活動循環當中的「銷貨收入」? (A)



10、() 自從食安問題後, 國內速食業者都施行炸油自主檢測, 也都會在店內公布資訊, 但某速食業者被爆出預先填寫「未來」的檢測結果, 而衛生局強調, 不會只相信自主檢測表, 會不定期加強到店內抽查, 只要連續兩次被稽查超標, 最高會開罰 2 億元。根據上述, 下列說法何者正確? (A) 業者的炸油自主檢測具備公信力 (B) 業者公布自主檢測結果是為了提供產品資訊 (C) 預先填寫「未來」的檢測結果是善盡社會責任的表現 (D) 衛生局的罰款屬於刑事處分。

11、()附圖為一家車商所推出的廣告內容，根據此廣告，顯示車商重視何種觀念？

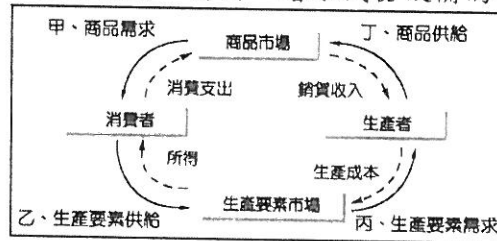


(A)永續發展 (B)投資風險 (C)企業合作 (D)內部管理。

12、()關於經濟發展與環保議題常常面臨互相衝突，下列何者是我國政府與企業想要達成的目標？(A)經濟發展與環境保護的衝突擱置不管 (B)注重環境保護，全面放棄經濟開發 (C)經濟發展優先於環境保護 (D)取得經濟發展與環境保護的平衡。

13、()聯合國指出，目前地表土地僅剩 10% 未受沙漠化影響，但卻要靠這 10% 土地養活全世界 63 億人口。專家擔心這些可耕地逐漸被沙漠吞噬後，長期的食物短缺現象可能愈來愈嚴重。因此世界 197 國共同簽署「沙漠化防治公約」，此公約之制定是希望透過限制什麼活動以達成環境保育的目的？ (A)文化 (B)經濟 (C)政治 (D)休閒。

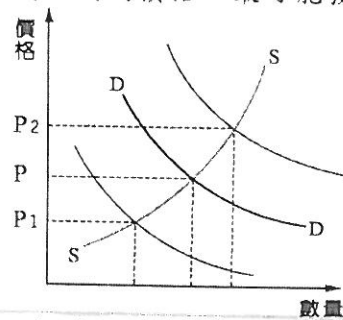
14、()嘉興鋼鐵工廠為了提高生產量，要增添機器設備。請問：增添機器設備的行為，是附圖經濟活動循環簡圖中的哪一項？



(A)甲 (B)乙 (C)丙 (D)丁。

15、()當市場香蕉價格每公斤 350 元時，市場需求量為每月 5 公噸，市場供給量為每月 25 公噸。請問：此時市場出現何種狀況？(A)供不應求 (B)供過於求 (C)市場均衡 (D)物價膨脹。

16、()附圖是某地區豬肉的供給曲線 SS 和需求曲線 DD。近日該地區發生嚴重的雞隻傳染疫情，於是消費者轉而購買豬肉替代。根據上述內容判斷，在其他條件不變的情況下，此時豬肉的價格 P 最可能發生何種變化？



(A)移往 P₁ 方向 (B)移往 P₂ 方向 (C)維持在 P (D)無法預測。

17、()現代的經濟社會，貨幣的使用愈來愈便利，一切的經濟活動都是透過貨幣來表示，稱之為「貨幣經濟」。現代人透過使用貨幣，可以達到一些經濟目的，下列對貨幣功能的敘述，何者是正確的？ (A)阿豐以信用卡刷卡購買鑽戒，這是貨幣價值儲存的功能 (B)阿南的古董摩托車價值 50 萬元，這是貨幣作為交易媒介的功能 (C)老王為女兒開立儲蓄帳戶，作為未來求學的基金，這是貨幣價值衡量的功能 (D)采葺不小心摔壞同學的水壺，以 200 元賠償同學，這是貨幣債務清償的功能。

18、()臺灣在慢活觀念普及與政府大力推展之下，民間吹起一股騎牛車的浪潮，除了代步、休閒、運動的領域，更能結合時尚精品概念，帶來創新思維。依此敘述判斷，牛車在商品市場有何變化？(A)需求增加(B)需求減少(C)供給增加(D)供給減少。

19、()關於企業的型態與投資經營的原則，下列敘述何者正確？ (A)生產者使用各項生產要素時所支付的代價，就是「投資」 (B)股份有限公司的資產若不足承擔虧損時，須以共同經營者的私人財產來支付 (C)企業透過與其他企業合作來增加生產成本 (D)企業透過投資，可以擴充生產規模、提升產品品質、提高生產利潤。

20、()成功的企業除了追求利潤之外，還要善盡社會責任。下列何者並非企業展現社會責任的做法？ (A)煉鋼廠為了降低原料成本，將到貧窮國家增設工廠 (B)設計公司為了員工提供免費運動器材、定期健康檢查、旅遊補助等福利 (C)百貨業者獨家贊助公益團體，舉辦母親節愛心義賣活動 (D)客運公司提出兩大減碳方案，以降低企業運轉對全世界造成的衝擊。

21、()小憶和表妹相約去看電影，兩人各自(甲)花費 250 元。之後她們去逛書店，表妹本來想(乙)以現金 300 元買該電影原著，小憶則建議表妹(丙)以刷卡方式購買，既有優惠又可先享受後付款。表妹認為這樣可以(丁)省下一點錢來儲蓄，於是接受了此項建議。依據上述內容，下列關於貨幣功能的對應關係，何者最正確？ (A)(甲)具有交易媒介性質 (B)(乙)屬價值儲存的方式 (C)(丙)可以衡量商品價值 (D)(丁)展現延期償債特性。

22、()乳製品是紐西蘭最主要外銷品，由於俄羅斯禁止從西方國家進口食品，且中國大陸需求減弱，使全球乳品陷入「甲」的狀況，造成乳品價格「乙」。根據前後文意，「甲」、「乙」分別所指為何？ (A)供過於求、上漲 (B)供過於求、下跌 (C)供不應求、上漲 (D)供不應求、下跌。

23、()對於消費者，企業應該有哪些社會責任？(甲)製造安全、可信賴的產品(乙)誇大不實的廣告行銷(丙)提供完整而正確的產品資訊(丁)回應消費者的抱怨與投訴 (A)甲乙丙 (B)乙丙丁 (C)甲乙丁 (D)甲丙丁。

24、()2009 年聯合國提出「全球綠色新政」來臨，促使各國政府加強再生能源投資。而臺灣已是全球第二大太陽能生產國，我國能源局說，若能鼓勵各方資金投入綠能產業，將能創造綠能產業及金融業的雙贏。請問：上文所敘述的當代趨勢，為下列哪一個主題？ (A)綠色經濟 (B)聚集經濟 (C)跨國經濟 (D)全球經濟。

25、()某企業在商品製造過程中出現差錯，但問題商品已上架，甚至有些消費者已經買回家使用。請問：當遭消費者投訴後，該企業應該如何應對才算盡到社會責任？ (A)撤下瑕疵商品，賠償消費者損失 (B)息事寧人，先設法降低企業損失 (C)隱瞞事

實，將瑕疵品盡快銷售完 (D)不論對錯，均採取法律途徑解決糾紛。

26、()A發納骨塔塔位清倉大拍賣，阿壽和朋友一同去「血拼」，想要刺激國內消費，讓經濟活動循環。下列敘述何者正確？ (A)努力「血拼」購物可以增加生產者的銷貨收入 (B)消費活動與生產活動無關 (C)政府透過各種方式掌控經濟活動 (D)生產者的銷貨收入與企業裁員無關。

27、()附圖內容顯示貨幣的何種功能？



(A)交易媒介 (B)債務清償 (C)價值衡量 (D)價值儲存。

28、()子瑜在市場販售自製的手工鳳梨酥，她想以最科學的方法計算出一盒6個裝的鳳梨酥應該定價在多少錢，因此，她在販售初期採取差別定價，做出如附表的統計表，根據表中資料判斷，子瑜所生產的鳳梨酥最可能定價在多少錢才能達成市場均衡？

價格	供給量	需求量
250 元	100 盒	60 盒
220 元	90 盒	65 盒
190 元	85 盒	77 盒
160 元	70 盒	85 盒
130 元	60 盒	95 盒

(A) 200 元 (B) 190 元 (C) 180 元 (D) 160 元。

二、題組題(共12題，每題2.5分)

(一)、全球綠色金融當紅，配合政府政策，許多銀行推出綠色金融商品，例如：配合經濟部的污染防治設備低利貸款、配合環保署的低碳永續家園專案貸款，以及太陽能產業相關貸款等，只要企業符合相關條件，就提供相關貸款額度。此外，大部分的銀行也倡導客戶使用電子帳單，希望能減少營業用紙。有關調查顯示，我國有71%的消費者願意為「綠色」產品和服務支付10~20%的溢價，未來銀行在推動綠色房貸、綠色車貸、綠色信用卡等產品方面應大有可為。請問：

() (29)根據上文所述，銀行在推出綠色金融商品上，足以顯示何者是綠色經濟的領航者？ (A)銀行 (B)政府 (C)消費大眾 (D)申請貸款的企業。

() (30)根據上文所述，大部分的銀行倡導客戶使用電子帳單，主要是為了達成哪一種目標？ (A)節能減碳 (B)減少交易時間 (C)減少生產成本 (D)增加企業競爭力。

() (31)根據文末的調查結果顯示，我國大部分的消費者在選購商品時，呈現哪一種趨勢？ (A)願意購買價格較低的商品 (B)願意購買品質保證的商品 (C)願意購買對環境傷害較少的商品 (D)願意購買消耗較多二氧化碳的商品。

(二)、簡阿姨因年紀過大，沒有老闆願意聘請她，自己便經營香燭店以貼補家用，而為了購置生財器具及租借店面，還付出了一筆費用。請問：

() (32)簡阿姨在經濟活動循環中所扮演的角色為生產者，若她將商品出售給鄰居，所得到的報酬稱為什麼？ (A)生產成本 (B)利潤 (C)消費支出 (D)銷貨收入。

() (33)依上文所述，上個月找工作的簡阿姨當時在生產要素市場中扮演的是什麼角色？ (A)供給者 (B)需求者 (C)消費者 (D)失業者。

() (34)依上文所述，簡阿姨購置生財器具及租借店面所付出的代價稱為什麼？ (A)所得 (B)利潤 (C)銷貨收入 (D)生產成本。

(三)、魯蛇因工作忙碌，因此常在網路上購買日常生活用品。請問：

() (35)魯蛇在網站上看到一件燈具售價450元，覺得很便宜，正在考慮要不要購買。上述顯示貨幣的何種功能？ (A)交易媒介 (B)價值儲存 (C)價值衡量 (D)債務清償。

() (36)賣家與魯蛇約定，以法定貨幣進行交易，因此魯蛇應以何種方式支付貨款？ (A)使用信用卡 (B)給予等值黃金 (C)以物易物 (D)支付新臺幣。

(四)、永澤和朋友共同出資，在知名網拍平臺上開設洋蔥專賣店，並租下廣告版面，以宣傳店內商品。請問：

() (37)永澤和朋友開設的洋蔥專賣店，依據資金來源和盈虧風險，屬於何種企業經營型態？ (A)獨資 (B)股份有限公司 (C)賣場 (D)合夥。

() (38)若洋蔥專賣店的資產不足以承擔虧損時，虧損應該如何解決？ (A)僅由永澤的私人財產支付 (B)由所有出資者的私人財產支付 (C)由出資者當中任一人的私人財產支付 (D)任何人均不需負責虧損的部分。

(五)、40歲的野口向銀行貸款600萬元，將自家一樓裝修成葬儀社，開始做生意。請問：

() (39)下列哪一項屬於投資行為的表現？ (A)友人贈送開幕花牌 (B)野口向題組(二)中的簡阿姨訂購元寶蠟燭 (C)家人贊助2個A發納骨塔塔位 (D)客人要求舉辦超度法會。

() (40)每個禮拜，野口都會選出服務態度最好的店員，給予實質獎勵，因此店員們的優質服務一直為客人們所讚賞。請問：上述顯示野口對何種企業經營原則的善用？ (A)內部管理 (B)企業合作 (C)合夥經營 (D)風險管理。