

高雄市立嘉興國中105學年度第一學期一年級歷史科第一次段考 ____年 ____班 座號：____ 姓名：_____

科目代碼:06

共40題 每題配分2.5分

※同學畫卡時，請使用2B鉛筆，並細心檢查科目、班級、座號等資訊，是否正確。若答案卡上方，個人資訊畫卡有誤，將扣段考分數5分。

一、選擇：

1. () 若以「文字的有無」作為劃分之依據，我們可以簡略的將人類歷史分為哪兩個時期？(A)史前時代、歷史時代 (B)考古時代、石器時代 (C)石器時代、金屬器時代 (D)史前時代、石器時代。
2. () 善允在書上看到一段文章如下：「在離家不遠處找一塊地，將樹林砍掉後以火焚燒，利用灰燼作為肥料。土地肥沃，可豐收。二至三年後，土地利用的差不多了，再換一處土地砍林燒樹，周而復始。」請問上述文章最可能出現在下列哪一原住民族的文化介紹中？(A)鄒族 (B)達悟族 (C)平埔族 (D)泰雅族。
3. () 根據下文線索，請問此應為哪一史前文化？(A)長濱文化 (B)卑南文化 (C)十三行文化 (D)圓山文化。

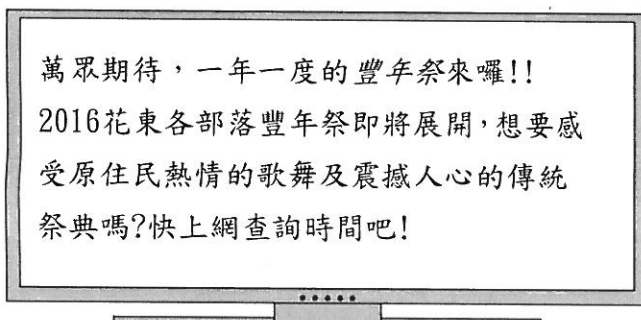
線索一：

石器不多，已使用金銀銅鐵等金屬器。使用陶器，且質地堅硬，十分之九為紅褐色夾砂陶，形狀多以罐、瓶、鉢或盆為主。

線索二：

有骨頭所製成的角器，遺物中亦有瑪瑙珠、玻璃製品及漢人銅錢。除了數量不一的陪葬品外，行側身屈肢葬。

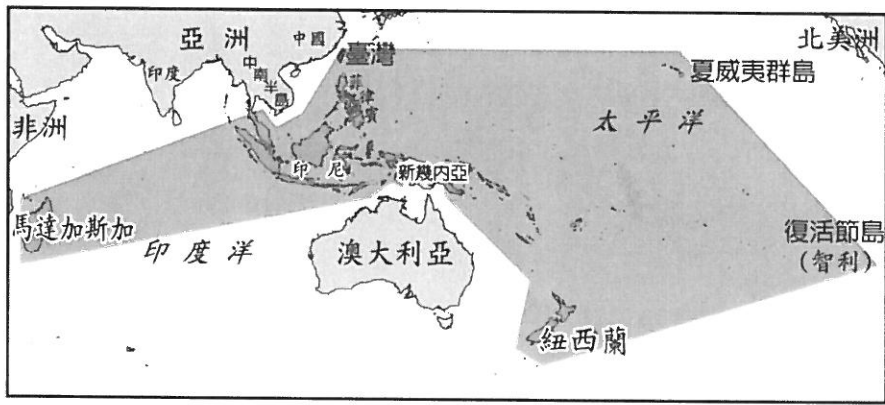
4. () 根據附圖中的電視廣告，以下這則新聞所述之原住民族群，最可能為下列何者？(A)阿美族 (B)排灣族 (C)賽夏族 (D)西拉雅族。



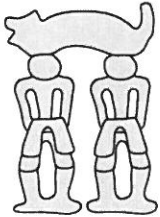
5. () 距今七千年前，臺灣普遍存在著新石器時代各個不同階段及不同類型的文化。請問：從舊石器時代進入新石器時代，其判斷的標準為何？(A)開始吃熟食 (B)使用磨製石器 (C)過著漁獵生活 (D)使用鐵製工具。
6. () 一年二班的歷史劇表演主題為「原始人的一天」，其中一段「清晨一大早，詠樺用心的幫大家縫補破掉的獸皮衣，政宏和勝一到田邊除草，桀森則一人獨自去打獵，順道拿陶罐去河邊裝水回來給大家飲用。」請問上述所設定的歷史背景應為下列哪一時期？(A)歷史時代 (B)舊石器時代 (C)新石器時代 (D)金屬器時代。
7. () 清領時期，清朝政府依原住民是否薙髮、納稅及服勞役，而將原住民區分為哪兩種？(A)高山族、平埔族 (B)山地同胞、平地同胞 (C)高山原住民、平地原住民 (D)生番、熟番。
8. () 今澎湖縣天后宮內存有一古碑，上面刻有「沈有容諭退紅毛番韋麻郎等」的字樣，幾位同學在歷史課討論，下列何者敘述正確？(A)此事應發生在13世紀 (B)沈有容為中國明朝將領 (C)此時澎湖和臺灣皆為中國版圖 (D)「紅毛」應是指葡萄牙人。
9. () 暑期旅遊時，均皓與同學參訪了一間臺澎地區歷史最悠久的媽祖廟，此廟宇建立於明朝後期，裡面仍保存有古老的歷史石碑。請問依其敘述，此廟宇應位於下列何地？(A)澎湖 (B)北港 (C)臺南 (D)高雄。
10. () 書上一段話所述：「貝塚為此文化的最大特色，貝殼種類有烏蜆、牡蠣等，屬於半淡水半鹹水的貝類。顯示此處的湖泊淡鹹水交雜。又依貝塚所保存下來的食物殘渣推測，人類已能撈貝、漁獵並耕種。」請問上述所指稱的史前文化應為下列何者？(A)大坵坑文化 (B)卑南文化 (C)十三行文化 (D)圓山文化。
11. () 明朝的顧炎武曾寫道：「澎湖一島，在彰泉遠洋之外。……自是常為盜賊假息淵藪。倭寇往來，停泊取水必經之要害。」對於上述文字，下列哪一解釋正確？(A)澎湖的地理位置不佳，導致盜賊喜躲藏在澎湖 (B)明朝政府為解決盜賊問題，首在澎湖設巡檢司 (C)日本人佔據澎湖做為貿易據點，明朝政府無暇管理 (D)海禁政策鬆弛，澎湖成為走私、貿易的場所。

背面有題目

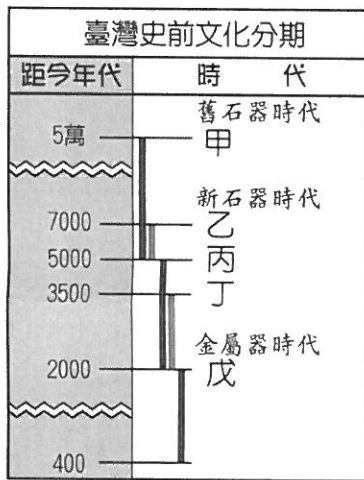
12. () 附圖是全球南島語系分布圖。根據此圖判斷，下列哪一族群不屬於南島語族？(A)馬達加斯加的原住民 (B)北美洲的印地安人 (C)臺灣原住民 (D)紐西蘭毛利人。



13. () 柏霖參觀臺東某一博物館時，見到珍貴的「人獸形玉質耳飾」(如下圖)，並看到許多石板棺。請問：這是臺灣哪一個史前文化遺址所出土的器物？(A)十三行文化 (B)卑南文化 (C)大坌坑文化 (D)圓山文化。



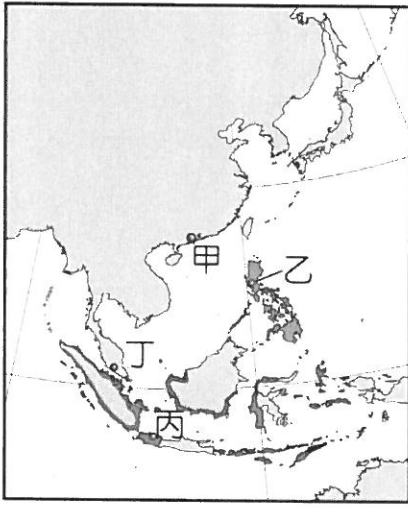
14. () 附圖是臺灣史前文化分期示意圖，根據圖中所示，甲的部分應是屬於下列哪個文化分期？(A)大坌坑文化 (B)長濱文化 (C)牛罵頭文化 (D)十三行文化。



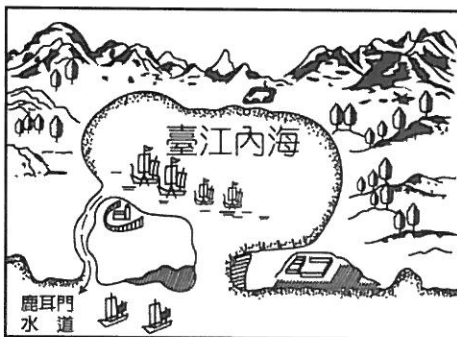
15. () 荷蘭聯合東印度公司(VOC)得到荷蘭政府的授權，可獨佔海上貿易，亦可以以國家名義設置軍隊。對外更可宣戰、締結合約，亦可任命官員統治殖民地。請問荷蘭聯合東印度公司的亞洲貿易總部位於何處？(A)澳門 (B)馬尼拉 (C)巴達維亞 (D)福爾摩沙。
16. () 于禎看到電視新聞，臺北有一場大型的遊行活動，遊行地點最終抵達的集合點為總統府前的大馬路。而這條馬路的命名，是為了紀念曾在臺北盆地居住的平埔族，此一平埔族為何？(A)凱達格蘭族 (B)巴則海族 (C)噶瑪蘭族 (D)西拉雅族。
17. () 下列哪一族群沒有階級組織，但卻有與經濟生活息息相關的漁團組織，成員有造船、修船和漁獵的義務，也有平分漁獲的權利？(A)達悟族 (B)布農族 (C)卑南族 (D)賽夏族。
18. () 在臺灣居住的高山族中，部分家族制度為母系社會，請問下列為母系社會的有哪些？甲：泰雅族 乙：布農族 丙：阿美族 丁：卑南族 (A)甲乙 (B)乙丙 (C)丙丁 (D)甲丁。
19. () 西元1597年，有一封呈報給國王的信中寫到：「我們希望占領福爾摩沙的這個港口，最迫切的理由是為了確保菲律賓的安全。因為……日本企圖奪取這個港口以進占馬尼拉，我們要確保菲律賓的安全就必須擁有這個港口。」由上述背景判斷，這封書信最可能是呈報給哪一國國王？(A)荷蘭 (B)英國 (C)美國 (D)西班牙。
20. () 百廷和威霖決定參加騎單車環島活動，路途中他們經過了雲林縣北港鎮，看到一個紀念碑。此一紀念碑人物為17世紀的海盜，曾率眾到雲林從事開墾活動，並經營貿易。請問：此一紀念碑上的歷史人物應為何人？(A)鄭成功 (B)顏思齊 (C)沈有容 (D)鄭芝龍。
21. () 西班牙人占據臺灣北部雞籠、淡水一帶，主要的目的是傳教與貿易。請問：西班牙人傳播的是哪一種宗教？(A)天主教 (B)道教 (C)佛教 (D)基督教。

接續下頁

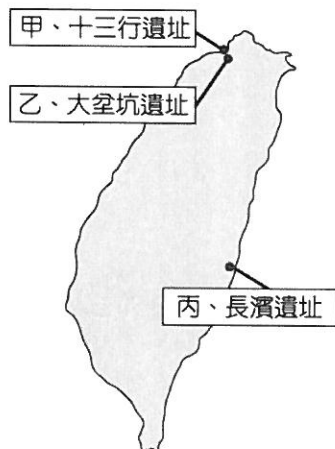
22. () 附圖是 17 世紀歐洲人在東亞的重要貿易據點分布圖。請問：圖中丙地應是哪一國家的據點？(A)荷蘭 (B)葡萄牙 (C)西班牙 (D)美國。



23. () 有位學者認為，十七世紀興盛的航海活動，是全球經濟網路形成的第一步。在這波浪潮中，臺灣扮演了什麼樣的角色？(A)中國對外通商的出口港 (B)漢人移民南洋的轉運點 (C)英國對華交易的根據地 (D)東亞國際貿易的中繼站。
24. () 臺灣的原住民中，有些族群實行贅婚制，這應該是在哪一種社會組織中的現象？(A)父系社會 (B)母系社會 (C)貴族社會 (D)平民社會。
25. () 俊德生活在舊石器時代，請問下列哪一選項不符合他生活的時代背景？(A)居住在山洞中 (B)能烹煮鹿肉 (C)採集水果食用 (D)使用鐵製農具。
26. () 臺灣原住民中，達悟族文化獨具特色，設計精美的獨木舟令人讚嘆。若想了解其民俗文化，應前往臺灣近海的哪一個島嶼去查訪？(A)澎湖 (B)綠島 (C)蘭嶼 (D)馬祖。
27. () 12 世紀時，已有漢人移居澎湖。13 世紀後期，元代曾在澎湖設立哪一機構，加強治安管理？(A)澎湖縣 (B)臺灣省 (C)巡檢司 (D)澎湖村。
28. () 原住民有豐富的祭典及禮儀，請問下列為卑南族男子成年時須舉行參與的祭儀？(A)豐年祭 (B)猴祭 (C)矮靈祭 (D)新船下水祭。
29. () 16 世紀，哪一國人因航行到臺灣，看到臺灣的美麗風景，而將臺灣稱為「福爾摩沙」？(A)葡萄牙 (B)西班牙 (C)中國 (D)日本。
30. () 西班牙退出臺灣經營，與下列哪一事件有直接的關係？(A)明朝推展海禁政策 (B)日本實行鎖國政策 (C)中國出兵擊敗荷蘭 (D)葡萄牙人佔領澳門。
31. () 附圖是一幅臺灣古地圖。請問：此圖應該是下列何國的占領地？(A)葡萄牙 (B)西班牙 (C)荷蘭 (D)英國。



32. () 附圖是臺灣三個史前文化遺址的分布圖，若依文化存在年代的先後順序排列，下列何者正確？(A)甲→乙→丙 (B)丙→乙→甲 (C)乙→丙→甲 (D)乙→甲→丙。



背面尚有題目

33. () 怡琇看到家中買了水果有番茄、釋迦，忽然想起歷史課曾學過，這些蔬果屬於外來的農作物。請問最早引進這些作物的外來者為何人？(A)葡萄牙 (B)西班牙 (C)荷蘭 (D)日本。

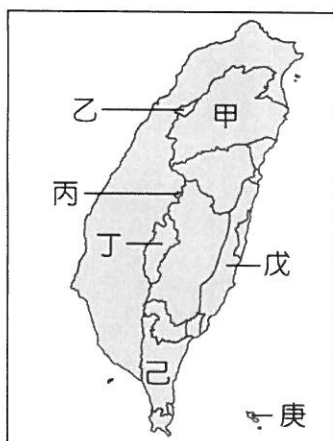
二、題組：

1. 賽夏族的傳說中，古時有矮人協助賽夏族人農耕，矮人唸咒讓土地豐收。但矮人偶會騷擾婦女，導致賽夏族人憤而消滅矮人。活下來的矮人回到村莊施咒，讓日後稻粟歉收。族人擔心亡靈的詛咒，便為了慰藉矮人靈魂而舉辦祭典。請問：

() (34) 上述祭典應為下列何者？

(A) 豐年祭 (B) 新船下水祭 (C) 猴祭 (D) 矮靈祭。

() (35) 請問上述祭典的舉辦地點應在下列何地？(A) 甲 (B) 乙 (C) 丙 (D) 丁。



2. 芳儀與同學在書上看到了某一原住民族的祭祀方式，是以通稱為壺的器具盛水插著澤蘭或甘蔗葉，用檳榔或米酒來祭拜；有的人在自家供奉，大多數則祀奉在公廨。該部族的祭典按舊例常在夜間舉行，由尪姨帶領著大家完成儀式，感念祖先及慰藉祖靈。

() (36) 上述描述為哪一原住民族群？

(A) 泰雅族 (B) 達悟族 (C) 排灣族 (D) 西拉雅族。

() (37) 請問該族對於祖靈的稱呼為何？(A) 玉皇大帝 (B) 阿立祖 (C) 觀世音 (D) 土地公。

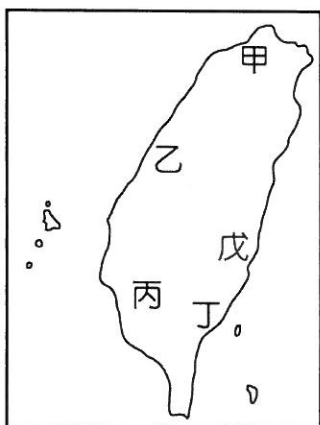
() (38) 若要去參訪此一文化祭儀，請問應在祭典時到臺灣的一區域？(A) 北部 (B) 中部 (C) 南部 (D) 東部。

3. 2016年4月14日臺南新聞，「有近400年歷史的安平古堡，由荷蘭人所建立。今與德國專業清潔集團合作，進行古堡古蹟清洗。從德國來的專業清洗人員用150度的蒸氣，洗去安平古堡的青苔與髒汙，讓磚牆得以延長保存年限。預計半個月的時間可完成。」

() (39) 請問臺南安平古堡在荷據時期，稱為？

(A) 普羅民遮城 (B) 熱蘭遮城 (C) 紅毛城 (D) 聖多明哥城。

() (40) 若想去參觀清洗後的安平古堡，順便到附近的老街吃吃美食，請問應至下列何處？(A) 甲 (B) 乙 (C) 丙 (D) 戊。



試題結束

~請細心檢查，畫卡資訊是否正確~