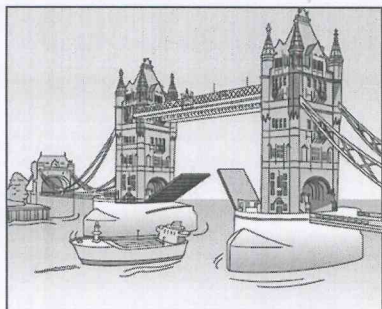



一、選擇題(每題 2.5 分，共 60 分)

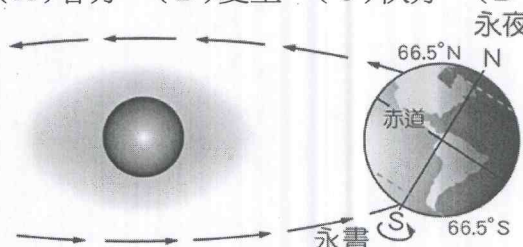
- () 東歐因為哪一種經濟制度的實施缺乏彈性，發展程度普遍不佳，不利於工商活動的進行？
(A)計畫經濟 (B)市場經濟
(C)出口經濟 (D)依賴經濟。
- () 澳洲、紐西蘭位於遙遠的太平洋上，而加拿大與英國也相隔整個大西洋，然而這些國家的元首卻是英國女皇，並為同一個國際組織的會員國。請問：形成該組織的緣由為下列何者？
(A)世界大戰 (B)語言相同
(C)殖民歷史 (D)宗教信仰。
- () 由於北海石油的開發，使得北歐哪些國家能夠積極發展石化工業？(甲)瑞典；(乙)挪威；(丙)冰島；(丁)芬蘭；(戊)丹麥。正確的是：
(A)甲丙 (B)乙戊 (C)丙戊 (D)甲丁。
- () 盧森堡的金融業相當發達，吸引了世界各國的資金。請問：該國有利發展金融業的主要原因為何？
(A)世界重要證券市場 (B)歐洲聯盟總部所在
(C)低稅率的金融政策 (D)港口轉口貿易發達
- () 北歐國家的航運業相當發達，下列有關該地區航運發展的敘述，何者最為正確？
(A)北極圈內港口，冬季可從事航運。
(B)冬季時寒冷結凍，航運集中夏季
(C)受西風吹拂影響，海水溫度較高
(D)珊瑚礁海岸分布，有利船隻航運
- () 某海底隧道在 1994 年通車後，長達五十公里的隧道正式克服了英吉利海峽的天險，從此哪兩國可以直接藉由該運輸路線交流而更加密切？
(A)英國—德國 (B)英國—俄羅斯
(C)英國—法國 (D)英國—義大利。
- () 附圖中的景觀稱為「塔橋」，位於某國的首都。該國是工業革命的發源地；該橋也經常出現在很多好萊塢電影的畫面中。請問：此塔橋所在的城市名稱及橋下的河流名稱何者正確？
(A)巴黎：塞納河 (B)開羅：尼羅河
(C)倫敦：泰晤士河 (D)柏林：萊茵河。
- () 東歐的範圍北起波羅的海，東南濱鄰黑海，分布有許多國家。請問：目前多將這些國家合併畫為同一的地理區最主要的理由為下列何者？
(A)自然環境平坦，往來交通無阻礙
(B)歷史上曾為共產國家，經濟發展狀況相近
(C)多信仰伊斯蘭教，影響生活作息
(D)多為單一群族分布，少有戰亂。
- () 對西歐而言，煤是推動工業革命的大功臣，現今在北海發現石油，更是發展工業不可或缺的重要能源。但因污染嚴重，使西歐各國開始尋求對環境傷害最小的環保能源，請依西歐的自然環境判斷，下列何者最具開發潛力？
(A)太陽能 (B)風力 (C)地熱 (D)核能。



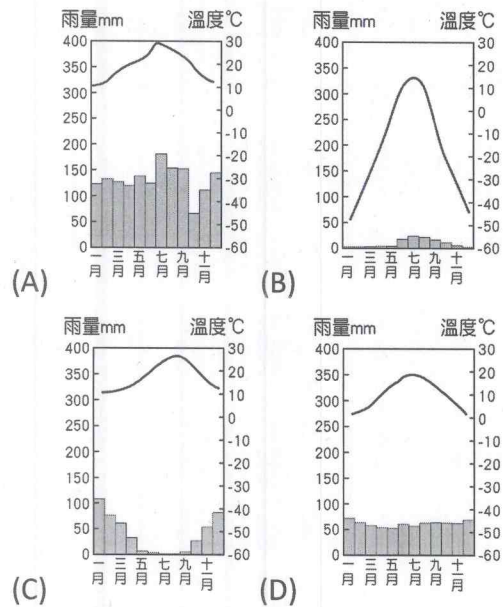
- () 冰島的煉鋁工業相當發達，成為當地重要的收入來源。請問：該地區發展煉鋁最有利的條件為何？
(A)交通便利 (B)動力充足
(C)鋁礦豐富 (D)市場廣大。
- () 附圖為 2013 年的新年音樂盛會宣傳海報，觀眾將可同步看到歐洲哪一城市的知名交響樂團的演奏？
(A)巴黎 (B)布拉格
(C)倫敦 (D)維也納
- () 歐洲許多國家都有別稱來突顯該國的特色，下列哪個別稱所指的國家位在西歐？
(A)千湖國 (B)峽灣之國
(C)歐洲牧場 (D)世界公園。
- () 德國的經濟實力居歐洲之冠，其工業產品以創新和高品質聞名於全世界。請問：德國經濟發展優越和下列哪一項條件無關？
(A)便利的水運網 (B)雄厚的科技能力
(C)豐富的鐵礦資源 (D)實事求是的民族性。
- () 瑞士被稱為「滑雪天堂」，附圖為瑞士境內的滑雪實景。請問：該地區的滑雪場多設於哪一座山脈中？



- (A)中央山脈 (B)喜馬拉雅山
(C)本寧山 (D)阿爾卑斯山。
- () 中國人工運河呈現南北走向，而德國境內人工運河呈現東西走向，造成此種差異的主要原因與何種地理現象密切相關？
(A)緯度位置 (B)雨量分布
(C)地勢起伏 (D)盛行風向。
- () 波蘭位於東歐，下列有關當地的氣候特色敘述，何者最為正確？
(A)年雨量豐 (B)夏乾冬雨
(C)年溫差大 (D)高壓籠罩。
- () 附圖為太陽與地球相對位置示意圖。請問：依圖上資料的特徵，此時為北半球的哪個時段？
(A)春分 (B)夏至 (C)秋分 (D)冬至。
- () 東歐的衝突頻傳，因此又被稱為「歐洲火藥庫」。請問：影響各國紛爭的主要原因不包括下列何者？
(A)戰略地位 (B)族群複雜
(C)石油開採 (D)宗教多元。



19. () 西歐的氣候屬於溫帶海洋性氣候。下列為歐洲四個地區的氣候圖。請問：何者最有可能位在「西歐」地區？



20. () 多瑙河為世界上流經最多國家的河川，且在 1992 年興建了連通萊茵河的運河後，由黑海航入的船隻可藉由河運直達下列哪一個重要的港口入海，航運價值大為增加？

- (A) 荷蘭阿姆斯特丹 (B) 英國倫敦
(C) 德國漢堡 (D) 荷蘭鹿特丹

21. () 某年 7 月 22 日清晨 6 點在瑞典發生了重大竊案，有甲、乙、丙、丁四名嫌疑人涉案，以下是他們的不在場說詞：

甲：『當時我在針葉林裡做早操。』

乙：『我正在泡暖呼呼的溫泉呢！』

丙：『天還沒亮所以我還在賴床中。』

丁：『我正在前往 VOLVO (富豪) 汽車公司上班的途中。』 檢察官根據地理常識，從他們陳述中判斷有兩人說謊，請問哪兩人最可能說謊？

- (A) 甲乙 (B) 乙丙 (C) 丙丁 (D) 甲丁。

22. () 臺灣的鴻海科技集團前往捷克設廠以生產製造相關產品。請問：捷克吸引各國企業進入投資的有利條件中，『不包括』下列何者？

- (A) 資金充足 (B) 工資低廉
(C) 工業基礎佳 (D) 鄰近西歐。

23. () 瑞士以生產的鐘錶產品體積小，可以節省原料進口與產品運輸的成本，主要是因為該國具有下列哪種環境特徵，使得交通運輸較為不便？

- (A) 河川冬季結冰 (B) 地勢崎嶇多山
(C) 缺乏充足勞工 (D) 資金取得不易。

24. () 北歐諸國人民享有高度的生活水準及完善的社會制度，最主要的促成因素為何？

- (A) 隨時調整法律及政治制度
(B) 義務教育普及
(C) 人口密度小，出生率低
(D) 高稅賦制度。

二、題組題(每題 2.5 分，共 40 分)

※西歐與北歐的國家各具特色。附圖為西歐、北歐位置圖，請問 25~31 題：



25. () 人們去倫敦旅遊的時候，前往泰晤士河、大笨鐘、白金漢宮等著名景點時，總不忘要搭乘紅色雙層公車，請問是哪個國家？

- (A) 乙 (B) 丁 (C) 戊 (D) 己。

26. () 萊茵河畔的魯爾工業區是歐洲最大的工業區，原是富含煤礦、鋼鐵工業興盛的地帶，而今現代再生能源技術的發展，已為產業找出新方向，請問是哪個國家？

- (A) 戊 (B) 己 (C) 壬 (D) 癸。

27. () 境內大大小小的湖泊約有 18 萬個，將近三分之二的國土被鬱鬱蔥蔥的森林覆蓋，而有「千湖之國」、「綠色金庫」的美稱，請問是哪個國家？

- (A) 甲 (B) 乙 (C) 丙 (D) 丁。

28. () 新聞快報：「2015 年 11 月 13 日巴黎發生多起恐怖攻擊，在劇院、足球場等場地展開自殺攻擊，造成上百人死亡。該國總統發表談話，宣佈全國進入「緊急狀態」，並同時關閉邊界……。」請問：此報導發生於哪一個國家？(A) 乙 (B) 戊 (C) 己 (D) 庚。

29. () 小瑜到歐洲旅行，到某個國家發現當地土地低溼，並發展酪農業與花卉園藝業，並有特殊的傳統穿著，因此拍下了這張當地傳統穿著的照片(如附圖)。請問：小瑜最可能到哪個國家去旅行？




- (A) 丁 (B) 庚
(C) 辛 (D) 壬。

30. () 小島上有兩百多座的年輕火山，千年不化的冰雪覆蓋地表，還有源源不絕從地下迸出的地熱、溫泉，全球四分之一的鱈魚產自此地，請問是哪個國家？

- (A) 甲 (B) 丁 (C) 戊 (D) 己。

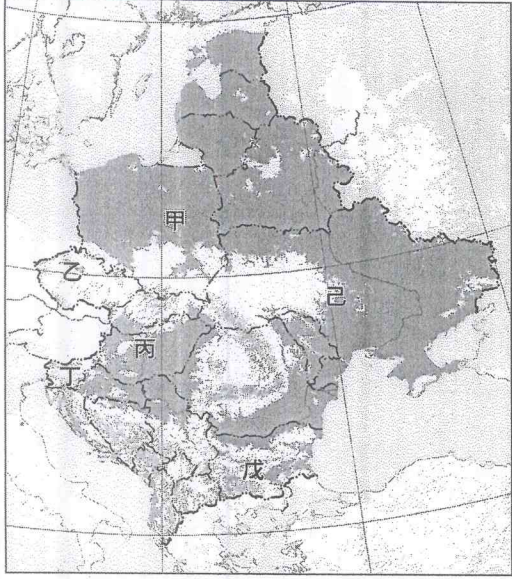
31. () 附圖為哥本哈根的美人魚銅像，當地也是知名作家安徒生的故鄉。請問：這個國家為何？



- (A) 乙 (B) 丁
(C) 戊 (D) 庚。

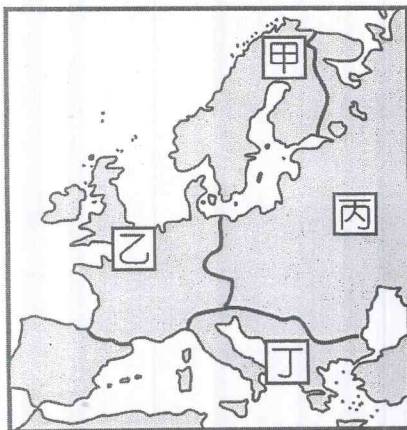
~請接下一頁~

※東歐不但是充滿人文氣息與區域特色的旅遊勝地，也是藝術家們的樂土。請問第32~36題。




32. () 歐洲面積第二大的國家，有肥沃的黑土帶，農工業發達。敖德薩市的地下坑道，據估計大概有2,500公里長，也許是世上最大的地下迷宮，請問：這個國家為何？(A)甲 (B)乙 (C)丙 (D)己。
33. () 來到亞得里亞海濱，這裡有歐洲最大的石灰岩洞穴，可以看到各式各樣奇特的鐘乳石及獨特的洞內生物，請問是圖中哪一個國家？(A)甲 (B)乙 (C)丙 (D)丁。
34. () 有建築博物館之稱的布拉格，當地著名的木偶歌劇《唐喬凡尼》，是莫札特於西元1787年首演的喜歌劇，請問：這個國家為何？(A)乙 (B)丙 (C)丁 (D)己。
35. () 華沙現在的都市建築絕大部分是自二次大戰後才重建，著名的「鋼琴詩人」蕭邦，八歲時(西元1818年)就在此地公開演奏，為了紀念他，華沙每五年舉辦一次盛大的國際鋼琴比賽，請問：這個國家為何？(A)甲 (B)乙 (C)丙 (D)丁。
36. () 多瑙河以南北向穿越首都，將市區分成兩個部分，左岸是商業繁榮的佩斯城，右岸是古老的布達城，使得布達佩斯有「東歐小巴黎」之稱，請問：這個國家為何？(A)乙 (B)丙 (C)丁 (D)己。

※下圖為歐洲分區簡圖。海賊魯夫一心想要成為海賊王，他率領魯夫海賊團一行人到世界各地探險，到達無數地方，見識許多奇人異事，看過各種珍禽異獸。最近他們來到了歐洲地區，請問37~40題：



圖(一)



圖(二)

37. () 海賊團將船停在如上圖(二)所形成的港口，請問圖中地形的相關敘述下列何者『有誤』？
 (A)此乃冰河侵蝕而成的
 (B)此地形在全歐洲的山區和海岸很常見
 (C)此地形是阿爾卑斯山區陸路交通的天然孔道
 (D)此地形經海水入侵則形成峽灣。
38. () 海賊團一行人發現圖(一)中甲區是手機發展的世界先驅，於是瘋狂掃貨、人手一機。請問下列何者是造成甲區的手機發展比世界其他地區來得早的主因？
 (A)地廣人稀、氣候嚴寒
 (B)礦產豐富、工業發達
 (C)重視高科技教育
 (D)地形平坦、交通便利。
39. () 承上題，海賊團到甲區時雖然是八月，但感覺有些冷，而且幾乎沒有天黑。請問這是什麼原因呢？
 (A)此處多冰河地形
 (B)位置靠近本初經線
 (C)位居北極圈附近
 (D)山地地勢過高接近太陽。
40. () 右圖是馴鹿人喬巴。海賊團來到喬巴久違的故鄉，因牠當年誤食了人類果實，令牠擁有人類的能力。如此不人不鹿的模樣，使牠受到追殺而逃離家鄉，因此無法幫聖誕老公公拉雪橇。請問他們當時所到之處最有可能是上圖(一)中的何處？
 (A)甲 (B)乙 (C)丙 (D)丁。



~題目結束~



充實自己，才能創造自己的價值。

Dorothy ©