

一、 選擇題

1. (D) 下列選項「 」中的用字，何者正確？ (A)白頭「階」老 (B)「偕」大歡喜 (C)小心台「塔」
(D)一片和「諧」。
2. (C) 下列文句，何者沒有錯字？ (A)這條向弄，堆滿雜亂無髒的資源回收物。 (B)他有收級明星海報的嗜好。 (C)小海為人淳厚善良，是個值得深交的朋友。 (D)一縷吹煙烏鳥升起。
3. (A) 台灣燈會口力四射，大家連口前往會場觀賞，好不熱鬧啊！ (A)魅、袂 (B)妹、媚 (C)味、魅
(D)魅、妹。
4. (D) 下列形似字，字音完全相同的選項是？ (A)敬、儆 (B)叮、叮 (C)褐、渴 (D)梢、稍。
5. (C) 下列哪一個字去掉部首後，它的讀音和原字不同？ (A)廂 (B)躬 (C)販 (D)礁。
6. (B) 下列哪一組語詞是相反詞？ (A)斟酌/考慮 (B)親切/嚴肅 (C)疑惑/困惑 (D)出發/動身。
7. (B) 請選出錯誤的量詞。 (A)一「葉」扁舟 (B)一「附」筷子 (C)一「只」皮夾 (D)一「把」牙刷。
8. (D) 「珍惜人與人相處的機緣，讓生命中的旅站□□又充實。」請選出恰當的語詞
(A)洞悉 (B)友誼 (C)多變 (D)豐富。
9. (A) 「在春暖乍寒的季節裡，拜訪陽明山，景色是美麗的□心情是愉快的，靜靜的體會這裡
的綺麗風光，捨不得離去□」，請選出適當的標點符號。
(A) · …… (B) …… ！ (C) · 、 (D) : 。
10. (D) 哪一個成語使用正確？ (A)我們頂著「毛骨悚然」的寒風，上祝山看日出。 (B)胖虎的歌聲
「滔滔不絕」地傳送到每個角落。 (C)我們在日月潭「破釜沉舟」的遊湖。 (D)他「別出心
裁」的設計圖，贏得評審的肯定。
11. (C) 請選出前後意思相反的成語。 (A)一箭雙鵰/一石二鳥 (B)半途而廢/功敗垂成 (C)逢凶化吉/
禍從天降 (D)一言九鼎/一諾千金。
12. (D) 「大雷雨就像是一場驚心動魄的交響樂」這句話是使用什麼修辭法？ (A)設問法 (B)映襯法
(C)感嘆法 (D)譬喻法。
13. (C) 「快樂的風把春天送到各地，花兒也甦醒了」這句話是使用什麼修辭法？ (A)設問法 (B)映
襯法 (C)轉化法 (D)譬喻法。

14. (B) 「床前明月光，疑是地上霜，舉頭望明月，低頭思故鄉」請問有哪幾個字押韻？ (A) 床、疑、舉、低 (B) 光、霜、鄉 (C) 光、霜、月 (D) 光、月、鄉。
15. (C) 哪一個字的部首正確？ (A) 躍/翟 (B) 舍/入 (C) 攻/攴 (D) 攏/龍。
16. (B) 下列選項中哪一個句子通順？ (A) 既然我多看一些課外讀物，就可以增廣見聞。
(B) 無論在學校或是在家裡，只要有畫筆，他就安靜了。(C) 由於父母關心他，仍舊無法使他浪子回頭。(D) 一旦明天下雨，因此不能出去玩了。
17. (A) 請問以下何者和其他三個選項意思不同？ (A) 精采 (B) 精深 (C) 精湛 (D) 精巧。
18. (C) 小新頑皮的打亂了句子順序了，請你將它重新組合成通順的句子。
(甲) 那樣 (乙) 鑽石 (丙) 世界上最美的 (丁) 不及 (戊) 愛 (己) 閃亮 (庚) 愛是。
(A) 戊丁丙乙庚甲己 (B) 丙乙甲己庚丁戊 (C) 庚丙乙丁戊甲己 (D) 乙丙庚丁甲己戊
19. (B) 清明節掃墓是為了(A)清朝的祖先 (B) 慎終追遠的孝思 (C) 環境的整潔 (D) 爬山健身。
20. (A) 團團和圓圓的感情，和樂「融融」，可以用哪一個選項替換，意思仍然沒有改變？
(A) 陶陶 (B) 和煦 (C) 溶溶 (D) 陽陽。
21. (D) □□有你的幫忙，□□一定無法完成。(A) 幸好…當然 (B) 即使…依然 (C) 只要…便能 (D) 幸虧…不然
22. (B) 「醍醐灌頂」的意思是下面哪一項？ (A) 整桶酒倒在頭上，喝個痛快 (B) 比喻將智慧注入內心 (C) 喝醉酒被處罰打頭頂 (D) 比喻被人嘲笑糊塗腦袋不清楚。
23. (C) 晚風陣陣吹來，身體「沁涼」。請選出正確的字音。(A) ト一ㄣ ㄉㄨㄛˋ
(B) ト一ㄣ ㄉㄨㄛˊ (C) <一ㄣˋ ㄉㄨㄛˊ (D) <一ㄣˋ ㄉㄨㄛˋ。
24. (B) 「山珍海味」是描述什麼性質的語詞？ (A) 風景 (B) 食物 (C) 感覺 (D) 動物。
25. (A) 「鬼鬼崇崇、鬼影幢幢」用了哪種修辭法？ (A) 類疊 (B) 設問 (C) 譬喻 (D) 轉化。

二、題組

【題組一】以下是某園區入園票價

收費項目	清潔管理費				停車費		
	個人	團體 優待票	優待票	敬老票	大客車	小客車	機車
票價	150元	120元	100元	75元	0元	50元	0元

開放時間：每日 09：00~18：00 售票時間：09：00~17：00

優待票：學生(憑証) 敬老票：65歲以上之遊客(憑證)

團體優待票：20人(含)以上團體。

免票：殘障人士(憑證)及110公分以下之兒童，免費。

各區域營業時間：

1、展示館時間：週一 12：00~18：00；週二至週日，每日 09：00~18：00；

2、圖書館閱覽時間：週一 12：00~17：00；週二至週日，每日 09：00~17：00

26. (B) 如果從小強家到園區需要一小時，請問小強一家人最晚應該在幾點出發，才能買到票入園？
(A)15:00 (B)16:00 (C)17:00 (D)18:00。
27. (C) 哪一種車輛入園要收費？(A)腳踏車 (B)機車 (C)小客車 (D)大客車。
28. (A) 小強 64 歲的爺爺參加社區的敬老活動，想入園參觀，請問爺爺一個人要交多少清潔管理費？(A)150 元 (B)120 元 (C)100 元 (D)75 元。
29. (A) 優待票的對象是誰？(A)學生 (B)110 公分的兒童 (C)殘障人士 (D)60 歲的老人。
30. (B) 下列哪一項是園區裡沒有的設備？(A)圖書館 (B)自行車步道 (C)展示館 (D)停車場。

【題組二】

金縷衣

唐 杜秋娘

勸君莫惜金縷衣，勸君惜取少年時。花開堪折直須折，莫待無花空折枝。

31. (B) 下列對此詩的敘述何者正確？(A)作者是金縷衣 (B)七言絕句 (C)五言絕句 (D)詩題是杜秋娘。
32. (C) 詩人用「金縷衣」來代表什麼？(A)少年時光 (B)老年時光 (C)榮華富貴 (D)珍貴友誼。

33. (C) 「花開堪折直須折，莫待無花空折枝」是教人要 (A)多摘花 (B)多種花 (C) 把握賞花期 (D)沒有花朵就折樹枝。
34. (A) 這首詩主要是勸人要怎樣？ (A)要珍惜年少的好時光 (B)要趁年輕穿漂亮的衣服 (C)要愛惜花木 (D)丟掉金縷衣不要覺得可惜。
35. (D) 以下哪一位是唐朝的女詩人？ (A)杜牧 (B)白居易 (C)李白 (D)杜秋娘。

【題組三】

成語填填樂

36. (A) (A) 井 (B) 湖 (C) 河 (D) 田。
37. (C) (A) 魚 (B) 蟹 (C) 蛙 (D) 蝦。
38. (B) (A) 面 (B) 首 (C) 尾 (D) 腳。
39. (A) (A) 空 (B) 海 (C) 路 (D) 草。
40. (D) (A) 雲 (B) 雷 (C) 雨 (D) 風。

			坐
37	之	底	36
			觀
39	行	馬	天
穴		38	
來		是	
40		瞻	

宜蘭中道國際中小學 2009 年 小六學科競試 英語能力檢定試卷

範圍：五、六年級教材(1000 單字)


准考證號碼：_____

國小：_____

姓名：_____


一、 字彙片語 30%(每題 3 分)

- B 1. Look at the picture. There are _____ bees.
(A) ten (B) eleven (C) twelve
- C 2. A: I don't like this color. Can you show me another one?
B: Sure. How about _____?
(A) the blackboard (B) the blocks (C) the blue one
- B 3. Tom is 143 cm, and Tina is 155 cm. Tom is short and Tina is _____.
(A) high (B) tall (C) long
- A 4. The trees are green and the air is _____. I like here!
(A) fresh (B) cheap (C) fine
- A 5. A: I can't believe Helen Keller(海倫凱勒) is _____.
B: Me, either. But she really sees nothing.
(A) blind (B) writer (C) deaf
- C 6. Mary is my _____. She's my uncle's daughter.
(A) sister (B) aunt (C) cousin
- B 7. Look! There are millions of _____ in the sky!
(A) moon (B) stars (C) seas
- C 8. A: Do you want some _____ for dinner?
B: Sorry, I don't eat meat. Can I have some vegetables?
(A) hot dog (B) rice (C) beef



Look at the picture below and answer questions 9~10.

- B 9. The woman is pointing at a _____ with a ruler.
(A) book (B) map (C) blackboard
- C 10. She is in the _____.
(A) playground (B) airport (C) classroom



二、 對話 22%(每題 2 分)

- C 1. A: _____ are you today, Peter?
B: I'm cool. Thank you, Ms. Johnson.
(A) What (B) When (C) How

- A 2. A: Don't _____ to bring an umbrella with you.
B: OK! I will, Mom.
(A) forget (B) forgot (C) forgets

- B 3. A: Can you stop _____ noise?
B: I'm sorry. I didn't mean it.
(A) make (B) making (C) made

- A 4. A: _____ animals does your little sister know here?
B: She knows only one.
(A) How many (B) How much (C) How old

- A 5. A: _____ do you play basketball with friends?
B: After school.
(A) When (B) Where (C) Which

- B 6. A: Look! There _____ beautiful fish swimming in the fishbowl.
B: Yes, I like them very much, too.
(A) have (B) are (C) is



- C 7. A: Wow! New books!
B: Yes, and they _____ me NT\$2000.
(A) spent (B) paid (C) cost

- A 8. A: When did your grandpa go to the park?
B: An hour _____.
(A) ago (B) later (C) already

- C 9. A: Dad, where is Mom?
B: She _____ your favorite snack in the kitchen.
(A) make (B) makes (C) is making

- A 10. A: Are you ready to go with us, Lisa?
B: _____, Betty. I need to bring my bag!
(A) Wait a moment (B) Of course (C) Let's go


- C 11. A: Tom, this cup doesn't belong to Emma; it's _____.
B: Sorry, John. I will ask my little sister not to use it.
(A) me (B) my (C) mine



三、 題組 48%(每題 4 分)

(一)

(Ben is answering the phone.)
 Pam: Hello?
 Ben: Hi, 1
 Pam: May I talk to Mr. Brown? It's his student, Pam.
 Ben: Mr. Brown? I'm afraid 2
 Pam: Really? Isn't it 2242-1122?
 Ben: No, it's not.
 Pam: Oh, 3.
 Ben: It's okay, bye.



- B 1. (A) Who are you? (B) Who is this? (C) Do I know you?
 C 2. (A) he's not here (B) he goes out (C) you have the wrong number
 A 3. (A) I'm sorry (B) goodbye (C) thank you


(二) Alison and her classmates will take a test at Chung Dau International School, so they surfed the Net(上網).

臺灣鐵路管理局
 Home Add favorite 繁體中文 Station visitors: 48616
 Schedule Information System Quick Query Guided Query Station Time Schedule Order Tickets
 Bulletin More
 Train(s) 2009/3/28 Saturday From < Taipei > To < Yilan > , departing between 04:00 and 10:00 are shown as the following(s)
 * All kinds of train Fare are Valuated from Taipei to Yilan
 Sorting by Departure Time Arrival Time Estimated Time U.S.H.Y.No. Print

Train No.	Code	Route	Departure	Arrival	Duration	Icons
Tze Chiang	1051	Shulin To Jhibben	06:40	08:17	1h 37m	🚗
Tze Chiang	1053	Shulin To Taitung	07:10	08:35	1h 25m	🚗
Tze Chiang	2031	Jhongli To Hualien	07:30	09:16	1h 46m	🚗 🚗
Tze Chiang	1091	Shulin To Hualien	08:00	09:12	1h 12m	🚗 🚗

- C 1. How many people checked the website before Alison and her classmates did?
 (A) Less than fifteen thousand. (B) More than sixty thousand. (C) About fifty thousand.
 B 2. How are they going to Chung Dau International School?
 (A) By bus. (B) By train. (C) By MRT.
 A 3. The test starts at 9a.m., on March 28, 2009. They want to get to Yilan as early as they can. Which is the best choice(最好的選擇) for them?
 (A) Code 1051 (B) Code 1053 (C) Code 1091

(三) Alison and her classmates also found that there are some famous activities(活動) in Yilan every year.

Yilan Green Expo.	The Asia-Pacific Traditional Arts Festival	Jiaosi Hot Spring Festival
		


- A 1. If they want to visit Yilan after the test at Chung Dau International School. Which activity can they go to?
 (A) Yilan Green Expo. (B) The Asia-Pacific Traditional Arts Festival (C) Jiaosi Hot Spring Festival
- C 2. Alison also wants to come back to Yilan with her family in December. What do they like?
 (A) Trees and flowers. (B) Traditional arts. (C) Taking hot springs.
- C 3. Ginny, Alison's grandma, loves Taiwanese Opera(歌仔戲). When is the best time for her to visit Yilan?
 (A) January. (B) April. (C) October.

[圖片來源：http://tourism.e-land.gov.tw/BN/default.asp?PageId=ER08_F_F01L&AID=2]


(四)


IF I KNEW

*If I knew it would be the last time
 that I see you walk out the door,
 I would give you a hug and kiss
 and call you back for one more.*





 hug 擁抱

*Take time to say "I'm sorry,"
 "Please forgive me," "Thank you," or "It's okay."
 And if tomorrow never comes,
 you'll have no regrets about today.*

 forgive 原諒

 regret 後悔

(節錄部分)

- A 1. What is the tone of the speaker in the first stanza?  tone 語氣  stanza 詩節
- (A) Sorry. (B) Happy. (C) Angry.
- A 2. What does the speaker ask people to do?
 (A) Do it today! (B) Hug and kiss him! (C) Love him!
- B 3. Who would you most likely to do those things to after reading this poem?
 (A) Your classmates. (B) Your family. (C) Your pets.
-  most likely 最有可能  poem 詩

宜蘭中道國際中小學 2009年 小六學科競試 數學科考卷

國小：_____ 準考證號碼：_____ 姓名：_____

壹. 單選題(每題3分)(請將答案寫在答案欄內)

2. 電動玩具車繞環狀軌道跑一圈需3分20秒,它連續跑了16分40秒,共跑了
(1) 4 (2) 5 (3) 6 (4) 7 圈.
3. 一等腰三角形的頂角80度,則其一個底角為(1) 100 (2) 80 (3) 50
(4) 20 度.
4. 圓周率等於(1) 直徑 \times 3.14 (2) 半徑 \times 3.14 (3) 圓周長 \div 3.14
(4) 圓周長 \div 直徑.
3. 一個任意四邊形的四個角,最多有幾個鈍角?(1) 1 (2) 2 (3) 3 (4) 4.
- / 5. 下列那一個四邊形不是線對稱圖形?(1) 平行四邊形 (2) 菱形 (3) 梯形
(4) 長方形.
- 6. 哥哥今年12歲是弟弟年齡的2倍,4年前哥哥和弟弟的年齡相差幾歲?
(1) 2 (2) 4 (3) 6 (4) 10 歲.
2. 從裡面長20公分、寬15公分、高18公分的長方形水槽內,取出一塊石頭後,水面下降7公分,問這塊石頭的體積是多少立方公分?(1) 1890 (2) 2100 (3) 2520 (4) 5400 立方公分.
3. 一個正六角柱體有幾個邊?(1) 6 (2) 12 (3) 18 (4) 24 個邊.
- / 9. 有兩個一樣大的餅,阿文吃了 $\frac{5}{7}$ 個,阿美吃了 $\frac{2}{3}$ 個,誰吃的比較多?
(1) 阿文 (2) 阿美 (3) 一樣多 (4) 不一定.
3. 15公秉等於(1) 150公升 (2) 1500公升 (3) 15000公升 (4) 150000公升.
2. 有一個數,用四捨五入法取概數到萬位後是40萬,這個數可能是
(1) 394860 (2) 404978 (3) 406543 (4) 410850.
2. 若15元可以買4包色紙,那90元可以買幾包色紙?(1) 20 (2) 24 (3) 28
(4) 30 包.
- / 13. 85與36的最大公因數為(1) 1 (2) 2 (3) 3 (4) 5.
4. 100元用去了一些錢,用去的錢和剩下的錢比為是3:2,問用去多少錢?
(1) 30 (2) 40 (3) 50 (4) 60.
3. 有一個梯形兩底為21公分和35公分,高是20公分,則此梯形的面積為
(1) 280 (2) 360 (3) 560 (4) 1120 平方公分.
4. 60減去某數後,再乘以7等於49,則某數為(1) 11 (2) 49 (3) 51 (4) 53.
- / 17. $\frac{180}{240}$ 化為百分率 = (1) 75% (2) 50% (3) 24% (4) 18%.
2. 正方體的邊長都變成原來的3倍時,體積會成原來的(1) 9 (2) 27 (3) 30 (4) 81 倍.

19. 圓周長 106.76 公尺的圓，半徑是(1) 17 (2) 34 (3) 51 (4) 68 公尺
- 4 20. 把長 375 公分、寬 250 公分的長方形切割成許多個一樣大的正方形時，正方形的邊長最大是多少公分？(1) 5 (2) 25 (3) 75 (4) 125 公分。

貳. 填充題(每題 4 分)(請將答案寫在答案欄內)(圓周率以 3.14 計算)

21. $72 \div (8+4) \times 7 = \underline{42}$.

22. $48 \times 29 + 52 \times 29 = \underline{2900}$.

23. $8\frac{9}{14} + 2\frac{16}{21} = \underline{6\frac{17}{42}}$.

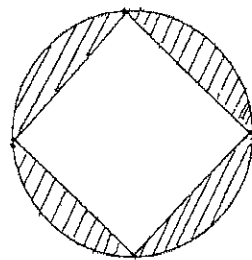
24. $(10\frac{1}{2} - 4\frac{2}{3}) + 1\frac{1}{6} = \underline{5}$.

25. $6\frac{5}{7} : 7\frac{5}{6}$ 的最簡整數比為 $\underline{6:7}$.

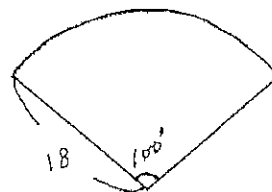
26. 白米 30 公斤，每天平均吃掉 1.42 公斤，則三星期後還剩下 $\underline{0.18}$ 公斤。

27. 桌上有 $\frac{3}{4}$ 盒冰淇淋，姐姐吃了其中的 $\frac{5}{6}$ 問姐姐吃了多少盒冰淇淋(以最簡分數作答)
 $\underline{\frac{5}{8}}$ 盒。

28. 一個半徑 10 公分的圓中間畫一個最大的正方形，正方形外的斜線面積是 $\underline{114}$ 平方公分。



29. 右圖扇形的周長為？ $\underline{67.4}$ 。



30. 求斜線面積？ $\underline{600}$ 。

