

2008

宜蘭縣 中道國際中小學 97 學年 小六學科競試 國語科 試題卷

一、選擇題：(共 24 題，每題 3 分，共計 72 分)

- B 01. 下列哪一組的讀音都相同？
(A)「便」當 / 「便」宜 (B)「喪」失 / 沮「喪」 (C)回「答」 / 「答」應
(D)勉「強」 / 倔「強」
- C 02. 破「繭」而出這句成語，「」中的注音和下面哪個字一樣？
(A)「嫌」棄 (B)看「見」 (C)「檢」查 (D)金「錢」
- A 03. 「從古到今□許多偉大的藝術家□都是從苦難中所磨練出來的□」以上的□，依序應該填入何種標點符號？
(A)·，· (B)·，· (C)·、· (D)·、·
- D 04. 請問下列選項中，讀音和其他選項不同的字是哪一個？
(A)「癡」心 (B)「吃」冰 (C)白「痴」 (D)瑕「疵」
- D 05. 事必「 $\llcorner \times \llcorner$ 」親這句成語，「」中的字正確寫法是哪一個？
(A)攻 (B)功 (C)恭 (D)躬
- A 06. 以下部首的配對，哪一個錯誤？
(A)臉 ~ 月部 (B)練 ~ 系部 (C)秦 ~ 禾部 (D)由 ~ 田部
- B 07. 以下哪一組是相反詞？
(A)猶豫 / 徘徊 (B)信任 / 狐疑 (C)依舊 / 仍然 (D)開朗 / 樂觀
- C 08. 以下的這些形容詞，那一個含有讚美的意思？
(A)心機 (B)厚顏 (C)和善 (D)奸詐
- B 09. 「聽媽媽的口氣，□□□，一定是答應了。」□□□應該填入哪一個選項比較恰當？
(A)不能說 (B)不用說 (C)不想說 (D)不可說
- D 10. 「□□別人怎麼笑他，他都是面帶著微笑。」文句中的□□應該填入哪一個選項比較恰當？
(A)任性 (B)任意 (C)任何 (D)任憑
- D 11. 以下各選項「」中，連詞的使用，哪一個完全正確？
(A)他「爲了」要長高，「也不用」跑去打籃球。
(B)你「既然」知道錯了，「也不必」反省改進。
(C)「與其」給你添麻煩，「也不要」自己做累一點算了。
(D)「要是」你早一點認錯，「也不會」吃那麼多苦頭。
- A 12. 以下哪一個句子不是假設句？
(A)只要努力就一定能成功 (B)如果不下雨，我們去看電影
(C)要是你肯用功，成績一定沒問題 (D)明天可能會更好
- D 13. 「蹣手蹣腳」這詞語是在形容什麼狀態的形容詞？
(A)表情 (B)心情 (C)感情 (D)動作
- D 14. 「只要一而再，再而三的努力，最後終於一定會得到好成績的。」句中多餘的是？
(A)一而再 (B)再而三 (C)最後 (D)終於
- B 15. 「堵在雪山隧道外的車輛，一路連綿到天邊」文句中使用了哪一種修辭法？
(A)擬人法 (B)誇飾法 (C)映襯法 (D)倒反法
- A 16. 如果你要寫一封信給爸爸，直式信封收件人的地方，應該寫成下列哪一個選項才對？
(A)林中道 先生 收 (B)林中道 爸爸 收

- (C) 林中道 父親 收 (D) 林中道 大人 收
17. (甲) 端午節 (乙) 元宵節 (丙) 清明節 (丁) 中秋節。以上的節日，依時間順序來排，正確的是哪一個？
(A) 甲乙丙丁 (B) 丁丙乙甲 (C) 乙丙甲丁 (D) 丙丁甲乙
18. 當端午節你在吃粽子的時候，你知道是在紀念哪一位詩人嗎？
(A) 李白 (B) 杜甫 (C) 屈原 (D) 蘇東坡
19. 俗稱為「火金姑」的昆蟲是什麼？
(A) 瓢蟲 (B) 螢火蟲 (C) 飛蛾 (D) 蟬
20. 以下哪一本的小說內容，是在敘述劉備、曹操、孫權三人爭霸天下的情節？
(A) 三字經 (B) 西遊記 (C) 天方夜譚 (D) 三國演義
21. 「是誰給你取這個名字 / 從未見你吹過一支曲子 / 你只是窮年累月的 / 眯起兩隻冰冷的眼睛 / 在門內門外 / 看人家進進出出 (謝輝煌)」請問這首詩的主角是什麼？
(A) 鏡子 (B) 郵筒 (C) 喇叭鎖 (D) 時鐘
22. 「獨行的灰衣客，履險如夷 / 走壁的輕功是你傳授的嗎？ / 貼游的步伐，倒掛的絕技 / 什麼是懼高症呢，你問 (余光中)」請問這首詩的主角是什麼？
(A) 蟬 (B) 貓 (C) 鳥 (D) 壁虎
23. 「冷靜的王建民，在接受全場觀眾掌聲的背後，必須忍受多少□□□□的汗水與挫折」□□□□中應該填入哪一個詞語比較恰當？
(A) 不為人知 (B) 熱淚盈眶 (C) 無能為力 (D) 無奇不有
24. 「跟這種不可理喻的人講道理，就好像是□□□□，白費唇舌了！」□□□□中應該填入哪一個詞語比較恰當？
(A) 對牛彈琴 (B) 守口如瓶 (C) 紙上談兵 (D) 一廂情願

二、閱讀測驗：(共4小題，每題2分，共計8分)

a. 有位大師總認為自己的定力深厚，所以對徒弟的要求十分嚴格。有一天，突然發生大地震，當大家都害怕地四處逃竄時，只有大師一個人靜坐不動，而且慢慢地喝著水，顯得老神在在。地震過後，他召集了所有徒弟，對他們訓斥一番：「你們太不成氣候了！你們有沒有注意？剛才地震時，所有人嚇得東奔西跑，只有師父我獨坐不動，還能若無事其，連手都不發抖地喝著水！」

一位弟子答道：「老師，您的手或許真的沒有發抖，但您拿的不是一杯水，而是一瓶墨水。」

25. 由弟子回答師父的話中，可知道下列本文的寫作方式是？
(A) 以「舉例」方式來說明道理 (B) 以「條列」方式來分析道理
(C) 以「幽默」方式來表現道理 (D) 以「倒反」的方式點出道理

b. 宜蘭縣文化局為推廣藝文活動，特別開發「電腦語音訂票系統」，請閱讀說明並回答問題

電腦語音訂票系統操作使用說明

本局為方便民眾參與各縣市文化中心之藝文活動，開發「電腦語音訂票系統」，提供訂票語音操作說明服務，各地區連接本系統之電話號碼為：0800000000，撥通後請依語音指示操作。

◎注意事項◎

1. 本系統每日開放使用時間為 6:00~21:00。
2. 開放電腦語音訂票時段為演出日期前 1~14 天。

- 3.依語音指示輸入身分證字號後，將預定之節目、演出日期、場次、演出地點（各縣市立文化中心）代碼輸入本系統，即可訂票。各項代碼請參閱「全國藝文節目總表」。
- 4.訂票成功後，請確實記下您的取票電腦代碼，即可至各縣市立文化中心取票。
- 5.各縣市立文化中心服務窗口每日開放取票時間為 7:30~22:00。取票者須憑身分證及電腦代碼辦理。
- 6.如有三次訂票不取紀錄，將停止使用訂票系統六個月的權利。

- A 26. 以上的說明是指導民眾使用何種方式預訂各縣市立文化中心的節目票?
(A)電話 (B)現場 (C)電子郵件 (D)網路
- C 27. 如果要使用本系統訂票，下列哪一個是訂票者要輸入語音系統的資料?
(A)姓名 (B)票價 (C)節目 (D)地址
- B 28. 使用本系統訂票成功後，下列敘述哪一個正確?
(A)若想取消訂票，要扣 10%的手續費用
(B)只要有身分證及電腦代碼，就可以取票
(C)只要有訂票不取的紀錄，以後就禁止使用訂票系統
(D)訂完票後，全天 24 小時隨時都可以去取票

一、字彙片語 30%(每題 3 分)

- C 1. March is the _____ month of the year.
(A) first (B) second (C) third (D) fourth
- D 2. I like the _____ very much because the seven colors in it are very beautiful.
(A) snow (B) fire (C) wind (D) rainbow
- D 3. This bicycle is too _____. I don't have enough money to buy it.
(A) small (B) cheap (C) heavy (D) expensive
- B 4. Lisa's father is a _____. He grows vegetables and sells(賣) them in the market.
(A) writer (B) farmer (C) teacher (D) businessman
- A 5. I'm hungry and thirsty. Let's go get something in that new _____.
(A) restaurant (B) library (C) bookstore (D) airport
- B 6. If you don't know a word, you can look it up in this _____.
(A) blackboard (B) dictionary (C) chalk (D) ruler
- C 7. A: What is your favorite _____? B: I love Christmas the most.
(A) week (B) season (C) holiday (D) minute
- B 8. A: What can I help you? B: Yes, I need _____ Coke. Thanks!
(A) a box of (B) a can of (C) a bag of (D) a piece of
- B 9. A: Can you use the _____? B: Yes, I usually write e-mails to my friends on the weekend.
(A) video (B) computer (C) television (D) refrigerator
- A 10. A: How many people are there in your _____? B: Five.
(A) family (B) finally (C) friendly (D) really

二、文法句型 22%(每題 2 分)

- D 1. A: Mom, I finished _____ my homework. B: Good boy!
(A) do (B) does (C) to do (D) doing
- A 2. A: _____ is everything today? B: Great! I had a good grade on my history test.
(A) How (B) What (C) When (D) Where

- D 3. A: What _____ your brothers' name? B: Michael and Sean.
(A) be (B) is (C) am (D) are

- A 4. A: _____ is your birthday? B: On February, 25.
(A) When (B) Where (C) Which (D) Whether

- B 5. A: Are you and your classmates good at basketball? B: Yes, _____ are.
(A) I (B) we (C) you (D) they

- C 6. Linda will stay at home with her little brothers _____ her parents come home.
(A) and (B) but (C) until (D) so

- A 7. A: Where is Mom? B: She _____ in the bathroom.
(A) takes a bath (B) sings (C) is cooking (D) is cleaning the floor

- A 8. A: _____ is your brother? B: He's ten.
(A) How old (B) How tall (C) How long (D) How often

- B 9. A: Are these your notebooks? B: No, _____ not.
(A) it's (B) they're (C) these are (D) those are

- C 10. A: Time to go home now, students. B: _____ Mr. Lee.
(A) What's up? (B) Hello! (C) Goodbye! (D) Good morning!

- A 11. A: Don't _____ the same mistake again, John. B: Sorry, I won't, Ms. Chen.
(A) make (B) makes (C) to make (D) making

三、完滿字句 12%(每題 3 分)

It's six p.m. Mom is making 1 in the kitchen. We are so hungry, so Dad is also 2 Mom in the kitchen. Soon, the food is 3. Look! We have 4 tonight and it is so delicious! Thanks, Mom and Dad! We love you!

- D 1. (A) meal (B) breakfast (C) lunch (D) dinner
- A 2. (A) helping (B) hearing (C) waiting (D) watching
- B 3. (A) quiet (B) ready (C) dirty (D) careful
- A 4. (A) vegetable soup (B) hot dogs (C) eggs (D) beef noodles

四、閱讀測驗 36%(每題 3 分)

PARTY

Dear Peter and Jane,

It will be our son, Sam's ten-year old birthday in a week. Please join his party and celebrate with us! You don't have to bring any food or drinks. Just come and enjoy the party in our house, near the Taipei Zoo. We'll have a band and a singer. Your kids can play the piano and sing with the band, too. We are looking forward to (期待) your coming!

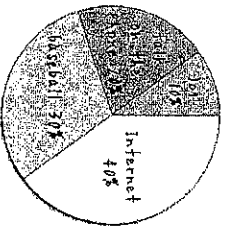
Love,
Mr. and Mrs. Smith
April 13, 2008



1. Who writes the card?
 (A) Peter does. (B) Jane does. (C) Sam does. (D) Mr. Smith does.
2. Where is the party?
 (A) In Peter's house. (B) At the park. (C) In Mrs. Smith's house. (D) At the Taipei Zoo.
3. Can Jane's kids play music?
 (A) Yes. (B) No. (C) We don't know. (D) It didn't say in the card.
4. What day will be the birthday party?
 (A) On the weekend. (B) In a week. (C) On Sunday. (D) We are not sure.

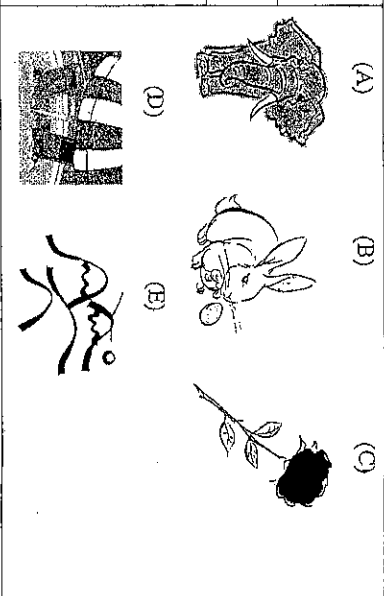
200 students did a survey (調查), and let's look at what their hobbies are!

5. According to (根據) the pie chart (圓餅圖), what do the students like the most?
 (A) Computers. (B) Exercise. (C) Talk on the phone. (D) Study.
6. How many students like to talk on the phone?
 (A) 20. (B) 40. (C) 60. (D) 80.



根據题目的敘述，選出正確的图片。

7. A boy usually likes to give me to his girlfriend to show his love for her.
 (A) I am big and strong. I have long ears and long teeth.
8. I am big and strong. I have long ears and long teeth.
 (B) People like to go there and play water in hot days.



根據文章的敘述，選出最恰當的答案。

Chung Dau Zoo	
Open	8:30 a.m. ~ 8:30 p.m. from Tuesday to Sunday
Traffic	You can drive your car, take a bus or a taxi here.
Ticket	12 years old and up-NT\$250; under 12 years old-NT\$100.

10. How many hours a day does Chung Dau Zoo open?
 (A) 6 hours. (B) 8 hours. (C) 10 hours. (D) 12 hours.
11. You CANNOT visit to Chung Dau Zoo _____.
 (A) with friends (B) by bus (C) on Monday (D) at 10 a.m.
12. Mr. and Mrs. Chang will take their two kids—one studies in the first grade at the elementary school, and the other goes to the junior high school—to Chung Dau Zoo this weekend. How much do they have to pay for the tickets?
 (A) NT\$1000. (B) NT\$850.
 (C) NT\$700. (D) NT\$350.

2008

宜蘭縣 中道國際中小學 97 學年 小六學科競試 數學科 試題卷

選擇題：每題 4 分，共 100 分

(A) 1. 將 $\frac{5}{6} : \frac{7}{18}$ 化為最簡整數比？

(A) 15 : 7 (B) 5 : 7 (C) 7 : 15 (D) 7 : 5

(D) 2. 在數線上，A 點代表 -11，B 點代表 9，則 $\overline{AB} = ?$

(A) -2 (B) 2 (C) -20 (D) 20

(A) 3. 附圖為一次平時考的題目。以下是四個學生作答的情形：全對的是誰？

是非題	
1. ()	$-2.718 = -2 + 0.718$
2. ()	$-2\frac{1}{7} = -2 + \frac{1}{7}$
3. ()	$-2\frac{9}{10} = -2.9$
4. ()	$-0.875 = -\frac{7}{8}$

叮叮：x、x、○、○

噹噹：x、○、x、○

波波：○、○、x、x

花花：x、○、○、○

(A) 叮叮 (B) 噹噹 (C) 波波 (D) 花花

(D) 4. 合歡山氣溫從清晨攝氏 -2 度到中午攝氏 8 度，這期間「溫度變化」是攝氏多少度？

(A) $(-2-8)$ 度 (B) $(-2+8)$ 度 (C) $[8+(-2)]$ 度 (D) $[8-(-2)]$ 度

(C) 5. 有關右邊的式子： $24-2\square\parallel=2$ ，在 \square 中要填入 +、-、×、÷ 中的哪一種運算符號才可使等號成立？

(A) + (B) - (C) × (D) ÷

(B) 6. 小明以 8 折優待的價錢買了一些文具，共花了 x 元，若沒有此優待，則小明原本應付多少元？

(A) $x \times \frac{8}{10}$ (B) $x \div \frac{8}{10}$ (C) $2+x$ (D) $8+x$

(B) 7. 下列何者的值與 $\frac{8}{6}$ 相等？

(A) $\frac{6}{8}$ (B) $\frac{12}{9}$ (C) $1\frac{2}{3}$ (D) $\frac{21}{15}$

(D) 8. 某工程甲獨作 15 天完工，乙獨作 20 天完工，則甲每天比乙每天多作全部工程的：

(A) $\frac{1}{30}$ (B) $\frac{1}{40}$ (C) $\frac{1}{50}$ (D) $\frac{1}{60}$

(D) 9. $\frac{1}{4}$ 與 $\frac{1}{7}$ 之間共有多少個分數？

(A) 1 (B) 2 (C) 3 (D) 無限多

(D) 10. 下列哪一個數是最簡分數？

(A) $-\frac{3}{6}$ (B) $\frac{7}{14}$ (C) $-\frac{17}{51}$ (D) $-\frac{2}{5}$

(A) 11. 一條繩子長 $6\frac{2}{5}$ 公尺，若每 $\frac{3}{5}$ 公尺剪成 1 段，則最多可剪成多少段？

(A) 10 (B) 11 (C) 12 (D) 13

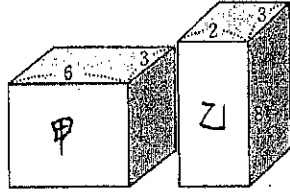
(B) 12. 小民的爸爸今年 51 歲，小民比爸爸年輕 26 歲，則 t 年後，小民的年齡為多少歲？

(A) 25 (B) $25+t$ (C) $(26+t)$ (D) 26

(B) 13. 計算 $14 \times (-\frac{8}{21}) - (-8) + (-\frac{16}{9}) = ?$

- (A) $\frac{59}{6}$ (B) $-\frac{59}{6}$ (C) $-\frac{5}{6}$ (D) $-\frac{3}{2}$

(B) 14. 如附圖為甲、乙兩個長方體，依圖中所給的邊長長度(單位：公分)，計算甲體積與乙體積的比值為何？




- (A) 1 (B) 1.5 (C) 2 (D) 2.5

(A) 15. 小雄一天睡眠時間，平均約占一天的 32%，他平均一天大約睡多少小時？

- (A) 7.68 小時 (B) 3.2 小時 (C) 6 小時 (D) 8 小時。

(C) 16. 有關速率、距離和時間的關係，下列何者正確？

- (A) 距離 \times 速率 = 時間 (B) 時間 \div 速率 = 距離 (C) 速率 \times 時間 = 距離 (D) 時間 \div 距離 = 速率。

(C) 17. 從比例尺  知，地圖上的 1 公分表示實際長度多少公里？

- (A) 21 公里 (B) 8 公里 (C) 4 公里 (D) 12 公里。

(A) 18. 坐標圖上，銀行的位置在醫院的右邊，如果銀行是在坐標 (4, 6) 的位置，下列哪一個坐標可能是醫院的位置？

- (A) (1, 6) (B) (4, 8) (C) (6, 4) (D) (10, 2)。

(C) 19. 對於任意三個數 a 、 b 、 c ，下列等式(1)~(4)，成立的有幾個？

- (1) $(a+b)+c=a+(b+c)$ (2) $(a \times b) \times c = a \times (b \times c)$
 (3) $(a-b)-c=a-(b+c)$ (4) $(a+b) \div c = a \div (b+c)$

- (A) 0 個 (B) 1 個 (C) 2 個 (D) 3 個

(C) 20. 將一組奇數筆資料按照順序從小到大排列，排在最中間的那一筆資料稱為？

- (A) 眾數 (B) 平均數 (C) 中位數 (D) 加權平均數。

(B) 21. 下列哪一個是三角柱體積的算法？

- (A) 長 \times 寬 \times 高 (B) 底面積 \times 高 (C) 直徑 $\times 3.14$ (D) 底 \times 高 $\div 2$ 。

(A) 22. 下列哪一個數不是 3 的倍數？

- (A) 273694 (B) 1005126 (C) 110110110 (D) 243423324132

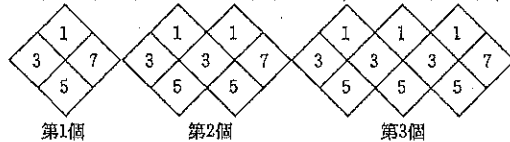
(B) 23. 下列有關質數的敘述，哪一個是正確的？

- (A) 2 是偶數，所以 2 不是質數
 (B) 97 的正因數只有 1 和 97，所以 97 是質數
 (C) 57 的十位數字及個位數字都是質數所以是 57 質數
 (D) 91 不是 2 的倍數，不是 3 的倍數，也不是 5 的倍數，所以 91 是質數

(D) 24. 下列哪一組數的最大公因數為 30？

- (A) 48, 108 (B) 36, 98 (C) 72, 144 (D) 90, 120

(B) 25. 觀察附圖規律性，若規律不變至第 10 個圖，所有可見到的數字和是？



- (A) 86 (B) 97 (C) 108 (D) 119