

中道國際中小學 2007年 小六學科競試 國文科考題

一、單一選擇題(每題2分)共50分

- D 1. 下列選項「」中的形似字，何者正確？(A)心煩氣「燥」(B)脾氣暴「燥」(C)天氣「躁」熱(D)「躁」亂不安。
- D 2. 下列文句，何者錯別字最多？(A)同學們景然有序的進入教室(B)他耽溺於漫畫書中，導至成績一落千丈(C)看到同學娛快的笑容，我也被他們感染了(D)工告欄上張貼這次月考考券的答案。
- B 3. 「天寒歲□之際，我們準備籌備很久的模型玩具店終於要開□了。」以上□中依序應填入？(A)暮、暮(B)暮、暮(C)幕、幕(D)募、暮。
- C 4. 下列形似字，字音完全相同的選項是？(A)己/已(B)戊/戌(C)倫/圖(D)辦/辦。
- D 5. 下列那一個國字去掉部首後，它的讀音和原字不相同(A)獮(B)蒂(C)換(D)隘。
- B 6. 下列那一個選項的字不能表示「人的心情」？(A)喜(B)怒(C)哀(D)樂。
- C 7. 下列那一個選項的字不能表示「時間長短」？(A)旋(B)瞬(C)很(D)久。
- A 8. 下列那一個選項的字，不適合用來形容「男生」？(A)媚(B)帥(C)英(D)俊。
- D 9. 下列那一個選項的字，不適合用來讚美「女生」？(A)嫵(B)嬌(C)美(D)魅。
- C 10. 小文有天跟媽媽去廟裡看到一副對聯：「大肚能容天下事，笑開天下古今愁。」由此對聯可看出這間廟拜的神明是？(A)媽祖(B)土地公(C)彌勒佛(D)佛祖。
- D 11. 「突如其來的西北雨，天空□□一片昏暗。」上段文句□□中，不適合填入的詞語是(A)霎時(B)剎那(C)頓時(D)不時。
- A 12. 下列「」中量詞的使用，何者正確？(A)一「頭」秀髮(B)一「團」白雲(C)一「支」戒子(D)一「幅」嘴臉。
- A 13. 下列那一組詞語是相反詞？(A)倉皇/鎮靜(B)炎熱/炙熱(C)蹉跎/虛度(D)敏捷/靈敏。
- B 14. 「一剎那、一旬、瞬間、良久、一眨眼、一會兒」以上共有幾個是形容「時間短暫」的詞語(A)三個(B)四個(C)五個(D)六個。
- B 15. 「徬徨、彷彿、猶豫、躊躇、徘徊」以上共有幾個是形容「遲疑不定」的詞語(A)三個(B)四個(C)五個(D)六個。
- D 16. 下列那種書籍不是我們所稱的「工具書」(A)字典(B)辭海(C)百科全書(D)食譜。
- D 17. 「圖書館中擺滿各種書籍□文學□哲學□科學□，可說是應有盡有。」句中□正確的標點符號是(A)，，，！(B)：，，！(C)、、、！(D)：、、……
- A 18. 「月落烏啼霜滿天」中的「月」和「烏」兩字是屬「六書」文字結構中的(A)象形(B)指事(C)會意(D)形聲。
- C 19. 我們現在所使用的國語「注音符號」，總數有幾個？(A)35(B)36(C)37(D)38。
- D 20. 我們常講的「文房四寶」，不包含下列何者？(A)筆(B)墨(C)硯(D)紙鎮。

- C 21. 「他身材雖小，卻是臺灣體壇上永遠的巨人！」這段話是使用修辭法中的 (A)設問法 (B)映襯法 (C)感嘆法 (D)譬喻法。
- C 22. 那一個不是我們所謂的「成語」 (A)一鳴驚人 (B)雙管齊下 (C)三隻小豬 (D)四面楚歌。
- D 23. 由「水落石出」這個成語，可猜出當時的季節應該是 (A)春 (B)夏 (C)秋 (D)冬季。
- A 24. 由「爆竹聲中除舊歲」這個詞語，應該可猜出描寫的節慶應該是 (A)春節 (B)元宵節 (C)中秋節 (D)清明節。
- B 25. 由「鼓聲三下紅旗開，兩龍躍出浮水來」這個詩詞，應該可猜出描寫的節慶應該是 (A)重陽節 (B)端午節 (C)中秋節 (D)清明節。

二、題組 (每題 2 分) 共 30 分

【題組一】以下三首詩分別描寫不同香味的植物，請你依據參考選項：(A)梅花 (B)玫瑰花 (C)牡丹花 (D)蓮花 (E)百合花，選出 26~28 題中所描述的各是什麼植物。

- D 26. 「本無塵土氣，自在水雲鄉，楚楚淨如拭，亭亭生妙香」。
- C 27. 「落盡殘紅始吐香，佳名喚作百花王，競誇天下無雙豔，獨佔人間第一香」。
- A 28. 「冰為仙骨水為肌，意淡香幽只自知，青女素娥非耐寒，一生耐冷是寒枝」。

【題組二】請按照句中畫線的部分，選出 29~32 題中意思最恰當的成語。

- D 29. 那個人所說的話常常不是出自內心的本意，你不要太相信他！(A)不苟言笑 (B)片面之詞 (C)大言不慚 (D)言不由衷。
- A 30. 這兩種實驗所採的方法雖然不同，所得的結果卻一樣！(A)殊途同歸 (B)不約而同 (C)大同小異 (D)志同道合。
- B 31. 他自視甚高，常常瞧不起人！(A)目不視丁 (B)目中無人 (C)目無法紀 (D)目光如豆。
- D 32. 讀書或學習的時候，不可完全相信書中所寫，或拘泥舊例而不知變通！(A)畫蛇添足 (B)耳濡目染 (C)削足適履 (D)人云亦云。

【題組三】請依提示選出適當的答案，填入所屬的「部首」裡

「昇、替、脈、載、脲、望、朦、思、戎、肩、有、慚、昏、書、忻、臚、旭、胡、轍、蝦、蜂、明、戴、朔、戍」

- C 33. 屬於「肉」部的國字有幾個？(A)2 (B)3 (C)4 (D)5個
- D 34. 屬於「月」部的國字有幾個？(A)2 (B)3 (C)4 (D)5個
- A 35. 屬於「虫」部的國字有幾個？(A)2 (B)3 (C)4 (D)5個
- C 36. 屬於「日」部的國字有幾個？(A)2 (B)3 (C)4 (D)5個
- A 37. 屬於「日」部的國字有幾個？(A)2 (B)3 (C)4 (D)5個
- A 38. 屬於「戈」部的國字有幾個？(A)2 (B)3 (C)4 (D)5個
- A 39. 屬於「車」部的國字有幾個？(A)2 (B)3 (C)4 (D)5個
- B 40. 屬於「心」部的國字有幾個？(A)2 (B)3 (C)4 (D)5個

中道國際中小學 2007 年小六學科競試英文科考題


姓名 _____ 准考證號碼 _____

請注意：做答完畢，須交回試卷！

一、看圖填空(20%)：共 10 格，請各考題目右邊的圖示，將正確英文單字填入空格中，拼字完全正確無誤才給分。**此大題請用原子筆作答！**

例題：They are _____ ing.

答案：They are s i n g i n g.



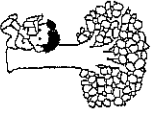
1. The girl is holding the number f o u r.



2. The girl takes an u m b r e l l because of the rain.



3. The little boy is r e a d i n g a book under the tree.



4. The insect on the left-hand side is playing the r i o l i n.



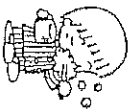
5. The boy and the dog are good f r i e n d s.



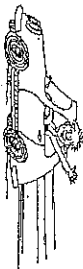
6. The boy likes to play b a s e b a l l.



7. Before going to bed, we need to brush our t e e t h.



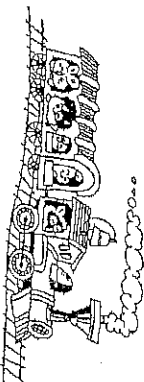
8. Jimmy likes to drive f a s t.



9. The ant is eating this piece of c a k e happily.



10. These animals go traveling by t r a i n.



請注意：此大題開始為畫卡題(須用 2B 鉛筆)，共 35 題，請小心作答！

二、改錯 (20%)：共 10 題。請在句子畫底線的部分中，找出一個錯誤的地方，標錯該地方的代號註記於答案卡。

例題：I does not have a ruler.
A B C D

正確的句子應該是 I do not have a ruler. 所以答案是 (B)

1. (D) Her birthday is on January 13th.
A B C D

2. (A) Do he want to go camping?
A B C D

3. (C) Mary saw a house on her room.
A B C D

4. (A) My brother like to play basketball.
A B C D

5. (B) John and Tina is afraid of spiders.
A B C D

6. (D) Do you go to school by a bike?
A B C D

7. (C) There are many flower in the park.
A B C D

8. (A) Can Tim goes out with us this afternoon?
A B C D

9. (B) Jane's sisters wants to be a singer.
A B C D

10. (C) Jack drinks a cup of coffee in the morning every day.
A B C D

三、問答 (20%)：共 10 題，請根據對話內容，選出最適當的回答。

例題：A: How are you?
B: _____

(A) I am 11 years old. (B) My name is Tina.
(C) I am fine. (D) She is fine.
答案是 (C)

11. (A) A: _____?
B: I am 12 years old.

(A) How old are you? (B) How is the weather?
(C) What is your name? (D) What is it?

12. (D) A: Is your father an English teacher?
B: _____

(A) He is an English teacher. (B) No, she is not.
(C) Yes, she is. (D) Yes, he is.

13. (C) A: How much is the pen?
B: _____

(A) It's 9 o'clock. (B) It is yellow.
(C) It's 10 dollars. (D) It is very expensive.

14. (B) A: Where are they going?
B: _____

(A) They are playing football.
(B) They are going to a movie theater.
(C) They are good friends.
(D) They are helping Mother clean the house.

15. (A) A: _____?
B: We eat dinner at 6.

(A) What time do you eat dinner?
(B) Where do you eat dinner?
(C) How do you eat dinner?
(D) How much is your dinner?

16. (C) A: Is your mother cleaning the room now?
B: _____

(A) Yes, she is a cleaner. (B) Yes, she does.
(C) No, my father is. (D) Yes, she is.

17. (B) A: How is Jina going to the U.S.A.?
B: _____

(A) No, she is not going to the U.S.A.
(B) She is going to the U.S.A. by plane.
(C) She is going to the U.S.A. next Saturday.

(D) Yes, she is going to the U.S.A.

18. (D) A: Does Miss Wu know your parents?

- B: _____
 (A) Yes, he does. (B) No, he does not
 (C) Yes, they do. (D) No, she does not

19. (A) A: Can you help me with my homework?

- B: _____
 (A) Sure. Anytime.
 (B) I have a lot of homework.
 (C) Thank you very much.
 (D) Sorry, you can't.

20. (C) A: What's the matter with you?

- B: _____
 (A) I have candies with me.
 (B) I am the master.
 (C) I have a headache.
 (D) It doesn't matter.

四、重组(20%)：共10题。请根据提示将重排后的句子，排列成一個有意義的句子，找出正确的顺序，将答案卡上填入正确的选项。

例题：pencil desk is Your the under .
 A B C D E F
 (A) DBCFEA (B) DACFEFB (C) DAFEEBC (D) DACFEFB

正确的句子應該是 Your book is under the desk.
 正确的顺序是 DACFEFB，所以答案是 (D)

21. (A) is Red favorite color your.
 A B C D E
 (A) BAECFD (B) ECDAB (C) ABCECD (D) BAEDC

22. (C) today windy is It.
 A B C D
 (A) BCAD (B) ADCB (C) DCBA (D) DCAB

23. (C) close door the Please.

- A B C D
 (A) DCAB (B) CBDA (C) DACB (D) ABCD

24. (A) She very likes chocolate much.

- A B C D E
 (A) ACDBE (B) ABBCD (C) ACBED (D) ACBDE

25. (B) go on hiking Saturday We.

- A B C D E
 (A) DEACB (B) EACBD (C) BDEAC (D) EDBAC

26. (D) give you a cup of Could tea me?

- A B C D E F
 (A) DCEABF (B) DBEAF C (C) DEABCE (D) DEAFCE

27. (C) yellow you the Do like skirt?

- A B C D E F
 (A) DCAFEB (B) DBEACF (C) DBECFA (D) DBEAF C

28. (D) are people many There classroom the in.

- A B C D E F G
 (A) DABCGFE (B) DAFCEGE (C) FBACGED (D) DACBGFE

29. (B) department the behind The bank is.

- A B C D E F
 (A) BEFCDA (B) DEFCBA (C) DEFBCA (D) CDEAFB

30. (A) her in dancing is My sister room.

- A B C D E F G
 (A) EFD CBAG (B) FDCBAEG (C) DEFCBAG (D) DEFCBGA

五、閱讀測驗 (20%)

BUTTERFLIES



The butterfly is an insect. Butterflies are noted for their wings, which are often colorful and bright.

Butterfly wings are a bit like bird wings. Bird wings are made of feathers, but butterfly wings are made of tiny overlapping scales (重疊的鱗片). The wings are colored in various patterns. Some butterfly wings look iridescent (changing rainbow colors, depending on the light) because of the way light hits the scales.

Butterflies have an interesting life cycle. They start as eggs. When they are born, they are what we call caterpillars (毛蟲). This is the *larval stage* for the caterpillar. The caterpillars then move into a cocoon, becoming what we call a chrysalis (蝶蛹). This is the *pupal stage*. When the insect comes out of the cocoon, we call it a butterfly. This is the *adult stage* for the butterfly. These clear stages of changing on the way to adulthood are called *metamorphosis*. Many animals go through metamorphosis, but the butterfly's changes are more dramatic (引人注目的) than most.

Butterflies can be found almost all over the world. There may be as many as twenty thousand different species (種類) of butterflies. Butterflies usually eat flower nectar (花蜜). Because of this, they are important to the life cycle of many flowers. Butterflies also need minerals (礦物質), which they usually get from water found in dirt and sand.

They reach their adult stage in the summer. Some butterflies migrate. The Monarch butterflies (黑脈金斑蝶) migrate about 3000 miles (4800 km) every year. They fly between Mexico and California.

31. (B) What kind of animal is a butterfly?

- (A) A bird
- (B) An insect
- (C) A spider
- (D) A mammal

32. (C) Which of the following about butterfly wings is TRUE?

- (A) They are just like bird wings.
- (B) They are the colors of the rainbow.
- (C) They are made of scales.
- (D) All the wings are covered in the same pattern.

33. (A) The butterfly life cycle is:

- (A) Egg, caterpillar, chrysalis, butterfly
- (B) Egg, insect, pupal, adult
- (C) Larval, pupal, crystal, adult
- (D) None of the above.

34. (D) Metamorphosis is...

- (A) the process of growing up.
- (B) turning from one thing into another.
- (C) a major change.
- (D) the combination of all of the above.

35. (D) Where can you find butterflies?

- (A) The butterfly habitat is anywhere it is warm.
- (B) You can find them in forests and tundra regions.
- (C) Butterflies are restricted to the Americas.
- (D) Butterflies can be found almost all over the world.

單選題：每題4分

3. 1. 角錐的側面是什麼行形狀?(1)正方形 (2)長方形 (3)三角形 (4)不一定。
 / 2. 一鈍角三角形最多有幾個鈍角?(1) 1 (2) 2 (3) 3 (4) 不一定。
4. 3. 圓周率等於 (1) 直徑 \times 2 (2) 半徑 \times 半徑 $\times\pi$ (3)圓周長 $\div\pi$ (4) 圓周長 \div 直徑。
 > 4. 下列那一個四邊形不是線對稱圖形?(1)菱形 (2)平行四邊形 (3)正方形 (4)長方形。
- 3 5. $5\frac{5}{9}\times 2.7=(1)\frac{25}{9}$ (2) $\frac{25}{3}$ (3) 15 (4) 20。
 / 6. $6\frac{7}{10}-(8\frac{1}{4}-5\frac{13}{25})=(1)3\frac{97}{100}$ (2) $3\frac{27}{100}$ (3) $4\frac{27}{50}$ (4) $2\frac{3}{100}$ 。
- 3 7. $\frac{39}{4}+\frac{27}{26}\times\frac{39}{18}=(1)\frac{53}{4}$ (2) 13 (3) 12 (4) $\frac{128}{13}$ 。
 / 8. 大哥今年14歲，是小弟年齡的2倍，問3年前大哥和小弟的年齡相差幾歲?(1) 7 (2) 6 (3) 5 (4) 3歲。
- > 9. 姐姐有320元，買水彩花了全部的 $\frac{3}{8}$ ，買毛筆花了全部的 $\frac{2}{5}$ ，問姐姐共花了多少元?(1) 228 (2) 248 (3) 240 (4) 260元。
 / 10. 3.75m:2.5m的最簡整數比=(1) 3:2 (2) 2:3 (3) 15:10 (4)375:25。
- 3 11. 甲數是 $2\frac{5}{8}$ ，乙數是 $4\frac{2}{3}$ ，問甲數是乙數的幾倍?(1) 2 (2) $\frac{1}{2}$
 (3) $\frac{63}{112}$ (4) $\frac{112}{63}$ 。
- > 12. 已知一坪的面積大約3.31平方公尺，音樂教室約45坪，問音樂教室大約多少平方公尺?(1) 148 (2) 149 (3) 3150 (4) 151平方公尺。
- 3 13. 最小的質數是(1) 0 (2) 1 (3) 2 (4) 3。
 > 14. 240與360的最小公倍數為(1) 120 (2) 720 (3) 1440 (4) 86400。
- 3 15. 若甲數是 x ，如果乙數比甲數的7倍少3，則乙數可寫成(1) $7x$
 (2) $7x+3$ (3) $7x-3$ (4) $3x+7$ 。
- > 16. 甲數的12倍和乙數的8倍一樣多，若乙數是120，問甲乙兩數的和=
 (1)240 (2) 200 (3) 360 (4) 960。
- > 17. 手錶一天慢 $1\frac{3}{5}$ 分，則4小時慢多少秒?(1) 24 (2) 16 (3) 12 (4) 8
 秒。
- > 18. 一梯形的上底4公分，下底5公分，若此梯形面積為27平方公分，則高為幾公分?(1) 3 (2) 6 (3) 9 (4) 12公分。

4 19. 小光以時速 12 公里的速率，從學校走到公園，再走回學校，共花了 4 分 30 秒，問學校到公園的距離多少公尺？(1) 900 (2) 800 (3) 600 (4) 450 公尺。

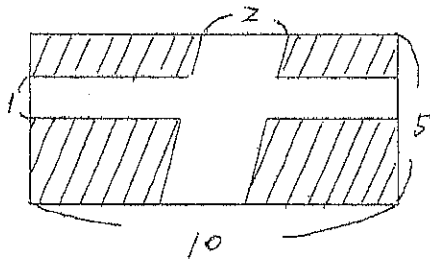
4 20. 把一袋重 15 公斤的米分成兩包，大包的米比小包的米重 3 公斤，問大包的米是小包的多少倍？(1) 3 (2) 2.5 (3) 2 (4) 1.5 倍。

3 21. 有四人乘坐火車，但此時車廂中只剩下 3 個位子可坐，請問在 1 時 20 分鐘的車程中，每人輪流平均坐了多久時間？(1) $\frac{2}{3}$ 小時 (2) $\frac{1}{3}$ 小時 (3) 1 小時 (4) $\frac{4}{3}$ 小時

3 22. 有甲乙丙三正數，甲數是乙數的 $\frac{11}{6}$ 倍，丙數是乙數的 $\frac{5}{9}$ 倍，問甲乙丙三數，那一個最小？(1) 甲 (2) 乙 (3) 丙 (4) 不一定。

/ 23. 有一個木板作成長方體無蓋容器，外面長 30cm 寬 12cm 高 20cm，木板厚度 1.5cm，裡面原有水深 10cm，如果把一塊邊長 9cm 的正方體鐵塊放入容器內，問水深變成幾公分？(1) 13 (2) 14 (3) 15 (4) 16 cm。

2 24. 求斜線面積為 (1) 42 (2) 32 (3) 30 (4) 40 單位平方。



2 25. 求斜線面積為 (1) 60.3 (2) 61.23 (3) 122.46 (4) 120.6 單位平方。
(設圓周率=3.14)。

