

宜蘭縣私立中道中學 95 學年度 小六學科競試 國文科考題

一、單一選擇題（每題 2 分）共 32 分

1. 下列選項中的字，何者去掉部首後，讀音仍然不變？(A)浦 (B)据 (C)綻 (D)屢。
2. 小文使用注音符號索引查字典時，可以在同一讀音下查到哪一組字？(A)主；注；拄 (B)肖；俏；稍 (C)卑；脾；婢 (D)奚；溪；蹊。
3. 「□生；晶□剔透；□火蟲」以上□中依序應填入？(A)紫、螢、營 (B)螢、營、紫 (C)營、螢、紫 (D)紫、螢、營。
4. 「你千萬不要失望，挫折打擊都只是暫時的，總有一天會□□□□。」空格中不可填入哪一個詞語？(A)苦盡甘來 (B)樂極生悲 (C)否極泰來 (D)時來運轉。
5. 請選出用字正確的選項 (A)一陳不變 (B)一蹋糊塗 (C)一股作氣 (D)一馬當先。
6. 請選出用字正確的選項 (A)依老賣老 (B)按步就班 (C)名列前茅 (D)無可耐何。
7. 以下四個成語都含有「惡」字，何者的意思與其他三者不同？(A)沾染「惡」習(B)鄉里做「惡」(C)萬「惡」之首(D)好逸「惡」勞。
8. 下列選項中的成語，何組的意思相同？(A)自不量力；螳臂擋車 (B)九牛一毛；毫髮無傷 (C)如虎添翼；困獸之鬥 (D)短視近利；高瞻遠矚。
9. 小文有天跟媽媽去廟裡看到一副對聯：「作事奸邪盡汝燒香無益，居心正直見我不拜何妨。」由此對聯可看出小文是去哪一間廟？(A)媽祖廟 (B)土地公廟 (C)城隍廟 (D)佛祖廟。
10. 下列各組同音字，寫成國字後，字形相同的是 (A)個性「冂一弓」／「冂一弓」懷先烈 (B)經濟「冂一廿」／「冂一廿」梗花開 (C)「一」／「一」期盼／個性「一」實 (D)別出「冂一」／「冂一」火相傳。
11. 請選出與「寧為雞首」對比的成語 (A)勿為牛後 (B)死於安樂 (C)十年河西 (D)流水無情。
12. 「山高月小」列舉了正反兩個觀念或事實，下列句子中，哪一個沒有用相同的手法？(A)美麗的錯誤 (B)痛苦會過去，美會留下 (C)生於憂患，死於安樂 (D)詩中有畫，畫中有詩。
13. 愛迪生說：「我個人的意見認為頭腦比書籍重要」，這是強調什麼的重要？(A)天賦 (B)思考 (C)閱讀 (D)表達。
14. 「月暈」的「暈」字用來形容月亮的 (A)形狀 (B)顏色 (C)亮度 (D)構造。
15. 「右手畫圓，左手畫方，不能兩成」，這句話提醒我們做事應該要 (A)專心一意 (B)兩全齊美 (C)外圓內方 (D)左右逢源。
16. 「感謝您們 / 對於我 / 小小的存在 / 還報予 / 生命最熱烈的 / 掌聲」(李瘦蝶)，請問詩中的主角應該是？(A)蟬 (B)蚊子 (C)烏鴉 (D)貓頭鷹。

二、題組（每題 2 分）共 28 分

【題組一】以下三首詩分別描寫不同香味的植物，請你依據參考選項：(A)梅花 (B)玫瑰花 (C)牡丹花 (D)蓮花 (E)百合花，選出17~19題中所描述的各是什麼植物。

17. 「本無塵土氣，自在水雲鄉，楚楚淨如拭，亭亭生妙香」。
18. 「落盡殘紅始吐香，佳名喚作百花王，競誇天下無雙豔，獨佔人間第一香」。
19. 「冰為仙骨水為肌，意淡香幽只自知，青女素娥非耐寒，一生耐冷是寒枝」。

【題組二】中國許多成語、典故背後都有一個精彩的故事，也常有一個令人印象深刻的主角，

請你看完以下的成語及典故後，依據選項，選出20~22題的正確答案。

20. 「鐵杵磨成繡花針」：是哪一個人在市場看見老婆婆磨鐵杵的事情後，才努力用功向學的故事？(A)杜甫 (B)王維 (C)李白 (D)白居易。
21. 「一飯千金」：年輕時流落街頭要飯吃，後來卻官拜大將的是 (A)呂布 (B)韓信 (C)張良 (D)董卓。
22. 「桃園三結義」是《三國演義》中著名的篇章，下列哪一位不是「結義」的主角？(A)劉邦 (B)關羽 (C)張飛 (D)劉備。

【題組三】歇後語測驗，請依據參考選項：(A)自費自誇 (B)說來話長 (C)一毛不拔 (D)

有去無回 (E)走投無路，選出23~26題正確的答案。

23. 「老王賣瓜」應該是？
24. 「肉包子打狗」呢？
25. 「鐵公雞」當然是？
26. 「熱鍋上的螞蟻」想必熱得……？

【題組四】下圖是一張橫式信封，請回答下列問題。

27. 母親節到了，小文打算要寄信給家裏的媽媽，請問小文須把自己的住址寫在哪一個位置，信件才能順利寄達？(A)甲 (B)丙 (C)丁 (D)戊。
28. 小政在壯圍唸高中，他想寫信回家向父親林大治請安，請問信封中欄【戊】的寫法，何者才是正確的？(A)林小政先生親啟 (B)林大治父親敬啟 (C)林大治先生安啟 (D)林小政爸爸收。
29. 承上題，右圖【丙】的位子所填的資料，是要給誰看的？(A)寄信人 (B)收信人 (C)郵差 (D)郵局。
30. 郵寄前，別忘了要貼上郵票，請問郵票要貼在哪一個位置？(A)甲 (B)丁 (C)戊 (D)己。

263	甲	乙
	林小文	
丙	567	丁
		戊

三、語言表達能力（每題5分）共20分

（一）標點符號：當標點符號改變，或標記的位置不同時，文句之意思也會跟著改變，請

你改變下列文句的標點符號或位置，讓它產生出與原句不同的意義來。

例如：不好吃免錢！

→不好吃，免錢！

1. 無魚肉也可，無雞鴨也可，粗茶淡飯不可少，薪水也不要！

→

2. 七十生兒，非我子也，家中產業全部給予，女婿外人不得干涉！

→

（二）文句潤飾：請將下列之文句，修改成「比較通順的句子」

3. 他是我的朋友，遇到困難時會幫我，消沉時會把我弄到振作起來。

→

4. 現在學生所寫的作文不被許多老師看懂，不被看懂的原因不是作文內容出了問題，而是寫作表達能力出了問題。

→

四、作文 20分 題目：

宜蘭縣私立中道中學 95 學年度 小六學科競試 國文科答案卷

就讀學校\_\_\_\_\_國小 姓名\_\_\_\_\_ 第\_\_試場 准考證號碼\_\_\_\_\_

一、 單一選擇題 (每題 2 分) 共 32 分

二、 題組 (每題 2 分) 共 28 分

1. D	2. D	3. C	4. B	5. D
6. C	7. D	8. A	9. C	10. C
11. A	12. D	13. B	14. C	15. A
16. C	17. E	18. B	19. D	20. A
21. B	22. A	23. A	24. D	25. C
26. E	27. A	28. C	29. C	30. C

三、 語言表達能力 (每題 5 分) 共 20 分

1. 無魚，肉也可，無雞，鴨也可，粗茶淡飯不可，少薪水也不要！
2. 七十生，兒非我子也，家中產業全部給予女婿，外人不得干涉！
3. 他是我的好朋友，當我遇到困難時他會幫我，當我消沉時，他會鼓勵我振作起來。
4. 現在學生所寫的作文，許多老師看不懂，看不懂的原因，不在作文內容，而是寫作表達的能力出了問題。

四、 作文 20 分 題目：

---

---

---

---

---

---

---

---

---

---

宜蘭縣私立中道中學 95 學年度 小六學科競試 英文科考題

I. 文意字彙：每題 3 分 共 15 分

1. Today I did so much work! I am really \_\_\_\_\_ now.  
(A) tired (B) friendly (C) exciting (D) difficult
2. Jessica's father is my mother's brother, so Jessica is my \_\_\_\_\_.  
(A) mother (B) sister (C) cousin (D) daughter
3. John's cell phone is really nice. He can listen to music and send \_\_\_\_\_ with it.  
(A) bags (B) newspaper (C) e-mails (D) friends
4. It's raining now, but I hope it will be a \_\_\_\_\_ day tomorrow.  
(A) smart (B) wrong (C) sad (D) nice
5. Many lovers buy or make chocolate for each other on Valentine's Day. It is in \_\_\_\_\_.  
(A) January (B) February (C) December (D) July

II. 選出最適當的答案：每題 3 分 共 24 分

6. I'm a teacher. My brother is a teacher, too. \_\_\_\_\_ are teachers.  
(A) We (B) They (C) You (D) I and he
7. \_\_\_\_\_ your friend, John, have a dog at home?  
(A) Is (B) Are (C) Does (D) Do
8. There are two strong men \_\_\_\_\_ in the coffee shop.  
(A) sit (B) sat (C) sitting (D) to sit
9. Remember to call \_\_\_\_\_ when you are home.  
(A) I (B) my (C) our (D) me
10. A: What do you do? B: I'm a \_\_\_\_\_.  
(A) father (B) cousin (C) teacher (D) grandfather
11. A: Is Kevin a taxi driver, Lucy? B: Yes, \_\_\_\_\_.  
(A) he is (B) he does (C) he can (D) he has
12. Ann: \_\_\_\_\_ is the boy sitting on your chair? John: Oh, it's Bill, my friend.  
(A) How (B) Who (C) What (D) Why
13. Sandy: \_\_\_\_\_ is your daughter this year? Helen: She's five years old.  
(A) How old (B) How long (C) How tall (D) How often

III. 對話：每題2分 共22分

14. Jasmine: How would you like your milk, Mega? Mega: \_\_\_\_\_.  
(A) Yes, a little cold. (B) You're right. (C) Cold, please. (D) It's so delicious.
15. A: Can you go out today? B: \_\_\_\_\_. I have no time today.  
(A) Yes, I can. What time? (B) No, not this week.  
(C) Are you OK? (D) No, I can't.
16. Helen: Tom didn't come to class this morning.  
Jean: \_\_\_\_\_. All his family have colds these days.  
(A) I can't believe you (B) He wants to be a doctor  
(C) It's all right (D) He is sick
17. A: Agnes, who's that? B: \_\_\_\_\_. She lives with the Lin family.  
(A) I don't know her name (B) He's my classmate  
(C) That's Mike (D) They are sisters
18. A: \_\_\_\_\_? B: We have the math test once a week.  
(A) How long is your math test (B) What time do you have the math test  
(C) Do you have the math test every day (D) How often do you have the math test
19. A: Isn't that your bicycle? B: \_\_\_\_\_.  
(A) No, it is. Thanks! (B) Yes, it is your bicycle  
(C) No, I don't (D) Yes, it is mine
20. A: \_\_\_\_\_. B: Have a nice trip!  
(A) I don't have a nice trip (B) I am going to Disneyland next week  
(C) I have many exams tomorrow (D) Taking a trip is good for health
21. A: How much is it? B: \_\_\_\_\_.  
(A) It's much. (B) Two hundred dollars.  
(C) Here's your change. (D) Not very much.
22. Teacher: Why are you so late? \_\_\_\_\_ Student: Usually about 7:30.  
(A) What time do you get up? (B) What's today?  
(C) What time is it? (D) Where are you?
23. Sherry: Thank you for your help. Tom: \_\_\_\_\_.  
(A) Where! Where! (B) You're welcome. (C) No, thanks. (D) You, too.
24. A: Sandy went to the zoo this Friday. B: Really? \_\_\_\_\_.  
(A) I am, too (B) I go, too (C) I do, too (D) So did I.

IV. 克漏字：每題3分 共21分

Hi, my name is Coco. I am ten years old. I'm now an 25 student. I usually get up at 6:30. I usually go to school on a bike. Sometimes I go to school 26 because my mom rides my bike to the supermarket. We have only one bicycle. Mom can drive the car only when Dad doesn't go to work. Mom usually shops at that supermarket on weekends, but she 27 goes on Wednesday. Then she will ask me to lend (借) her the bike.

25. (A) kindergarten (B) elementary school (C) junior high school (D) senior high school  
26. (A) by a bus (B) by the MRT (C) by plane (D) by bus  
27. (A) sometimes (B) always (C) often (D) usually

(At McDonald's)

Mary: I would like to have some seafood today.

Jane: A 28 burger may be a good choice for you.

Mary: OK. I will have it. 29?

Jane: Well, I am not hungry now. I think I will just have a 30 of hot coffee.

Mary: Sorry, Jane. I don't have any money with me. Can you lend some money to me? I'll pay you back tomorrow.

Jane: Sure. 31.

28. (A) beef (B) pork (C) lamb (D) fish  
29. (A) What do you eat (B) Are you hungry (C) How about you (D) How much  
30. (A) glass (B) cup (C) cap (D) piece  
31. (A) There you is (B) I don't have money, either (C) Here you are (D) See you tomorrow

V. 閱讀：每題3分 共18分

Adam: We are going to have an English test next Monday. When can we get together to study?

John: Let me see...How about the day after tomorrow?

Adam: That's Friday, right? I can't make it during the day. I have class until 5:00. Will Friday night be okay?

John: I'm sorry, but I have to go to my piano lesson then. What about Saturday afternoon at 2:00? Can you make it then?

Adam: That's a good time for me. See you then.

32. When will they study together?  
(A) Friday afternoon. (B) Friday night. (C) Saturday afternoon. (D) Saturday night.

33. What test do Adam and John have?

- (A) Chinese                      (B) English                      (C) math                      (D) science

34. When will John have piano lesson?

- (A) Friday afternoon.              (B) Friday night.              (C) Saturday afternoon.              (D) Saturday night.

Mr. Lin found two notes on his desk after the meeting (會議).

To: Mr. Lin

From: Your wife

Time: 3 p.m. Feb. 21

Message:

Buy some bread and milk on your way home.

Call back: No.

To: Mr. Lin

From: Happy Restaurant

Time: 11 a.m. Feb. 21

Message:

Don't forget your reservation (預約) at 7 p.m. tomorrow evening.

Call back: Yes.

35. According to (根據) the notes, where will Mr. Lin go after work today?

- (A) Good Bakery.              (B) Happy Restaurant.              (C) McDonald's.              (D) The hospital.

36. On what date will Mr. Lin have dinner at Happy Restaurant?

- (A) Feb. 21                      (B) Feb. 22                      (C) tomorrow                      (D) tonight

37. Does Mr. Lin have to call his wife back?

- (A) Yes, he does.              (B) Yes, he has.              (C) No, he doesn't.              (D) No, call Susan.




宜蘭縣私立中道中學 95 學年度 小六學科競試 數學科考題

選擇題：1~20 題 每題 3 分；21~30 題 每題 4 分


1. ( )  $897 \div 20 = ?$  (A)  $44 \cdots 7$  (B)  $44 \cdots 17$  (C)  $45 \cdots 7$  (D)  $45 \cdots 17$
2. ( ) 一桶水的容量是 5 公升，已經倒入 3 公升 560 毫公升的水，則還要再倒進多少水才能裝滿？  
(A) 440 毫公升 (B) 540 毫公升 (C) 1 公升 440 毫公升 (D) 1 公升 540 毫公升
3. ( ) 大雄拿了 3 個網球重 195 公克，5 個棒球重 75.0 公克，那麼一個網球和一個棒球的重量相差多少？  
(A) 660 公克 (B) 600 公克 (C) 50 公克 (D) 80 公克
4. ( ) 西雅圖咖啡店，每天要用掉 35 包的奶油球，已知一包有 25 顆，那一星期要用掉多少顆？  
(A) 6000 顆 (B) 5500 顆 (C) 5250 顆 (D) 6125 顆
5. ( ) 有一群工人鋪一條長 168 公里的柏油路，每天可以鋪 13 公里，工作 5 天之後，工頭發現進度落後，改成每天鋪 16 公里，請問這條馬路總共要幾天才能鋪完？  
(A) 10 天 (B) 11 天 (C) 12 天 (D) 13 天
6. ( ) 

2	7	3	□
---	---	---	---

 左圖空格中要填入哪個數，才可成為 3 的倍數？ (A) 0 (B) 1 (C) 2 (D) 5
7. ( ) 如圖一，請問如果排列到圖六要幾根鉛筆？ (A) 9 根 (B) 11 根 (C) 13 根 (D) 15 根



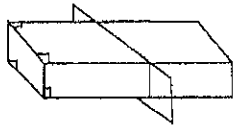
8. ( ) 中道中學七年級校外教學，共有 480 人參加，已知一輛遊覽車限乘 45 人，請問至少需要幾台遊覽車才夠？  
(A) 10 輛 (B) 11 輛 (C) 9 輛 (D) 8 輛
9. ( )  $4.64 + 3.36$  何下列哪一個算式相同？ (A)  $3 + 5$  (B)  $3.46 + 4.63$  (C)  $4.3 + 3.6$  (D)  $4.04 + 3.06$
10. ( ) 如圖二，用 9 個花片排成的空心正三角形，每個各有 4 個花片，若要排成每邊各有 10 個花片的空心正三角形，一共需要幾個花片？ (A) 25 個 (B) 26 個 (C) 27 個 (D) 30 個



11. ( ) 時鐘的分針從 5 開始，順時針轉了 180 度，會轉到哪個數字？  
(A) 10 (B) 11 (C) 12 (D) 9
12. ( ) 姚明身高 2.26 米，喬丹 198 公分，請問兩人身高之比為何？  
(A) 226 : 19800 (B) 2.26 : 198 (C) 226 : 198 (D) 226 : 1.98
13. ( ) 519 至少要加多少，才能被 66 整除？ (A) 9 (B) 7 (C) 1 (D) 57

14. ( ) 鳴人用手機撥打了一通 2 分 30 秒的電話，若每秒計費為 0.16 元，請問這通電話打了多少元？  
 〈A〉 24 元 〈B〉 25 元 〈C〉 26 元 〈D〉 19.2 元

15. ( ) 如圖三中之長方體正切後，得到的剖面是什麼形狀？ 〈A〉 三角形 〈B〉 梯形 〈C〉 圓形 〈D〉 長方形

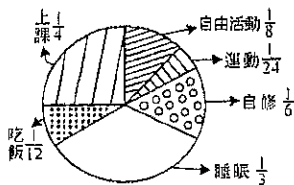


(圖三)

16. ( ) 已知一坪的面積大約 3.31 平方公尺。美術教室面積約 45 坪，請問美術教室大約有多少平方公尺？  
 〈A〉  $148 \text{ m}^2$  〈B〉  $149 \text{ m}^2$  〈C〉  $3150 \text{ m}^2$  〈D〉  $151 \text{ m}^2$

17. ( ) 杰倫最新專輯中的單曲，曲子長 3 分 46 秒，姊姊解連續聽了 6 遍，請問姊姊總共聽了多久時間？  
 〈A〉 1356 秒 〈B〉 18 分 270 秒 〈C〉 1376 秒 〈D〉 18 分 46 秒

18. ( ) 如圖四，小光將他每天作息時間分配如下，則  
 〈A〉 睡眠為 12 小時 〈B〉 自修為 6 小時 〈C〉 運動+自由活動為 4 小時 〈D〉 吃飯為 1 小時



(圖四)

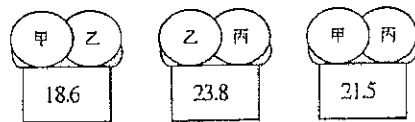
19. ( ) 一縮圖，圖上長 1cm 等於實際長 3m，請問它是多少比例的縮圖 〈A〉  $\frac{1}{400}$  〈B〉  $\frac{1}{300}$  〈C〉  $\frac{1}{200}$  〈D〉  $\frac{1}{100}$

20. ( ) 0.075 公升等於下面的數，那個是錯的 〈A〉 75 cc 〈B〉 75 立方公分 〈C〉 75 公撮 〈D〉 75 公勺

21. ( ) 在一條筆直的馬路兩側，每隔  $3\frac{1}{4}$  公尺立一路燈，頭尾處都要立，共立了 24 處，請問這條馬路有多長？

〈A〉 34 公尺 〈B〉  $35\frac{1}{4}$  公尺 〈C〉  $34\frac{3}{4}$  公尺 〈D〉  $35\frac{3}{4}$  公尺

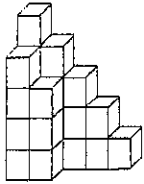
22. ( ) 如圖五所示，將甲、乙、丙三件物品放在液晶顯示的電子磅秤上測試重量，請問甲、乙、丙三件物品中哪一件最重？ 〈A〉 甲 〈B〉 乙 〈C〉 丙 〈D〉 以上皆非



(圖五)

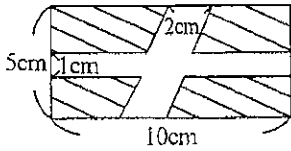
23. ( ) 一銳角三角形中，有幾個銳角？ 〈A〉 1 個 〈B〉 2 個 〈C〉 3 個 〈D〉 不一定

24. ( ) 如圖六，圖中的每個型體都是用 1 立方公分的積木所堆成的，數數看其體積為多少立方公分？  
 〈A〉 15 立方公分 〈B〉 17 立方公分 〈C〉 21 立方公分 〈D〉 22 立方公分



(圖六)

25. ( ) 假設每顆糖果重量皆相同，現天平的左邊放有 13 顆糖果及 5 個 8 公克的砝碼，右邊放有 8 顆糖果及 5 個 10 公克的砝碼，天平是平衡的，則 20 顆糖果共有多少公克？ (A) 2 (B) 20 (C) 40 (D) 60
26. ( ) 有 4 人乘坐火車，但此時車廂中只剩下 3 個位子可坐，請問在 1 時 20 分鐘的車程中，每人輪流平均坐了多久時間？ (A)  $\frac{2}{3}$  小時 (B)  $\frac{1}{3}$  小時 (C) 1 小時 (D)  $\frac{4}{3}$  小時
27. ( ) 計程車起跳 75 元行 1.5Km，以後每 300M 加 5 元，不滿 300M 也以 5 元計價，明雄從家到車站有 3.4Km，搭計程車要多少元 (A) 100 元 (B) 105 元 (C) 110 元 (D) 115 元
28. ( ) 如圖七，請問斜線部分面積為何？ (A)  $40\text{cm}^2$  (B)  $30\text{cm}^2$  (C)  $32\text{cm}^2$  (D)  $42\text{cm}^2$



(圖七)

29. ( ) 一無蓋水缸，厚 2cm、外圍長 24cm、寬 20cm、高 12cm，注入 1.92 公升的水後請問佔全缸（滿水位）的幾分之幾？ (A)  $\frac{2}{3}$  (B)  $\frac{3}{4}$  (C)  $\frac{3}{7}$  (D)  $\frac{3}{5}$
30. ( ) 下圖灰色區域面積是多少平方公尺（圓周率 3） (A) 37 (B) 23 (C) 27 (D) 35

